

3. உற்பத்தி வினைத்திறன் என்பதால் கருதப்படுவது,
 (1) மிகக்குறைந்த செலவையுடைய உற்பத்தி தொழில்நுட்பத்தைப் பயன்படுத்துதலாகும்.
 (2) சமூகத்திற்கு அதிகம் தேவைப்படும் உற்பத்திச் சேர்க்கையை உற்பத்தி செய்தலாகும்.
 (3) கிடைக்கப்பெறும் வளங்கள் யாவற்றையும் பூரண வேலைவாய்ப்பில் ஈடுபடுத்துதலாகும்.
 (4) உற்பத்தி இயல்தகவு வளையியின் உள்ளே ஏதாவது ஒரு புள்ளியில் உற்பத்தி செய்தலாகும்.
 (5) உழைப்புக்குப் பதிலாக மூலதனத்தைப் பதிலீடு செய்யும் தொழில்நுட்ப முன்னேற்றமாகும். (.....)
4. உற்பத்தி வளங்கள் அருமைத்தன்மையைக் கொண்டுள்ளமையால் ஒரு பொருளின் அதிக அளவினை உற்பத்தி செய்துகொள்ள இன்னொரு பொருள் உற்பத்தியின் குறிப்பிட்ட அளவினை விட்டுக்கொடுக்க நேரிடும். இந்தப் பண்பை உள்ளடக்கிய எண்ணக்கரு
 (1) சிறக்குடியல்பு (2) உள்ளார்ந்த செலவு (3) ஒப்பீட்டு நன்மை
 (4) முழு நன்மை (5) அமையச் செலவு (.....)
5. உற்பத்தி இயல்தகவு எல்லை வளையியைப் பயன்படுத்தி பின்வருவனவற்றுள் எதன் மூலம் பொருளாதார வளர்ச்சியைக் காட்டமுடியும்?
 (1) வளையியின் ஒரு வலப்புற நகர்வு
 (2) ஏற்கனவே உள்ள வளையியின் மீது மேல் நோக்கிய ஓர் அசைவு
 (3) ஏற்கனவே உள்ள வளையியின் மீது கீழ் நோக்கிய ஓர் அசைவு
 (4) வளையியின் வெளிப்புறமுள்ள ஒரு புள்ளியிலிருந்து வளையியின் மீது உள்ள ஒரு புள்ளியை நோக்கிய அசைவு
 (5) வளையியின் மீதுள்ள ஒரு புள்ளியிலிருந்து வளையிக்கு உட்புறமுள்ள ஒரு புள்ளியை நோக்கிய அசைவு (.....)
6. பொருளாதாரத்தில் எதனை உற்பத்தி செய்வது என்பதனை நுகர்வோர் தமது கேள்வியின் மூலம் தீர்மானிப்பர் என்ற கருத்து
 (1) அரசு கட்டற்ற பொருளாதாரம் எனப்படும்.
 (2) சந்தைப் பொருளாதாரம் எனப்படும்.
 (3) நுகர்வோன் இறைமை எனப்படும்.
 (4) சுதந்திர முயற்சியாண்மை எனப்படும்.
 (5) கலப்புப் பொருளாதாரம் எனப்படும். (.....)
7. சாதாரண ஒரு பொருளின் விலை வீழ்ச்சியின் பதிலீட்டு விளைவு தொடர்பில் பின்வருவனவற்றுள் உண்மையானது எது?
 (1) அது வருமான விளைவை ஈடுசெய்யும் விதத்தில் செயற்படும்.
 (2) அது வருமான விளைவை மேலும் உறுதிப்படுத்தும் விதத்தில் செயற்படும்.
 (3) அது வருமான விளைவை விடக் குறைந்த பெறுமானத்தைப் பெறும்.
 (4) அது அப்பொருளின் கேள்வித் தொகையில் வீழ்ச்சியினை ஏற்படுத்துவதற்குக் காரணமாகும்.
 (5) அது அப்பொருளின் கேள்வியில் அதிகரிப்பை ஏற்படுத்துவதற்குக் காரணமாகும். (.....)
8. பின்வருவனவற்றுள் எது ஒரு பொருளின் நிரம்பல் வளையியை வலப்புறம் நோக்கி நகர்த்துவதற்குக் காரணமாகும்?
 (1) உற்பத்திச் செலவில் ஏற்படும் ஓர் அதிகரிப்பு
 (2) உற்பத்திச் செலவில் ஏற்படும் ஒரு வீழ்ச்சி
 (3) விலையில் ஏற்படும் ஓர் அதிகரிப்பு
 (4) விலையில் ஏற்படும் ஒரு வீழ்ச்சி
 (5) கேள்வியில் ஏற்படும் ஒரு வீழ்ச்சி (.....)
9. பின்வருவனவற்றுள் எதன் மூலம் இரு பொருள்கள் ஒன்றுக்கொன்று பதிலீடானவை என்பது எடுத்துக்காட்டப்படும்?
 (1) நேர்க்கணிய வருமானக் கேள்வி நெகிழ்ச்சி
 (2) பூச்சியத்தை விடக் குறைந்த குறுக்குக் கேள்வி நெகிழ்ச்சி
 (3) ஒன்றுக்குக் குறைவான விலைக் கேள்வி நெகிழ்ச்சி
 (4) நேர்க்கணிய குறுக்குக் கேள்வி நெகிழ்ச்சி
 (5) கிடையச்சுக்குச் சமாந்தரமான கேள்வி வளையி (.....)

10. வளிச் சீராக்கிகளின் உற்பத்தி மீது அரசாங்கம் வரி விதிக்குமாயின், வளிச் சீராக்கிகளுக்கான சந்தையில் பின்வருவனவற்றில் யாது நிகழும்?

- (1) நிரம்பல் வளையியின் வழியே வலப்புறம் நோக்கிய ஓர் அசைவு ஏற்படும்.
- (2) கேள்வி வளையியின் வழியே வலப்புறம் நோக்கிய ஓர் அசைவு ஏற்படும்.
- (3) நிரம்பல் வளையி வலப்புறம் நோக்கி நகரும்.
- (4) நிரம்பல் வளையி இடப்புறம் நோக்கி நகரும்.
- (5) கேள்வி வளையி வலப்புறம் நோக்கி நகரும்.

(.....)

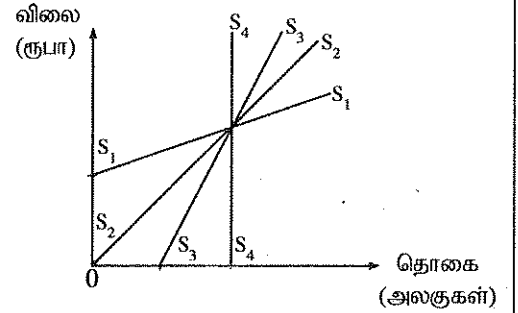
11. ஒரு நிறுவனம் அதன் விலையை 20% அதிகரித்ததன் விளைவாக அதன் மொத்த வருவாய் 10% ஆல் அதிகரித்ததாயின், இவ்விலை வீச்சினுள் நிறுவனம் எதிர்நோக்கும் கேள்வியானது,

- (1) நெகிழ்வற்றதாய் இருத்தல் வேண்டும்.
- (2) நெகிழ்வுள்ளதாய் இருத்தல் வேண்டும்.
- (3) அலகு நெகிழ்ச்சியுள்ளதாய் இருத்தல் வேண்டும்.
- (4) பூரண நெகிழ்வுள்ளதாய் இருத்தல் வேண்டும்.
- (5) பூரண நெகிழ்வற்றதாய் இருத்தல் வேண்டும்.

(.....)

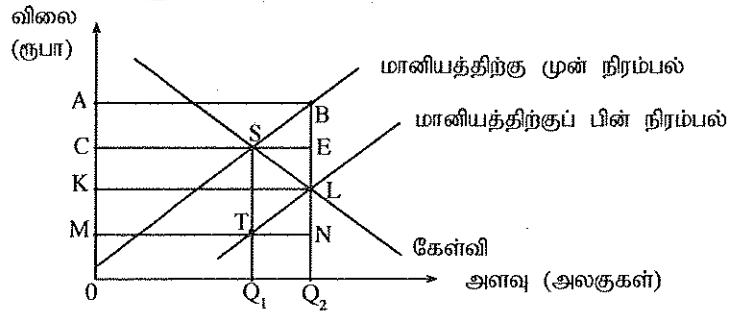
12. பின்வரும் வரைபடம் சந்தை நிரம்பல் வளையிகள் நான்கினைக் காட்டுகிறது. அந்நிரம்பல் வளையிகளின் விலை நெகிழ்ச்சி பற்றிய பின்வரும் கூற்றுகளில் எது சரியானது?

- (1) $S_1 S_1$ வளையி விலை அதிகரிக்கும்போது குறைவடையும் நெகிழ்ச்சியைக் கொண்டிருக்கும்.
- (2) $S_2 S_2$ வளையி விலை அதிகரிக்கும்போது அதிகரிக்கும் நெகிழ்ச்சியைக் கொண்டிருக்கும்.
- (3) $S_3 S_3$ வளையி விலை அதிகரிக்கும்போது குறைவடையும் நெகிழ்ச்சியைக் கொண்டிருக்கும்.
- (4) $S_4 S_4$ வளையி நிலையான முடிவிலி நெகிழ்ச்சியைக் கொண்டிருக்கும்.
- (5) $S_5 S_5$ வளையி ஒன்றைவிடக் கூடிய நெகிழ்ச்சியைக் கொண்டிருக்கும்.



(.....)

13. பின்வரும் வரைபடம் அத்தியாவசிய நுகர்வுப்பொருளொன்றின் மீது மானியம் வழங்கப்பட முன்னரும் மானியம் வழங்கப்பட்ட பின்னருமான சந்தை நிலைமைகளைக் காட்டுகிறது.



மானியத்திற்காக செலவிடப்பட்ட மொத்தப் பணத்தொகை யாது?

- (1) OKLQ₂ (2) OCSQ₁ (3) OABQ₂ (4) ABEC (5) KABL

(.....)

14. X பொருள் போட்டிச் சந்தையொன்றில் விற்கப்படுவதாகக் கருதுக. X பொருள் உற்பத்தியின்மீது அலகு வரி விதிக்கப்பட்டால் பின்வருவனவற்றுள் சரியானது எது?

- (1) கேள்வி வளையி பூரண நெகிழ்வுள்ளதாயின், விலையானது வரியின் அளவினால் அதிகரிக்காது.
- (2) கேள்வி வளையி பூரண நெகிழ்வற்றதாயின், விலையானது வரியின் அளவினால் அதிகரிக்காது.
- (3) கேள்வி வளையியானது அதிக நெகிழ்வுள்ளதாகும்போது, நுகர்வோரின் வரிச்சுமை அதிகரிக்கும்.
- (4) கேள்வி வளையியானது குறைந்த நெகிழ்வுள்ளதாகும்போது, நுகர்வோரின் வரிச்சுமை அதிகரிக்கும்.
- (5) வரியின் விளைவாக நுகர்வோன் மிகை அதிகரிக்கும்.

(.....)

[பக். 4 ஐப் பார்க்க

15. குறைந்து செல்லும் எல்லை விளைவு தொழிற்படும்போது ஓர் உள்ளீட்டின்
 (1) எல்லை உற்பத்தி அதிகரிக்கும். (2) எல்லை உற்பத்தி பூச்சியமாகும்.
 (3) எல்லை உற்பத்தி வீழ்ச்சியடையும். (4) மொத்த உற்பத்தி பூச்சியமாகும்.
 (5) மொத்த உற்பத்தி எதிர்க்கணியமாகும். (.....)
16. பின்வருவனவற்றுள் எது சிறிய ஒரு உணவகத்தின் உரிமையாளருக்கு உள்ளார்ந்த செலவாக அமையும்?
 (1) உதவி முகாமையாளருக்கு வழங்கும் சம்பளம்
 (2) மொத்த விற்பனையாளரிடமிருந்து கொள்வனவு செய்யும் இறைச்சிக்கான செலவு
 (3) நீர் வழங்கல் சபையினால் விநியோகிக்கப்படும் நீருக்கான செலவு
 (4) வேறு ஒரு தொழிலில் உரிமையாளரின் திறன்களைப் பயன்படுத்தினால் அதற்கு உரித்தாகும் பெறுமதி
 (5) உள்ளூர் நிர்வாக அதிகாரசபைகளுக்குச் செலுத்திய சொத்து வரிக்கான செலவு (.....)
17. பின்வருவனவற்றுள் எது குறுங்காலத்தில் செயற்படும் ஒரு நிறைபோட்டி நிறுவனம் தொடர்பில் சரியானதாகும்?
 (1) நிறுவனம் எப்போதும் சாதாரண இலாபத்தை உழைக்கும்.
 (2) விலை சராசரி மொத்தச் செலவை விடக் குறைந்தால் நிறுவனம் உற்பத்தியை முடிவுறுத்தும்.
 (3) நிறுவனம் எப்போதும் நேர்க்கணிய பொருளியல் இலாபத்தை உழைக்கும்.
 (4) விலை எல்லை வருவாய்க்குச் சமப்படும் இடத்தில் உற்பத்தியை மேற்கொள்வதன் மூலம் நிறுவனம் இலாபத்தை உச்சப்படுத்தும்.
 (5) நிறுவனம் நேர்க்கணிய இலாபத்தை அல்லது எதிர்க்கணிய இலாபத்தை அல்லது சாதாரண இலாபத்தை உழைக்க முடியும். (.....)
18. பின்வருவனவற்றுள் எது நிறைபோட்டிச் சந்தைக் கட்டமைப்பின் ஒரு பண்பாகும்?
 (1) நிறுவனங்கள் ஓரினத்தன்மை வாய்ந்த பொருள்களை உற்பத்தி செய்தல்
 (2) பிரவேசத்திற்குத் தடைகள் காணப்படல்
 (3) நிறுவனங்கள் விலையை உருவாக்கி, இலாபத்தை உச்சப்படுத்துதல்
 (4) குறுங்காலத்தில் எப்போதும் சாதாரண இலாபத்தை உழைத்தல்
 (5) மீளமுடியா இழப்புகளை நீக்கும் பொருட்டு அரசாங்கம் விலைகளை நிர்வகித்தல் (.....)
19. ஒரு நிறுவனம் நிறைபோட்டிச் சந்தையில் இயங்குவதாகக் கருதுக. அந்நிறுவனம் தனது வெளியீட்டை 5% ஆல் அதிகரித்தால் நிறுவனத்தின் மொத்த வருவாயில் அதன் விளைவு யாது?
 (1) மொத்த வருவாய் மாறாதிருக்கும்.
 (2) மொத்த வருவாய் 5% ஆல் அதிகரிக்கும்.
 (3) மொத்த வருவாய் 5% ஐ விடக் குறைவானளவு அதிகரிக்கும்.
 (4) மொத்த வருவாய் 5% ஐ விடக் கூடுதலான அளவு அதிகரிக்கும்.
 (5) மொத்த வருவாய் பூச்சியமாக மாறும். (.....)
20. அரசாங்கத் துறையும் சர்வதேச வர்த்தகமும் அற்ற ஒரு பொருளாதாரத்தின் வருமானச் சுற்றோட்ட மாதிரியில் வீட்டுத்துறையானது,
 (1) முடிவுப் பொருள்களைக் கொள்வனவு செய்வோரிடமிருந்து வருமானத்தைப் பெறும்.
 (2) பொருள் சந்தையில் வளங்களின் விற்பனையின் மூலம் வருமானத்தைப் பெறும்.
 (3) வணிக நிறுவனங்களின் வளங்களைப் பயன்படுத்துவதற்காக அந்நிறுவனங்களுக்குக் கொடுப்பனவு செய்யும்.
 (4) தமது உற்பத்திக் காரணிகளைப் பயன்படுத்தியமைக்காக உற்பத்தியாளரிடமிருந்து வருமானத்தைப் பெறும்.
 (5) சேமிப்புகளைப் பயன்படுத்தியமைக்காக உற்பத்தியாளர்களுக்கு வருமானங்களைக் கொடுப்பனவு செய்யும். (.....)

21. பின்வரும் அட்டவணையில் கருதுகோள்ரீதியான ஒரு பொருளாதாரத்தின் செலவீட்டு அணுகுமுறையிலான மொத்த உள்நாட்டு உற்பத்தியின் உள்ளடக்கங்கள் பற்றிய பெயரளவிலான பெறுமானங்கள் காட்டப்பட்டுள்ளன. (அனைத்து தரவுகளும் பில்லியன் ரூபாவிலாகும்.)

ஆண்டு	C	I	G	X	M
2017	600	200	100	250	150
2018	650	300	150	300	250

இப்பொருளாதாரத்தின் மொத்த உள்நாட்டு உற்பத்திச் சுருக்கியானது 2017 இல் 100 இலிருந்து 2018 இல் 110 ஆக அதிகரித்ததாகக் கொள்க. 2018 இல் மெய் மொத்த உள்நாட்டு உற்பத்தியின் வளர்ச்சி வீதம் யாது?

- (1) 5 % (2) 10 % (3) 12 % (4) 15 % (5) 16 % (.....)

22. மொத்த உள்நாட்டு உற்பத்திக் கணிப்பீட்டில் இடைநிலைப் பொருள்களின் பெறுமதி உள்ளடக்கப் படாமையான காரணம்,

- (1) அவை நடப்பு வருடத்தில் நுகரப்படுகின்றமையாகும்.
 (2) பொருளாதாரத்தில் உற்பத்தி செய்யப்படும் எல்லா இடைநிலைப் பொருள்கள் தொடர்பிலும் தகவல்களைத் திரட்டுதல் மிகக் கடினமான பணி என்பதனாலாகும்.
 (3) அவை பொருள் சந்தைகளில் மாத்திரம் விற்கப்படுகின்றமையாகும்.
 (4) சமூகத்தின் நலனை குறைவடையச் செய்யும் பொருள்கள் உள்ளடக்கப்படுவதைத் தடுத்தலாகும்.
 (5) அவற்றின் பெறுமதிகள் இருதடவைகள் கூட்டப்படுவதையும் மொத்த உள்நாட்டு உற்பத்திப் பெறுமதி மிகைமதிப்புடையதாவதையும் தடுத்தலாகும். (.....)

23. அரசாங்கம் தனது செலவீட்டை ரூபா 600 பில்லியனால் அதிகரித்து, அச்செலவுகளை ஈடுசெய்வதற்காக வரிவிதிப்பை ரூபா 600 பில்லியனால் அதிகரித்தால், பின்வருவனவற்றுள் எந்தச் சேர்க்கை வரவுசெலவுத்திட்டத்தின் மீதும் மொத்த உள்நாட்டு உற்பத்தியின் மீதும் அது ஏற்படுத்தும் விளைவுகளைச் சரியாகக் காட்டும்?

	வரவுசெலவுத்திட்டம்	மொத்த உள்நாட்டு உற்பத்தி
(1)	மாறாதிருக்கும்	குறையும்
(2)	மிகைநிலை	குறையும்
(3)	மாறாதிருக்கும்	மாறாதிருக்கும்
(4)	மிகைநிலை	அதிகரிக்கும்
(5)	மாறாதிருக்கும்	அதிகரிக்கும்

(.....)

24. பின்வரும் அட்டவணையில் முன்வைக்கப்பட்டுள்ள தரவுகள், ஒரு பொருளாதாரத்தின் செலவிடத்தக்க மொத்த தேசிய வருமானத்திற்கும் மொத்த நுகர்வுச் செலவீட்டிற்கும் இடையிலான தொடர்பை விபரிக்கின்றன.

செலவிடத்தக்க மொத்த தேசிய வருமானம் (பில்லியன் ரூபா)	மொத்த நுகர்வுச் செலவீடு (பில்லியன் ரூபா)
800	700
860	745
920	790
980	835

இப் பொருளாதாரத்தின் எல்லை நுகர்வு நாட்டத்தின் பெறுமதி தொடர்பில் பெறக்கூடிய முடிவு யாது?

- (1) செலவிடத்தக்க மொத்த தேசிய வருமானம் அதிகரிக்கும்போது அதுவும் அதிகரிக்கும்.
 (2) செலவிடத்தக்க மொத்த தேசிய வருமானம் அதிகரிக்கும்போது அது வீழ்ச்சியடையும்.
 (3) எல்லை நுகர்வு நாட்டத்தின் பெறுமதி 0.87 ஆகும்.
 (4) எல்லை நுகர்வு நாட்டத்தின் பெறுமதி 0.45 ஆகும்.
 (5) எல்லை நுகர்வு நாட்டத்தின் பெறுமதி 0.75 ஆகும். (.....)

25. ஒரு பொருளாதாரம் தற்போது ரூபா 5 000 பில்லியன் சமநிலை வெளியீட்டு மட்டத்தில் இயங்குவதாகவும் அதன் எல்லை நுகர்வு நாட்டம் 0.8 எனவும் கொள்க. இப்பொருளாதாரத்தின் நிறைதொழில் வெளியீட்டு மட்டச் சமநிலை ரூபா 7 000 பில்லியன் ஆயின், பின்வரும் கொள்கைத் தீர்வுகளில் எது நிறைதொழில்மட்டம் எய்தப்படுவதை உறுதி செய்யும்?
- (1) வரிகளை ரூபா 2 000 பில்லியனால் குறைத்தல்
 - (2) அரசாங்கச் செலவீடுகளை ரூபா 2 000 பில்லியனால் அதிகரித்தல்
 - (3) அரசாங்கச் செலவீடுகளை ரூபா 500 பில்லியனால் அதிகரித்தல்
 - (4) வரிகளை ரூபா 500 பில்லியனால் குறைத்தல்
 - (5) வரிகளை ரூபா 400 பில்லியனால் குறைத்தல் (.....)

26. அரசதுறையற்ற ஒரு மூடப்பட்ட பொருளாதாரத்தில், மொத்த சேமிப்புச் சார்பு $S = -100 + 0.2Y$ ஆகவும், சமநிலைத் தேசிய வருமான மட்டம் ரூபா 2 000 பில்லியனாகவும் உள்ளதாகக் கருதுக. இப் பொருளாதாரத்தின் முதலீட்டு மட்டம் யாது?
- (1) ரூபா 1 00 பில்லியனாகும்.
 - (2) ரூபா 2 00 பில்லியனாகும்.
 - (3) ரூபா 3 00 பில்லியனாகும்.
 - (4) ரூபா 4 00 பில்லியனாகும்.
 - (5) ரூபா 5 00 பில்லியனாகும். (.....)

27. பின்வரும் அட்டவணை கருதுகோள்ரீதியான ஒரு பொருளாதாரத்தின் பேரினப் பொருளாதாரத் தரவுகள் சிலவற்றைக் காட்டுகிறது. (எல்லா பெறுமானங்களும் பில்லியன் ரூபாவிலாகும்.)

அரசாங்கக் கொள்வனவுகள் (G)	இறக்குமதிகள் (M)	வரிகள் (T)	முதலீடு (I)	ஏற்றுமதிகள் (X)	சேமிப்புகள் (S)
30	70	40	50	80	60

பின்வருவனவற்றுள் இப்பொருளாதாரம் பற்றிய சரியான கூற்று எது?

- (1) ஏற்றுமதிகள் இறக்குமதிகளை விட உயர்வாக இருப்பதால் பொருளாதாரம் விரிவடையும்.
 - (2) சேமிப்புகள் வரிகளை விட உயர்வாக இருப்பதால் பொருளாதாரம் சுருங்கும்.
 - (3) உட்பாய்ச்சல்கள் வெளிப்பாய்ச்சல்களை விட உயர்வாக இருப்பதால் பொருளாதாரம் விரிவடையும்.
 - (4) வெளிப்பாய்ச்சல்கள் உட்பாய்ச்சல்களை விட உயர்வாக இருப்பதால் பொருளாதாரம் சுருங்கும்.
 - (5) உட்பாய்ச்சல்கள் வெளிப்பாய்ச்சல்களுக்குச் சமமாவதால் பொருளாதாரம் சமநிலையில் இருக்கும். (.....)
28. செலவுத் தூண்டல் பணவீக்கம் ஆரம்பமாவது,
- (1) பணக் கூலி வீதங்களில் ஏற்படும் ஓர் அதிகரிப்புடனாகும்.
 - (2) அரசாங்கக் கொள்வனவுகளில் ஏற்படும் ஓர் அதிகரிப்புடனாகும்.
 - (3) பணத்தின் தொகையில் ஏற்படும் ஓர் அதிகரிப்புடனாகும்.
 - (4) பண வருமானத்தில் ஏற்படும் ஓர் அதிகரிப்புடனாகும்.
 - (5) வரிவீதங்களில் ஏற்படும் ஒரு வீழ்ச்சியுடனாகும். (.....)

29. கருதுகோள்ரீதியான ஒரு பொருளாதாரத்தில் பெயரளவு மொத்த உள்நாட்டு உற்பத்தி ரூபா 8 டிரில்லியனாகவும், பண நிரம்பல் ரூபா 2 டிரில்லியனாகவும் இருப்பின் பணத்தின் சுற்றோட்ட வேகம்
- (1) 0.25 ஆகும்.
 - (2) 2 ஆகும்.
 - (3) 4 ஆகும்.
 - (4) 6 ஆகும்.
 - (5) 8 ஆகும். (.....)

30. பணப் பெருக்கி என்பது,
- (1) வங்கி வைப்புகளை வங்கி ஒதுக்குகளால் பிரித்துவரும் விகிதமாகும்.
 - (2) வங்கி வைப்புகளை உயர்வலுப் பணத்தினால் பிரித்துவரும் விகிதமாகும்.
 - (3) வங்கி வைப்புகளை மிகை ஒதுக்குகளால் பிரித்துவரும் விகிதமாகும்.
 - (4) பணநிரம்பலை உயர்வலுப் பணத்தினால் பிரித்துவரும் விகிதமாகும்.
 - (5) புழக்கப் பணத்தை வங்கி ஒதுக்குகளால் பிரித்துவரும் விகிதமாகும். (.....)

31. மத்திய வங்கியின் பணநிரம்பலை அதிகரிக்க முடிவது,
 (1) தம்மிடமுள்ள தங்க ஒதுக்குகளை வணிக வங்கிகளுக்கு விற்பதன் மூலமாகும்.
 (2) தம்மிடமுள்ள வெளிநாட்டு நாணயக் கையிருப்புகளை விற்பதன் மூலமாகும்.
 (3) திறந்த சந்தையில் அரசாங்க முறிகளைக் கொள்வனவு செய்வதன் மூலமாகும்.
 (4) வெளிநாட்டு மத்திய வங்கிகளிடமிருந்து தங்கத்தைக் கொள்வனவு செய்வதன் மூலமாகும்.
 (5) வெளிநாட்டு அரசாங்கங்களிடமிருந்து ஒதுக்குகளைக் கடனாகப் பெறுவதன் மூலமாகும். (.....)

32. திறந்த சந்தை நடவடிக்கை என்பது,
 (1) கொழும்பு பங்குச் சந்தையில் பங்குகளை கொள்வனவு, விற்பனை செய்தலாகும்.
 (2) மத்திய வங்கியானது வணிக வங்கிகளுக்குக் கடன்களை வழங்குதலாகும்.
 (3) மத்திய வங்கியினால் அரசு பிணையங்கள் கொள்வனவு, விற்பனை செய்யப்படுதலாகும்.
 (4) அரசாங்கம் வெளிநாட்டு முறிகளைக் கொள்வனவு செய்யப்படுதலாகும்.
 (5) ஏற்றுமதியை ஊக்குவிப்பதற்காக அரசாங்கம் மானியங்களை வழங்குதலாகும். (.....)

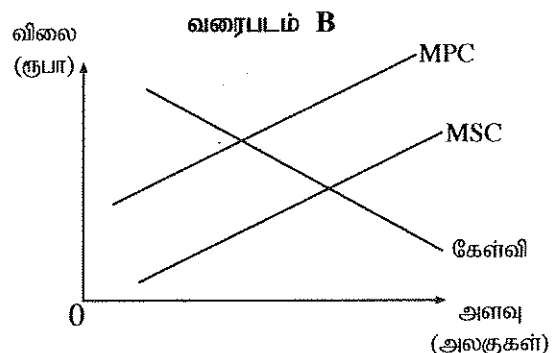
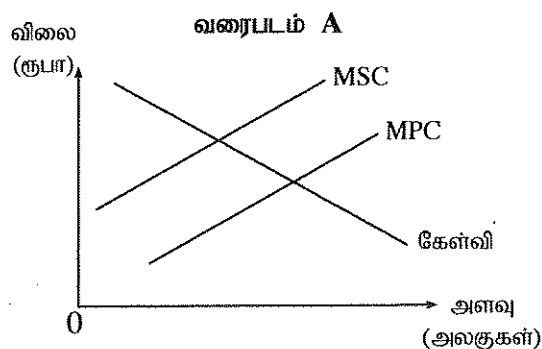
33. நியதி ஒதுக்குத்தேவை 15% சதவீதமாக இருப்பதாகவும், ஒரு வணிக வங்கி ரூபா 2 000 புதிய வைப்பினைப் பெறுவதாகவும் கருதுக. இதன் விளைவாக பின்வருவனவற்றுள் வங்கியின் ஐந்தொகையில் ஏற்படக்கூடிய மாற்றம் எது?

	பொறுப்புகள்	தேவைப்படும் ஒதுக்குகள்
(1)	ரூபா 2 000 இனால் அதிகரிக்கும்	ரூபா 1 700 இனால் அதிகரிக்கும்
(2)	ரூபா 2 000 இனால் அதிகரிக்கும்	ரூபா 300 இனால் அதிகரிக்கும்
(3)	ரூபா 2 000 இனால் அதிகரிக்கும்	மாறாதிருக்கும்
(4)	ரூபா 2 000 இனால் குறையும்	ரூபா 300 இனால் குறையும்
(5)	ரூபா 2 000 இனால் அதிகரிக்கும்	ரூபா 1 700 இனால் குறையும்

(.....)

34. பொதுப் பொருள் என்பது,
 (1) பொது மக்கள் பணம் செலுத்திப் பெறவேண்டிய பொருளாகும்.
 (2) நுகர்வில் போட்டித்தன்மை அற்ற பொருளாகும்.
 (3) தனியார் பொருளைவிட விலை கூடிய ஒரு பொருளாகும்.
 (4) நேர்க்கணிய வெளிவாரிகளை உருவாக்கும் ஒரு பொருளாகும்.
 (5) எதிர்க்கணிய வெளிவாரிகளை உருவாக்கும் ஒரு பொருளாகும். (.....)

35. பின்வரும் வரைபடங்கள் A, B ஆகிய இரு பொருள்களின் போட்டிச் சந்தை நிலைமைகளைக் காட்டுகின்றன. இங்கு MSC என்பது எல்லைச் சமூக செலவு ஆகும். MPC என்பது எல்லைத் தனியார் செலவு ஆகும்.



இவ் வரைபடங்களின் அடிப்படையில் பெறக்கூடிய சரியான முடிவு,

- (1) இரு வரைபடங்களும் வெளிவாரிகள் நிலவுவதைக் காட்டுகின்றன.
 (2) இரு வரைபடங்களும் எதிர்க்கணிய வெளிவாரிகள் நிலவுவதைக் காட்டுகின்றன.
 (3) இரு வரைபடங்களும் நேர்க்கணிய வெளிவாரிகள் நிலவுவதைக் காட்டுகின்றன.
 (4) வரைபடம் A குறை உற்பத்தியின் காரணமாக ஏற்படும் வினைத்திறனின்மையைக் காட்டுகின்றது.
 (5) வரைபடம் B மிகை உற்பத்தியின் காரணமாக ஏற்படும் வினைத்திறனின்மையைக் காட்டுகின்றது. (.....)

[பக். 8 ஐப் பார்க்க

36. 'அரசாங்கத் தோல்வி' ஏற்படுவது,

- (1) ஒரு சந்தையில் சமூகச் செலவுகள் சமூக நன்மைகளைவிட உயர்வாக உள்ள போதாகும்.
- (2) அரசாங்கம் சந்தையில் தலையீடு செய்யத் தவறுவதனாலாகும்.
- (3) சந்தையில் வெளிவாரிகள் காணப்படும் போதாகும்.
- (4) அரசாங்கத் தலையீடானது தாராள சந்தைத் தீர்வுடன் ஒப்பிடுமிடத்து தேறிய நலன் இழப்புக்கு இட்டுச்செல்லும் போதாகும்.
- (5) உற்பத்தி, வளப்பங்கீட்டில் காணப்படும் வினைத்திறன்ற தன்மையை அரசாங்கம் நீக்கத்தவறும் போதாகும். (.....)

37. விருத்திமுறை வருமான வரிவீதக் கட்டமைப்பொன்று நடைமுறைப்படுத்தப்படும்போது செல்வந்தர்கள் வரியாகச் செலுத்துவது,

- (1) தமது வருமானத்தில் ஏழைகளைவிடக் குறைவான சதவீதத்தையாகும்.
- (2) ஏழைகளைவிடக் குறைவான ரூபாய் பெறுமதியினையாகும்.
- (3) வருமான மட்டம் எதுவாயிருப்பினும் தமது வருமானத்தில் நிலையானதொரு வீதத்தையாகும்.
- (4) வருமானம் அதிகரிக்கும்போது வருமானத்திலிருந்து படிப்படியாக அதிகரிக்கும் வீதமொன்றையாகும்.
- (5) வருமானம் அதிகரிக்கும்போது வருமானத்திலிருந்து படிப்படியாகக் குறையும் வீதமொன்றையாகும். (.....)

38. 2017, 2018 ஆகிய ஆண்டுகளில் இலங்கையின் மத்திய அரசாங்கத்தின் மொத்த வெளிநின்ற பொதுப் படுகடன்கள் மொத்த உள்நாட்டு உற்பத்தியின் சதவீதமாக எவ்வளவு?

	2017	2018
(1)	76.9	82.9
(2)	79.1	80.2
(3)	80.0	90.0
(4)	74.5	85.0
(5)	78.5	79.5

(.....)

39. பின்வருவனவற்றுள் மிக அண்மையில் இலங்கையுடன் தாராள வர்த்தக உடன்படிக்கை செய்துகொண்டுள்ள நாடு எது?

- (1) இந்தியா
- (2) சீனா
- (3) வங்காளதேசம்
- (4) சிங்கப்பூர்
- (5) பாக்கிஸ்தான் (.....)

40. பின்வரும் அட்டவணை ஒரு நாட்டின் பண்ட வர்த்தக மாற்றுவிசைக் கூட்டியுடன் தொடர்புடைய தரவுகளைக் காட்டுகிறது.

ஆண்டு	பண்ட வர்த்தக மாற்றுவிசைக் கூட்டி
2014	100
2016	110
2018	134

அட்டவணையிலுள்ள தரவுகளின் அடிப்படையில் நாம் பெறக்கூடிய முடிவு யாதெனில், 2014 - 2018 காலப்பகுதியில்,

- (1) இறக்குமதி விலைகளோடு ஒப்பிடுகையில் ஏற்றுமதி விலைகள் மிகத் துரிதமாக அதிகரித்தன.
- (2) ஏற்றுமதி விலைகளோடு ஒப்பிடுகையில் இறக்குமதி விலைகள் அதிகரித்தன.
- (3) ஏற்றுமதிகளின் பருமன் இறக்குமதிகளின் பருமனை விட அதிகரித்தது.
- (4) இறக்குமதிகளின் பருமனோடு ஒப்பிடுகையில் ஏற்றுமதிகளின் பருமன் துரிதமாக அதிகரித்தது.
- (5) வர்த்தக நிலுவை மிகை நிலை அதிகரித்தது. (.....)

41. அபிவிருத்தியடைந்துவரும் ஒரு நாட்டில் நீர் மின்சார உற்பத்திகளுக்காக ஒரு நீர்த்தேக்கத்தைக் கட்டியெழுப்ப கனடா ஒரு நிதியுதவியை வழங்குவதாகக் கருதுக. கனடாவின் சென்மதி நிலுவையில் இது உள்ளடக்கப்படுவது,

- (1) மூலதனக் கணக்கில் ஒரு செலவாக ஆகும்.
- (2) நிதிக் கணக்கில் ஒரு செலவாக ஆகும்.
- (3) பணிகள் கணக்கில் ஒரு செலவாக ஆகும்.
- (4) முதலிலை வருமானக் கணக்கில் ஒரு வரவாக ஆகும்.
- (5) இரண்டாம் நிலை வருமானக் கணக்கில் ஒரு வரவாக ஆகும்.

(.....)

42. குறித்தவொரு நாட்டின் புழக்க நாணயத்தின் பெறுமதித் தேய்வினால் ஏற்படக்கூடிய விளைவு

- (1) பணவீக்க வீதம் அதிகரித்தலாகும்.
- (2) ஏற்றுமதிகளின் இலாப எல்லை வீழ்ச்சியடைதலாகும்.
- (3) வேலையின்மை அதிகரித்தலாகும்.
- (4) வர்த்தக மாற்று விகிதம் முன்னேற்றமடைதலாகும்.
- (5) வெளிநாட்டு மூலதன நிதிகளின் உட்பாய்ச்சல்கள் அதிகரித்தலாகும்.

(.....)

43. நிலையான நாணயமாற்றுவீதம் நிலவும் ஒரு நாட்டின் பணவீக்கம் சார்பளவில் அதன் வர்த்தகப் பங்காளிகளை விட கூடுதலாக அதிகரிப்பதாகக் கொள்க. அதன் விளைவாக ஏற்றுமதிகள், இறக்குமதிகளின் மீது பெரும்பாலும் ஏற்படக்கூடிய தாக்கம் யாது?

	இறக்குமதிகள்	ஏற்றுமதிகள்
(1)	குறையும்	குறையும்
(2)	குறையும்	அதிகரிக்கும்
(3)	அதிகரிக்கும்	குறையும்
(4)	அதிகரிக்கும்	அதிகரிக்கும்
(5)	மாறாதிருக்கும்	மாறாதிருக்கும்

(.....)

44. மாணுட அபிவிருத்திச் சுட்டெண்ணானது (HDI) சமூக அடைவுகளுடன் தொடர்புடைய பரந்துபட்டதொரு துறையை தனிக்கலப்புச் சுட்டெண்ணில் கருக்கித் தருவது,

- (1) ஏற்றதாழ்வுகளைக் குறைக்கும் சதவீதம், மனித வள அபிவிருத்தி வீதம், எழுத்தறிவு வீதம் ஆகிய காரணிகளை உள்ளடக்குவதன் மூலமாகும்.
- (2) நீண்ட ஆயுள், கல்வி, வாழ்க்கைத்தரம் ஆகிய காரணிகளை உள்ளடக்குவதன் மூலமாகும்.
- (3) குறைந்தபட்ச பாடசாலைக் கல்வி, வளர்ந்தோர் எழுத்தறிவு, முன்றாம்நிலைக் கல்வியின் அடைவுகள் ஆகிய காரணிகளை உள்ளடக்குவதன் மூலமாகும்.
- (4) மனிதவளப் பயிற்சி, அபிவிருத்தி, புத்தாக்கம் ஆகிய காரணிகளை உள்ளடக்குவதன் மூலமாகும்.
- (5) சிசு மரணம், வளர்ந்தோர் எழுத்தறிவு, தலைக்குரிய வருமானம் ஆகிய காரணிகளை உள்ளடக்குவதன் மூலமாகும்.

(.....)

45. கீழ்க்கண்ட நடுத்தர வருமான நாடுகளுக்கான சர்வதேச வறுமைக் கோடு

- (1) 1.25 ஐக்கிய அமெரிக்க டொலர் ஆகும்.
- (2) 1.90 ஐக்கிய அமெரிக்க டொலர் ஆகும்.
- (3) 3.20 ஐக்கிய அமெரிக்க டொலர் ஆகும்.
- (4) 5.50 ஐக்கிய அமெரிக்க டொலர் ஆகும்.
- (5) 21.70 ஐக்கிய அமெரிக்க டொலர் ஆகும்.

(.....)

46. 2016 ஆம் ஆண்டின் தலைக்குரிய வறுமைக் குறிகாட்டியின் அடிப்படையில் மிகக் குறைந்த வறுமை மட்டத்தையும் அதிகூடிய வறுமை மட்டத்தையும் கொண்டுள்ள மாவட்டங்கள் முறையே

- (1) கம்பஹா, முல்லைத்தீவு
- (2) கொழும்பு, கிளிநொச்சி
- (3) கம்பஹா, மட்டக்களப்பு
- (4) கொழும்பு, திருகோணமலை
- (5) அம்பாந்தோட்டை, வவுனியா

(.....)

47. சமூகத்தின் மிகச் செல்வந்த 10% சதவீதமானோரிடமிருந்து சமூகத்தின் மிக வறிய 10% சதவீதமானோரை நோக்கிய ஒரு வருமான மீள்பங்கீட்டை மேற்கொண்டால்,
- (1) ஜினி குணகம் அதிகரிப்பதுடன் லோரன்ஸ் வளையி 45° கோட்டிற்கு அருகில் செல்லும்.
 - (2) ஜினி குணகம் குறைவடைவதுடன் லோரன்ஸ் வளையி 45° கோட்டிற்கு அருகில் செல்லும்.
 - (3) ஜினி குணகம் குறைவடைவதுடன் லோரன்ஸ் வளையி 45° கோட்டிலிருந்து விலகிச் செல்லும்.
 - (4) ஜினி குணகம் அதிகரிப்பதுடன் லோரன்ஸ் வளையி 45° கோட்டிலிருந்து விலகிச் செல்லும்.
 - (5) ஜினி குணகம் அதிகரிப்பதுடன் லோரன்ஸ் வளையி 45° கோட்டின் மீது அமையும். (.....)

48. பின்வரும் அட்டவணை கருதுகோள்ரீதியான ஒரு பொருளாதாரத்தின் தொழில் சந்தை பற்றிய தரவுகளைக் காட்டுகிறது.

ஆண்டு	தொழில் வாய்ப்பில் உள்ள நபர்களின் எண்ணிக்கை (மில்லியனில்)	தொழிற்படை (மில்லியனில்)	15 வயது, அதற்கு மேற்பட்ட வீட்டுத்துறை சனத்தொகை (மில்லியனில்)
2017	27	30	60
2018	32	36	80

மேற்படி தரவுகளின் அடிப்படையில் பின்வருவனவற்றுள் சரியான கூற்று எது?

- (1) 2017 உடன் ஒப்பிடுகையில் 2018 இல் தொழிற்படையின் பங்குகொள்ளல் வீதம் குறைவாக இருந்தது.
 - (2) 2017 உடன் ஒப்பிடுகையில் 2018 இல் தொழிலின்மை வீதம் குறைவாக இருந்தது.
 - (3) 2017 உடன் ஒப்பிடுகையில் 2018 இல் தொழிற்படையின் பங்குகொள்ளல் வீதம் உயர்வாக இருந்தது.
 - (4) 2017, 2018 ஆகிய ஆண்டுகளில் தொழிற்படையின் பங்குகொள்ளல் வீதம் ஒன்றுக்கொன்று சமனாக இருந்தது.
 - (5) 2017, 2018 ஆகிய ஆண்டுகளில் தொழிலின்மை வீதம் ஒன்றுக்கொன்று சமனாக இருந்தது. (.....)
49. இலங்கையில் மொத்த தங்கியிருத்தல் விகிதம் வரைவிலக்கணப்படுத்தப்படுவது,
- (1) 65 வயதுக்கு மேற்பட்ட குடித்தொகையின் சதவீதமாக ஆகும்.
 - (2) குடித்தொகையில் வளர்ந்தோருக்கும் சிறுவர்களுக்கும் இடையிலான விகிதமாக ஆகும்.
 - (3) 10 வயதுக்குக் குறைந்த, 60 வயதுக்கு மேற்பட்ட குடித்தொகையின் சதவீதமாக ஆகும்.
 - (4) 15 வயதுக்குக் குறைந்த, 64 வயதுக்கு மேற்பட்ட குடித்தொகையின் சதவீதமாக ஆகும்.
 - (5) தொழில்புரியா வயது குடித்தொகையை தொழில்புரியும் வயது குடித்தொகையின் சதவீதமாக ஆகும். (.....)
50. 2016 இல் நடத்தப்பட்ட வீட்டுத்துறை வருமான, செலவீட்டு ஆய்வின் படி, இலங்கையின் மிகச் செல்வந்த 20% வீதத்தினரும் மிக வறிய 20% சதவீதத்தினரும் பெற்ற வருமானப் பங்குகள் முறையே
- (1) 50.8% , 4.8% ஆகும்.
 - (2) 45.1% , 4.5% ஆகும்.
 - (3) 54.1% , 6.1% ஆகும்.
 - (4) 62.3% , 3.2% ஆகும்.
 - (5) 53.3% , 5.6% ஆகும். (.....)

AL/2019/21/T-II (OLD)

සියලු ම හිමිකම් ඇවිරිණි / முழுப் பதிப்புரிமையுடையது / All Rights Reserved

පැරණි නිර්දේශය පழைய පාලத்திட்டம் / Old Syllabus

ශ්‍රී ලංකා විභාග දෙපාර්තමේන්තුව ශ්‍රී ලංකා විභාග දෙපාර්තමේන්තුව ශ්‍රී ලංකා විභාග දෙපාර්තමේන්තුව ශ්‍රී ලංකා විභාග දෙපාර්තමේන්තුව ශ්‍රී ලංකා විභාග දෙපාර්තමේන්තුව
 இலங்கைப் பரீட்சைத் திணைக்களம் இலங்கைப் பரීட்சைத் திணைக்களம் இலங்கைப் பரීட்சைத் திணைக்களம் இலங்கைப் பரීட்சைத் திணைக்களம் இலங்கைப் பரීட்சைத் திணைக்களம்
 Department of Examinations, Sri Lanka Department of Examinations, Sri Lanka Department of Examinations, Sri Lanka Department of Examinations, Sri Lanka Department of Examinations, Sri Lanka
 இலங்கைப் பரීட்சைத் திணைக்களம் இலங்கைப் பரීட்சைத் திணைக்களம் இலங்கைப் பரීட்சைத் திணைக்களம் இலங்கைப் பரීட்சைத் திணைக்களம் இலங்கைப் பரීட்சைத் திணைக்களம்
 Department of Examinations, Sri Lanka Department of Examinations, Sri Lanka Department of Examinations, Sri Lanka Department of Examinations, Sri Lanka Department of Examinations, Sri Lanka

OLD

අධ්‍යයන පොදු සහතික පත්‍ර (උසස් පෙළ) විභාගය, 2019 අගෝස්තු
 கல்விப் பொதுத் தராதரப் பத்திர (உயர் தர)ப் பரீட்சை, 2019 ஓகஸ்ட்
 General Certificate of Education (Adv. Level) Examination, August 2019

ආර්ථික විද්‍යාව II
 பெருளியல் II
 Economics II

21 T II

06.08.2019 / 1300 - 1610

පැය තුනයි
 மூன்று மணித்தியாலம்
 Three hours

අමතර කියවීමේ කාලය - මිනිත්තු 10 යි
 மேலதிக வாசிப்பு நேரம் - 10 நிமிடங்கள்
 Additional Reading Time - 10 minutes

வினாப்பத்திரத்தை வாசித்து, வினாக்களைத் தெரிவுசெய்வதற்கும் விடை எழுதும்போது முன்னுரிமை வழங்கும் வினாக்களை ஒழுங்கமைத்துக் கொள்வதற்கும் மேலதிக வாசிப்பு நேரத்தைப் பயன்படுத்துக.

අறிවැරුத்தல்கள் :

- * உப பிரிவு 'அ', உப பிரிவு 'ஆ' ஆகியவற்றிலிருந்து குறைந்தபட்சம் இரண்டு வினாக்களையேனும் தெரிவுசெய்து, எல்லாமாக ஐந்து வினாக்களுக்கு விடை எழுதுக.
- * வரைபுத் தாள்கள் வழங்கப்படும்.

உப பிரிவு 'அ'

- (இப்பிரிவிலிருந்து குறைந்தபட்சம் இரண்டு வினாக்களைத் தெரிவுசெய்க.)

1. (i) பின்வருவன எவ்வகை உற்பத்தி வளங்களில் உள்ளடக்கப்படும்?
 - (அ) தொழிலற்ற ஓர் ஊழியர்
 - (ஆ) லக்விஜய நிலக்கரி மின்னூற்பத்தி நிலையம்
 - (இ) நுவரெலியாவில் உள்ள ஒரு தேயிலைத் தோட்டம்
 - (ஈ) சிங்கராஜ வனம் (04 புள்ளிகள்)
- (ii) உற்பத்தி இயல்தகவு வளையி அடிப்படையாகக் கொண்டுள்ள எடுகோள்கள் யாவை? (04 புள்ளிகள்)
- (iii) உற்பத்தி இயல்தகவு வளையியில் அதிகரித்துச் செல்லும் அமையச் செலவுகள் எவ்வாறு வெளிப்படுத்தப்படுகின்றன என்பதை விளக்குக. அமையச் செலவு மாறாதிருக்குமாயின் அவ்வளையி எவ்வாறான தோற்றத்தைப் பெறும்? உமது விடையை வரைபடங்கள் மூலம் விளக்குக. (04 புள்ளிகள்)
- (iv) பொருளாதார முறைமைகளை வகைப்படுத்துவதற்காகப் பயன்படுத்தப்படும் தகுதிவிதிகள் யாவை? (04 புள்ளிகள்)
- (v) வளங்களை ஒதுக்கீடு செய்வதில் பொருளாதார வினைத்திறனை அடைவதற்குத் தேவையான நிபந்தனைகளைச் சுருக்கமாக விளக்குக. (04 புள்ளிகள்)
2. போட்டிச் சந்தையில் விற்கப்படும் ஒரு பொருளுக்கான கேள்வி, நிரம்பல் வளையிகள் பின்வரும் சமன்பாடுகளால் காட்டப்படுகின்றன.

கேள்விச் சமன்பாடு: $Q_D = 100 - 2P$ நிரம்பல் சமன்பாடு: $Q_S = -30 + 3P$

 - (i) இப்பொருளுக்கான சமநிலை விலையையும் தொகையையும் காண்க. (04 புள்ளிகள்)
 - (ii) சந்தைச் சமநிலையின்போது விலைக்கேள்வி நெகிழ்ச்சியைக் கணிப்பிடுக. (04 புள்ளிகள்)
 - (iii) இந்நிலையில் இப்பொருளின் உற்பத்தியாளர்களுக்கு அரசாங்கம் அலகொன்றுக்கு ரூபா 5 மானியம் வழங்கத் தீர்மானிப்பதாகக் கொள்க. மானியம் வழங்கப்பட்ட பின்னர் இப்பொருளின் சமநிலை விலையையும் தொகையையும் கணிப்பிடுக. (04 புள்ளிகள்)
 - (iv) மானியத்திற்கு முன்னரும் மானியத்திற்குப் பின்னருமான பொருளாதார மிகைகளை ஒப்பிடுக. (04 புள்ளிகள்)
 - (v) மானியம் அறிமுகப்படுத்தப்பட்ட பின்னர் இச்சந்தையில் வள ஒதுக்கீட்டின் வினைத்திறன் தொடர்பில் நீர் என்ன முடிவுக்கு வருவீர்? (04 புள்ளிகள்)

[பக். 2 ஐப் பார்க்க

3. (i) குறைந்து செல்லும் எல்லை விளைவுகளும் குறைவடையும் அளவுத்திட்ட விளைவுகளும் ஒரு நிறுவனத்தின் உற்பத்திச் செலவுகளை எவ்வாறு பாதிக்கும் என விளக்குக. (04 புள்ளிகள்)
- (ii) பின்வரும் ஒவ்வொரு நிகழ்வும் ஒரு நிறுவனத்தின் குறுங்கால எல்லைச் செலவு வளையியிலும் அதன் மொத்த நிலையான செலவு வளையியிலும் எவ்வாறான தாக்கத்தைச் செலுத்தும்?
 (அ) கூலி வீதத்தில் ஏற்படும் ஓர் அதிகரிப்பு
 (ஆ) சொத்து வரிகளில் ஏற்படும் ஒரு வீழ்ச்சி
 (இ) புதிய மூலதனக் கருவிகளின் கொள்வனவு விலையில் ஏற்படும் ஓர் அதிகரிப்பு
 (ஈ) எரிபொருள் விலைகளில் ஏற்படும் ஓர் அதிகரிப்பு (04 புள்ளிகள்)
- (iii) ஒரு கைத்தொழிலின் சந்தைக் கட்டமைப்பைத் தீர்மானிக்கும்போது கவனத்திற் கொள்ளப்படும் காரணிகள் யாவை? (04 புள்ளிகள்)
- (iv) நிறைபோட்டி உற்பத்தி நிறுவனமொன்று எவ்வகையான கேள்வி வளையியை எதிர்கொள்ளும்? அதற்கான காரணங்களை விளக்குக. (04 புள்ளிகள்)
- (v) குறுங்காலத்தில் நிறைபோட்டி நிறுவனமொன்று பின்வரும் ஒவ்வொரு நிலைமையையும் எதிர்கொள்ளலாம். இவ்வொவ்வொரு நிலைமையின்போதும் நிறுவனம் குறுங்காலத்தில் உற்பத்தியில் ஈடுபட வேண்டுமா? அல்லது குறுங்காலத்தில் உற்பத்தியை நிறுத்த வேண்டுமா? அல்லது குறுங்காலத்தில் நிறுவனம் என்ன செய்வதெனத் தீர்மானிக்க மேலதிக தகவல்கள் தேவைப்படுமா? என்பதைக் குறிப்பிடுக.
 (அ) எல்லா வெளியீட்டு மட்டங்களிலும் மொத்தச் செலவு மொத்த வருவாயைவிட அதிகமாக இருத்தல்
 (ஆ) எல்லா வெளியீட்டு மட்டங்களிலும் மொத்த மாறுஞ்செலவு மொத்த வருவாயைவிட அதிகமாக இருத்தல்
 (இ) எல்லா வெளியீட்டு மட்டங்களிலும் மொத்த வருவாய் மொத்த நிலையான செலவுகளைவிட அதிகமாக இருத்தல்
 (ஈ) எல்லா வெளியீட்டு மட்டங்களிலும் விலையானது சராசரி மொத்தச் செலவைவிட அதிகமாக இருத்தல் (04 புள்ளிகள்)
4. (i) உண்மையிலேயே செலவீட்டு, வருமான அணுகுமுறைகள் உற்பத்தியை அளவிடாதபோது செலவீட்டு அணுகுமுறையை அல்லது வருமான அணுகுமுறையைப் பயன்படுத்தி மொத்த உள்நாட்டு உற்பத்தியை அளவிட முடிவது எவ்வாறு என்பதை விளக்குக. (04 புள்ளிகள்)
- (ii) கையிருப்பு மாற்றங்கள் முதலீட்டுச் செலவீட்டின் ஒரு கூறாக உள்ளடக்கப்படுவதேன்? (04 புள்ளிகள்)
- (iii) செலவீட்டு அணுகுமுறையைப் பயன்படுத்தி மொத்த உள்நாட்டு உற்பத்தியைக் கணிப்பதில் கருத்திற்கொள்ளப்படும் பிரதான செலவீட்டுக் கூறுகள் யாவை? (04 புள்ளிகள்)
- (iv) பின்வரும் ஒவ்வொன்றையும் வரைவிலக்கணப்படுத்துக.
 (அ) மொத்த தேசிய வருமானம்
 (ஆ) செலவிடத்தக்க மொத்த தேசிய வருமானம்
 (இ) தனிநபர் வருமானம்
 (ஈ) செலவிடத்தக்க தனிநபர் வருமானம் (04 புள்ளிகள்)
- (v) “பொருளாதார விளக்கம், பகுப்பாய்வு ஆகியவற்றுக்கு தேசிய கணக்கீட்டுத் தரவுகள் அதிசக்திமிக்க கருவிகளாகும்.” விளக்குக. (04 புள்ளிகள்)

5. (i) எல்லை நுகர்வு நாட்டம் (MPC) என்பதால் கருதப்படுவதென்ன? அது ஏன் ஒன்றைவிடக் குறைவான பெறுமானத்தைக் கொண்டிருக்கும்? (04 புள்ளிகள்)
- (ii) பெருக்கியின் பெறுமானம், எல்லை நுகர்வு நாட்டத்தின் பெறுமானத்துடன் நேர்க்கணிய ரீதியில் தொடர்புபட்டிருப்பது ஏன்? (04 புள்ளிகள்)
- (iii) கருதுகோள்ரீதியான பொருளாதாரமொன்றின் மொத்த நுகர்வுச் செலவு பின்வரும் சமன்பாட்டினால் காட்டப்பட்டுள்ளது.

$$C = 50 + 0.75 Y_d$$

மேலும் எல்லா வருமான மட்டங்களிலும் முதலீட்டுச் செலவானது ரூபா 700 பில்லியனாக உள்ளதாகவும் தேறிய ஏற்றுமதிகள் பூச்சியமாக உள்ளதாகவும் கருதுக. அரசாங்கத்தின் வரவுசெலவுத்திட்டம் சமநிலையில் உள்ளதுடன் அரசாங்கத்தின் கொள்வனவுகளும் வரிகளும் தலா ரூபா 500 பில்லியனாக உள்ளன.

- (அ) சமநிலை மட்ட மொத்த உள்நாட்டு உற்பத்தியினைக் கணிப்பிடுக. (02 புள்ளிகள்)
- (ஆ) சாத்திய மட்ட மொத்த உள்நாட்டு உற்பத்தியானது ரூபா 5 000 பில்லியனாயின், பொருளாதாரத்தில் சுருக்க இடைவெளியோ அல்லது பணவீக்க இடைவெளியோ காணப்படுமா? அவ்வாறாயின் அதன் அளவு யாது? (02 புள்ளிகள்)
- (iv) பெருக்கி விளைவு என்றால் என்ன? அரசாங்கக் கொள்வனவுகளில் ஏற்படும் ஒரு வீழ்ச்சியின் பெருக்கி விளைவை 45° கோட்டு வரைபடத்தைப் பயன்படுத்திக் காட்டுக. (04 புள்ளிகள்)
- (v) வரியில் ஏற்படும் மாற்றங்களைவிட அரசாங்கக் கொள்வனவுகளில் மாற்றம் ஏற்பட்டால் மெய் மொத்த உள்நாட்டு உற்பத்தியானது அதிக அளவினால் மாற்றமடைவது ஏன்? (04 புள்ளிகள்)

உப பிரிவு 'ஆ'

(இப்பிரிவில்லிருந்து குறைந்தபட்சம் இரண்டு வினாக்களைத் தெரிவுசெய்க.)

6. (i) பரிமாற்றச் சமன்பாட்டைக் குறிப்பிட்டு, அதன் ஒவ்வொரு மாறியையும் இனங்காண்க. (04 புள்ளிகள்)
- (ii) "பணவீக்கமானது மிகைக் கேள்வியினால் உருவாகிறது ஆயினும் அதிகரிக்கும் செலவுகளாலேயே அது நீடித்து நிற்கிறது." வரைபடங்களைப் பயன்படுத்தி இக்கூற்றினை விளக்குக. (04 புள்ளிகள்)
- (iii) பணமானது பயனுறுதி வாய்ந்த ஒரு பரிமாற்ற ஊடகமாகத் தொழிற்படுவதற்குப் பூர்த்தி செய்யவேண்டிய தகுதிவிதிகள் யாவை? (04 புள்ளிகள்)
- (iv) இலங்கையில் நிதி முறைமையில் உள்ளடங்கும் முக்கிய நிறுவனங்கள் நான்கைப் பெயரிடுக. (04 புள்ளிகள்)
- (v) M_{2b} , M_4 ஆகிய பணக் கூட்டுகளின் கூறுகளை இனங்காண்க. (04 புள்ளிகள்)
7. (i) நேர்க்கணிய வெளிவாரிகளும் எதிர்க்கணிய வெளிவாரிகளும் நிலவும்போது, சமநிலை வெளியீட்டு மட்டத்திற்கும் சமூகத்தின் உத்தம வெளியீட்டு மட்டத்திற்கும் இடையில் எத்தகைய வேறுபாடுகள் காணப்படும்? வரைபடங்களைப் பயன்படுத்தி உமது விடையை விளக்குக. (04 புள்ளிகள்)
- (ii) அரைகுறை பொதுப் பொருள்களினதும் மேன்மைப் பொருள்களினதும் வெளிப்படையான பண்புகளை உதாரணங்களைப் பயன்படுத்தி விளக்குக. (04 புள்ளிகள்)
- (iii) இலங்கை அரசாங்கத்தின் மீளெழும் செலவினத்தின் பிரதான கூறுகளைப் பெயரிடுக. (04 புள்ளிகள்)
- (iv) 'வரியின் மிகைச் சுமை' என்பதால் கருதப்படுவதென்ன? விலை நெகிழ்ச்சியற்ற கேள்வியையுடைய ஒரு பண்டத்தின் மீது விதிக்கப்படும் உற்பத்தி வரியின் மிகைச் சுமையினை வரைபடமொன்றைப் பயன்படுத்தி விளக்குக. (04 புள்ளிகள்)
- (v) கடந்த மூன்று வருட காலப்பகுதியில் இலங்கையில் வரவுசெலவுத்திட்டக் குறைநிலையை நிதியீட்டம் செய்யப் பரவலாகப் பயன்படுத்தப்பட்ட மூலாதாரங்களையும் கருவிகளையும் பெயரிடுக. (04 புள்ளிகள்)

8. (i) A என்னும் நாடு தனது எல்லா வளங்களையும் பயன்படுத்தி X பொருளின் 80 அலகுகளை அல்லது Y பொருளின் 60 அலகுகளை உற்பத்தி செய்ய முடியுமென்றும், B என்னும் நாடு அவ்வாறு செய்வதன் மூலம் X பொருளின் 60 அலகுகளை அல்லது Y பொருளின் 60 அலகுகளை உற்பத்தி செய்ய முடியுமென்றும் கருதுக.
- (அ) செலவுகள் மாறாதிருப்பதாகக் கருதி ஒப்பீட்டு நன்மையின் அடிப்படையில் ஒவ்வொரு நாடும் எந்தப் பொருளில் சிறக்குமியல்பு அடையவேண்டும் எனக் குறிப்பிடுக. (02 புள்ளிகள்)
- (ஆ) பரஸ்பர நன்மை தரவல்ல விதத்தில் வர்த்தகம் இடம்பெறவேண்டுமாயின், X, Y ஆகிய பொருள்களுக்கிடையிலான வர்த்தக மாற்று வீதம் எந்த எல்லைகளுக்குள் இருக்க வேண்டும்? (02 புள்ளிகள்)
- (ii) இலங்கை கைச்சாத்திட்டுள்ள (ratified) சுதந்திர வர்த்தக உடன்படிக்கைகள் நான்கைக் குறிப்பிடுக. (04 புள்ளிகள்)
- (iii) கடந்த ஐந்தாண்டுகளில் இலங்கையின் வர்த்தக நிலுவைக் குறைநிலையினை கணிசமானளவு விரிவடையச் செய்வதில் செல்வாக்குச் செலுத்திய காரணிகள் யாவை? (04 புள்ளிகள்)
- (iv) பின்வரும் அட்டவணை கருதுகோள்ரீதியான ஒரு பொருளாதாரத்தின் சென்மதி நிலுவையின் உள்ளடக்கங்களைக் காட்டுகிறது.

சென்மதி நிலுவையின் உள்ளடக்கம்	பில்லியன் ரூபா
வர்த்தக நிலுவை	- 960
பணிகள் (தேறியது)	340
முதலிலை வருமானம் (தேறியது)	-230
இரண்டாம் நிலை வருமானம் (தேறியது)	630
மூலதனக் கணக்கு (தேறியது)	20

- (அ) நடைமுறைக் கணக்கின் நிலுவை யாது? (02 புள்ளிகள்)
- (ஆ) நிதிக் கணக்கின் நிலுவை யாது? (02 புள்ளிகள்)
- (v) நாடுகளை முகாமை செய்யப்பட்ட மிதக்கும் நாணயமாற்றுவீத முறைமையை நோக்கி மாற்றமடையச் செய்வதில் செல்வாக்குச் செலுத்திய பூரணமாக மிதக்கவிடப்பட்ட நாணயமாற்றுவீதங்களின் பிரதிகூலங்கள் யாவை? (04 புள்ளிகள்)
9. (i) 'உற்பத்தித் திறன்' என்ற எண்ணக்கருவினால் கருதப்படுவது என்ன? உற்பத்தித் திறனை நிர்ணயிக்கும் பிரதான காரணிகள் யாவை? (05 புள்ளிகள்)
- (ii) "வாழ்க்கைத்தரத்தை அளவிட தலைக்குரிய மொத்த தேசிய வருமானத்தின் (Gross National Income - GNI) வளர்ச்சியானது போதுமானதோர் அளவையன்று." விளக்குக. (05 புள்ளிகள்)
- (iii) மானிட அபிவிருத்திச் சுட்டெண் என்றால் என்ன? அபிவிருத்தி பற்றிய ஏனைய அளவைகளோடு ஒப்பிடுகையில் மானிட அபிவிருத்திச் சுட்டெண்ணின் அனுகூலங்களும் பிரதிகூலங்களும் யாவை? (05 புள்ளிகள்)
- (iv) இலங்கையின் கடுமையான வறுமை நிலைக்கான காரணங்கள் யாவை? (05 புள்ளிகள்)
10. (i) சுதந்திரத்தின் பின்னர் இலங்கையின் அபிவிருத்திக் கொள்கைகள் அரசியல் ஆட்சிமாற்றங்களுடன் எவ்வாறு மாற்றமடைந்தன என்பதைச் சுருக்கமாக விபரிக்குக. (05 புள்ளிகள்)
- (ii) "மிகவும் அவசியமாகத் தேவைப்பட்ட கட்டமைப்புச் சீர்திருத்தங்களைப் பிற்போட்டமையானது இலங்கைப் பொருளாதாரத்தை தற்போது மிகக் குறைந்த வளர்ச்சிப் பாதையில் தள்ளிவிட்டுள்ளது." இலங்கையினால் நடைமுறைப்படுத்தல் பிற்போடப்பட்டுள்ள வளர்ச்சியை ஊக்குவிக்கும் இத்தகைய சீர்திருத்தங்கள் யாவை? (05 புள்ளிகள்)
- (iii) இலங்கையின் முதலீடுகளுக்குத் தடையாகவுள்ள முதலீட்டுச் சூழலிலும் காரணிச் சந்தைகளிலும் நிலவும் குறைபாடுகளைக் குறிப்பிடுக. (05 புள்ளிகள்)
- (iv) "இலங்கையின் பொதுப்புகடன் மிக உயர்ந்த மட்டத்தில் இருக்கும் அதேவேளை கடன் உள்ளடக்கமானது கடனின் நிலைபேறுடைய தன்மை தொடர்பில் குறிப்பிட்டளவு இடர்பாயங்கள் நிலவுவதைச் சுட்டிக்காட்டுகிறது." விசேடமாக இலங்கையின் பொதுப்புகடனின் அளவு, அதன் உள்ளடக்கம் தொடர்பில் கவனம் செலுத்தி இக்கூற்றினை விளக்குக. (05 புள்ளிகள்)