

**නව නිර්දේශය/புதிய பாடத்திட்டம்/New Syllabus**

**ශ්‍රී ලංකා විභාග දෙපාර්තමේන්තුව ශ්‍රී ලංකා විභාග දෙපාර්තමේන්තුව ශ්‍රී ලංකා විභාග දෙපාර්තමේන්තුව ශ්‍රී ලංකා විභාග දෙපාර්තමේන්තුව ශ්‍රී ලංකා විභාග දෙපාර්තමේන්තුව**  
 இலங்கைப் பரீட்சைத் திணைக்களம் இலங்கைப் பரීட்சைத் திணைக்களம் இலங்கைப் பரීட்சைத் திணைக்களம் இலங்கைப் பரීட்சைத் திணைக்களம் இலங்கைப் பரීட்சைத் திணைக்களம்  
 Department of Examinations, Sri Lanka இலங்கைப் பரීட்சைத் திணைக்களம் Department of Examinations, Sri Lanka இலங்கைப் பரීட்சைத் திணைக்களம் Department of Examinations, Sri Lanka இலங்கைப் பரීட்சைத் திணைக்களம் Department of Examinations, Sri Lanka  
 இலங்கைப் பரීட்சைத் திணைக்களம் இலங்கைப் பரීட்சைத் திணைக்களம் இலங்கைப் பரීட்சைத் திணைக்களம் இலங்கைப் பரීட்சைத் திணைக்களம் இலங்கைப் பரīட்சைத் திணைக்களம்

**අධ්‍යයන පොදු සහතික පත්‍ර (උසස් පෙළ) විභාගය, 2019 අගෝස්තු**  
**கல்விப் பொதுத் தராதரப் பத்திர (உயர் தரப் பரீட்சை, 2019 ஆகஸ்ட்)**  
**General Certificate of Education (Adv. Level) Examination, August 2019**

ආර්ථික විද්‍යාව I  
 பொருளியல் I  
 Economics I

**21 T I**

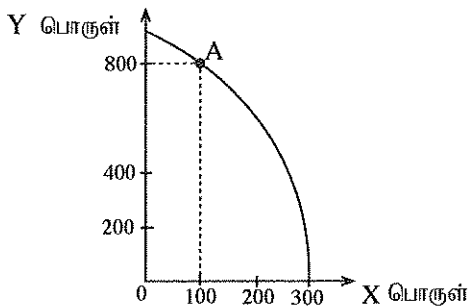
**05.08.2019 / 1300 - 1500**

පැය දෙකයි  
**இரண்டு மணித்தியாலம்**  
 Two hours

**අறிවැරුத்தல்கள் :**

- \* எல்லா வினாக்களுக்கும் விடை எழுதுக.
- \* விடைத்தாளில் தரப்பட்டுள்ள இடத்தில் உமது சுட்டெண்ணை எழுதுக.
- \* விடைத்தாளின் மறுபக்கத்தில் தரப்பட்டுள்ள அறிவுறுத்தல்களைக் கவனமாக வாசித்துப் பின்பற்றுக.
- \* 1 தொடக்கம் 50 வரையுள்ள வினாக்கள் ஒவ்வொன்றுக்கும் (1), (2), (3), (4), (5) என இலக்கமிடப்பட்ட விடைகளில் சரியான அல்லது மிகப் பொருத்தமான விடையைத் தெரிந்தெடுத்து, அதனைக் குறித்து நிற்கும் இலக்கத்தைத் தரப்பட்டுள்ள அறிவுறுத்தல்களுக்கு அமைய விடைத்தாளில் புள்ளடி (x) இடுவதன் மூலம் காட்டுக.

- ஒவ்வொரு வீட்டுத்துறையினரதும் நிறுவனங்களினதும் தீர்மானங்களைப் பற்றி ஆய்வு செய்யும் பொருளியற் துறை (1) பேரினப் பொருளியல் (2) சிற்றினப் பொருளியல் (3) நேர்ப் பொருளியல் (4) நியமப் பொருளியல் (5) நலப் பொருளியல்
- நிலம், உழைப்பு, மூலதனம், முயற்சி என்னும் வள உரிமையாளர்களுக்கு வழங்கப்படும் வருமானச் செலுத்தல்களாவன முறையே, (1) வட்டி, கூலி, வாடகை, இலாபமாகும். (2) வாடகை, கூலி, பங்கிலாபம், வட்டியாகும். (3) வாடகை, இலாபம், கூலி, வட்டியாகும். (4) வாடகை, கூலி, வட்டி, இலாபமாகும். (5) வட்டி, கூலி, பங்கிலாபம், வாடகையாகும்.
- பின்வருவனவற்றுள் கட்டளைப் பொருளாதாரமொன்றின் முக்கிய பண்பாக அமைவது எது? (1) மூலதனத்தின் தனியார் உரிமை (2) சந்தைகளில் பெரிதும் தங்கியிருத்தல் (3) மத்திய திட்டமிடல் (4) சந்தை சக்திகளின் ஒன்றுகூடுதல் (5) தனிப்பட்ட நன்மைகளின் அடிப்படையில் தீர்மானமெடுத்தல்
- பின்வரும் வரையடம் A என்னும் புள்ளியில் உற்பத்தி செய்யும் பொருளாதாரம் ஒன்றின் உற்பத்தி இயல்தகவு எல்லையைக் காட்டுகிறது.



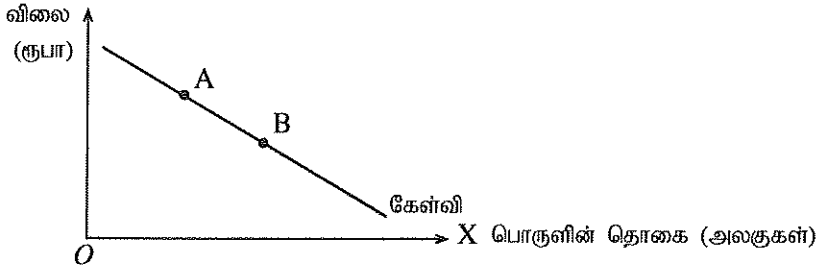
Y பொருளை உற்பத்தி செய்வதற்காக இழக்கப்படும் X பொருளின் தொகை யாது?

- (1) 100 (2) 200 (3) 300  
 (4) 400 (5) 500

- பின்வரும் அட்டவணை X பொருளின் விலை மாற்றத்தின் காரணமாக ஏற்படும் பதிலீட்டு விளைவு, வருமான விளைவு என்பவற்றைக் காட்டுகிறது. பின்வருவனவற்றுள் பதிலீட்டு விளைவு, வருமான விளைவு என்பவற்றைக் காட்டும் சரியான சேர்க்கை எது?

	X பொருளின் வகை	விலை மாற்றம்	பதிலீட்டு விளைவின் காரணமாக ஏற்படும் கேள்வித் தொகை	வருமான விளைவின் காரணமாக ஏற்படும் கேள்வித் தொகை
(1)	இழிவுப் பொருள்	வீழ்ச்சி	குறையும்	அதிகரிக்கும்
(2)	இழிவுப் பொருள்	அதிகரிப்பு	குறையும்	குறையும்
(3)	இழிவுப் பொருள்	அதிகரிப்பு	அதிகரிக்கும்	அதிகரிக்கும்
(4)	சாதாரண பொருள்	வீழ்ச்சி	அதிகரிக்கும்	அதிகரிக்கும்
(5)	சாதாரண பொருள்	அதிகரிப்பு	அதிகரிக்கும்	குறையும்

6. பின்வருவனவற்றுள் பொருளொன்றின் நிரம்பல் வளையியை இடப்புறமாக நகர்த்துவது எது?
- (1) உற்பத்திச் செலவில் ஏற்படும் ஓர் அதிகரிப்பு (2) உற்பத்திச் செலவில் ஏற்படும் ஒரு வீழ்ச்சி  
(3) பொருளின் விலையில் ஏற்படும் ஓர் அதிகரிப்பு (4) பொருளின் விலையில் ஏற்படும் ஒரு வீழ்ச்சி  
(5) கேள்வியில் ஏற்படும் ஒரு வீழ்ச்சி
7. நபரொருவரின் வருமானம் அதிகரிக்கும்போது பொதுப்போக்குவரத்துச் சேவைக்கான அவரது கேள்வி குறைவடையுமாயின் பொதுப்போக்குவரத்து சேவை உதாரணமாக அமைவது,
- (1) ஓர் இழிவுப் பொருளுக்காகும். (2) ஓர் இலவசப் பொருளுக்காகும்.  
(3) ஒரு கிபன் பொருளுக்காகும். (4) ஒரு சாதாரண பொருளுக்காகும்.  
(5) ஒரு பொதுப் பொருளுக்காகும்.
8. பின்வரும் வரைபடம் X பொருளின் சந்தைக் கேள்வி வளையியைக் காட்டுகிறது.

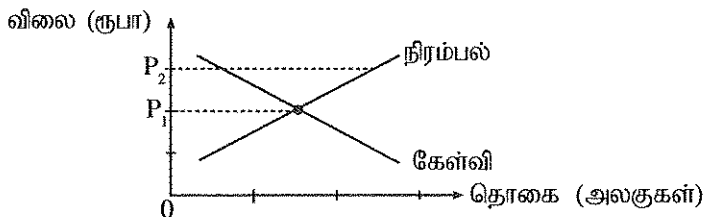


இங்கு சந்தை சமநிலையின் அளவு A புள்ளியிலிருந்து B புள்ளி வரையில் மாற்றமடைவதற்குப் பெரும்பாலும் காரணமாக அமையக் கூடியது

- (1) பதிலீட்டுப் பொருளொன்றின் விலையில் ஏற்படும் ஓர் அதிகரிப்பு  
(2) நுகர்வோரின் வருமானத்தில் ஏற்படும் ஓர் அதிகரிப்பு  
(3) நுகர்வோரின் வருமானத்தில் ஏற்படும் ஒரு வீழ்ச்சி  
(4) X பொருளின் உற்பத்திச் செலவில் ஏற்படும் ஒரு வீழ்ச்சி  
(5) X பொருளின் நிரம்பலில் ஏற்படும் ஒரு வீழ்ச்சி
9. அலகொன்று ரூபா 100 விலையில் சமநிலை அடைந்துள்ள கருதுகோள் அடிப்படையிலான போட்டிச் சந்தையொன்றைக் கருதுக. தற்போது சந்தைச் சமநிலை விலை மாறாதுள்ள நிலையில் சந்தை நிரம்பல் வளையியானது எல்லா விலைகளிலும் நெகிழ்வுள்ள நிலையிலிருந்து எல்லா விலைகளிலும் நெகிழ்வற்ற நிலைக்கு மாறுவதாகக் கருதுக. இம்மாற்றம் நுகர்வோன் மிகை, உற்பத்தியாளன் மிகை என்பவற்றின் மீது ஏற்படுத்தும் விளைவு யாது?

	நுகர்வோன் மிகை	உற்பத்தியாளன் மிகை
(1)	அதிகரிக்கும்	வீழ்ச்சியடையும்
(2)	அதிகரிக்கும்	மாற்றமில்லாதிருக்கும்
(3)	மாற்றமில்லாதிருக்கும்	அதிகரிக்கும்
(4)	மாற்றமில்லாதிருக்கும்	மாற்றமில்லாதிருக்கும்
(5)	வீழ்ச்சியடையும்	அதிகரிக்கும்

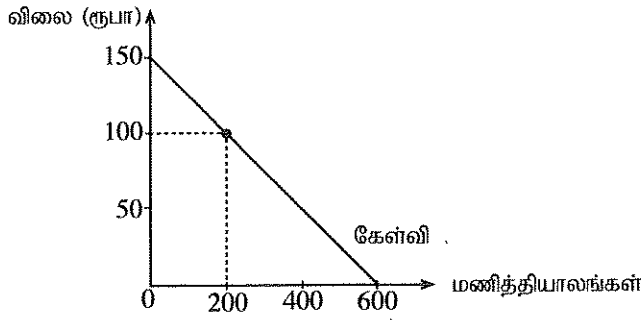
10. பின்வரும் வரைபடத்தில் சாதாரண பொருளொன்றின் சந்தைக் கேள்வி, நிரம்பல் வளையிகள் காட்டப்பட்டுள்ளன.



இங்கு சமநிலை விலையானது  $P_1$  இலிருந்து  $P_2$  வாக அதிகரிப்பதற்கு ஏதுவாக அமைவது

- (1) நுகர்வோரின் வருமானம் அதிகரித்தல்  
(2) நிரப்புப் பொருளொன்றின் விலை அதிகரித்தல்  
(3) உற்பத்திச் செலவு கணிசமானளவு குறைவடைதல்  
(4) உற்பத்தி மீதான மானியங்கள் அதிகரித்தல்  
(5) விலை  $P_2$  சட்ட ரீதியான உச்ச விலையாகத் தீர்மானிக்கப்படுதல்

11. தனியார் உயர்கல்வி நிறுவனமொன்று ஆரம்பத்தில் அதன் மாணவர்களுக்கு இணைய வசதிகளைக் கட்டணங்களின்றி வழங்கியதாகக் கருதுக. பின்னர் நிறுவனம் இணையப் பயனாளர்களிடமிருந்து மணித்தியாலத்திற்கு ரூபா 100 கட்டணம் அறவிடத் தீர்மானித்தது. இணைய சேவைகளுக்கான மாணவர்களின் கேள்வி வளையி பின்வரும் வரைபடத்தில் காட்டப்பட்டுள்ளது.



கட்டணமொன்றை அறவிடத் தீர்மானித்த பின்னர் இழக்கப்பட்ட நுகர்வோன் மிகையின் பெறுமதி

- (1) ரூபா 90 000
- (2) ரூபா 45 000
- (3) ரூபா 40 000
- (4) ரூபா 10 000
- (5) ரூபா 5 000

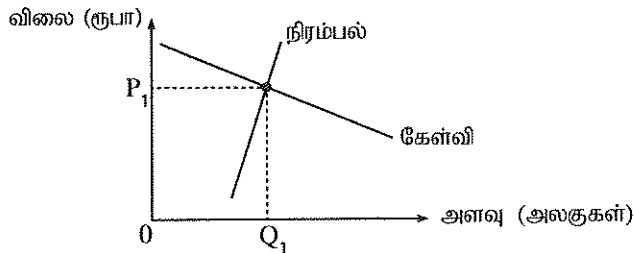
12. பின்வரும் அட்டவணையானது குறித்தவொரு நுகர்வுப் பொருளின் உற்பத்தி மீது ஓர் அலகு வரிவிதிப்புக்கு முன்னரும் பின்னருமான கேள்வி, நிரம்பல் பற்றிய தகவல்களைக் காட்டுகிறது.

விலை (ரூபா)	கேள்வித் தொகை	வரிக்கு முந்திய நிரம்பல் தொகை	வரிக்குப் பிந்திய நிரம்பல் தொகை
65	650	550	450
70	650	600	500
75	650	650	550
80	650	700	600
85	650	750	650
90	650	800	700
100	650	850	750

அலகு வரியின் அளவும் வரிக்குப் பிந்திய விலை மாற்றமும் யாவை?

- (1) வரி ரூபா 10, விலை மாற்றம் ரூபா 5
- (2) வரி ரூபா 10, விலை மாற்றம் ரூபா 10
- (3) வரி ரூபா 50, விலை மாற்றம் ரூபா 75
- (4) வரி ரூபா 50, விலை மாற்றம் ரூபா 85
- (5) வரி ரூபா 10, விலை மாற்றம் ரூபா 80

13. பின்வரும் வரைபடம் விவசாயப் பொருளொன்றுக்கு நிலவும் போட்டிச் சந்தையொன்றைக் காட்டுகிறது.



அரசாங்கம் இப்பொருளின் உற்பத்தியாளர்களுக்கு அலகு மானியமொன்றை வழங்கினால், உற்பத்தியாளர்களுக்கும் நுகர்வோருக்குமிடையே பொருளாதார மிகை எவ்வாறு பகிரப்படும்?

- (1) பொருளாதார மிகையின் அதிகளவு நுகர்வோரைச் சென்றடையும்.
- (2) பொருளாதார மிகையின் அதிகளவு உற்பத்தியாளர்களைச் சென்றடையும்.
- (3) பொருளாதார மிகை முழுமையாக உற்பத்தியாளர்களைச் சென்றடையும்.
- (4) பொருளாதார மிகை முழுமையாக நுகர்வோரைச் சென்றடையும்.
- (5) பொருளாதார மிகையானது நுகர்வோர், உற்பத்தியாளர் ஆகியோரிடையே சமமாகப் பகிரப்படும்.

14. பயனுறுதிவாய்ந்த குறைந்தபட்ச விலை ஒன்றை விதிக்கும்போது,

- (1) நுகர்வோர் மிகையும் உற்பத்தியாளர் மிகையும் அதிகரிக்கும்.
- (2) நுகர்வோர் மிகை அதிகரிப்பதுடன் உற்பத்தியாளர் மிகை குறைவடையும்.
- (3) நுகர்வோர் மிகையும் உற்பத்தியாளர் மிகையும் குறைவடையும்.
- (4) நுகர்வோர் மிகை குறைவடைவதுடன் உற்பத்தியாளர் மிகை அதிகரிக்கும்.
- (5) நுகர்வோர் மிகையும் உற்பத்தியாளர் மிகையும் மாற்றமில்லாது காணப்படும்.



15. தரப்படுத்தப்பட்ட அல்லது வேறாக்கம் செய்யப்பட்ட பொருளொன்றை உற்பத்தி செய்யும் சிறு எண்ணிக்கையிலான நிறுவனங்களை உள்ளடக்கிய கைத்தொழில்,
- (1) போட்டிக் கைத்தொழில் எனப்படும். (2) சிலநூரிமைக் கைத்தொழில் எனப்படும்.  
 (3) தனியுரிமைப் போட்டிக் கைத்தொழில் எனப்படும். (4) தனியுரிமைக் கைத்தொழில் எனப்படும்.  
 (5) தூய போட்டிக் கைத்தொழில் எனப்படும்.

16. நிறுவனம் ஒன்று நிலையான அளவு மூலதனத்தடன் மாறும் எண்ணிக்கையிலான ஊழியத்தைப் பயன்படுத்தி உற்பத்தியில் ஈடுபடுவதாகக் கருதுக. இங்கு ஊழியத்திற்கு வழங்கப்படும் நாளாந்த கூலி அதிகரிக்குமாயின், நிறுவனத்தின் செலவுகளை அது எவ்வாறு பாதிக்கும்?

	மொத்த மாறும் செலவு	மொத்த நிலையான செலவு	மொத்தச் செலவு
(1)	குறைவடையும்	மாற்றமில்லாதிருக்கும்	குறைவடையும்
(2)	குறைவடையும்	குறைவடையும்	குறைவடையும்
(3)	அதிகரிக்கும்	குறைவடையும்	மாற்றமில்லாதிருக்கும்
(4)	அதிகரிக்கும்	மாற்றமில்லாதிருக்கும்	அதிகரிக்கும்
(5)	அதிகரிக்கும்	அதிகரிக்கும்	அதிகரிக்கும்

17. வாழைப்பழ உற்பத்தியில் ஈடுபட்டுள்ள விவசாயி ஒருவர் நிறைபோட்டிச் சந்தையில் இயங்குகிறார் எனக் கருதுக. சந்தை விலை வீழ்ச்சியடையுமாயின் குறுங்காலத்தில் அவ் விவசாயி செய்ய வேண்டியது
- (1) புதிய விலை சராசரி மொத்தச் செலவுக்குச் சமமாகும் வரையில் உற்பத்தியை அதிகரித்தல்  
 (2) விலை வீழ்ச்சியை ஈடுசெய்யும் வகையில் உற்பத்தியை அதிகரித்தல்  
 (3) புதிய விலையானது எல்லை வருவாயை விடக் குறைவாக இருப்பின் உற்பத்தியை நிறுத்துதல்  
 (4) புதிய விலையானது சராசரி நிலையான செலவினை ஈடுசெய்யுமானால் மட்டும் உற்பத்தியைத் தொடர்தல்  
 (5) புதிய விலையானது சராசரி மாறும் செலவினை ஈடுசெய்யுமானால் மட்டும் உற்பத்தியைத் தொடர்தல்

18. நிறைபோட்டிக் கைத்தொழிலில் இயங்கும் ஒரு நிறுவனம் மாத்திரம் தொழில்நுட்ப முன்னேற்றத்தை அனுபவிப்பதால் அந்நிறுவனத்தின் உற்பத்திச் செலவு குறைவடையுமாயின், பின்வருவனவற்றுள் எது நிறுவனத்தின் விலை, வெளியீடு, இலாபம் என்பவற்றின் மீதான விளைவுகளைச் சரியாக விபரிக்கிறது?

	விலை	வெளியீடு	இலாபம்
(1)	குறையும்	குறையும்	குறையும்
(2)	குறையும்	அதிகரிக்கும்	அதிகரிக்கும்
(3)	மாற்றமில்லாதிருக்கும்	குறையும்	அதிகரிக்கும்
(4)	மாற்றமில்லாதிருக்கும்	அதிகரிக்கும்	அதிகரிக்கும்
(5)	அதிகரிக்கும்	அதிகரிக்கும்	அதிகரிக்கும்

19. வர்த்தகச் சகலோட்டத்தின் எந்தக் கட்டம் பெரும்பாலும் அதிகரித்துச் செல்லும் நேர்க்கணிய உற்பத்தி இடைவெளியைக் கொண்டிருக்கும்?

- (1) செழிப்பு / பூரிப்பு (2) பின்னடைவு (3) விரிவாக்கம்  
 (4) அதிதாழ்ந்த புள்ளி (5) சுருக்கம்

20. பின்வருவனவற்றுள் அடிப்படை விலைகளிலான மொத்த பெறுமதிச் சேர்க்கையில் (GVA) உள்ளடக்கப்பட்டிருக்கும் கூறு எது?

- (1) இடைநிலை நுகர்வு  
 (2) கையிருப்புத் தொகை மாற்றம்  
 (3) பெறுமதி வாய்ந்த ஆதனங்களைக் கையகப்படுத்துதல்  
 (4) உற்பத்திப் பொருள் மீதான வரிகளிலிருந்து மானியங்களைக் கழித்து வரும் பெறுமதி  
 (5) உற்பத்தியின் மீது விதிக்கப்பட்ட ஏனைய வரிகளிலிருந்து மானியங்களைக் கழித்து வரும் பெறுமதி

21. செலவீட்டு அணுகுமுறையில் ஒரு நாட்டின் மொத்த உற்பத்தியைக் கணிப்பிடும்போது பின்வரும் வீட்டுத்துறைக் கொள்வனவுகளில் எது மொத்த தனியார் முதலீட்டின் ஒரு கூறாகக் கணிப்பிடப்படும்?

- (1) இறைமை முறிகள்  
 (2) கம்பனிப் பங்குகள்  
 (3) முதலீட்டு வங்கியொன்றினால் விநியோகிக்கப்பட்ட கடன் பத்திரங்கள்  
 (4) தனிப்பட்ட பயன்பாட்டிற்கான புதிய மோட்டார் வாகனம்  
 (5) புதிதாக நிர்மாணிக்கப்பட்ட ஒரு வீடு

22. பின்வருவனவற்றுள் சொத்து வருவாயாகக் கருதப்படுவது எது?

- (1) கூலிகளும் சம்பளங்களும்
- (2) வட்டி
- (3) ஊழியர் சேமலாபநிதிக்கான தொழில் வழங்குநரின் பங்களிப்பு
- (4) ஆயுள் காப்புறுதி தவிர்ந்த காப்புறுதிக் கோரிக்கைகள்
- (5) மானியங்கள்

23. ஒரு பொருளாதாரத்தில் தன்னிச்சையான நுகர்வு ரூபா 600 மில்லியன் எனவும் அதன் எல்லைச் சேமிப்பு நாட்டம் 0.2 எனவும் கருதுக. இப்பொருளாதாரத்தில் செலவிடத்தக்க மொத்த தேசிய வருமானம் ரூபா 1000 மில்லியனால் அதிகரிக்குமாயின், நுகர்வுச் செலவிட்டு அதிகரிப்பின் அளவு

- (1) ரூபா 200 மில்லியன்
- (2) ரூபா 600 மில்லியன்
- (3) ரூபா 800 மில்லியன்
- (4) ரூபா 1 400 மில்லியன்
- (5) ரூபா 1 600 மில்லியன்

24. பின்வரும் அட்டவணை கருதுகோள் ரீதியான ஒரு பொருளாதாரத்தில் நுகர்வு (C), செலவிடத்தக்க மொத்த தேசிய வருமானம் ( $Y_D$ ) என்பன பற்றிய தேசியக் கணக்கீட்டுத் தரவுகளைக் காட்டுகிறது.

வருடம்	நுகர்வு (மில்லியன் ரூபா)	செலவிடத்தக்க மொத்த தேசிய வருமானம் (மில்லியன் ரூபா)
1	800	1 000
2	960	1 200

முன்றாவது வருடத்தில் தேசிய ஏற்றுமதிகளில் ஏற்பட்ட ஓர் அதிகரிப்பு தேசிய பொருளாதாரத்தை ரூபா 300 மில்லியனால் விரிவடையச் செய்தது. ஏனையன மாறாத நிலையில் தேசிய ஏற்றுமதிகளில் ஏற்பட்ட அதிகரிப்பு யாது?

- (1) ரூபா 300 மில்லியன்
- (2) ரூபா 160 மில்லியன்
- (3) ரூபா 100 மில்லியன்
- (4) ரூபா 80 மில்லியன்
- (5) ரூபா 60 மில்லியன்

25. குறுங்கால மொத்த நிரம்பல் வளையியானது,

- (1) வலப்புறமாகக் கீழ்நோக்கிச் சரிந்து செல்லும்.
- (2) வலப்புறமாக மேல்நோக்கிச் சரிந்து செல்லும்.
- (3) கிடையச்சுக்குச் சமாந்தரமாகச் செல்லும்.
- (4) குத்தச்சுக்குச் சமாந்தரமாகச் செல்லும்.
- (5) நிறைதொழில் மட்டத்திற்குக் கீழுள்ள வெளியீட்டு மட்டங்களில் சரிவு கூடியதாக இருக்கும்.

26. பின்வருவனவற்றுள் பொருளாதாரமொன்றின் பணநிரம்பலை வீழ்ச்சியடையச் செய்வதில் செல்வாக்குச் செலுத்தும் காரணி எது?

- (1) வருமானவரி வீதங்களில் ஏற்படும் ஒரு வீழ்ச்சி
- (2) கழிவீட்டு வீதத்தில் ஏற்படும் ஒரு வீழ்ச்சி
- (3) மத்திய வங்கியினால் திறந்த சந்தையில் அரசாங்க முறிகள் கொள்வனவு செய்யப்படல்
- (4) நியதி ஒதுக்குத் தேவையில் ஏற்படும் ஓர் அதிகரிப்பு
- (5) பொருள்கள் சேவைகள் மீதான அரசாங்கச் செலவீட்டில் ஏற்படும் ஓர் அதிகரிப்பு

27. பொருளாதாரமொன்று நிறைதொழில் மட்டத்தில் உள்ளபோது குறுங்காலத்தில் பின்வருவனவற்றுள் எது பெரும்பாலும் கேள்வித்தாண்டல் பணவீக்கத்தை உருவாக்கும்?

- (1) கொள்கை வட்டிவீதங்களில் ஏற்படும் ஓர் அதிகரிப்பு
- (2) தனிநபர் வருமானவரிகளில் ஏற்படும் ஓர் அதிகரிப்பு
- (3) மெய்வட்டி வீதத்தில் ஏற்படும் ஒரு வீழ்ச்சி
- (4) அரசாங்க செலவீட்டில் ஏற்படும் ஒரு வீழ்ச்சி
- (5) பண நிரம்பலில் ஏற்படும் ஒரு வீழ்ச்சி

28. எல்லா வங்கிகளும் சட்டத்தினால் தேவைப்படுத்தப்பட்ட குறைந்தபட்ச ஒதுக்குகளை மாத்திரம் பேணுவதாகவும், வங்கித்துறையிலிருந்து பண வெளிப்பாய்ச்சல்கள் எதுவும் இடம்பெறவில்லை எனவும் கருதுக. சட்டரீதியான ஒதுக்குத் தேவை 10% ஆகும். வாடிக்கையாளர் ஒருவர் தனது நடைமுறைக் கணக்கில் ரூபா 1 000 ஐ வைப்புச் செய்வாராயின், மொத்த பணநிரம்பலில் ஏற்படக்கூடிய மிகக்கூடிய அதிகரிப்பு யாது?

- (1) ரூபா 100
- (2) ரூபா 1 000
- (3) ரூபா 9 000
- (4) ரூபா 10 000
- (5) ரூபா 11 000

29. அரசாங்கம் ஏககாலத்தில் விரிவாக்கப் பணக்கொள்கையையும் விரிவாக்க அரச இறைக் கொள்கையையும் கையாளுமாயின், வட்டிவீதம், வேலையின்மை என்பவற்றில் எவ்வாறான தாக்கம் ஏற்படும்?

	வட்டி வீதம்	வேலையின்மை
(1)	அதிகரிப்பு	நிரணயிக்க முடியாது
(2)	அதிகரிப்பு	வீழ்ச்சி
(3)	வீழ்ச்சி	நிரணயிக்க முடியாது
(4)	நிரணயிக்க முடியாது	வீழ்ச்சி
(5)	நிரணயிக்க முடியாது	அதிகரிப்பு

30. ஒரு வணிக வங்கியில் மேற்கொள்ளப்படும் ரூபா 300 மில்லியன் வைப்பானது பணநிரம்பலில் ரூபா 3000 மில்லியன் அதிகரிப்புக்கு இட்டுச் செல்லுமாயின், இருந்திருக்க வேண்டிய ஒதுக்கு வீதம்

- (1) 0.10% (2) 0.12% (3) 10% (4) 12% (5) 100%

31. ஒரு பொருளை உற்பத்தி செய்யும்போது எதிர்க்கணிய வெளிவாரி காணப்படுமாயின், சமூகரீதியில் உத்தம வெளியீட்டினளவினை அடையக்கூடியது,

- (1) தாராள சந்தைச் சமநிலையின் மூலமாகும்.  
 (2) வெளியீட்டின் உற்பத்திக்கு மானியம் வழங்குவதன் மூலமாகும்.  
 (3) உற்பத்தி செய்யப்படும் பொருள் தொகையைக் கட்டுப்படுத்துவதன் மூலமாகும்.  
 (4) அரசாங்கம் அப்பொருளைக் கொள்வனவு செய்வதன் மூலமாகும்.  
 (5) உற்பத்தி செய்யத்தக்க குறைந்தபட்ச தொகையினை நிரணயிப்பதன் மூலமாகும்.

32. ஒரு தூய பொதுப் பொருளை மேலதிகமாக ஒருவரைப் பயன்படுத்த அனுமதிப்பதன் எல்லைச் செலவு,  
 (1) நேர்க்கணியம் ஆகும். (2) எதிர்க்கணியம் ஆகும். (3) பூச்சியம் ஆகும்.

- (4) முடிவிலி ஆகும். (5) நுகர்வு அதிகரிப்போடு அதிகரிக்கும்.

33. மேன்மைப் பொருள் என்பது,

- (1) பெற்றுக்கொள்வோனுக்கும் சமூகத்திற்கும் நன்மை பயக்கும் பொருளாகும்.  
 (2) உற்பத்தியில் சமூகச் செலவைக் கொண்டிராத பொருளாகும்.  
 (3) நுகர்வதன் தனியார் நன்மை அதன் சமூக நன்மையை விட உயர்வாக இருக்கும் பொருளாகும்.  
 (4) சந்தைச் சக்திகளுடாக வழங்கப்பட முடியாத பொருளாகும்.  
 (5) சந்தைச் சக்திகளுடாக வினைத்திறனுள்ள வகையில் வழங்கப்படக்கூடிய பொருளாகும்.

34. அரசாங்க வரவுசெலவுத்திட்டத்தில் 'ஆரம்ப கணக்கு நிலுவை' என்பதன் மூலம் வரையறுக்கப்படுவது,

- (1) வரி வருவாய்களுக்கும் மூலதனச் செலவீடுகளுக்கும் இடையிலான வித்தியாசமாகும்.  
 (2) கொடைகள் உள்ளடங்கலான மொத்த வருவாய்களுக்கும் கடன்கள் மீதான வட்டிச் செலுத்தல்கள் நீங்கலான மொத்தச் செலவீட்டிற்கும் இடையிலான வித்தியாசமாகும்.  
 (3) மொத்த வருவாய்களுக்கும் கடன் மீளச் செலுத்தல்கள் உள்ளடங்கலான மொத்த செலவீட்டிற்கும் இடையிலான வித்தியாசமாகும்.  
 (4) வரிவருவாய்களுக்கும் மீளெழும் செலவீடுகளுக்கும் இடையிலான வித்தியாசமாகும்.  
 (5) மொத்த வருவாய்களுக்கும் மீளெழும் செலவீடுகளுக்கும் இடையிலான வித்தியாசமாகும்.

35. தற்போது இலங்கை அரசாங்கத்தின் மீளெழும் செலவீடுகளின் மிகப் பெரிய கூறாக அமைவது

- (1) வட்டிச் செலுத்தல்களாகும். (2) சம்பளங்களும் கூலிகளுமாகும்.  
 (3) ஓய்வூதியச் செலுத்தல்களாகும். (4) உர மானியமாகும்.  
 (5) அரச கூட்டுத்தாபனங்களுக்கான நடைமுறை மாற்றல்களாகும்.

36. 'ஒப்பீட்டு நன்மை' என்பது, ஒரு நாடு குறித்த ஒரு பொருளை,

- (1) மற்றைய நாட்டை விட அதிகளவில் உற்பத்தி செய்ய முடியும் என்பதாகும்.  
 (2) மற்றைய நாட்டை விடக் குறைந்த எல்லைச் செலவில் உற்பத்தி செய்ய முடியும் என்பதாகும்.  
 (3) மற்றைய நாட்டை விடக் குறைந்த நீண்டகால சராசரி மொத்தச் செலவில் உற்பத்தி செய்ய முடியும் என்பதாகும்.  
 (4) மற்றைய நாட்டை விடக் குறைந்த அமையச் செலவில் உற்பத்தி செய்ய முடியும் என்பதாகும்.  
 (5) இன்னொரு பொருளை விட அதிகளவில் உற்பத்தி செய்ய முடியும் என்பதாகும்.



37. பின்வரும் அட்டவணை X, Y ஆகிய நாடுகள் அரிசி, கோப்பி ஆகியவற்றின் உற்பத்தியில் தம்மிடமுள்ள எல்லா வளங்களையும் பயன்படுத்தும் போது அவற்றில் ஒவ்வொன்றையும் உற்பத்தி செய்யக்கூடிய ஆற்றலைக் காட்டுகிறது.

நாடு	அரிசி வெளியீட்டின் உச்ச அளவு (அலகுகள்)	கோப்பி வெளியீட்டின் உச்ச அளவு (அலகுகள்)
X	5 000	5 000
Y	10 000	5 000

இரு நாடுகள் தொடர்பிலும் செலவு நன்மையினைக் குறிக்கும் சரியான கூற்று யாது?

- (1) X நாடு அரிசி உற்பத்தியில் ஒப்பீட்டு நன்மையைக் கொண்டுள்ளது.
- (2) X நாடு கோப்பி உற்பத்தியில் ஒப்பீட்டு நன்மையைக் கொண்டுள்ளது.
- (3) X நாடு கோப்பி உற்பத்தியில் முழு நன்மையைக் கொண்டுள்ளது.
- (4) Y நாடு கோப்பி உற்பத்தியில் முழு நன்மையைக் கொண்டுள்ளது.
- (5) Y நாடு கோப்பி உற்பத்தியில் ஒப்பீட்டு நன்மையைக் கொண்டுள்ளது.

38. ஒரு நாட்டின் பண்ட வர்த்தக மாற்று வீதத்தைக் கணிப்பிடப் பயன்படுத்தப்படும் சூத்திரம் யாது?

- (1) (ஏற்றுமதி விலைச்சுட்டெண் - இறக்குமதி விலைச்சுட்டெண்)  $\times$  100
- (2) (இறக்குமதி விலைச்சுட்டெண் - ஏற்றுமதி விலைச்சுட்டெண்)  $\times$  100
- (3)  $\frac{\text{ஏற்றுமதி விலைச்சுட்டெண்}}{\text{இறக்குமதி விலைச்சுட்டெண்}} \times 100$
- (4)  $\frac{\text{இறக்குமதி விலைச்சுட்டெண்}}{\text{ஏற்றுமதி விலைச்சுட்டெண்}} \times 100$
- (5)  $\frac{\text{ஏற்றுமதிப் பருமன் சுட்டெண்}}{\text{இறக்குமதி விலைச் சுட்டெண்}} \times 100$

39. பின்வருவனவற்றுள் ஒரு நாட்டின் சென்மதி நிலுவையின் நடைமுறைக் கணக்கில் உள்ளடக்கப்படாத விடயம் எது?

- (1) கற்பலனாகா ஏற்றுமதிகள்
- (2) வெளிநாட்டுக் கடன்கள் மீதான வட்டிச் செலுத்தல்கள்
- (3) வெளிநாட்டு முதலீடுகளிலிருந்து பெறப்பட்ட இலாபங்கள்
- (4) வெளிநாட்டு முறிகளைக் கொள்வனவு செய்தல்
- (5) ஐக்கிய நாடுகள் சபையினால் வழங்கப்பட்ட உணவு உதவி

40. பின்வரும் எந்தநிலைமையின் கீழ் ஒரு நாடு சர்வதேச நாணய நிதியத்திடமிருந்து (IMF) உதவிகளைக் கோரலாம்?

- (1) வர்த்தக முரண்பாடு
- (2) சென்மதி நிலுவைப் பிரச்சினை
- (3) வெளிநாட்டு முதலீட்டு முரண்பாடு
- (4) உட்கட்டுமான நிதிப் பற்றாக்குறை
- (5) பொருளாதாரப் பின்னடைவு

41. பின்வரும் எச்சந்தர்ப்பங்களின் கீழ் நாணயமொன்றின் பெறுமதி இறக்கம், சென்மதி நிலுவையின் நடைமுறைக் கணக்குப் பற்றாக்குறையினைக் குறைவடையச் செய்யும்?

	ஏற்றுமதிகளின் விலைக்கேள்வி நெகிழ்ச்சி	இறக்குமதிகளின் விலைக்கேள்வி நெகிழ்ச்சி
(1)	0.6	0.1
(2)	0.1	0.4
(3)	0.5	0.5
(4)	0.7	0.2
(5)	0.8	1.6

42. தற்போது சிறப்பு எடுப்பனவு உரிமையின் (SDR) அலகொன்றின் பெறுமதி ஐந்து பிரதான நாணயங்களின் நிறையிடப்பட்ட பெறுமதியினை உள்ளடக்குகிறது. அவையாவன,

- (1) ஐக்கிய அமெரிக்க டொலர், பிரித்தானிய பவுன், ஜப்பானின் யென், யூரோ, சுவிஸ் பிராங்
- (2) ஐக்கிய அமெரிக்க டொலர், சுவிஸ் பிராங், சீனாவின் யுவான், யூரோ, அவுஸ்திரேலிய டொலர்
- (3) ஐக்கிய அமெரிக்க டொலர், கனேடிய டொலர், ரஷ்யாவின் ரூபிள், யூரோ, சீனாவின் யுவான்
- (4) ஐக்கிய அமெரிக்க டொலர், பிரித்தானிய பவுன், ஜப்பானின் யென், அவுஸ்திரேலிய டொலர், யூரோ
- (5) ஐக்கிய அமெரிக்க டொலர், பிரித்தானிய பவுன், ஜப்பானின் யென், யூரோ, சீனாவின் யுவான்

43. 2030 பேண்தகு அபிவிருத்தி நிகழ்ச்சிநிரலின்படி எல்லா நாடுகளாலும் ஏற்றுக்கொள்ளப்பட்டுள்ள பேண்தகு அபிவிருத்திக் குறிக்கோள்கள் எத்தனை?

- (1) 8
- (2) 11
- (3) 14
- (4) 17
- (5) 19

44. 2016 இன் வீட்டுத்துறை வருமானம் மற்றும் செலவீட்டு ஆய்வு முடிவுகளின்படி இலங்கையின் நகர்ப்புற, கிராமியத் துறைகளுக்கான தலைக்குரிய வறுமைக் குறிகாட்டிகள் முறையே,  
 (1) 4.1%, 8.8% ஆகும். (2) 2.0%, 4.0% ஆகும். (3) 1.9%, 4.3% ஆகும்.  
 (4) 1.7%, 3.3% ஆகும். (5) 0.9%, 3.4% ஆகும்.
45. மனித அபிவிருத்திச் சுட்டெண்ணின் கூறுகளில் ஒன்று,  
 (1) கீழ் உழைப்பில் உள்ள சனத்தொகையின் சதவீதம்  
 (2) நாளாந்த சராசரி புரத உட்கொள்ளல்  
 (3) பிறப்பின் போது ஆயுள் எதிர்பார்க்கை  
 (4) சனத்தொகையில் 1 000 பேருக்கான வைத்தியர்களின் எண்ணிக்கை  
 (5) வளர்ந்தோர் எழுத்தறிவு வீதம்
46. பொருளாதார அபிவிருத்தி என்பது குறித்து நிற்பது,  
 (1) பொருளாதார வளர்ச்சியையாகும்.  
 (2) பொருளாதார வளர்ச்சியுடன் வெளியீட்டின் பங்கீட்டிலும் பொருளாதாரக் கட்டமைப்பிலும் ஏற்படும் மாற்றங்களையாகும்.  
 (3) நகர்ப்புற சனத்தொகையின் வாழ்க்கைத்தரத்தில் ஏற்படும் முன்னேற்றத்தையாகும்.  
 (4) மொத்த தேசிய வருமானத்தில் ஏற்படும் பேண்தகு அதிகரிப்பையாகும்.  
 (5) சனத்தொகையினர் மத்தியில் வருமான சமமின்மையை நீக்குவதையாகும்.
47. பின்வருவனவற்றுள் எந்த பொருளாதாரப் பிரச்சினையை அளவிடுவதற்கு லோரன்ஸ் வளையி பயன்படுத்தப்படலாம்?  
 (1) சந்தைகளின் வள ஒதுக்கீட்டு, உற்பத்தி வினைத்திறன்  
 (2) வர்த்தகப் பங்காளிகளின் ஒப்பீட்டு நன்மையும் வர்த்தகமாற்று விகிதமும்  
 (3) நாடுகளின் வளர்ச்சியும் சிறக்குமியல்பின் மட்டமும்  
 (4) சந்தை விலைகளின் சமநிலை  
 (5) வருமானப் பங்கீட்டில் நிலவும் சமமற்ற தன்மையின் மட்டம்
48. பின்வரும் அட்டவணை கருதுகோள்ரீதியான பொருளாதாரமொன்று தொடர்பிலான தொழில் வாய்ப்புத் தரவுகளைக் காட்டுகிறது.

வருடம்	சனத்தொகை (மில்லியன்)	தொழில் புரியும் வயது சனத்தொகை (மில்லியன்)	தொழிலில் ஈடுபட்டுள்ளோர் எண்ணிக்கை (மில்லியன்)	தொழிலற்றிருப்போர் எண்ணிக்கை (மில்லியன்)
1	50	25	12	3
2	60	32	14	2
3	70	40	20	5
4	80	45	24	6
5	90	50	26	4

எந்த வருடத்தில் தொழிலின்மை வீதம் 20% ஆகவும் தொழிற்படையின் பங்குகொள்ளல் வீதம் 60% ஆகவும் இருக்கும்?

- (1) வருடம் 1 (2) வருடம் 2 (3) வருடம் 3 (4) வருடம் 4 (5) வருடம் 5

49. 1960 - 1977 காலப்பகுதியில் இலங்கையில் நடைமுறைப்படுத்தப்பட்ட பொருளாதார அபிவிருத்திக் கொள்கையை எவ்வாறு அழைக்கலாம்?  
 (1) வெளிநோக்கிய ஏற்றுமதி ஊக்குவிப்புக் கொள்கை  
 (2) உள்ளநோக்கிய இறக்குமதிப் பதிலீட்டுக் கொள்கை  
 (3) பின் தாராண்மைவாத பொருளாதாரக் கொள்கை  
 (4) திறந்த பொருளாதாரக் கொள்கை  
 (5) சந்தையை மையப்படுத்திய அபிவிருத்திக் கொள்கை
50. அண்மைய ஆண்டுகளில் இலங்கையின் அந்நியச் செலாவணி வருவாயில் அதிகளவு பங்களிப்புச் செய்துள்ள மூன்று துறைகளாவன,  
 (1) தேயிலை, புடைவைகளும் தைக்கப்பட்ட ஆடைகளும், சுற்றுலாத்துறை  
 (2) வெளிநாட்டு தொழிலாளர் பண அனுப்பல்கள், புடைவைகளும் தைக்கப்பட்ட ஆடைகளும், பெற்றோலிய உற்பத்திகள்  
 (3) வெளிநாட்டு தொழிலாளர் பண அனுப்பல்கள், புடைவைகளும் தைக்கப்பட்ட ஆடைகளும், இறப்பர் உற்பத்திகள்  
 (4) தேயிலை, புடைவைகளும் தைக்கப்பட்ட ஆடைகளும், பெற்றோலிய உற்பத்திகள்  
 (5) வெளிநாட்டு தொழிலாளர் பண அனுப்பல்கள், புடைவைகளும் தைக்கப்பட்ட ஆடைகளும், சுற்றுலாத்துறை



AL/2019/21/T-II(NEW)

සියලු ම හිමිකම් ඇවිරිණි/முழுப் பதிப்புரிமையுடையது/All Rights Reserved]

නව නිර්දේශය/புதிய பாடத்திட்டம்/New Syllabus

ශ්‍රී ලංකා විභාග දෙපාර්තමේන්තුව ශ්‍රී ලංකා විභාග දෙපාර්තමේන්තුව ශ්‍රී ලංකා විභාග දෙපාර්තමේන්තුව ශ්‍රී ලංකා විභාග දෙපාර්තමේන්තුව ශ්‍රී ලංකා විභාග දෙපාර්තමේන්තුව  
 இலங்கைப் பரீட்சைத் திணைக்களம் இலங்கைப் பரීட்சைத் திணைக்களம் இலங்கைப் பரීட்சைத் திணைக்களம் இலங்கைப் பரීட்சைத் திணைக்களம் இலங்கைப் பரීட்சைத் திணைக்களம்  
 Sri Lanka Department of Examinations, Sri Lanka Sri Lanka Department of Examinations, Sri Lanka Sri Lanka Department of Examinations, Sri Lanka Sri Lanka Department of Examinations, Sri Lanka  
 Department of Examinations, Sri Lanka

අධ්‍යයන පොදු භවික පත්‍ර (උසස් පෙළ) විභාගය, 2019 අගෝස්තු  
 கல்விப் பொதுத் தராதரப் பத்திர (உயர் தர)ப் பரீட்சை, 2019 ஓகஸ்த்  
 General Certificate of Education (Adv. Level) Examination, August 2019

ආර්ථික විද්‍යාව II  
 பொருளியல் II  
 Economics II

21 T II

06.08.2019 / 1300 - 1610

පැය තුනයි  
 மூன்று மணித்தியாலம்  
 Three hours

අමතර කියවීමේ කාලය - මිනිත්තු 10 යි  
 மேலதிக வாசிப்பு நேரம் - 10 நிமிடங்கள்  
 Additional Reading Time - 10 minutes

வினாப்பத்திரத்தை வாசித்து வினாக்களைத் தெரிவு செய்வதற்கும் விடை எழுதும்பொழுது முன்னுரிமை வழங்கும் வினாக்களை ஒழுங்கமைத்துக் கொள்வதற்கும் மேலதிக வாசிப்பு நேரத்தைப் பயன்படுத்துக.

அறிவுறுத்தல்கள் :

- \* உப பிரிவுகள் 'அ', 'ஆ' ஆகிய ஒவ்வொன்றிலும் இருந்து குறைந்தபட்சம் இரண்டு வினாக்களையேனும் தெரிவுசெய்து, எல்லாமாக ஐந்து வினாக்களுக்கு விடை எழுதுக.
- \* வரைபுத்தாள்கள் வழங்கப்படும்.

உப பிரிவு 'அ'

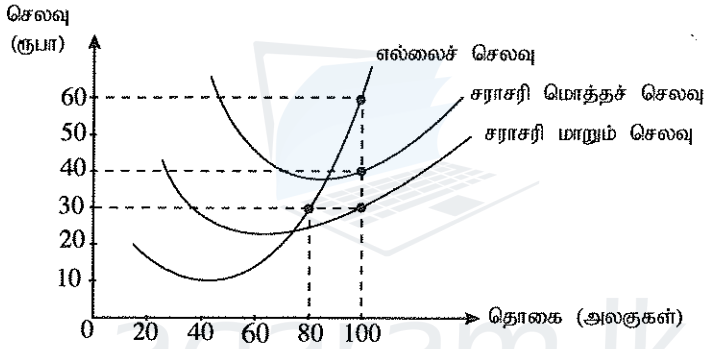
(இப் பிரிவிலிருந்து குறைந்தபட்சம் இரண்டு வினாக்களைத் தெரிவுசெய்க.)

1. (i) 'பொருளாதார வளங்கள்' என்பதனை வரைவிலக்கணப்படுத்தி, அவற்றை வகைப்படுத்திக் காட்டுக. (04 புள்ளிகள்)
- (ii) அருமையானது ஏன் விட்டுக்கொடுப்புகளுக்கு இட்டுச்செல்கிறது என விளக்குக. (04 புள்ளிகள்)
- (iii) உற்பத்தி இயல்தகவு வளையிகளின் மூலம், பின்வரும் எண்ணக்கருக்கள் எவ்வாறு வெளிப்படுத்தப்படுகின்றன?  
 (a) அருமைப் பிரச்சினை (b) அமையச் செலவு  
 (c) பொருளாதாரப் பின்னடைவு (d) பொருளாதார வளர்ச்சி (04 புள்ளிகள்)
- (iv) ஓர் உற்பத்தி இயல்தகவு வளையியின் மீது அமைந்துள்ள எல்லாப் பொருள் சேர்க்கைகளும் உற்பத்தி வினைத்திறனை எய்துமாயினும், அவற்றில் ஒரு சேர்க்கை மாதிரிமே ஒதுக்கீட்டு வினைத்திறனை எய்துவது ஏன் என விளக்குக. (04 புள்ளிகள்)
- (v) வள ஒதுக்கீடு தொடர்பாக எழும் பிரச்சினையைத் தீர்ப்பதில் சந்தைப் பொருளாதார முறைமை, கட்டளைப் பொருளாதார முறையையிலிருந்து எவ்வாறு வேறுபடுகிறது? (04 புள்ளிகள்)
2. (i) (a) ஒரு சாதாரண பொருளின் சந்தைக் கேள்வியில் செல்வாக்குச் செலுத்தும் காரணிகள் எவை? (02 புள்ளிகள்)
- (b) ஒரு சாதாரண பொருளின் விலை வீழ்ச்சியானது அப்பொருளின் கேள்வியை ஏன் அதிகரிப்பதில்லை என விளக்குக. (02 புள்ளிகள்)
- (ii) ஒரு பொருளின் விலை அதிகரிக்கும்போது அப்பொருளின் கேள்வித் தொகை வீழ்ச்சியடைவது ஏன் என விளக்குக. (04 புள்ளிகள்)
- (iii) குறித்த ஒரு பண்டத்தின் சந்தைக் கேள்வி, நிரம்பல் சமன்பாடுகள் கீழே தரப்பட்டுள்ளன.  
 கேள்விச் சமன்பாடு :  $Q_D = 60 - 3P$  நிரம்பல் சமன்பாடு :  $Q_S = -10 + 2P$   
 சந்தைச் சமநிலையின்போது பொருளாதார மிகையினைக் கணிப்பிடுக. (04 புள்ளிகள்)
- (iv) விலைசார் நிரம்பல் நெகிழ்ச்சியினைத் தீர்மானிக்கும் காரணிகளைச் சுருக்கமாக விபரிக்குக. (04 புள்ளிகள்)
- (v) குறித்தவொரு நுகர்வோனின் சராசரி மாதாந்த வருமானம் ரூபா 35 000 இலிருந்து ரூபா 45 000 ஆக அதிகரிப்பதாகவும், அம் மாதத்தில் நுகர்வோனால் நுகரப்பட்ட பாணியின் தொகை 30 இலிருந்து 20 ஆக வீழ்ச்சியடைவதாகவும் கருதுக. இந்த நுகர்வோனின் பாணிக்கான வருமானக் கேள்வி நெகிழ்ச்சி யாது? இந்நிலைமையின்கீழ் பாண் ஒரு சாதாரண பொருளா அல்லது இழிவுப் பொருளா? (04 புள்ளிகள்)

[பக் 2 ஐப் பார்க்க

3. (i) நிரம்பல் மாற்றத்தில் செல்வாக்குச் செலுத்தும் நான்கு பிரதான காரணிகளைக் குறிப்பிடுக. (04 புள்ளிகள்)
- (ii) சந்தையில் விவசாய விளைபயிர்கள் போன்ற முதன்நிலை உற்பத்திகளின் விலைகள் பெரும்பாலும் உறுதியற்ற தன்மையினைக் கொண்டிருப்பது ஏன் என விளக்குக. (04 புள்ளிகள்)
- (iii) விவசாயப் பண்டங்களின் விலைகளை உறுதிப்படுத்துவதற்காக அரசாங்கத்தினால் மேற்கொள்ளப்படத்தக்க நடவடிக்கைகள் யாவை? (04 புள்ளிகள்)
- (iv) குறித்தவொரு பொருளின் சந்தைக் கேள்வி, நிரம்பல் வளையிகளுக்குரிய சமன்பாடுகள் கீழே தரப்பட்டுள்ளன.
- கேள்விச் சமன்பாடு :  $Q_D = 200 - 2P$       நிரம்பல் சமன்பாடு :  $Q_S = -100 + 4P$
- (a) இப் பொருளின் உற்பத்தி மீது அரசாங்கம் ரூபா 6 அலகு வரியொன்றை விதிப்பதாகக் கருதுக. வரியின் பின்னர் பொருளுக்காக கொள்வனவாளர் செலுத்தும் விலை யாது? (04 புள்ளிகள்)
- (b) இவ்வரியின் மூலம் அரசாங்கம் எந்தளவு வரி வருவாயைச் சேகரித்துக் கொள்ளும்? (04 புள்ளிகள்)

4. (i) வெளிப்படையான (நேரடி) செலவுகளையும் உள்ளார்ந்த செலவுகளையும் வேறுபடுத்துக. பாடசாலைக்குச் செல்வதில் நீர் எதிர்கொண்ட சில வெளிப்படையான செலவுகளும் உள்ளார்ந்த செலவுகளும் எவை? (04 புள்ளிகள்)
- (ii) உற்பத்திச் செயன்முறையில் ஒரு நிறுவனத்தின் குறுங்காலம், நீண்டகாலத்திலிருந்து எதன் காரணமாக வேறுபடும்? (04 புள்ளிகள்)
- (iii) நிறைபோட்டியின் நான்கு அடிப்படை எடுகோள்களும் யாவை? (04 புள்ளிகள்)
- (iv) பின்வரும் வரைபடம் குறுங்காலத்தில் இயங்கி 100 அலகு சமநிலை வெளியீட்டினை மேற்கொள்ளும் ஒரு நிறைபோட்டி நிறுவனத்தினைப் பிரதிநிதித்துவப்படுத்துகிறது.



சமநிலை மட்ட வெளியீட்டின்போது பின்வருவனவற்றைக் கணிப்பிடுக.

- (a) நிறுவனம் பெற்றுக்கொள்ளும் மொத்த வருவாய் (02 புள்ளிகள்)
- (b) நிறுவனம் எதிர்நோக்கும் மொத்தச் செலவு (02 புள்ளிகள்)
- (c) நிறுவனத்தின் மொத்த நிலையான செலவு (02 புள்ளிகள்)
- (d) நிறுவனத்தின் மொத்த பொருளாதார இலாபம் அல்லது நட்டம் (02 புள்ளிகள்)
5. (i) அரசாங்க செலவீட்டில் உள்ளடக்கப்படும் பின்வரும் விடயங்களில் 'கூட்டுச் செலவுகள்' எவை?, 'தனிநபர் செலவுகள்' எவை?
- (a) உர மானியம் (b) மருத்துவ ஆராய்ச்சி
- (c) காவல்துறை மற்றும் தீயணைப்புப்படை (d) பாடசாலை மதிய உணவு (04 புள்ளிகள்)
- (ii) கருதுகோளீதியான பொருளாதாரம் ஒன்றின் பின்வரும் தரவுகள் உமக்குத் தரப்பட்டுள்ளன.

விடயம்	பெறுமதி (பில்லியன் ரூபா)
ஊழியர் சம்பள வருமானம்	2 500
மொத்த தொழிற்பாட்டு மிகை	6 000
நிலையான மூலதன நுகர்வு	700
உற்பத்தி மீதான வேறுவரிகள் கழி - மானியம்	50
உற்பத்திப் பொருள்கள் மீதான வரிகள்	1 200
உற்பத்திப் பொருள்களுக்கான மானியங்கள்	250
ஏனைய உலக நாடுகளிலிருந்தான தேறிய முதலிலை வருமானங்கள்	- 400
ஏனைய உலக நாடுகளிலிருந்தான தேறிய நடைமுறை மாற்றல்கள்	1 000

மேலுள்ள தரவுகளின் அடிப்படையில் பின்வருவனவற்றைக் கணிப்பீடுக.

- (a) அடிப்படை விலைகளில் மொத்த கூட்டப்பட்ட பெறுமதி (02 புள்ளிகள்)
- (b) மொத்த உள்நாட்டு உற்பத்தி (02 புள்ளிகள்)
- (c) தேறிய தேசிய வருமானம் (02 புள்ளிகள்)
- (d) செலவிடத்தக்க மொத்தத் தேசிய வருமானம் (02 புள்ளிகள்)
- (iii) 45° கோட்டு வரைபடமொன்றைப் பயன்படுத்தி பேரினப் பொருளாதாரச் சமநிலையைக் காட்டுக. உமது வரைபடத்தில் மொத்த செலவீட்டுச் சார்பு, தேசிய வருமான சமநிலை மட்டம் ஆகியவற்றைக் குறிப்பிடுக. (அச்சுக்கள் முறையாகப் பெயரிடப்படுவதில் கவனம் செலுத்துக.) (04 புள்ளிகள்)
- (iv) கருதுகோள்ரீதியான பொருளாதாரமொன்றின் எல்லை நுகர்வு நாட்டம் 0.9 ஆகவும், செலவிடத்தக்க மொத்த தேசிய வருமானம் பூச்சியமாக உள்ளபோது மொத்த நுகர்வு மட்டம் 100 ஆகக் காணப்படுவதாகவும் கருதுக. அத்தோடு முதலீடு (I) = 200 ஆகவும், அரசாங்கக் கொள்வனவுகள் (G) = 45 ஆகவும், தேறிய ஏற்றுமதிகள் (NX) = 0 ஆகவும், வரிகள் (T) = 50 ஆகவும் உள்ளதாகக் கொள்க. (எல்லா தரவுகளும் பில்லியன் ரூபாவிலாகும்.)
- (a) சமநிலை மட்ட மொத்த தேசிய வருமானத்தைக் (Y) காண்க. (02 புள்ளிகள்)
- (b) அரசாங்கக் கொள்வனவுகள் (G), வரிகள் (T) ஆகியன ரூபா 10 பில்லியனால் ஏககாலத்தில் அதிகரிக்குமாயின், சமநிலை மட்ட தேசிய வருமானத்தின் மீது அதன் விளைவு எவ்வாறாக இருக்கும்? (02 புள்ளிகள்)

### உப பிரிவு 'ஆ'

(இப் பிரிவிலிருந்து குறைந்தபட்சம் இரண்டு வினாக்களைத் தெரிவுசெய்க.)

6. (i) 'மொத்த உள்நாட்டு உற்பத்திச் சுருக்கி' என்றால் என்ன? மொத்த உள்நாட்டு உற்பத்திச் சுருக்கிக்கும் கொழும்பு நுகர்வோர் விலைச் சுட்டெண்ணுக்கும் இடையிலான பிரதான வேறுபாடுகள் யாவை? (04 புள்ளிகள்)
- (ii) வரைபடமொன்றைப் பயன்படுத்தி பணவீக்க இடைவெளி என்னும் எண்ணக்கருவை விளக்குக. (04 புள்ளிகள்)
- (iii) பரிமாற்ற நோக்கப் பணக் கேள்வியையும் உத்தேச நோக்கப் பணக் கேள்வியையும் வேறுபடுத்துக. (04 புள்ளிகள்)
- (iv) வங்கி வாடிக்கையாளரொருவர் ரூபா 10 000 இனை தனது நடைமுறைக் கணக்கில் புதிதாக வைப்பில் இடுவதாகவும் அவசியமான ஒதுக்குத் தேவை 0.25 ஆகவும் உள்ளதாகக் கருதுக.
- (a) இப்புதிய வைப்புக்கான ஒதுக்குத் தேவையின் அளவு யாது? (02 புள்ளிகள்)
- (b) இப்புதிய வைப்பின் அடிப்படையில் வங்கி வழங்கக்கூடிய அதிகூடிய கடன் தொகை யாது? (02 புள்ளிகள்)
- (v) இலங்கையில் நிதிமுறைமையின் உறுதிப்பாட்டைப் பேணுவதில் துணைநில் வீத செல்வழியின் (standing rate corridor) வகிபாகத்தை விளக்குக. (04 புள்ளிகள்)
7. (i) கலப்புப் பொருளாதார முறைமையில் அரசாங்கத்தின் நான்கு பிரதான பணிகளைக் குறிப்பிடுக. (04 புள்ளிகள்)
- (ii) சந்தைப் பொருளாதாரத்தில் வளங்களின் ஒதுக்கீட்டு வினைத்திறனை எய்துவதில் உள்ள தடைகள் யாவை? (04 புள்ளிகள்)
- (iii) தூய பொதுப் பொருள்கள், மேன்மைப் பொருள்கள், பொதுவளங்கள், இயற்கைத் தனியுரிமைகள் என்பவற்றை வரைவிலக்கணப்படுத்துக. (04 புள்ளிகள்)
- (iv) ஒரு நாட்டிற்கு வரிகள் ஏன் அவசியம் என்பதை விளக்கி, நல்ல வரியொன்றின் விரும்பத்தக்க பண்புகளைச் சுருக்கமாகக் குறிப்பிடுக. (04 புள்ளிகள்)
- (v) அரசாங்கத்தின் வரவுசெலவுத்திட்டத்தில் 'அடிப்படை நிலுவை' என்பதனால் கருதப்படுவது யாது? அடிப்படை நிலுவையில் மிகை நிலையை உருவாக்கிக் கொள்வது ஏன் முக்கியமானதாகக் கருதப்படுகிறது? (04 புள்ளிகள்)



8. (i) இலங்கையின் பிரதான ஏற்றுமதிகள் நான்கினையும் இறக்குமதிகள் நான்கினையும் குறிப்பிடுக. (04 புள்ளிகள்)
- (ii) 'போட்டி நன்மை' (competitive advantage) என்றால் என்ன? போட்டி நன்மையை உருவாக்கும் மூலாதாரங்கள் எவை? (04 புள்ளிகள்)
- (iii) கருதுகோள்ரீதியான பொருளாதாரமொன்றில் சென்மதி நிலுவைப் பரிமாற்றங்களின் சுருக்கம் பின்வரும் அட்டவணையில் தரப்பட்டுள்ளது. (எல்லா பெறுமானங்களும் பில்லியன் ரூபாவிலாகும்.)

விடயம்	பெறுமானம்	விடயம்	பெறுமானம்
பொருள்கள் ஏற்றுமதி	1 500	அரசாங்கத்தின் தேறிய மூலதன மாற்றல்கள்	120
பொருள்கள் இறக்குமதி	1 300	தனியார் தேறிய மூலதன மாற்றல்கள்	80
சேவைகள் ஏற்றுமதி	500	தேறிய நேரடி முதலீடுகள்	350
சேவைகள் இறக்குமதி	400	தேறிய பட்டியலிடப்பட்ட முதலீடுகள்	150
முதலீட்டு வருமானப் பெறுகைகள்	800	ஏனைய தேறிய முதலீடுகள்	120
முதலீட்டு வருமானச் செலுத்தல்கள்	600	ஒதுக்குச் சொத்துக்கள்	160
தேறிய நடைமுறை மாற்றல்கள்	100	பிழைகளும் விடுபாடுகளும்	20

மேலுள்ள தரவுகளைப் பயன்படுத்தி பின்வருவனவற்றைக் கணிப்பிடுக.

- (a) வர்த்தக நிலுவை (02 புள்ளிகள்)
- (b) நடைமுறைக் கணக்கு நிலுவை (02 புள்ளிகள்)
- (c) நிதிக்கணக்கு நிலுவை (02 புள்ளிகள்)
- (d) தேறிய ஏற்றுமதிகள் (02 புள்ளிகள்)
- (iv) 2018 இன் இறுதிப் பகுதியில் அமெரிக்க டொலருடன் ஒப்பிடும்போது இலங்கை ரூபாவின் பெறுமதி துரிதமாகத் தேய்வடைந்து சென்றமைக்கான காரணங்களை விளக்குக. (04 புள்ளிகள்)
9. (i) பொருளாதார வளர்ச்சியை, வாழ்க்கைத் தரத்தில் முன்னேற்றத்தை ஏற்படுத்தும் வகையில் மாற்றியமைப்பதற்கு அவசியமான நிபந்தனைகள் யாவை? (05 புள்ளிகள்)
- (ii) 'சமூக பாதுகாப்பு' என்பதனாற் கருதப்படுவதென்ன? இலங்கையின் சமூக பாதுகாப்பு நிகழ்ச்சித்திட்டத்தில் உள்ளடங்கியுள்ள மூன்று பிரதான கூறுகளைக் குறிப்பிடுக. (05 புள்ளிகள்)
- (iii) "ஜினி குணகமானது வருமான சமமின்மையை அளவிடும் உபயோகமுள்ள சுருக்கப் புள்ளிவிபரமாயினும், அதனால் லோரன்ஸ் வளையிகள் வழங்குவதுபோல அதிகளவு விபரமான தகவல்களை வழங்க முடியாதுள்ளது." விளக்குக. (05 புள்ளிகள்)
- (iv) இலங்கையின் தொழிற்படையில் ஆண்-பெண் பங்கு கொள்ளல் வீதத்தில் நிலவும் பாரிய இடைவெளிக்கான காரணங்கள் யாவை? (05 புள்ளிகள்)
10. (i) பொருளாதார வளர்ச்சி, அரசு கடனின் பேண்தகு தன்மை என்பவற்றை எய்துவது தொடர்பில் அண்மைய வருடங்களில் இலங்கையின் செயலாற்றத்தைச் சுருக்கமாக ஆராய்க. (05 புள்ளிகள்)
- (ii) இலங்கை உயர்மட்ட வருமான நாடு என்னும் அந்தஸ்தை நோக்கி முன்னேறுவதில் தடையாய் அமைந்துள்ள காரணிகள் யாவை? (05 புள்ளிகள்)
- (iii) 'காலநிலை மாற்றத்தினால் அதிக பாதிப்புக்குட்படக்கூடிய நாடுகள் பட்டியலில் இலங்கையும் உள்ளடக்கப்பட்டுள்ளது. காலநிலை மாற்றங்களினால் ஏற்படும் அனர்த்தங்கள் காரணமாக இலங்கையில் மொத்த உள்நாட்டு உற்பத்தி, அரசுநிதி என்பவற்றில் ஏற்படத்தக்க தாக்கங்களைச் சுருக்கமாக விபரிக்குக. (05 புள்ளிகள்)
- (iv) சீனா நடைமுறைப்படுத்தியுள்ள 'பட்டி மற்றும் பாதைத் திட்டத்தின்' (Belt and Road Initiative) பிரதான பண்புகளையும் அது இலங்கையின் மீது ஏற்படுத்துமென எதிர்பார்க்கப்படும் பொருளாதாரத் தாக்க விளைவுகளையும் சுருக்கமாக விளக்குக. (05 புள்ளிகள்)