



11. USB (அகிலத் தொடர்பாட்டை) துறையுடன் இணைக்கத்தக்க சாதனம் எது?
1. அச்சுப்பொறி 2. சாவிப்பலகை 3. சுட்டி 4. மேற்கூறிய யாவும் சரி

12. USB என்பதன் விரிவு யாது
1. Universal School Bus 2. Uniform Serial Bus
3. Uniform School Bus 4. Universal Serial Bus

13. உள்ளீட்டுச் சாதனமாகவும் வெளியீட்டுச் சாதனமாகவும் பயன்படுவது பின்வருவனவற்றுள் எது?
1. அச்சுப் பொறி 2. வருடி 3. சாவிப்பலகை 4. தொடு திரை

14.  அருகில் உள்ள படவுரு குறிப்பது
1. Wifi 2. Bluetooth 3. Infrared 4. Internet

15. கணினியை வலையமைப்பாக்குவதற்குப் பயன் படும் துறை எது?
1. RT- 11 2. RJ - 45 3. RT - 111 4. RTT -45

16.  விரிதாள் மென்பொருளில் கலத்தில் மையத்திற்கான நேர்ப்படுத்தலை குறிக்கும் எழுத்து எது?
A B C 1. A 2. B 3. C 4. மேற்கூறிய எதுவுமில்லை

17. விரிதாள் மென்பொருளில் சூத்திரத்தை ஆரம்பிப்பதற்கு முன்னர் இடப்படும் குறியீடு பின்வருவனவற்றுள் எது?
1. = 2. + 3. £ 4. *

18. விரிதாள் மென்பொருளில் கலவீச்சிலுள்ள பெறுமானங்களில் சிறிய பெறுமானத்தை கணிக்கப் பயன்படும் சார்பு எது?
1. Minimum 2. Less 3. Small 4. MIN

19. பின்வருவனவற்றுள் வலிதான கல முகவரி எது?
1. 5B 2. 5A5 3. AT 4. A10

20. விரிதாள் மென்பொருளை திறக்கும் போது உருவாகும் இயல்புநிலை (Default) கோப்பின் பெயர் என்ன?
1. Document1 2. Note1 3. Book1 4. Text1

(20*2=40)

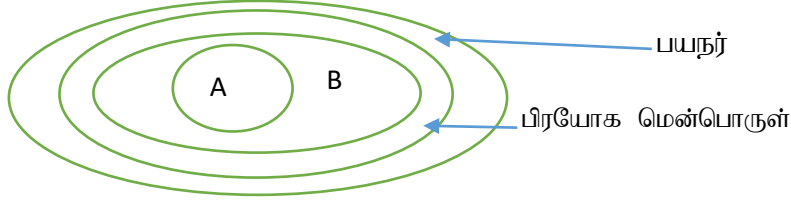
பகுதி II

எல்லா வினாக்களுக்கும் வினாக்களுக்கும் விடை தருக

Q1. 1. கணினியின் தேக்கச்சானங்கள் 2 தருக.

2. கணினி வலையமைப்பை முகாமிப்பதும் பராமரித்தலும் யாரால் மேற்கொள்ளப்படுகின்றது?

3



A,B ஆகியவற்றைப் பெயரிடுக

4. நிச்சயமான இடத்தில் வைத்ததுப் பயன்படுத்தும் கணினிகள் 2 தருக

5. கணினி தேவைப்படும் சந்தர்ப்பங்கள் 2 தருக?

(5 x 4=20)

Q2.

1 கணினித் திரையின் வகைகள் எவை?

2 HDMI port உடன் இணைக்கக்கூடிய சாதனங்கள் எவை?

3



படத்தில் A, B ஆகியவற்றின் தொழிற்பாடு என்ன?

A

B

4. விரிதாள் மென்பொருளில் பயன்படுத்தப்படும் வரைபு வகைக்கு உதாரணம் 2 தருக

(4 x 5 =20)

Q3.

MarkSheet 2018								
No	Name	Subject 1	Subject 2	Subject 3	Subject 4	Subject 5	Total	Average
1	Kasun	56	45	24	78	89	292	58.4
2	Seetha	ab	45	ab	98	87	230	76.667
3	Kanthi	ab	ab	78	59	87	224	74.667
4	Gayani	89	76	76	76	76	393	78.6
5	Deepal	78	77	67	96	ab	318	79.5
6	Naseem	67	ab	ab	56	69	192	64
7	Thanuka	56	45	24	78	89	292	58.4
8	Bimlaka	ab	67	23	56	ab	146	48.667
9	Thiwanga	54	65	78	65	ab	262	65.5
10	Pradeepa	56	45	24	78	ab	203	50.75
Maximum Marks		89	77	78	98	89		
Minimum Marks		54	45	23	56	69		
No of Present Students		7	8	8	10	6		
No of Students in class		10	10	10	10	10		

