

බස්නාහිර පළාත් අධ්‍යාපන දෙපාර්තමේන්තුව - කොළඹ අධ්‍යාපන කලාපය Western Provincial Education Department - Colombo Educational Zone බස්නාහිර පළාත් අධ්‍යාපන දෙපාර්තමේන්තුව - කොළඹ අධ්‍යාපන කලාපය Western Provincial Education Department - Colombo Educational Zone බස්නාහිර පළාත් අධ්‍යාපන දෙපාර්තමේන්තුව - කොළඹ අධ්‍යාපන කලාපය Western Provincial Education Department - Colombo Educational Zone	
විස්තෘත පළාත් අධ්‍යාපන දෙපාර්තමේන්තුව - කොළඹ අධ්‍යාපන කලාපය மேல் மாகாணக் கல்வித் திணைக்களம் - கொழும்பு கல்வி வலயம் Western Provincial Education Department - Colombo Educational Zone Western Provincial Education Department - Colombo Educational Zone	
දෙවන වාර අවමේස - 2018 இரண்டாம் தகவண மதிப்பீடு - 2018 Second Term Evaluation - 2018	
தரம்11	ஒரு மணித்தியாலம் One Hours
විභූ කලාව -I පවුය சித்திரம் வினாத்தாள்- I Art Paper - I	

பகுதி I

அ) இலக்கம் 1 தொடக்கம் 5 வரையான வினாக்களுக்கு கீழ்வரும் படத்தினை அவதானித்து விடையளிக்க



இங்கு காணப்படும் ஓவியம் 1).....  
 விகாரையில் காணப்படுகின்றது.இந்த ஓவியம்  
 2)..... சங்கீத இசைக்கருவிகளை  
 இசைப்பதைச் சித்தரிக்கின்றது. மேலைத்தேய பாணியில்  
 கண்டிய காலத்திற்குரிய 3).....  
 ஓவியப்பாணியிலும் வரையப்பட்டுள்ளது.. இந்த விகாரையில்  
 வரையப்பட்ட சித்திரத்தில் முகில் , நீர் என்பனவற்றை  
 காட்டுவதற்கு 5)..... இயல்பினைக் கூடிய சித்திரம்  
 வரையப்பட்டுள்ளது.

ஆ) இலக்கம் 6 தொடக்கம் 10 வரையான வினாக்களுக்கு சரியான விடையினை புள்ளிக்கோட்டில் எழுதுக.

6. பொலன்னறுவை சிவதேவாலயம் யாருடைய நினைவால் கட்டப்பட்டது?.....
7. கம்பளை யுகத்திற்குரிய கடலாதெனிய விகாரையில் காணப்படும் சிற்பம் எக்காலத்திற்குரியது?.....
8. கே.கனகசபாபதி என்பவரினால் படிக்கும் சிறுவன் எனும் ஓவியம் வரையப்பட்ட ஊடகம் யாது? .....
9. ஐந்து பெண்களைக் கொண்ட கலசத்தின் பெயர் எவ்வாறு அழைக்கப்படும்?.....
10. கல்விகாரையில் காணப்படும் வீராசான தியான முத்திரையுடன் கூடிய முத்திரை காணப்படும் குகை யாது?.....

இ) இலக்கம் 11 தொடக்கம் 15 வரையான வினாக்களுக்கு சரியான விடையைத் தெரிவு செய்து அதன்கீழ் கோடிடுக.



11. மட்பாண்டக்கூடம் எனும் சித்திரத்தை வரைந்தவர் யார்?  
 I. ஸ்ரான்லி அபயசிங்க. III. A.C.G.S. அமரசேகர  
 II. M. சார்லிஸ் IV. சோலியஸ் மென்
12. சந்திர வட்டக் கல்லில் காணப்படும் விலங்கு வரிசை தொடர்பாக செனரத் பரணவிதாரண கூறியுள்ள கருத்து.  
 I. முத்தி நிலை III. தியானம் செய்தல்  
 II. துக்கத்திலிருந்து விடுவித்தல் IV. ஜாதி ,வயோதிபம் ,வியாதி ,மரணம்



13. பொருள் கூடம் வரைதலில் இயற்கைத் தன்மைளை வெளிப்படுத்துவது  
 I. பொருளின் தன்மை III. முப்பரிமானம்  
 II. தூர தரிசனம் IV. ஒளிநிழல்
14. போஸ்டர் , லேபள் , புத்தக அட்டைக்கு நீர் வர்ணத்துடன் நீர் வர்ணத்துடன் வரைந்த ஒவியர்  
 I. சுமன திசாநாயக்க III. சிவசுப்ரமணியம்  
 II. ஒப்ரிகோட் IV. G.S பெர்ணாந்து
15. குஷன் கவர் அல்லது மேசை விரிப்பிற்குப் பொருத்தமான அலங்காரம்  
 I. கேத்திர கணித வடிவ அலங்காரம்  
 II. இயற்கை , செயற்கைப் பொருட்களைக் கொண்ட அலங்காரம்  
 III. இருபரிமாண வடிவத்தில் வரைதல்  
 IV. முழுத்தள அலங்காரம்



ஈ) இலக்கம் 21 தொடக்கம் 25 வரையான வினாக்களுக்கு தரப்பட்டுள்ள சொற்களின் பொருள் விளங்கும் வகையில் ஒவ்வொரு வாக்கியம் அமைக்குக.



16. கதைச்சித்திரம் :- .....
17. பிரஸ்கோபுவனோ :- .....
18. சக்கபோறுவ :- .....
19. தொடர்கதைச் சித்திரம் :- .....
20. பால் உலர் விடுதல் :- .....

உ ) இலக்கம் 21 தொடக்கம் 25 வரையான வினாக்களுக்கு பொருத்தமான உருவப்படத்தை A,B,C,D,E என்ற எழுத்துக்களைத் தெரிவு செய்து அடைப்புக்குள் இடுக.

(21)  ( ) A 

(22)  ( ) B 

(23)  ( ) C 

(24)  ( ) D 

(25)



E



எ) இல 26 தொடக்கம் 30 வரையான வினாக்களுக்கு சரியான விடையினை புள்ளிக்கோட்டில் எழுதுக.

26. கட்தூண்களின் மேல் கட்டப்பட்ட விகாரை..... ஆகும்.
27. குருநாகல் மாவட்டத்தில் காணப்படும் மர செதுக்கலிற்குப் பொருத்தமான இடம் யாது? .....
28. பாட்டுத் திறத்தாலே எனும் புத்தக அட்டைக்கு ஓவியம் வரைந்த ஓவியர் யார்? .....
29. A.மார்க் என்பவரால் வரையப்பட்ட சகுந்தலை ஓவியம் ..... ஊடகத்தாலானது.
30. பங்குலிய புத்தர் சிலை ..... முத்திரையில் காணப்படுகின்றது.

ஏ) இல 31 தொடக்கம் 35 வரையான வினாக்களுக்கு சரியான விடையினை புள்ளிக்கோட்டில் எழுதுக.




F




G



H



I



J

31. கம்பளைக் காலத்தில் மரச்செதுக்கல் வேலைக்குரிய கலைப்படைப்பாகும். (.....)
32. பொலன்னறுவைக் காலத்தில் காணப்படும் சித்திரம் (.....)
33. அனுராத புர காலத்தின் சிற்பம் (.....)
34. குருநாகல் ரிதி விகாரையில் காணப்படும் நிர்மாணிப்பு (.....)
35. நியந்த எனும் பாரம்பரிய கைத்தொழில் நிர்மாணிப்பு (.....)

ஏ) 36 தொடக்கம் 40 வரையான வினாக்களுக்கு கீழ்வரும் படத்தினை இனங்கண்டு வாக்கியம் அமைக்குக.



36. இனங்காண்க :- .....
37. காலம் :- .....
38. கலை மரபு :- .....
39. ஊடகம் :- .....
40. கலை நுட்பம் :- .....

ශ්‍රී ලංකාවේ පළාත් අධ්‍යාපන දෙපාර්තමේන්තුව - කොළඹ ප්‍රදේශීය අධ්‍යාපන දෙපාර්තමේන්තුව - කොළඹ ප්‍රදේශීය අධ්‍යාපන දෙපාර්තමේන්තුව - කොළඹ ප්‍රදේශීය අධ්‍යාපන දෙපාර්තමේන්තුව Western Provincial Education Department - Colombo Educational Zone Western Provincial Education Department - Colombo Educational Zone Western Provincial Education Department - Colombo Educational Zone Western Provincial Education Department - Colombo Educational Zone	
<b>බේකේර් පළාත් අධ්‍යාපන දෙපාර්තමේන්තුව - කොළඹ අධ්‍යාපන කලාපය</b> <b>මேல் මාකාணා කල්විත් තිணைக்கොට් - කොළඹ අධ්‍යාපන කලාපය</b> <b>Western Provincial Education Department - Colombo Educational Zone</b>	
දෙවන වාර්ෂික අගයනීම - 2018 இரண்டாம் தகவண மதிப்பீடு - 2018 Second Term Evaluation - 2018	
தரம் 11	சித்திரம் வினாத்தாள் - II
ஒரு மணித்தியாலம் <b>One Hours</b>	

**රෙකෙ වරෙතලුම වර්ණප්පඩවැකකමුම**

1. පරුමද්දත්තානෙප් ප්‍රයන්පදුත්ති පූර්වැනක පරුමපදි පදත්තෙ මුතලිල් වරෙක.
2. ත්ඊකල් කාණුම විතත්තිල් පොරුදකනෙ වරෙතලු වර්ණත් තීදුක.
3. (ඊතරුක තනකරුකු වෘදුකප්පද විශේද වෙළුනෙත්තානෙ ප්‍රයන්පදුත්තුක)
  - ❖ ඊරණදු වරෙතලකනෙදුම ඉනරුක ඊනෙත්තු මෙරුපාරවෙයාලරිදම ඉප්පදෙකුක.
  - ❖ උනකල් වරෙතලෙ මතිප්පිදුම පොතු පිනවරුම විද්‍ර්‍රකනකල් කරුත්තිල් කොළුප්පදුම ඉනපතෙ කවනත්තිල් කොළුප්පදුම.

**සුයාතීනරෙකෙක කරුරල**

1. පරුමද්දත් තාලිලුළුන පූර්වැනකප් පරුමපදිප් පදත්තිල් උරිඨඤදකත්තෙක කෙයාලුම තිරුන.

**තිරුත්තීදුතල්**

2. තලත්තිරු උකත්තක කලෙරුද්පත්තාදන් පොරුදකල් තොරුකප්පදිරුත්තල්.
3. අලවිදෙකල් තාරුතොකු මුප්පරිමාණ විනෙඨු පරුති විලකකම.
4. තරප්පදුළුන පොරුදකලින වෙලිත්තොරුරු පණ්පුකනෙ වෙලිකකාද්දල්.
5. වර්ණ ඤදකකලෙකල් කෙයාලුම තිරුන.
6. පොරුත්තමාන පිනනනිඨුම ඉදුරුමොත්ත තෙරුත්තිඨුම.

(30 පුළුලිකල්)



බස්නාහිර පළාත් අධ්‍යාපන දෙපාර්තමේන්තුව - කොළඹ ප්‍රදේශීය අධ්‍යාපන කලාපය බස්නාහිර පළාත් අධ්‍යාපන දෙපාර්තමේන්තුව - කොළඹ ප්‍රදේශීය අධ්‍යාපන කලාපය Western Provincial Education Department - Colombo Educational Zone Western Provincial Education Department - Colombo Educational Zone	
බස්නාහිර පළාත් අධ්‍යාපන දෙපාර්තමේන්තුව - කොළඹ ප්‍රදේශීය අධ්‍යාපන කලාපය Western Provincial Education Department - Colombo Educational Zone	
<b>මෙම මාකාණක කல்විத் திணைக்களம் - கொழும்பு கல்வி வலயம்</b> <b>Western Provincial Education Department - Colombo Educational Zone</b>	
දෙවන වාර් අගයීම இரண்டாம் தவணை மதிப்பீடு Second Term Evaluation	- 2018 - 2018 - 2018
தரம்11	ஒரு மணித்தியாலம் <b>One Hours</b>
சித்திரம் வினாத்தாள்- II	

**பொருள் பார்த்து வரைதலுக்கான பொருட்கூட்ட மாதிரி**



agaram.lk

