

**யாழ்ப்பாணம் வலயக்கல்வி அலுவலகம்**  
**அலகுப் பரீட்சை - 02**

தரம் - 10

விஞ்ஞானம்

நேரம் :- 40 நிமிடம்

**அலகு :- நேர்கோட்டு இயக்கம்**

❖ மிகப் பொருத்தமான விடையைத் தெரிவு செய்க.

01) ஒரு புள்ளியிலிருந்து இன்னுமொரு புள்ளிக்கு குறித்த திசையில் ஏற்படும் நிலைமாற்றம் எவ்வாறு அழைக்கப்படும்?

- (1) தூரம் (2) வேகம் (3) இடப்பெயர்ச்சி (4) கதி

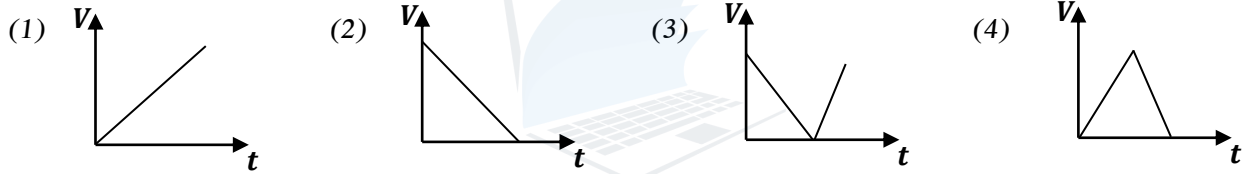
02) பின்வருவனவற்றுள் காவிக்கணியத்தை குறிக்கும் தொகுதி எது?

- (1) விசை, இடப்பெயர்ச்சி, கதி (2) விசை, இடப்பெயர்ச்சி, வேகம்  
(3) வேகம், ஆர்முடுகல், நேரம் (4) தூரம், கதி, திணிவு

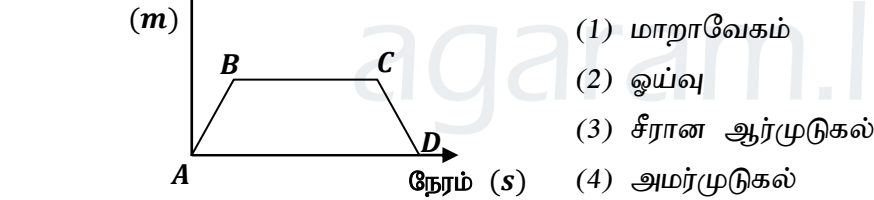
03) ஆர்முடுகலின் சர்வதேச அலகைக் சரியாகக் குறிப்பது

- (1)  $Ms^{-2}$  (2)  $ms^2$  (3)  $ms^{-1}$  (4)  $ms^{-2}$

04) நிலைக்குத்தாக மேல்நோக்கி எறியப்பட்ட பொருள் அதிஉயர் புள்ளியை அடையும் வரையிலான வேக - நேர வரைபை சரியாகக் குறிப்பது



05) இடப்பெயர்ச்சி காட்டப்பட்ட வரைபில் BC குறிப்பது



(5 × 2 = 10 புள்ளிகள்)

❖ சரியாயின் 'சரி' எனவும் பிழையாயின் 'பிழை' எனவும் எழுதுக.

01) மாறா வேகத்தில் இயங்கும் பொருள் ஒன்றின் பருமனும் திசையும் நேரத்துடன் மாற்றமடையாது. ( )

02) கதி ஓர் காவிக்கணியமாகும். ( )

03) அமர்முடுகலின் அலகு  $ms^{-1}$  ஆகும். ( )

04) வேகமாற்ற வீதம் என்பது ஆர்முடுகல் ஆகும். ( )

05) தூர - நேர வரைபின் படித்திறனிலிருந்து கதியை பெறமுடியும். ( )

(5 × 2 = 10 புள்ளிகள்)

**அமைப்புக் கட்டுரை**

01) மாணவன் ஒருவன் புள்ளி A யிலிருந்து வடக்கு நோக்கி 10 m தூரம் நடந்து புள்ளி B ஐ அடைகின்றான். பின்பு புள்ளி B யிலிருந்து கிழக்காக 8 m நடந்து புள்ளி C ஐ அடைகிறான். C இலிருந்து மீண்டும் தெற்கு நோக்கி 10 m நடந்து புள்ளி D ஐ அடைகிறான்.

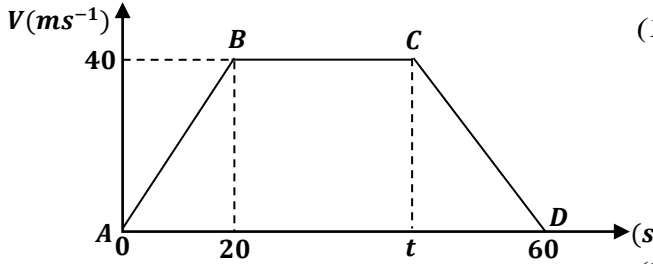
(1) பயணத்தைக் குறிக்கும் வரிப்படத்தை வரைக.

.....

(5 புள்ளி)

- (2) மாணவன் பயணித்த மொத்த தூரம் எவ்வளவு?  
..... (5 புள்ளி)
- (3) மாணவன் அடைந்த இடப்பெயர்ச்சியைக் காண்க.  
..... (5 புள்ளி)
- (4) புள்ளிகள் B, C இல் தாமதிக்காது A இலிருந்து D இற்கு பயணிக்க எடுத்த நேரம் 14 செக்கன் எனின் அவனின் கதியை  $m/s$  அலகில் கணிக்குக.  
..... (5 புள்ளி)
- (5) சமையுடன் செல்லும் வாகனம் ஒன்றில்  $30km/h$  என எழுதப்பட்டுள்ளது. இதன் விளக்கம் யாது? ..... (5 புள்ளி)

02) வாகனமொன்றின் இயக்கத்துக்கான வேக - நேர வரைபு கீழே காட்டப்பட்டுள்ளது.



- (1) பின்வரும் நேர ஆயிடைகளில் வாகனத்தின் இயக்கம் எவ்வாறானது?  
(a)  $(0 - 20)$  .....  
(b)  $(20 - t)$  .....  
(c)  $(t - 60)$  ..... (6 புள்ளி)
- (2) வாகனத்தின் ஆர்முடுகல் எவ்வளவு?  
..... (5 புள்ளி)

- (3) வாகனம் மாறா வேகத்தில் சென்ற தூரம்  $800 m$  ஆயின் மாறா வேகத்துடன் இயங்கிய நேரத்தைக் காண்க.  
..... (6 புள்ளி)
- (4) வாகனம் சென்ற மொத்தத் தூரம் எவ்வளவு?  
..... (6 புள்ளி)
- (5) வாகனத்தின் சராசரிக்கதி யாது?  
..... (6 புள்ளி)

03) (A) பொருளொன்று உயரமான இடத்திலிருந்து நிலத்தை அடைய 3 செக்கன் எடுத்தது.

- (a) அது நிலத்தை அடையும் போது அதன் வேகம் யாது?  
..... (6 புள்ளி)
- (b) அது விழுந்த உயரத்தைக் காண்க.  
..... (5 புள்ளி)

(B)  $40 ms^{-1}$  எனும் ஆரம்ப வேகத்துடன் பொருளொன்று நிலைக்குத்தாக மேல்நோக்கி எறியப்பட்டது. ( $g = 10 ms^{-2}$ )

- (a) பொருள் உச்ச உயரத்தை அடைய எடுக்கும் நேரத்தைக் காண்க.  
..... (5 புள்ளி)
- (b) பொருளின் உச்ச உயரத்தைக் காண்க.  
..... (5 புள்ளி)
- (c) பொருள் உச்ச உயரத்தை அடைந்து மீண்டும் ஆரம்ப இடத்தை அடையும் வரைக்குமான இயக்கத்திற்குரிய வேக - நேர வரைபை வரைக.  
..... (5 புள்ளி)