





4. மேலே தரப்பட்ட சம்பவத்தில் தொடர்பாடலுடன் தொடர்புபட்ட வகையில் அனுப்புபவர், செய்தி, ஊடகம், மற்றும் பெறுபவர் ஆகியவற்றைச் சரியான ஒழுங்குமுறையில் எடுத்துக்காட்டும் விடை;
- (1) சம்பவி → சம்பவி பல்கலைக்கழகத்திற்குத் → எழுத்து வடிவிலானது → பல்கலைக்கழக மானியங்கள் தெரிவுசெய்யப்பட்டுள்ளார் ஆணைக்குழு
- (2) சம்பவி → எழுத்து வடிவிலானது → சம்பவி பல்கலைக்கழகத்திற்குத் → பல்கலைக்கழக மானியங்கள் தெரிவுசெய்யப்பட்டுள்ளார் ஆணைக்குழு
- (3) பல்கலைக்கழக மானியங்கள் → சம்பவி பல்கலைக்கழகத்திற்குத் → எழுத்து வடிவிலானது → சம்பவி ஆணைக்குழு தெரிவுசெய்யப்பட்டுள்ளார்
- (4) பல்கலைக்கழக மானியங்கள் → எழுத்து வடிவிலானது → சம்பவி பல்கலைக்கழகத்திற்குத் → சம்பவி ஆணைக்குழு தெரிவுசெய்யப்பட்டுள்ளார்
5. மேலே தரப்பட்ட சம்பவத்தில் ரவீந்திரா கம்பனி தொடர்பில் சரியான கூற்று:
- (1) வணிகத்தின் பெயரைப் பதிவுசெய்வது கட்டாயமானதாகும்.
- (2) இவ்வணிகம் சட்ட ஆளுமையுடையதாகும்.
- (3) வணிக உடைமையாளரது நட்டப் பொறுப்பு வரையறுக்கப்பட்டதாகும்.
- (4) இவ்வணிகம் ஒரு பொதுத்துறை வணிகமாகும்.
6. விவசாயி ஒருவரால் வெற்றிகரமாக நாடாத்தப்படும் வணிகமொன்று தொடர்பில் வெள்ளத்தின் மூலம் ஏற்படக்கூடிய இழப்பைக் கொண்டிருக்கும் உற்பத்திக் காரணி
- (1) நிலம் (2) உழைப்பு (3) மூலதனம் (4) முயற்சி
7. இலங்கை ரூபாவின் பெறுமதி தொடர்பில் அமெரிக்க டொலரின் பெறுமதியானது அதிகரித்துச் செல்லுதலானது ஆடை ஏற்றுமதிக் கம்பனிக்கான ஒரு
- (1) புறச்சூழல் காரணியாகும். (2) பொருளாதரச் சூழல் காரணியாகும்.
- (3) சட்டச் சூழல் காரணியாகும். (4) தொழில்நுட்பச் சூழல் காரணியாகும்.
- பின்வரும் சம்பவத்தைப் பயன்படுத்தி 8,9 ஆகிய வினாக்களுக்கு விடை தருக.
- இலங்கை வங்கியில் நடைமுறைக் கணக்கொன்றைக் கொண்டிருக்கும் சுபாஸ் நிசா என்பவர் தனது வாடிக்கையாளரான தீபக் திவாகர் என்பவருக்கு ரூ.100 000 இற்கு காசோலை ஒன்றை வழங்கியிருந்தார். தீபக் திவாகர் அதனை வங்கிக் கருமபீடத்தில் சமர்பித்து பணமாக மாற்றிக்கொண்டார்.
8. காசோலை தொடர்பில் பணம் வழங்குபவரையும் (Drawee) பணம் பெறுபவரையும் (payee) முறையே எடுத்துக்காட்டும் விடை,
- (1) இலங்கை வங்கி, தீபக் திவாகர் (2) தீபக் திவாகர், இலங்கை வங்கி
- (3) இலங்கை வங்கி, சுபாஸ் நிசா (4) சுபாஸ் நிசா, தீபக் திவாகர்
9. மேலே தரப்பட்ட சம்பவத்தில் வழங்கப்பட்ட காசோலையானது,
- (1) பொதுமுறைக் குறுக்குக் கோடிடப்பட்டதாகும்.
- (2) சிறப்புமுறைக் குறுக்குக் கோடிடப்பட்டதாகும்.
- (3) குறுக்குக் கோடிடப்படாததாகும்.
- (4) வங்கி நடைமுறைக் கணக்கொன்றில் வைப்புச் செய்ய முடியாததாகும்.
10. காப்புறுதி சம்பந்தமாக முதலாம் தரப்பினர் .....<sup>①</sup> என அழைக்கப்படும் அதேவேளை இரண்டாம் தரப்பினர் .....<sup>②</sup> என அழைக்கப்படுவர்.
- மேலே தரப்பட்ட கூற்றில் முறையே ① மற்றும் ② ஆகியவற்றுக்கு வரவேண்டிய பொருத்தமான சொற்களை எடுத்துக்காட்டும் விடை:
- (1) காப்புறுதியளிப்போர், காப்புறுதி செய்வோர் (2) காப்புறுதி செய்வோர், காப்புறுதியளிப்போர்
- (3) காப்புறுதிக் கம்பனி, காப்புறுதி செய்வோர் (4) காப்புறுதியளிப்போர், காப்புறுதிக் கம்பனி
11. பின்வரும் உருவப்படங்களில் இலத்திரனியலல்லாத சைகைத் தொடர்பாடல் முறை:




(1)



(2)



(3)



(4)

12. போக்குவரத்து தொடர்பிலான பல்வேறு நிகழ்வுகள் மற்றும் போக்குவரத்து அடிப்படை மூலகங்கள் என்பன முறையே X மற்றும் Y ஆகிய நிரல்களில் தரப்பட்டுள்ளன.

X	Y
1. இலங்கைத் தீவு பூராகவும் 1990 அம்புலன்ஸ் சேவையானது விஸ்தரிக்கப்படல்	A - வழி
2. வடக்கு அதிவேகப் பாதையின் கட்டுமானப் பணிகள் ஆரம்பிக்கப்படல்	B - ஊடகம்
3. கொழும்பு கோட்டை மத்திய பேருந்து நிலையம் புதுப்பிக்கப்படல்	C - வலு
4. உலக சந்தையில் காணப்படும் சுத்திகரிக்கப்படாத எண்ணெய் விலையின் அடிப்படையில் எண்ணெய் விலையைச் சீராக்குதல்	D - தரிப்பிடம்

மேலே X நிரலில் தரப்பட்டுள்ள நிகழ்வுகளுடன் Y நிரலிலுள்ள போக்குவரத்து அடிப்படை மூலகங்கள் பொருந்தக்கூடியவாறு சரியான ஒழுங்குமுறையில் காணப்படும் விடை:

(1) A, B, D, C (2) B, A, C, D (3) B, A, D, C (4) B, C, A, D

● பின்வரும் சம்பவத்தைப் பயன்படுத்தி 13, 14 ஆகிய வினாக்களுக்கு விடை தருக.

வெளியீட்டாளர் ஒருவர் கொழும்பு சர்வதேச புத்தகக் கண்காட்சிச் சந்தையின் பிரதான நுழைவாயிலின் பின்புறமாக தனது கண்காட்சிக்கூடத்தை ஒதுக்கீடு செய்வதற்குத் தீர்மானித்திருந்ததுடன் அதற்காக ஊழியர் ஒருவரையும் ஆட்சேர்ப்புச் செய்தார்.

13. இச்சம்பவத்தில் காணப்படும் இரண்டு முகாமைத்துவக் கருமங்கள்

- (1) திட்டமிடல், நெறிப்படுத்தல் (2) திட்டமிடல், ஒழுங்கமைத்தல்  
(3) ஒழுங்கமைத்தல், கட்டுப்படுத்தல் (4) நெறிப்படுத்தல், ஒழுங்கமைத்தல்

14. இச்சம்பவத்தில் குறிப்பிடப்பட்ட சந்தைப்படுத்தல் கலவை மாறிகள் இரண்டுமாவன:

- (1) மேம்படுத்தல், உற்பத்திப்பொருள் (2) மேம்படுத்தல், இடம்  
(3) உற்பத்திப்பொருள், இடம் (4) உற்பத்திப்பொருள், விலை

15. திறைசேரி உண்டியல்கள் தொடர்பில் தவறான கூற்று

- (1) முதலிலை விநியோகத்தர்களிடமிருந்து முதலீட்டாளர் ஒருவர் திறைசேரி உண்டியல்களைக் கொள்வனவு செய்யமுடியும்.  
(2) திறைசேரி உண்டியல்கள், இடரில்லாத ஒரு முதலீடாகும்.  
(3) திறைசேரி உண்டியல்கள் அரசாங்கத்தின் நீண்டகால நிதித் தேவைப்பாடுகளை நிறைவேற்றுவதற்காகப் பயன்படுத்தப்படுகின்றன.  
(4) திறைசேரி உண்டியல்கள் முழுமையான அரசாங்கப் பாதுகாப்பைக் கொண்டவையாகும்.

16. முதலீட்டாளர் ஒருவர் திறைசேரி உண்டியல்களில் முதலீடு செய்வதிலும் பார்க்க சாதாரண பங்குகளில் முதலீடு செய்வதன் மூலம் உயர்வான திரும்பலை எதிர்பார்க்கின்றார். இதற்குக் காரணம்

- (1) சாதாரண பங்குகளுக்கான குறைவான இடர்  
(2) சாதாரண பங்குகளுக்கான உயர்வான இடர்  
(3) சாதாரண பங்குகளுக்கான உயர்வான வட்டி வருமானம்  
(4) சாதாரண பங்குகளுக்கான உயர்வான அரசாங்கப் பாதுகாப்பு

17. அடிப்படைக் கணக்கீட்டுச் சமன்பாட்டைச் சரியாக எடுத்துக்காட்டும் விடையைத் தெரிவுசெய்க.

- (1) சொத்துக்கள் + பொறுப்புக்கள் = உரிமையாண்மை  
(2) சொத்துக்கள் - பொறுப்புக்கள் = உரிமையாண்மை  
(3) சொத்துக்கள் + உரிமையாண்மை = பொறுப்புக்கள்  
(4) உரிமையாண்மை - பொறுப்புக்கள் = சொத்துக்கள்

18. வணிகம் ஒன்றில் ஊழியர்களுக்கான சம்பளம் ரூ. 8 000 ஐச் செலுத்துவதன் மூலம்,

- (1) சொத்துக்கள் ரூ. 8 000 ஆல் குறைவடைவதுடன் உரிமையாண்மை ரூ. 8 000 ஆல் குறைவடையும்.  
(2) சொத்துக்கள் ரூ. 8 000 ஆல் குறைவடைவதுடன் உரிமையாண்மை ரூ. 8 000 ஆல் அதிகரிக்கும்.  
(3) சொத்துக்கள் ரூ. 8 000 ஆல் அதிகரிப்பதுடன் பொறுப்புக்கள் ரூ. 8 000 ஆல் அதிகரிக்கும்.  
(4) உரிமையாண்மை ரூ. 8 000 ஆல் குறைவடைவதுடன் பொறுப்புக்கள் ரூ. 8 000 ஆல் அதிகரிக்கும்.

000095

Agaram.LK - Keep your dreams alive!

0304000180110095



19. கஜன் வணிகத்தின் உரிமையாண்மை 01.01.2018 இல் ரூ.150 000 ஆகக் காணப்பட்ட அதேவேளை, 31.01.2018இல் உரிமையாண்மை ரூ.170 000 ஆகக் காணப்பட்டது. இக்காலப்பகுதியில் ஒரு கொடுக்கல் வாங்கல் மட்டுமே இடம்பெற்றிருந்தால், அக்கொடுக்கல்வாங்கலானது,

(1) ஈடுபடுத்திய மூலதனம் ரூ.170 000

(2) உடைமையாளரால் அவரது தனிப்பட்ட பாவனைக்காக ரூ.20 000 பெறுமதியான பொருட்கள் பெற்றுக்கொள்ளப்பட்டமை

(3) ரூ.60 000 கிரயமான ஒரு தொகைப் பொருட்கள் ரூ.40 000 இற்குக் கடனிற்கு விற்கப்பட்டமை

(4) ரூ.40 000 கிரயமான ஒரு தொகைப் பொருட்கள் ரூ.60 000 இற்குக் காசுக்கு விற்கப்பட்டமை

20. வணிகமொன்றில் இடம்பெற்ற ஒரு கொடுக்கல்வாங்கலும் அதனைப் பதிவுதற்குப் பயன்படுத்தப்பட்ட பூரணமற்ற இரட்டைப்பதிவும் கீழே தரப்படுகின்றது.

• ரூ.25 000 மீதியாகக் காணப்பட்ட கடன்பட்டோர் ஒருவரிடமிருந்து ரூ.22 000 ஐ பெற்றுக்கொண்டதன் மூலம் கணக்குத் தீர்க்கப்பட்டது.

	ரூபா	
காசக் கணக்கு வரவு	22 000	
①	②	
-----	-----	
கணக்கு வரவு		③
-----		-----
கடன்பட்டோர் கணக்கு செலவு		-----

மேலே தரப்பட்ட ①, ②, ③ ஆகிய இடைவெளிகளில் இடம்பெறக்கூடிய சொல் மற்றும் தொகைகளைச் சரியான ஒழுங்குமுறையில் எடுத்துக்காட்டும் விடை:

(1) கொடுத்த கழிவு, ரூ.3 000, ரூ.25 000 (2) பெற்ற கழிவு, ரூ.3 000, ரூ.25 000

(3) கொடுத்த கழிவு, ரூ.3 000, ரூ.22 000 (4) பெற்ற கழிவு, ரூ.3 000, ரூ.22 000

21. பின்வருவனவற்றுள் இரட்டைப்பதிவுக் கோட்பாட்டுடன் சம்பந்தப்பட்ட வகையில் சரியான கூற்றைத் தெரிவுசெய்க.

இரட்டைப்பதிவுக் கோட்பாட்டின்படி,

(1) வரவு அதிகரித்தல், செலவு குறைவடைதல் பொறுப்புக் கணக்குகளுக்குப் பொருத்தமானதாகும்.

(2) வரவு அதிகரித்தல், செலவு குறைவடைதல் உரிமையாண்மைக் கணக்குகளுக்குப் பொருத்தமானதாகும்.

(3) செலவு அதிகரித்தல், வரவு குறைவடைதல் வருமானக் கணக்குகளுக்குப் பொருத்தமானதாகும்.

(4) செலவு அதிகரித்தல், வரவு குறைவடைதல் சொத்துக்கள் கணக்குகளுக்குப் பொருத்தமானதாகும்.

• பின்வரும் தகவல்களைப் பயன்படுத்தி 22, 23 ஆகிய வினாக்களுக்கு விடை தருக.

பின்வருவன பிரபு புத்தக வெளியீட்டாளர் நிறுவனத்தில் நிகழ்ந்த சில கொடுக்கல்வாங்கல்கள் ஆகும்.

A - ரூ.250 000 பெறுமதியான அச்ச இயந்திரம் கடனுக்குக் கொள்வனவு செய்யப்படல்

B - ரூ.50 000 பெறுமதியான அச்சிடும் தாள்கள் ரூபன் என்பவரிடமிருந்து கடனிற்குக் கொள்வனவு செய்யப்படல்

C - ரூ.100 000 பெறுமதியான தளபாடங்கள் மொறட்டுவ தளபாடங்கள் கம்பனியிடமிருந்து கடனிற்குக் கொள்வனவு செய்யப்படல்

D - ரூ.100 000 கிரயமான புத்தகங்கள் ரூ.160 000 இற்கு கடனுக்கு விற்கப்படல்

22. கொள்வனவு நாட்குறிப்பில் பதியப்பட்ட கொடுக்கல்வாங்கல்

(1) A

(2) B

(3) C

(4) D

23. மேலே தரப்பட்ட A, B, C ஆகிய கொடுக்கல்வாங்கல்களுக்குரிய மூல ஆவணங்களைச் சரியான ஒழுங்குமுறையில் எடுத்துக்காட்டும் விடை:

(1) நாட்குறிப்பு உறுதிச்சீட்டு (கச்சாத்து), விற்பனைப் பட்டியல், கொள்வனவுப் பட்டியல்

(2) நாட்குறிப்பு உறுதிச்சீட்டு, கொள்வனவுப் பட்டியல், விற்பனைப் பட்டியல்

(3) கொடுப்பனவு உறுதிச்சீட்டு, கொள்வனவுப் பட்டியல், விற்பனைப் பட்டியல்

(4) கொள்வனவுப் பட்டியல், நாட்குறிப்பு உறுதிச்சீட்டு, விற்பனைப் பட்டியல்

24. கபிலன் வணிகத்தின் 2018 ஒக்ரோபர் மாதத்திற்கான வங்கிக் கூற்றின் செலவு மீதி ரூ.12 000 ஆகும். இது

(1) வணிகத்தின் ஒரு சொத்தாகும்.

(2) வணிகத்தின் ஒரு பொறுப்பாகும்.

(3) வங்கியின் ஒரு சொத்தாகும்.

(4) வணிகத்தின் ஒரு வங்கி மேலதிகப்பற்றாகும்.



- பின்வரும் தகவல்களைப் பயன்படுத்தி 25, 26 ஆகிய வினாக்களுக்கு விடை தருக.
- 31.07.2018 இல் இருந்தவாறு சுந்தரம் வணிகத்தின் சில்லறைக் காசாளரிடம் இருந்த சில்லறைக் காசேட்டு மீதி ரூ. 2500 ஆகும்.
- பின்வருவன 2018 ஜூலை மாதத்திற்கான சில்லறைக் காசேட்டுப் பகுப்பாய்வு நிரல்களின் மீதிகள் ஆகும்.
- |                  |          |
|------------------|----------|
| காகிதாதிகள்      | ரூ. 2500 |
| பிரயாணச்செலவுகள் | ரூ. 1800 |
| உபசரணச் செலவுகள் | ரூ. 2000 |
| நானாவித செலவுகள் | ரூ. 1200 |
- 01.08.2018 இல் இருந்து சில்லறைக் காசேட்டிற்கான முற்பணப் பெறுமதியை ரூ. 15 000 வரை அதிகரிக்க சுந்தரம் தீர்மானித்தார்.
25. இவ்வணிகத்தின் 2018 ஜூலை மாதத்திற்கான சில்லறைக் காசேட்டின் செலவுகளின் பெறுமதி  
(1) ரூ. 2500 (2) ரூ. 7500 (3) ரூ. 10 000 (4) ரூ. 15 000
26. 01.08.2018 இல் இருந்தவாறான சில்லறைக் காசேட்டு மீள்நிரப்பும் தொகை  
(1) ரூ. 2500 (2) ரூ. 5 000 (3) ரூ. 12 500 (4) ரூ. 15 000
27. உடைமையாளரால் மேலதிகமாக இடப்பட்ட மூலதனம் ரூ. 5 000 ஐ பதிவு தொடர்பில் பயன்படுத்தப்பட்ட மூல ஆவணத்தையும் மூலப்பதிவேட்டையும் சரியான ஒழுங்குமுறையில் எடுத்துக்காட்டும் விடை:  
(1) காசேடு, பற்றுச்சீட்டு (2) பொது நாட்குறிப்பு, பற்றுச்சீட்டு  
(3) பற்றுச்சீட்டு, பொது நாட்குறிப்பு (4) பற்றுச்சீட்டு, காசேடு
28. வணிகமொன்றில் 31.03.2018 இல் இருந்தவாறு தயாரிக்கப்பட்ட பரிசை மீதியின் கூட்டுத்தொகை வரவு நிரல் ரூ. 800 000 ஆகவும், செலவு நிரல் ரூ. 825 000 ஆகவும் காணப்பட்டது. இவ்வித்தியாசத்திற்குக் காரணமான ஒரு கணக்கீட்டு வழி  
(1) கொடுத்த கழிவுக் கணக்கின் மொத்தம் ரூ. 25 000 ஆல் அதிகரித்தல்  
(2) விற்பனைக் கணக்கின் மொத்தம் ரூ. 25 000 ஆல் அதிகரித்தல்  
(3) கொள்வனவுக் கணக்கின் மொத்தம் ரூ. 25 000 ஆல் அதிகரித்தல்  
(4) பெற்ற கழிவுக் கணக்கின் மொத்தம் ரூ. 25 000 ஆல் குறைவடைதல்
29. வணிகமொன்றினால் குமணன் என்பவரிடமிருந்து கடனுக்குக் கொள்வனவு செய்யப்பட்ட சரக்குகள் ரூ. 45 000 ஆனது குமணனின் கணக்கில் ரூ. 54 000 எனப் பதியப்பட்டது. இவ்வழுவைத் திருத்துவதற்கான மூலப்பதிவேடு  
(1) பொது நாட்குறிப்பேடு (2) கொள்வனவு நாட்குறிப்பேடு  
(3) காசேடு (4) விற்பனை நாட்குறிப்பேடு
30. பின்வருவனவற்றுள் சேதுகாவலர் விளையாட்டுக் கழகத்தின் வருமானச் செலவுகள் கணக்கில் உள்ளடக்கப்படமாட்டாத கொடுக்கல்வாங்கல்  
(1) செய்திப் பத்திரிகைகளை விற்பனை செய்ததன் மூலம் பெற்றுக்கொண்ட ரூ. 1 000  
(2) விளையாட்டு உபகரணங்களின் கொள்வனவு ரூ. 15 000  
(3) பெற்றுக்கொண்ட நன்கொடை ரூ. 5 000  
(4) செலுத்திய போக்குவரத்துச் செலவுகள் ரூ. 2 500
31. பூச்சாடிகளைத் தயாரிக்கும் வணிகமொன்றின் 2018 ஒக்டோபர் மாதத்திற்கான மொத்த உற்பத்திக் கிரயம் ரூ. 150 000 ஆகக் காணப்பட்ட அதேவேளை இம்மாதத்தில் 500 பூச்சாடிகள் தயாரிக்கப்பட்டன. பூச்சாடி ஒன்றின் உற்பத்திக் கிரயத்தின் மீது 20% இலாப எல்லை பேணப்படின் பூச்சாடி ஒன்றின் விற்பனை விலை:  
(1) ரூ. 240 (2) ரூ. 300 (3) ரூ. 360 (4) ரூ. 500
32. உற்பத்தி வணிகங்களது செலவு உருப்படிகள் சிலவும் உற்பத்திக் கிரய மூலகங்கள் சிலவும் முறையே X மற்றும் Y நிரல்களில் தரப்பட்டுள்ளன.

X	Y
1. கூரை ஓடுகள் உற்பத்தி வணிகமொன்றின் மின்சாரச் செலவு	A – நேரில் ஊழியக் கிரயம்
2. ஆடைத் தொழிற்சாலை ஒன்றின் ஆடை தயாரிப்பாளர்களது கூலிகள்	B – ஏனைய நேர் கிரயம்
3. பாதணி உற்பத்தி வணிகமொன்றின் பாதுகாப்பு உத்தியோகத்தர் கூலி	C – நேர் ஊழியக் கிரயம்
4. புத்தக வெளியீட்டாளரின் இறைக் கட்டணம்	D – ஏனைய நேரில் கிரயம்

மேலே தரப்பட்ட X நிரலிலுள்ள செலவு உருப்படிகளுடன் Y நிரலிலுள்ள உற்பத்திக் கிரய மூலகங்கள் பொருந்தக்கூடியவாறு சரியான ஒழுங்குமுறையில் காணப்படும் விடை  
(1) B, A, C, D (2) B, C, A, D (3) D, C, A, B (4) D, C, B, A



33. குமுதம் என்பவர் தனது வணிகத்தின் மூலம் உழைத்த ரூ.100 000 ஐ 01.04.2017 இல் 12% வருடாந்த வட்டி வீதத்தை வழங்கும் ஒரு நிலையான வைப்பில் முதலீடு செய்தார். 31.03.2018 இல் வருடாந்த வட்டி பெறப்பட வேண்டும்.

31.12.2017 இல் முடிவடைந்த ஆண்டுக்காகத் தயாரிக்கப்பட்ட இவ்வணிகத்தின் நிதிக் கூற்றுக்களின்படி,

- (1) வருமானக் கூற்றில் வட்டி வருமானம் ரூ. 12 000 ஆகும்.
- (2) நிதி நிலைமைக் கூற்றில் வருமதி வட்டி வருமானம் ரூ. 12 000 ஆகும்.
- (3) நிதி நிலைமைக் கூற்றில் வருமதி வட்டி வருமானம் ரூ. 9 000 ஆகும்.
- (4) நிதி நிலைமைக் கூற்றில் வருமதி வட்டி வருமானம் ரூ. 3 000 ஆகும்.

34. வணிகமொன்று 01.01.2016 இல் இயந்திரமொன்றை ரூ. 500 000 இற்குக் கொள்வனவு செய்தது. இவ்வியந்திரத்தின் பயன்தரு ஆயுட்காலம் 5 ஆண்டுகளாகும். பயன்தரு ஆயுட்காலத்தின் இறுதியில் இயந்திரத்தின் எஞ்சிய பெறுமதி ரூ. 50 000 ஆகும்.

31.12.2017 இல் முடிவடைந்த ஆண்டிற்காக வணிகம் தயாரித்த வருமானக் கூற்றில் காணப்படும் இயந்திரத்தின் பெறுமானத்தேய்வுத் தொகை.

- (1) ரூ. 90 000
- (2) ரூ. 100 000
- (3) ரூ. 180 000
- (4) ரூ. 320 000

● பின்வரும் தகவல்களைப் பயன்படுத்தி 35 தொடக்கம் 40 வரையுள்ள வினாக்களுக்கு விடை தருக.

31.12.2017 இல் இருந்தவாறு ஜெயன் ஹரிஷன் வணிகத்தின் கணக்குகளில் இருந்து பிரித்தெடுத்த சில மீதிகள் வருமாறு:

	ரூபா.
மூலதனம் .....	300 000
சரக்கிருப்பு (01.01.2017 இல் இருந்தவாறு) .....	40 000
விற்பனைகள் .....	250 000
கொள்வனவுகள் .....	150 000
உட்சுமை கூலி .....	3 000
கடன்பட்டோர் .....	35 000
காப்புறுதிச் செலவுகள் .....	18 000
நிர்வாகச் சம்பளங்கள் .....	26 000
நிதிச் செலவுகள் .....	4 000
பெற்ற கழிவுகள் .....	2 000
ஏனைய வருமானங்கள் .....	5 000
கொடுத்த கழிவுகள் .....	10 000

மேலதிக தகவல்கள்:

- \* 2017 ஆம் ஆண்டுக்கான வருடாந்த காப்புறுதிக் கட்டணம் ரூ.20 000 ஆகும்.
- \* கடன்பட்டோரில் ரூ. 3 000 அறவிடமுடியாக் கடனாகப் பதிவுசெய்யப்படல் வேண்டும்.
- \* 31.12.2017 இல் இருந்தவாறு சரக்கிருப்பின் கிரயம் ரூ.30 000 ஆகும்.

35. 31.12.2017 இல் முடிவடைந்த ஆண்டுக்கான விற்பனைக் கிரயம்  
(1) ரூ. 87 000 (2) ரூ. 120 000 (3) ரூ. 160 000 (4) ரூ. 163 000

36. 31.12.2017 இல் முடிவடைந்த ஆண்டுக்கான வணிகத்தின் மொத்த இலாபம்  
(1) ரூ. 87 000 (2) ரூ. 90 000 (3) ரூ. 130 000 (4) ரூ. 163 000

37. 31.12.2017 இல் முடிவடைந்த ஆண்டுக்காக இவ்வணிகம் காசாகச் செலுத்திய காப்புறுதித் தொகை  
(1) ரூ. 2 000 (2) ரூ. 18 000 (3) ரூ. 20 000 (4) ரூ. 22 000

38. 31.12.2017 இல் இருந்தவாறு இவ்வணிகத்தின் நிதி நிலைமைக் கூற்றில் காணப்படும் கடன்பட்டோர் தொகை  
(1) ரூ. 3 000 (2) ரூ. 32 000 (3) ரூ. 35 000 (4) ரூ. 38 000

39. 31.12.2017 இல் முடிவடைந்த ஆண்டுக்கான இவ்வணிகத்தின் தேறிய இலாபம்  
(1) ரூ. 31 000 (2) ரூ. 33 000 (3) ரூ. 36 000 (4) ரூ. 38 000

40. 31.12.2017 இல் இருந்தவாறு இவ்வணிகத்தின் உடைமையாளரது மொத்த உரிமையாண்மை  
(1) ரூ. 331 000 (2) ரூ. 333 000 (3) ரூ. 336 000 (4) ரூ. 338 000

\*\*



ஆனந்த் ரிடுதன் நிதிப் பற்றாக்குறையின் காரணமாக தனது பால்மாட் தயாரிப்புக்களை விரிவுப்படுத்த முடியாதிருந்ததால் 31.10.2018இல் ரூ. 500 000 ஐக் கடனாகப் பெற வங்கிக்கு விண்ணப்பித்திருந்தார். தேங்காய்களையும் ஏனைய உற்பத்திப்பொருட்களையும் கொண்டு செல்வதற்காக அமரன் மோட்டர்ஸ் நிறுவனத்திலிருந்து ரூ.300 000 பெறுமதியான லொறி கடனிற்குக் கொள்வனவு செய்யப்பட்டது. உபகரணங்கள் வருடாந்தம் 12% பெறுமானத்தேய்வு செய்யப்பட வேண்டியதுடன் 31.10.2018 இல் எதுவித சரக்கிருப்புகளும் காணப்படவில்லை.

- (i) (a) 'அபூர்வ தயாரிப்புகள்' வணிகமானது எந்த நிறுவன வகையைச் சார்ந்ததாகும்?  
 (b) இந்த வணிகத்தின் உற்பத்திக்காகப் பயன்படுத்தப்பட்ட மட்டையுடனான தேங்காய்களை உற்பத்தி செய்வதற்கான உற்பத்திக் காரணி எது?
- (ii) இச்சம்பவத்திலிருந்து அபூர்வ தயாரிப்புகள் வணிகத்திற்கான பலம், பலவீனம், வாய்ப்பு, அச்சுறுத்தல் ஆகிய ஒவ்வொன்றுக்கும் உதாரணம் தருக.
- (iii) (a) பின்வரும் கூற்றுக்களில் காணப்படும் சந்தைப்படுத்தல் கலவையின் மாறி எது?  
 1. பால்மாப் பொதிகளைத் தயாரித்தல்  
 2. ஏற்றுமதி அபிவிருத்திச் சபைக் கண்காட்சியின்போது பால்மாப் பொதிகள் பற்றி எடுத்துக்கூறி அறிமுகம் செய்தல்  
 (b) பின்வரும் கூற்றுக்களில் காணப்படும் முகாமைத்துவக் கருமம் எது?  
 1. 31.12.2018 இற்கு முன்னதாக பால்மாப் பொதிகளைக் கப்பலேற்றுவதாகத் தீர்மானித்தல்  
 2. சிறிய லொறி ஒன்றைக் கடனிற்கு வாங்குதல்
- (iv) 'அபூர்வ தயாரிப்புகள்' வணிகத்தினால் பயன்படுத்தப்பட்ட இரண்டு துணைச் சேவைகளையும் அவ்வொவ்வொரு துணைச் சேவையையும் பயன்படுத்தியதை நியாயப்படுத்துவதற்கு இச்சம்பவத்தில் இருந்து இரண்டு உதாரணங்களையும் தருக. (உமது விடையைத் தருவதற்குக் கீழே தரப்படும் அட்டவணையின் மாதிரியைப் பயன்படுத்துக.)

துணைச் சேவை	உதாரணம்
1.	
2.	

- (v) 01.10.2018 இல் இருந்தவாறு 'அபூர்வ தயாரிப்புகள்' வணிகத்தின் உரிமையாண்மை எவ்வளவு?
- (vi) (a) அபூர்வ தயாரிப்புகள் வணிகத்தின் நேர்க் கிரயமொன்றையும் நேரில் கிரயமொன்றையும் அவற்றிற்கான பெறுமதிகளுடன் தருக.  
 (b) அபூர்வ தயாரிப்புகள் வணிகத்தின் பொறுப்புக்களில் அதிகரிப்பை ஏற்படுத்துவதில் தாக்கம் செலுத்தும் கொடுக்கல்வாங்கல் ஒன்று தருக.
- (vii) 2018 அக்ரோபர் மாதத்திற்கான அபூர்வ தயாரிப்புகள் வணிகத்தின் பொது நாட்குறிப்பேட்டைத் தயாரிக்குக.
- (viii) (a) 31.10.2018 இல் இருந்தவாறு இவ்வணிகத்தின் காசு மீதி எவ்வளவு?  
 (b) 31.10.2018 இல் இருந்தவாறு இவ்வணிகத்தின் நடைமுறைச் சொத்தொன்றையும் நடைமுறைப் பொறுப்பொன்றையும் பெறுமதியுடன் தருக.
- (ix) 2018 அக்ரோபர் மாதத்திற்கான அபூர்வ தயாரிப்புகள் வணிகத்தின் தேறிய இலாபத்தைக் கணிக்குக.
- (x) (a) அபூர்வ தயாரிப்புகள் வணிகத்தின் உரிமையாண்மைக் கணக்கு, வருமானக் கணக்கு ஆகிய ஒவ்வொன்றுக்கும் உதாரணம் தருக.  
 (b) 31.10.2018 இல் இருந்தவாறு அபூர்வ தயாரிப்புகள் வணிகத்தின் நடைமுறையல்லாச் சொத்துக்களின் தேறிய பெறுமதி எவ்வளவு?

(02 × 10 = 20 புள்ளிகள்)

### பகுதி I - வணிகக் கல்வி

(இரண்டு வினாக்களுக்கு மாத்திரம் விடை எழுதுக.)

2. (i) (a) மனிதத் தேவை என்றால் என்ன?  
 (b) மனிதத் தேவைகளின் குணாம்சங்கள் இரண்டு தருக. (02 புள்ளிகள்)
- (ii) பின்வரும் கூற்றுக்கள் உண்மையா பொய்யா என்பதனைக் குறிப்பிடுக.  
 (a) வணிகத்தின் மூலம் வித்தியாசமான நோக்கங்களை நிறைவேற்றிக்கொள்வதற்கு எதிர்பார்க்கும் ஊழியர்களைக் கொண்டுள்ளது அவ்வணிகத்தின் வெளிவாரிச் சூழல் ஆகும்.  
 (b) பொருட்கள் சேவைகளை உற்பத்தி செய்வதற்காக வணிகங்களால் பயன்படுத்தப்படும் இயற்கை வளங்கள் மூலதனம் என அழைக்கப்படும்.  
 (c) தனியார் துறையில் 'இலாப நோக்கற்ற நிறுவனங்களாக' கூட்டுறவுச் சங்கங்கள் காணப்படுகின்றன.  
 (d) உற்பத்திப்பொருட்களின் தன்மையை அடிப்படையாகக் கொண்டு வணிகங்களை பண்டங்களை உற்பத்தி செய்யும் வணிகங்கள், சேவைகளை உற்பத்தி செய்யும் வணிகங்கள் என வகைப்படுத்த முடியும். (02 புள்ளிகள்)



(iii) பரதனும் மைதிலியும் கந்தளாயில் உள்ள பாசுரன் வணிகத்திடமிருந்து பசம்பாலைக் கொள்வனவு செய்வதன் மூலம் 'பசுமையான தயிர்' எனும் பெயரில் தயிரை உற்பத்தி செய்து விற்பனை செய்யும் வணிகமொன்றை நடாத்துகின்றனர்.

(a) இச்சம்பவத்தில் உள்ள 'பசுமையான தயிர்' வணிகத்தின் மூலம் திருப்தி செய்யப்படும் மனித விருப்பம் யாது?

(b) இச்சம்பவத்தில் காணப்படும் பாசுரன் வணிகத்துடன் தொடர்புபட்ட வகையில் 'பசுமையான தயிர்' வணிகத்தின் இரண்டு அனுகூலங்கள் தருக. (02 புள்ளிகள்)

(iv) இலங்கை ரூபாவிற்கு எதிராக அமெரிக்க டாலரின் பெறுமதி அதிகரிப்பதன் காரணமாக மசகு எண்ணெயை இறக்குமதி செய்வதற்கான கிரயம் அதிகரிக்கின்றது.

(a) மேலே தரப்பட்ட கூற்றில் காணப்படும் வணிகச் சூழல் காரணி எது?

(b) மசகு எண்ணெய் பாவனையைக் குறைப்பதற்கு ஒரு பதிலீட்டைச் சிபாரிசு செய்க.

(02 புள்ளிகள்)

(மொத்தம் 08 புள்ளிகள்)

3. (i) (a) சில்லறை வணிகம் என்றால் என்ன?

(b) வணிக வங்கிகளில் காணப்படும் இரண்டு வகையான கணக்குகளைப் பெயரிடுக. (02 புள்ளிகள்)

(ii) பின்வரும் கூற்றுகள் உண்மையா பொய்யா எனக் குறிப்பிடுக.

(a) சில்லறை வியாபாரத்திற்கும் மொத்த வியாபாரத்திற்குமான பிரதான வேறுபாடு கொள்வனவாளரின் உள்நோக்கம் ஆகும்.

(b) சிறப்புமுறைக் குறுக்குக் கோட்டிலுடன் கூடிய ஒரு காசோலையை எந்தவொரு வணிக வங்கியின் நடைமுறைக் கணக்கிலும் வைப்பிலிட முடியும்.

(c) ஆதனக் காப்புறுதிக்கான இடர் நிச்சயமானதாகக் காணப்படுகின்ற அதேவேளை ஆயுள் காப்புறுதிக்கான இடர் நிச்சயமற்றதாகக் காணப்படுகின்றது.

(d) தொடர்பாடல் செயன்முறையில் செய்தி தொடர்பில் அனுப்புபவரது நடவடிக்கை துலங்கல் ஆகும். (02 புள்ளிகள்)

(iii) சாரங்கா பற்றிக் தயாரிப்பாளர்கள், சிங்கப்பூரில் உள்ள ஆனந்த் என்பவருக்கு ஒரு தொகை பற்றிக் வடிவமைப்புக்களை ஆகாய விமானம் மூலம் அனுப்பினர்.

(a) இங்கு குறிப்பிடப்படும் இறக்குமதியாளர் மற்றும் ஏற்றுமதியாளரைப் பெயரிடுக.

(b) இதில் உள்ளடங்கியுள்ள போக்குவரத்து முறை தொடர்பில் போக்குவரத்து மூலகங்களான வழி மற்றும் ஊடகத்துக்கு உதாரணங்கள் தருக. (02 புள்ளிகள்)

(iv) விமலன் என்பவர் இலங்கைக் காப்புறுதி கூட்டுதொடர்பத்தில் ரூ. 2 000 000 பெறுமதியான தனது மோட்டாரை அதே பெறுமதிக்குக் காப்புறுதி செய்திருந்தார். இவரது மோட்டார் விபத்துக்குள்ளாகியதன் காரணமாக ரூ. 500 000 இழப்பு ஏற்பட்டுள்ளதுடன் பாதையில் நடந்து சென்ற சுந்தரம் என்பவருக்கும் சிறிய காயங்கள் ஏற்பட்டிருந்தன.

மேலே தரப்பட்ட சம்பவத்தின்படி காப்புறுதி தொடர்பில்,

(a) முதலாம் தரப்பினரைப் பெயரிடுக.

(b) இரண்டாம் தரப்பினரைப் பெயரிடுக.

(c) மூன்றாம் தரப்பினரைப் பெயரிடுக.

(d) விமலன் பெற்றுக்கொள்ளக்கூடிய இழப்பீட்டின் பெறுமதியைக் குறிப்பிடுக. (02 புள்ளிகள்)

(மொத்தம் 08 புள்ளிகள்)

4. (i) (a) முகாமைத்துவம் என்றால் என்ன?

(b) சாதாரண பங்குகளில் முதலீடு செய்வதன் மூலம் பெற்றுக்கொள்ளக்கூடிய அனுகூலங்கள் இரண்டு எழுதுக. (02 புள்ளிகள்)

(ii) பின்வரும் கூற்றுகள் உண்மையா பொய்யா எனக் குறிப்பிடுக.

(a) திட்டமிட்ட நடவடிக்கைகள் ஒழுங்குமுறையில் நடைபெற்றுள்ளதா என்பதனைப் புலனாய்வு செய்யும் செயன்முறை திட்டமிடல் எனப்படும்.

(b) வணிகம் ஒன்று மிகவும் கவர்ச்சிகரமாகவும் இலாபகரத்தன்மையுடைய வழியிலும் திருப்தி செய்யக்கூடிய வகையில் நுகர்வோரை உள்ளடக்கியுள்ள சந்தைப் பங்கு இலக்குச் சந்தை எனப்படும்.

(c) முதலீடு ஒன்றைத் தெரிவுசெய்யும்போது அம்முதலீட்டின் இடரை மட்டுமே கருத்திற்கொள்ளுதல் வேண்டும்.

(d) ஈட்டிய வருவாய்களில் இருந்து ஒரு தொகைப் பணத்தை, பொருளாதார நலன்களைப் பெற்றுக்கொள்ளும் நோக்கத்துடன் வினைத்திறன் கொண்ட வழிமுறையில் ஈடுபடுத்துதல் முதலீடு ஆகும். (02 புள்ளிகள்)

(02 புள்ளிகள்)

(iii) ரத்னா என்பவர் உயர்வான இடரை ஏற்க விருப்பமில்லாத ஒருவராவார். இவர் ஓர் ஆண்டுக்கு முன்னர் ரூ.1 200 000 பெறுமதியில் வாங்கிய ஒரு காணியை ரூ.1 500 000 ஆக விற்கிறார். இவர் இப்பணத்தை தனது மகளின் உயர் கல்விக்காக அடுத்த மாதம் பயன்படுத்த எண்ணியுள்ளார்.

(a) காணியை விற்பது நடவடிக்கையின் மூலம் ரத்னாவினால் பெற்றுக்கொள்ளப்பட்ட அனுகூலத்தின் பெறுமதி என்ன?

(b) மேலே (a) இல் தரப்பட்ட அந்த அனுகூலத்திற்குப் பயன்படுத்தப்படும் சொற்பதம் என்ன?

(c) ரத்னா தனது மகளின் உயர் கல்விக்காக அப்பணத்தைப் பயன்படுத்தும் வரை அதனை முதலீடு செய்யக்கூடிய மிகவும் பொருத்தமான முதலீட்டு மூலம் யாது?

(d) மேலே (c) இல் தரப்பட்ட உமது சிபாரிசுக்கான காரணத்தைக் குறிப்பிடுக. (02 புள்ளிகள்)

(iv) 31.03.2018 இல் வருடந்த பாடசாலைச் சுற்றுலாவின்போது அனுராதபுரத்திற்கும் பொலன்னறுவைக்கும் செல்ல ஒழுங்கமைப்பாளர்கள் தீர்மானித்தனர். முதல்தவி மற்றும் உபசரணைகள் தொடர்பில் செயற்குழுக்களுக்கான மாணவர்கள் நியமிக்கப்பட்டனர். சுற்றுலாவின் பின்னர் சுற்றுலா தொடர்பான முன்னேற்றங்கள் குறித்து அதிபர் கேட்டுக்கொண்டதற்கிணங்க வகுப்பாசிரியர் அறிக்கையைச் சமர்ப்பித்தார்.

(a) மேலே தரப்பட்ட சம்பவத்தில் காணப்படும் இரண்டு முகாமைத்துவக் கருமங்களைக் குறிப்பிடுக.

(b) மேலே (a) இல் குறிப்பிட்ட முகாமைத்துவக் கருமங்கள் ஒவ்வொன்றிற்கும் ஓர் உதாரணம் தருக. (02 புள்ளிகள்)

(மொத்தம் 08 புள்ளிகள்)

### பகுதி II - கணக்கீடு

(இரண்டு வினாக்களுக்கு மாத்திரம் விடை எழுதுக.)

5. (i) (a) சொத்து என்றால் என்ன?

(b) உரிமையாண்மைக் கணக்குகள் தொடர்பில் இரட்டைப் பதிவுத் தத்துவத்தை எழுதுக.

(02 புள்ளிகள்)

(ii) பின்வருவன தளபாடக் கடையொன்றில் நிகழ்ந்த இரண்டு கொடுக்கல்வாங்கல்கள் ஆகும்.

(a) முகாமையாளரின் பாவனைக்காக ரூ. 20,000 பெறுமதியான நிறைவேற்றுத் தரக் கதிரை ஒன்று கடன் அடிப்படையில் கொள்வனவு செய்யப்பட்டது.

(b) கர்மா என்பவருக்கு கடனடிப்படையில் ரூ. 15,000 இற்கு மேசை ஒன்று விற்பனை செய்யப்பட்டது.

மேலே தரப்பட்ட ஒவ்வொரு கொடுக்கல்வாங்கலுடனும் தொடர்புடைய மூல ஆவணங்கள் மற்றும் மூலப் பதிவேடுகளை எழுதுக. (02 புள்ளிகள்)

(iii) பின்வருவன மின்சார உபகரணங்களை விற்பனை செய்யும் சாஹிரா வணிகத்தின் 31.01.2018 இல் முடிவடைந்த மாதத்தில் நிகழ்ந்த சில கொடுக்கல்வாங்கல்களாகும்.

1. பெற்றுக்கொண்ட வங்கிக் கடன் ரூ. 100 000

2. கடனிற்குக் கொள்வனவு செய்யப்பட்ட மின்சார உபகரணங்கள் ரூ. 50 000

3. கடன்கொடுத்தோருக்குக் கொடுத்த காசு ரூ. 8 000

4. ரூ. 25 000 பெறுமதியான மின்சார உபகரணங்கள் ரூ. 40 000 ஆக விற்பனை செய்யப்பட்டன.

5. சாஹிராவினால் தனது சொந்தப் பாவனைக்காக எடுத்த காசு ரூ. 5 000

வேண்டப்படுவது:

(a) மேலே தரப்பட்ட ஒவ்வொரு கொடுக்கல்வாங்கலும் கணக்கீட்டுச் சமன்பாட்டின் மீது எவ்வாறு தாக்கம் செலுத்தும் என்பதைக் குறிப்பிடுக. (விடையளிப்பதற்கு பின்வருவது போன்ற மாதிரியைப் பயன்படுத்துக. உமக்காக முதலாவது கொடுக்கல்வாங்கல் செய்து காட்டப்பட்டுள்ளது.)

கொடுக்கல் வாங்கல்	சொத்துக்கள்(ரூ) = உரிமையாண்மை (ரூ) + பொறுப்புக்கள் (ரூ)					
	தளபாடம் பொருத்திகள்	சரக்கிருப்பு	காசு	உரிமையாண்மை	வங்கிக் கடன்	கடன் கொடுத்தோர்
01.01.2018 இல் மீதி	160 000	70 000	25 000	235 000	-	20 000
1	-		+ 100 000		+ 100 000	-
2						
3						
4						
5						

(b) 31.01.2018 இல் இருந்தவாறு சாஹிரர் வணிகத்தின் பின்வரும் உருப்புகளின் பெறுமதி எவ்வளவு?

1. நடைமுறைச் சொத்துக்கள்
2. நடைமுறையல்லாச் சொத்துக்கள்
3. நடைமுறைப் பொறுப்புக்கள்
4. நடைமுறைல்லாப் பொறுப்புக்கள்

(04 புள்ளிகள்)

(iv) பின்வருவன ஜிலேசன் ஜெயன் சில்லறை வணிகத்தில் 2018 மே மாதத்தில் நிகழ்ந்த சில கொடுக்கல்வாங்கல்களாகும்.

- (1) 03.05.2018 - சமீரா என்பவரிடமிருந்து ஒவ்வொன்றும் ரூ.200 ஆன 20 தேயிலைப் பொதிகள் கொள்வனவு செய்யப்பட்டதுடன் (பட்டியல் இல.612) வியாபாரக் கழிவு 5% வழங்கப்பட்டது.
- (2) 05.05.2018 - ஒவ்வொன்றும் ரூ.15 ஆன 20 முட்டைகள் காசுக்குக் கொள்வனவு செய்யப்பட்டது. (பற்றுச் சீட்டு இல.25)
- (3) 18.05.2018 - ஒவ்வொன்றும் ரூ.5 ஆன 100 தீப்பெட்டிகள் பாலனிமிருந்து கொள்வனவு செய்யப்பட்டது. (பட்டியல் இல.305)
- (4) 23.05.2018 - ரெக்னோ வியாபாரிகளிடமிருந்து கடனடிப்படையில் ரூ. 25 000 பெறுமதியான கணினி மேசை ஒன்று கொள்வனவு செய்யப்பட்டது.

**வேண்டப்படுவது:**

- (a) ஜிலேசன் ஜெயன் வணிகத்தின் 2018 மே மாதத்திற்கான கொள்வனவு நாளேட்டைத் தயாரிக்குக.
- (b) 31.05.2018 இல் இருந்தவாறு பேரேட்டுக் கணக்குகளுக்குக் கொள்வனவு நாளேட்டின் தகவல்களைப் பதிவு செய்க.

(04 புள்ளிகள்)

(மொத்தம் 12 புள்ளிகள்)

6. (i) (a) வங்கிக்கூற்று என்றால் என்ன?  
(b) வணிகமொன்றின் வங்கிக் கணக்கு மீதிக்கும் வங்கிக் கூற்றில் காணப்படும் மீதிக்கும் இடையே வித்தியாசம் காணப்படுவதற்கான இரண்டு காரணங்களை எழுதுக.

(02 புள்ளிகள்)

(ii) பின்வருவன அலுவலிகளைத் தயாரிக்கும் சண்முகம் வணிகத்தின் 2018 நவம்பர் மாதத்திற்கான சில தகவல்கள் ஆகும்.

* மரம் தொடர்பான கிரயம்	ரூ. 100 000
* மாதாந்த மின்சாரக் கட்டணம்	ரூ. 2 500
* தச்சுவேலை செய்யவரின் கூலிகள்	ரூ. 60 000
* ஏனைய நேர் செலவுகள்	ரூ.17 500
* தச்சு வேலைக் கடைக்கான வாடகை	ரூ. 20 000

நவம்பர் மாதத்தில் 05 அலுவலிகள் தயாரிக்கப்பட்டன. அலுவலர் ஒன்றின் விற்பனை விலை ரூ. 50 000 ஆகும்.

**வேண்டப்படுவது :**

- (a) 2018 நவம்பர் மாதத்திற்கான மூலக் கிரயம்
- (b) அலுவலர் ஒன்றின் விற்பனை மூலமான இலாபம்

(02 புள்ளிகள்)

(iii) (a) பின்வருவன வணிகமொன்றில் நிகழ்ந்த கணக்கீட்டுத் தவறுகளைத் திருத்துவதில் பேணப்பட்ட இரண்டு பூரணமற்ற நாட்குறிப்புப் பதிவுகள் ஆகும்.

**பொது நாட்குறிப்பேடு**

திகதி	உறுதிச்சீட்டு இல	விபரம்	பேப	வரவு (ரூ.)	செலவு (ரூ.)
① 2018.03.31	101	கொள்வனவுக் கணக்கு வரவு கடன்கொடுத்தோர் கணக்கு (.....)		40 000	40 000
②	102	அலுவலக உபகரணங்கள் கணக்கு வரவு கொள்வனவுக் கணக்கு (.....)		20 000	20 000

**வேண்டப்படுவது :**

தவறுகளைத் திருத்துவது தொடர்பில் மேலே தரப்பட்ட ஒவ்வொன்றுக்கும் விளம்பல்களை எழுதுக.

(02 புள்ளிகள்)

(b) 31.03.2018 இல் இருந்தவாறு சுந்தரி வணிகத்தின் பரீட்சை மீதியைத் தயாரித்தபோது அது இணங்காததால் வித்தியாசமானது தொங்கல் கணக்கிற்கு மாற்றப்பட்டது. கணக்கீட்டு தவறுகளைத் திருத்தியதன் பின்னர் சுந்தரி வணிகத்தில் தயாரிக்கப்பட்ட தொங்கல் கணக்கு பின்வருமாறு:

**தொங்கல் கணக்கு**

திகதி	விபரம்	பே.ப	தொகை (ரூ.)	திகதி	விபரம்	பே.ப	தொகை (ரூ.)
	பரீட்சை மீதி வித்தியாசம்		.....		உபகரணக் கணக்கு		12 000
	விற்பனைகள் கணக்கு		5 000		மின்சாரக் கட்டணக் கணக்கு		4 000
	கொள்வனவுகள் கணக்கு		2 000				

**வேண்டப்படுவது :**

- (a) தவறுகளைத் திருத்துவதற்கு முன்னர் பரீட்சை மீதியில் காணப்பட்ட வித்தியாசம்
- (b) தொங்கல் கணக்கிற்கு வித்தியாசத்தைப் பதிவுதற்கு முன்னர் 31.03.2018 இல் இருந்தவாறு தயாரிக்கப்பட்ட பரீட்சைமீதியின் வரவு நிரலின் கூட்டுத்தொகை ரூ. 85 000 எனின் பரீட்சை மீதியின் செலவு நிரலின் கூட்டுத்தொகை (02 புள்ளிகள்)
- (iv) 31.10.2018 இல் இருந்தவாறு சபாபதி வணிகத்தின் வங்கிக் கணக்கு வரவு மீதி ரூ. 16 000 ஆகும். ஆனால் அத்தினத்தில் பெறப்பட்ட வங்கி கூற்றின் மீதியானது வங்கி கணக்கு மீதியுடன் இணங்கவில்லை. பின்னர் பின்வருவன வித்தியாசத்திற்கான காரணங்களாகக் கண்டுபிடிக்கப்பட்டன.
1. மாதத்தில் வைப்பிலிடப்பட்டபோதும் வசூலிக்கப்படாத காசோலைகள் ரூ. 5 000
  2. வங்கிக் கணக்கில் பதிவு செய்யப்படாத வங்கிக் கட்டணங்கள் ரூ. 500
  3. மாதத்தில் வழங்கப்பட்ட போதும் சமர்ப்பிக்கப்படாத காசோலைகள் ரூ. 8 000
  4. வங்கியால் கடன்பட்டோரிடமிருந்து நேரடியாகப் பெறப்பட்ட தொகை ரூ. 2 000 வங்கிக் கணக்கில் பதிவு செய்யப்படவில்லை.

**வேண்டப்படுவது :**

- (a) 31.10.2018 இல் இருந்தவாறு வணிகத்தின் வங்கிக் கணக்கு மீதியைச் செம்மையாக்குதல்
- (b) 31.10.2018 இல் இருந்தவாறு வங்கிக் கணக்கிணக்கக் கூற்று (04 புள்ளிகள்)  
(மொத்தம் 12 புள்ளிகள்)
7. (i) (a) தனியுடைமை வணிகத்தினால் தயாரிக்கப்படும் நிதிக் கூற்றுக்கள் எவை?  
(b) பெற வேண்டிய வருமானங்களைப் பதிவுதற்கான இரட்டைப் பதிவை எழுதுக. (02 புள்ளிகள்)
- (ii) லக்கி விளையாட்டுக் கழகத்தின் அங்கத்தவர் எண்ணிக்கை 60 ஆகும். ஒரு அங்கத்துவருக்கான வருடாந்த அங்கத்துவக் கட்டணம் ரூ. 1 000 ஆகும். பின்வருவன 31.03.2018 இல் முடிவடைந்த ஆண்டுக்காக கழகத்தின் பொருளாளரால் தயாரிக்கப்பட்ட பூரணமற்ற பெறுவனவுகள் கொடுப்பனவுகள் கணக்கும் வருமானக் கூற்றும் ஆகும்.

**பெறுவனவுகள் கொடுப்பனவுகள் கணக்கு - லக்கி விளையாட்டுக் கழகம்  
31.03.2018 இல் முடிவடைந்த ஆண்டுக்கானது**

அங்கத்துவக் கட்டணம்	A	காகிதாதிகள்	5 000
கொடி விற்பனை மூலம் பெற்றவை	8 000	போக்குவரத்துச் செலவுகள்	8 500
		விழாச் செலவுகள்	12 500



**வருமானக் கூற்று**  
**லக்கி விளையாட்டுக் கழகம்**  
**31.03.2018 இல் முடிவடைந்த ஆண்டுக்கானது**

வருமானம்	
அங்கத்துவக் கட்டணம்	60 000
கொடி விற்பனை மூலம் பெற்றவை	[ B ]
செலவுகள்	
போக்குவரத்துச் செலவுகள்	[ C ]
விழாச் செலவுகள்	12 500
காகிதாதிகள்	5 000

**மேலதிக தகவல்கள் :**

- \* 8 அங்கத்தவர்கள் ஆண்டுக்கான அங்கத்துவக் கட்டணத்தைச் செலுத்தவில்லை.
- \* 31.03.2018 இல் இருந்தவாறு சென்மதியாகக் காணப்படும் போக்குவரத்துச் செலவுகள் ரூ. 2 000 ஆகும்.
- \* கொடிகள் விற்பனையில் இருந்து பெறவேண்டிய தொகை ரூ. 600 ஆகும்.

**வேண்டப்படுவது :**

- (a) மேலே தரப்பட்ட A,B,C ஆகியவற்றுக்கான சரியான தொகைகள்
- (b) 31.03.2018 இல் முடிவடைந்த ஆண்டுக்கான மிகை அல்லது பற்றாக்குறை (02 புள்ளிகள்)
- (iii) பின்வருவன 31.12.2017 இல் முடிவடைந்த ஆண்டுக்கான ஜனநதன் வணிகத்தின் பரீட்சை மீதி ஆகும்.

	வரவு (ரூ.)	செலவு (ரூ.)
காணி கட்டலங்கள் (கிரயத்தில்) .....	300 000	
மூலதனம் .....		500 000
விநியோக வாகனங்கள் (கிரயம்) .....	400 000	
01.01.2017 இல் விநியோக வாகனங்களுக்கான பெறுமானத்தேய்வு ஏற்பாடு .....		60 000
சரக்கிருப்பு (01.01.2017 இல்) .....	25 000	
வங்கிக் கடன் 9% .....		100 000
கொள்வனவுகள் .....	150 000	
விற்பனைகள் .....		240 000
சம்பளங்கள் .....	8 000	
கடன்பட்டோர் .....	20 000	
கடன்கொடுத்தோர் .....		17 000
பெற்று கழிவுகள் .....		3 000
கொடுத்த கழிவுகள் .....	1 000	
உட்சுமைக் கூலி .....	1 500	
செலுத்திய வங்கி வட்டி .....	4 500	
அறவிடமுடியாக் கடன் .....	800	
மின்சாரக் கட்டணங்கள் .....	2 000	
இறைவரிக் கட்டணம் .....	200	
காசு மீதி .....	7 000	
	<u>920 000</u>	<u>920 000</u>

**மேலதிக தகவல்கள் :**

- \* 31.12.2017 இல் இருந்தவாறு சரக்கிருப்பு ரூ. 25 000 ஆகும்.
- \* விநியோக வாகனங்களுக்கு வருடாந்தம் நேர்கோட்டு முறையில் 10% பெறுமானத்தேய்வு செய்யப்படல் வேண்டும்.
- \* ரூ. 1 200 ஐ அறவிடமுடியாக்கடனாகப் பதிவழிக்கத் தீர்மானிக்கப்பட்டது.

**வேண்டப்படுவது :**

- (a) 31.12.2017 இல் முடிவடைந்த ஆண்டுக்கான இலாப நடடக் கூற்று (04 புள்ளிகள்)
  - (b) 31.12.2017 இல் இருந்தவாறான நிதிநிலைமைக் கூற்று (04 புள்ளிகள்)
- (மொத்தம் 12 புள்ளிகள்)

\*\*\*



agaram.lk