

=====

36, சுவாமியார் வீதி, கொழும்புத்துறை, யாழ்ப்பாணம்

பெளதிகவியல் 1. க. பொ. த. (உயர்தரம்) மாதிரிவிடைகள், ஓகஸ்ட், 1982.

மேலதிகப் பரீட்சை  
(புதிய பாடத்திட்டம்)  
( $g = 10 \text{ N kg}^{-1}$ )

01. அகில ஈர்ப்பு ஒருமை G யினது பரிமாணங்கள்

- (1)  $\text{ML}^{-3}\text{T}^2$  (2)  $\text{ML}^{-2}\text{T}^2$  (3)  $\text{M}^{-1}\text{LT}^{-2}$  (4)  $\text{M}^{-1}\text{L}^2\text{T}^{-2}$  (5)  $\text{M}^{-1}\text{L}^3\text{T}^{-2}$

02. கட்புல ஒளியினது மீடறன்  $10^{15} \text{ Hz}$  வரிசையிலிருப்பின், கட்புல ஒளியினது அலைநீளம் ஏறக்குறைய,

1.  $10^{-12} \text{ m}$  2.  $10^{-10} \text{ m}$  3.  $10^{-7} \text{ m}$  4.  $10^{-5} \text{ m}$  5.  $10^{-3} \text{ m}$

03. பின்வருவனவற்றுள் எந்தவொன்று அலகுகளைக் கொண்டுள்ளது?

1. உராய்வுக் குணகம் 2. ஏகபரிமாண விரிவுக்குணகம்  
3. சாரத்தி 4. சாரீரப்பதன் (நீட்டல்விரிவுக்குணகம்)  
4. தன் வெப்பங்களின் விகிதம்.

04. குடான திரவமொன்றினது வெப்பநிலையை அளவிடுவதற்கு கண்ணூடியில் இரசத்தைக் கொண்டுள்ள வெப்பமானியொன்றைப் பாவிக்கும் பொழுது, பெறப்படும் வாசிப்பு, வெப்பமானிக் குமிழை அமிழ்பதற்கு முன்னுள்ள திரவத்தின் வெப்பநிலையிலும் சற்றுக் குறைவானது. ஏனெனில்,

- (A) - வெப்பமானிக் குமிழும் விரிவடைகிறது.  
(B) - திரவத்தினது வெப்பச் சக்தியின் சிறிதளவு, கண்ணூடியைச் குடாக்கப் பாவிக்கப்படுகிறது.  
(C) - இரசம் கூடிய வெப்பக் கடத்தாறைக் (கடத்துதிறன்) கொண்டுள்ளது இக்கூற்றுக்களில்,

1. (A) மாத்திரம் உண்மையானது. 2. (C) மாத்திரம் உண்மையானது  
3. (A), (B) ஆகியன மாத்திரம் உண்மையானவை.  
4. (A), (C) ஆகியன மாத்திரம் உண்மையானவை.  
5. (A), (B), (C) ஆகியன எல்லாமே உண்மையானவை.

05. வெற்றிடத்தில் உள்ள மீட்காந்த அலையொன்று மீடறன்  $f$  ஐயும் அலைநீளம்  $\lambda$  வையும் கொண்டுள்ளது. முறிவுச்சுட்டி  $\mu$  வையுடைய ஊடகம்மொன்றினுள் இவ்வலை நுழைகிறது. பின்வரும் கூற்றுக்களைக் கருதுக:

- (A) - இவ்வூடகத்திலும் அலையினதம் மீடறன்  $f$  ஆகும்.  
(B) - இவ்வூடகத்தில் அலையினது வேகம்  $f\lambda$  விலும் குறைவானது.  
(C) -  $\mu = \frac{f\lambda}{\text{கூடகத்தில் அலையினது செலக்துகை வேகம்}}$

மேற்கூறப்பட்டவற்றுள்,

1. (A) மாத்திரம் உண்மையானது.  
2. (A), (B) ஆகியன மாத்திரம் உண்மையானவை.  
3. (B), (C) ஆகியன மாத்திரமே உண்மையானவை.  
4. (A), (C) ஆகியன மாத்திரமே உண்மையானவை.  
5. (A), (B), (C) ஆகியன எல்லாமே உண்மையானவை.

06. எப்போது ஆயினும் பதார்த்தமொன்று நீரில் சுவரக்கப்படும்போது,

1. நிரம்பிய ஆவியழுக்கம் அதிகரிக்கிறது.  
2. தன்வெப்பக் கொள்ளளவு மாறாதில்லை.  
3. பரப்பு இழுவை (மேற்பரப்பிடிவிசை) அதிகரிக்கிறது.  
4. கொதிநிலை குறைவடைகிறது.  
5. மேலுள்ள எக்கூற்றும் உண்மையானதல்ல.

07. இரசத்தைக் கொண்டிருக்கும் ர- குழாய்யொன்றின் ஒரு முனையில் சுவரக் காரக் குமிழ்யொன்று உருவாக்கப்படுகிறது. இக்குழாயின் மறுபுயம் வளிக்குத் திறந்து விடப்பட்டுள்ளது. இரச நிரல்களினது உயரங்களின்

வித்தியாசம்  $h_1$  ஆயிருக்கும் போது,  $r$  குமிழியின் ஆரை  $r$  ஆகும். இவ்வாறான சீரின் வித்தியாசம்  $h_2$  ஆயிருக்கும் போது, புதிய ஆரை,

1.  $\frac{h_2}{h_1} r$
2.  $\frac{h_1}{h_2} r$
3.  $r$
4.  $\frac{(h_1 + h_2)}{(h_1 - h_2)} r$
5.  $\frac{(h_1 - h_2)}{(h_1 + h_2)} r$

18. அற்கோலம் (சாரடத்தி 0.75) நீரும் உள்ள கலவையொன்று, 0.80 சாரடர்த்தியைக் கொண்டுள்ளது. கலக்கும் போது ஏற்படக்கூடிய கலவளவு மாற்றமெதுவும் புறக்கணிக்கக்கூடியதாயின், அற்கோலினதும், நீரினதும் கலவளவு விகிதம்,

- 1) 1:4
- 2) 3:4
- 3) 4:5
- 4) 15:16
- 5) 4:1

09



மேலே தரப்பட்டுள்ள படத்தில், குற்றிகள் மேலுள்ள உராய்வு விசைகள் புறக்கணிக்கக்கூடியன. பிரயோசிக்கப்படும் விசை  $F$  ஆயின், தொடுக்கும் இழையின் இழுவை என்ன?

1. பூச்சியம்
2.  $F/2$
3.  $F$
4.  $\frac{m_1 F}{m_1 + m_2}$
5.  $\frac{m_2 F}{m_1 + m_2}$

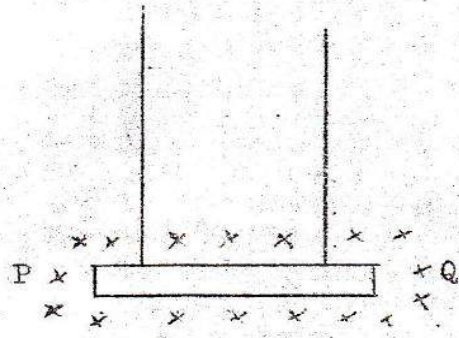
10

ஒரு முனை மாத்திரம் முடப்பட்டுள்ள பரிவுக் குழாயொன்றுக்குரிய சரியான கூற்று,

1. வெப்பநிலை அதிகரிக்கையில் அடிப்படையின் மீறல் அதிகரிக்கும்.
2. முதல் மேற்றோனியின் மீறல் அடிப்படையின் மீறலின் இருமடங்காகும்.
3. இரண்டாவது மேற்றோனியின் மீறல், இரண்டாவது அலகரத்தில் மீறலுக்கு ஒத்ததாகும்.
4. வளியின் உயர்வு அமூக்சம், குழாயின் திறந்தமுனையில் ஏற்படுகிறது.
5. இக்குழாயிற்கு முனைத்திருத்தம் இல்லை.

11

$i$  m நீளமும் 60 கிராம் திணிவு முடைய ஒரு மெல்லிய உலோகக் கோல் PQ,  $0.4 \text{ Wb m}^{-2}$  உடைய காந்த மண்டலமொன்று செயற்படும் பகுதியொன்றில், படத்தில் காட்டப் பட்டுள்ளவாறு ஒருசோடிக் கம்பிகளினால் தொங்கவிடப்பட்டுள்ளது. இக்கம்பிகளில் உள்ள இழுவையை நீக்குவதற்கு, PQ யுக்கு ஊடாகச் செலுத்த வேண்டிய ஒட்டத்தின் பருமனும், திசையும்,



1.  $0.15 \text{ A}$ ,  $\vec{PQ}$  வழியே
2.  $0.75 \text{ A}$ ,  $\vec{PQ}$  வழியே
3.  $0.75 \text{ A}$ ,  $\vec{QP}$  வழியே
4.  $1.50 \text{ A}$ ,  $\vec{PQ}$  வழியே
5.  $1.50 \text{ A}$ ,  $\vec{QP}$  வழியே

12.  $f = k \sqrt{\frac{T}{m}}$  என்ற சமன்பாட்டில்,  $T$  ஆனது  $N$  இலும்  $m$  ஆனது  $\text{kg m}^{-1}$  இலும்  $f$  ஆனது  $\text{s}^{-1}$  இலுள்ளபோது  $k=1$  ஆகும்.  $f$  இனதும்  $T$  இனதும் அலகுகளை முன்னுள்ளவை போல் வைத்த,  $m$  ஐ  $\text{mg m}^{-1}$  இல் அளப்போமாயின்,  $k$  யினத பெறுமதி,

1.  $10^{-3}$
2.  $10^{-2}$
3. 1
4.  $10^2$
5.  $10^3$

13

நர்க்கப்பட்ட சுரமானிக் கம்பியொன்று அதனது நீளங்கள் 143 cm ஆகவும், 145 cm ஆகவும் இருப்பின் இசைக்கவையொன்றுடன் செக்களுக்கு 2 அடிப்புக்களை கொடுக்கிறது. இவ்விசைக்கவையின் மீறல்,

1. 144 Hz
2. 284 Hz
3. 286 Hz
4. 288 Hz
5. 290 Hz

14

ஒன்று, ஒருமுனை முடப்பட்டதும், அடுத்தது இருமுனைகளும் திறந்துள்ளதமான இரு குழல்களின் முதல் மேற்றோனிகள் ஒரே மீறலைக் கொண்டுள்ளன. முடிய குழலினதும், திறந்த குழலினதும் நீளங்களின் விகிதம்,

- 1) 1:4
- 2) 1:2
- 3) 3:4
- 4) 4:3
- 5) 2:1

15). ஒரு குறிப்பிட்ட வாயுவொன்றில் ஒலியின் வேகம்  $V$  என அளக்கப்பட்டது. வெப்பநிலை ஒரேயளவாக வைக்கப்பட்டு, வாயுவின் அழுக்கம் இரட்டிக்கப்படுமாயின், இவ்வாயுவில் ஒலியின் புதிய வேகம் என்னவாயிருக்கும்?

1.  $V/4$     2.  $V/2$     3.  $V$     4.  $\sqrt{2} V$     5.  $2V$

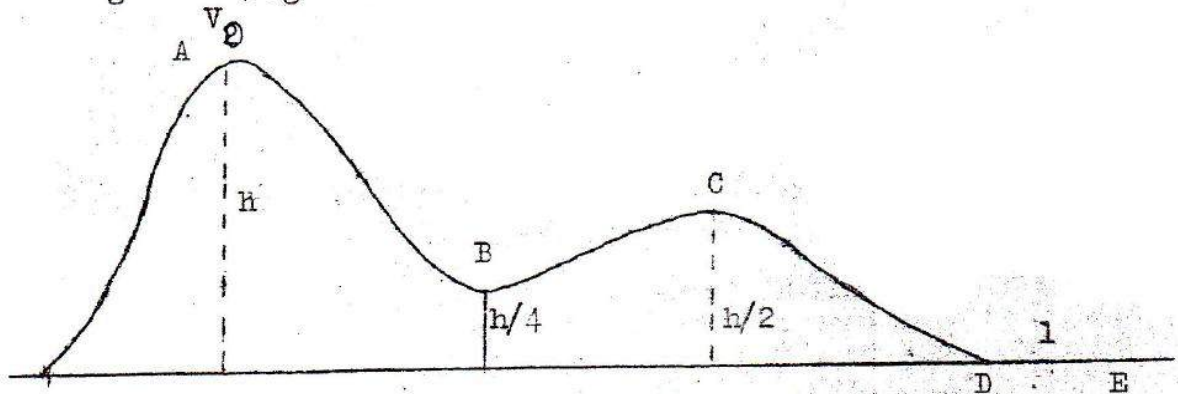
16). A குறுக்கு வெட்டுப் பரப்புடைய குழலொன்றுக்கடாக,  $3V$  கதியில் கிடையாக வெளியேற்றப்படும் சீரான நீர்த்தாரையொன்று, இக்கதியில் நிலைக்குத்தான சுவரொன்றை அடக்கிறது. எல்லா நீரும் சுவருக்குச் செவ்வகாக  $V$  கதியில் பின்னதைவதாகவும் நீரிடைத்தி  $p$  ஆகவும்ருப்பின் இச்சுவர் மேல் தாக்கும் விசை,

1.  $4pV^2$     2.  $2A^2pV^3$     3.  $4ApV^3$     4.  $12ApV^2$     5.  $4ApV^2$

17).  $10 \text{ kg}$  திணிவுடைய கோளம் A ஒன்று,  $5 \text{ ms}^{-1}$  கதியுடன் வலம் நோக்கி அசைந்து  $5 \text{ kg}$  திணிவுடைய நிலையான கோளமொன்றுடன் நேரடியான மோதுகிறது. A யினதும் B யினதும், மோதுகை நடந்தேறிய உடனேயான வேகங்களைப் பின்வருவனவற்றுள். எது குறிப்பிடாது? (எல்லா வேகங்களும் வலம் நோக்கியவையாகும்).

1.  $\frac{1}{3} \text{ ms}^{-1}$ ,  $\frac{1}{3} \text{ ms}^{-1}$     2.  $3 \text{ ms}^{-1}$ ,  $4 \text{ ms}^{-1}$     3.  $2 \text{ ms}^{-1}$ ,  $6 \text{ ms}^{-1}$   
4.  $\frac{5}{3} \text{ ms}^{-1}$ ,  $\frac{20}{3} \text{ ms}^{-1}$     5.  $0$ ,  $10 \text{ ms}^{-1}$

18)



படத்தில் காட்டப்பட்டுள்ளவாறான வளைவான தடமொன்றின் புள்ளி A யிலிருந்து  $m$  திணிவுடைய துகிலொன்று  $V_0$  கிடையான வேகமொன்றுடன் ஆரம்பிக்கிறது.  $l$  நீளமுடைய சிறிய கிடையான பகுதி DE யைத் தவிர இத்தடம் உராய்வற்றதாகும். D க்கும் E க்குமிடையில் தாக்கும் மாறா உராய்வு விசையினால் துகிலொன்று ஒய்வுக்கு வருமாயின், அமர் முடுகலின் பருமன்

- (1)  $V_0^2/2l$     (2)  $(V_0^2 + 2gh)^{1/2}/2l$     (3)  $(V_0^2 + 2gh)/2l$   
(4)  $(V_0^2 - 2gh)^{1/2}/2l$     (5)  $(V_0^2 + 2gh)^{1/2}/l$

19).  $2 \text{ mm}$  நீளமும்  $0.01 \text{ cm}^{-2}$  குறுக்குவெட்டுப் பரப்பும் உடைய கம்பியொன்று  $2 \times 10^{12}$  துகில்கள்  $\text{cm}^{-2}$  யளவில் மட்டையுடைய திரவியமொன்றினால் செய்யப்பட்டுள்ளது.  $0.1 \text{ mm}$  க்கடாக இக்கம்பியை ஈர்ப்பதில் செய்யப்படவேண்டிய வேலை (யூல்களில்),

1.  $5 \times 10^{-4}$     2.  $10^{-3}$     3.  $5 \times 10^{-2}$   
4.  $5 \times 10^3$     5.  $5 \times 10^5$

20).  $10 \text{ cm}^2$  பரப்புடைய தட்டையான தட்டொன்று பெரிய தட்டொன்றிலிருந்து  $1 \text{ mm}$  தடிப்புடைய கிளிசரின் படையொன்றினால் வேறுபடுத்தப்பட்டுள்ளது. கிளிசரின் பிசுக்குமைக் குணகம் (பாகுநிலைக் குணகம்)  $2 \text{ kg ms}^{-1}$  ஆயின்  $10^{-2} \text{ ms}^{-1}$  வேகத்துடன் தட்டை அசைப்பதற்குத் தேவையான விசை,

1.  $2 \times 10^{-2} \text{ gN}$     2.  $2 \times 10^{-2} \text{ N}$     3.  $2 \times 10^{-3} \text{ N}$   
4.  $2 \times 10^{-4} \text{ gN}$     5.  $2 \times 10^{-4} \text{ gN}$

21. பின்வருவனவற்றுள் -எவை வாயுக்களின் எளிய இயக்கப்பாட்டுக் கொள்கையின் எடுகோள்கள் அல்ல?
- (A) - மூலக்கூறுகளின் நிறை புறக்கணித்தகச்சுது.  
 (B) - மூலக்கூறுகளுக்கிடையில் -சவரீச்சீவிசைகள் உண்டு.  
 (C) - அலகு நேரத்திலான மோதுகைகளின் எண்ணிக்கை சிறிது.  
 (D) - ஒவ்வொரு மோதுகையின்பின்வரும் மூலக்கூறுகள் திசையைப் புறமாற்றும் மேற்கூறியவற்றுள்,

1. (A) யும் (D) யும்  
 2. (A) யும் (B) யும்  
 3. (A) யும் (C) யும்  
 3. (B) யும் (C) யும்  
 5. (B) யும் (D) யும்.

22. இலட்சிய வாயுவொன்றின் நிலையான திணிவொன்று, நிலைமை மாற்றம் அடைகின்றது. பின்வரும் கூற்றுக்களைக் கருதுக.

- (A) - இச்செய்கையில் போது, வாயு வேலை செய்கிறது. அதனை அகச்சக்தி (உட்சக்தி) மாறாமலிருக்கிறது.  
 (B) - இச்செய்கை சமவெப்பநியானது (சமவெப்பக் கோடுடையது)  
 (C) - இச்செய்கை, மாறுக் கவனவுச் செய்கையொன்றாகும்.

இக்கூற்றுக்களுள்,

1. (A), (B) ஆகியன மாத்திரம் உண்மையானவை.  
 2. (A), (C) ஆகியன மாத்திரம் உண்மையானவை.  
 3. (B), (C) ஆகியன மாத்திரம் உண்மையானவை.  
 4. (C) மாத்திரம் உண்மையானது. 5. (B) மாத்திரம் உண்மையானது

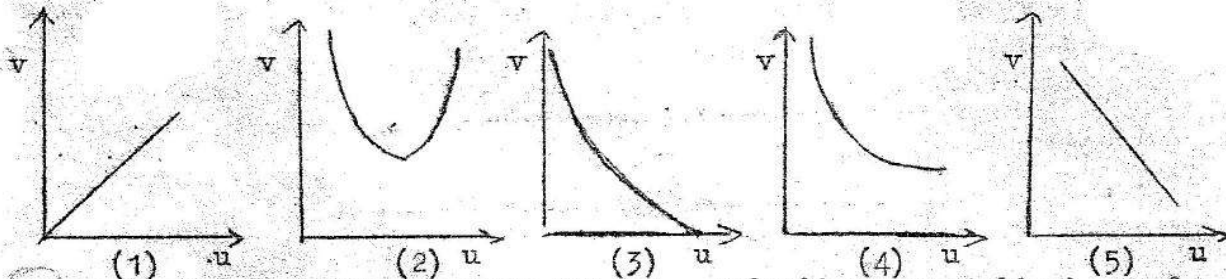
23. குடான திண்மப் பொருளொன்று சுற்றுடலுக்கு இழக்கும் வெப்பத்தின் வீதம்,

- (A) - அதாவது மேற்பரப்புப் பரப்பளவில் தங்கியிருக்கும்.  
 (B) - அதனை தன்வெப்பக் கொள்ளளவில் தங்கியிருக்கும்.  
 (C) - அதனை வெப்பக் கடத்தாறில் (கூடத்திறனில்) தங்கியிருக்கும்.

இக்கூற்றுக்களில்,

1. (A) மாத்திரமே உண்மையானது.  
 2. (C), மாத்திரமே உண்மையானது.  
 3. (A), (B) ஆகியன மாத்திரமே உண்மையானவை.  
 4. (A), (C) ஆகியன மாத்திரமே உண்மையானவை.  
 5. (A), (B), (C) ஆகிய எல்லாமே உண்மையானவை.

24. ஒரு குவிவுவில்லை பாவிக்கப்படும் பொழுது, வில்லையிலிருந்து u ஓரத்தில் வைக்கப்படும் பொருளொன்று வில்லையிலிருந்து v ஓரத்தில் மெய் விம்பம் ஒன்று உருவாக்குகின்றது. u விற்கு எதிரான v வரைபு பெறக்கூடிய மிகப் பொருத்தமான வடிவம்,



25. a தாரத்திலை வேறுபடுத்தப்பட்டுள்ள, குவிவுவில்லையொன்றிற்கும், குழிவு வில்லையொன்றுக்குமுடானப் பொருளொன்று பார்க்கப்படுகிறது. d யின் எப்பெறமதிக்கும்,

- (A) - இறுதி விம்பம் எப்போதும் மாயமானது.  
 (B) - இறுதி விம்பம் எப்போதும் தலைகீழானது.  
 (C) - இறுதி விம்பம் எப்போதும் பெரிதாகக்கப்பட்டது.

மேலுள்ள கூற்றுக்களில்,

1. (A) மாத்திரமே உண்மையானது. 2. (B) மாத்திரமே உண்மையானது.  
 3. (C) மாத்திரமே உண்மையானது.  
 4. (A) (B) (C) ஆகிய எல்லாமே உண்மையானவை.

26.

ஆடர்ய லிருக்கும் தெளிவான வாவினொற்று அடிப்பாகத்தில் சுழியோடி ஒருவன், அவனது கண்கள் நீர் மேற்பரப்பிலிருந்து 2.0 m கீழேயிருக்கும் வகையில் நிற்கின்றான். மேலே நோக்குகையில், தனக்கு நேர் மேலுள்ள மேற்பரப்பில், 2.5m ஆரையுடைய சிதையான ஒளி வட்டமொன்றை அவன் காண்கிறான். நீரின் முறிவுச்சூட்டி,

1.  $\frac{5}{4}$
2.  $\frac{3}{2}$
3. தான்  $-1\frac{5}{4}$
4.  $-\frac{1}{4}$  சைன்தான்  $-1\frac{5}{4}$
5.  $-\frac{1}{5}$  சைன்தான்  $-1\frac{4}{5}$

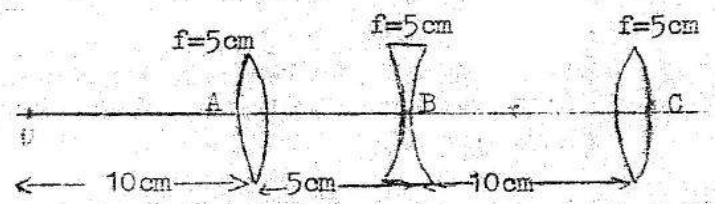
27.

குவிவுவில்லைகளிரட்டைக் கொண்டு தயாரிக்கப்பட்டுள்ள தொலைகாட்டி ஒன்று, நட்சத்திரங்களைத் தொடர்ந்து பல மணித்தியாலங்கள் அவதானிக்கப் பாவிக்கப்படுகின்றது. இத் தொலைக்காட்டி செப்பத் செய்யப்பட வேண்டும். எப்படியெனில்,

- (A) - விம்பம் நிமிர்ததாயிருக்கும் வகையில்
  - (B) - முடிவிலியில் விம்பம் உருவாகும் வகையில்
  - (C) - கோணப் பெரிதாக்கம் (உருப்பெருக்கம்) உயர்வாயிருக்கும் வகையில்
- மேலுள்ள சுற்றுக்களில்,
1. (A) மாத்திரமே உண்மையானது.
  2. (B) மாத்திரமே உண்மையானது.
  3. (C) மாத்திரமே உண்மையானது.
  4. (A), (B) ஆகியன மாத்திரமே உண்மையானவை.
  5. (B), (C) ஆகியன மாத்திரமே உண்மையானவை.

28.

படத்தில் காட்டப்பட்டுள்ள வாறு O வில் பொருள் ஒன்று வைக்கப்பட்டிருப்பின் இறுதி விம்பம் உருவாகும் நிலை,



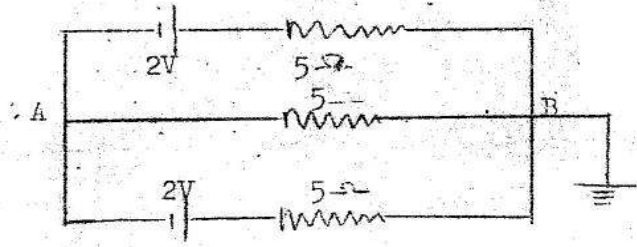
1. 5 cm C யில் இடது பக்கத்தில்
2. 5 cm C யில் வலது பக்கத்தில்
3. 10 cm C யில் இடது பக்கத்தில்
4. 10 cm C யில் வலது பக்கத்தில்
5. முடிவிலி.

29.

குழியு ஆடியொன்று 25 cm குவிய நீளமுடைய விரிவில்லையொன்றிலிருந்து 15 cm தூரத்தில் ஓரச்சுடைய வகையில் வைக்கப்பட்டது. இவ்வில்லையில் இருந்து 37.5cm தூரத்தில் ஆடியிருக்கும் பக்கத்துக்கு எதிரான பக்கத்தில் வைக்கப்பட்ட பொருளொன்று, வில்லை- ஆடிச்சேர்மானத்தினால் உருவாக சூப்பிட்ட அதனை விம்பத்தடர் ஒன்றினையக் காணப்பட்டது. ஆடியின் குவிய நீளம்,

1. 15cm
2. 20cm
3. 30cm
4. 40 cm
5. 45cm

30.



மேலே காட்டப்பட்டுள்ள சுற்றில், இருகலங்களும் 2V மி.இ.வி. சுளையும் புறக்கணிக்கக்கூக உட்டடைகளையும் கொண்டுள்ளன. புள்ளி B புவிக்குத் தொடுக்கப்பட்டுள்ளது. புள்ளி A யிலுள்ள அழுத்தம்,

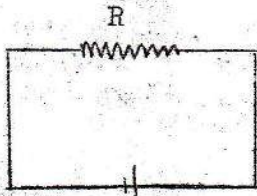
1. -0.8 v
2. +0.8V
3. -0.4V
4. 0.4V
5. 0

31.

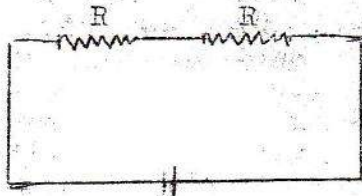
சுற்றெற்றில் தொடுக்கப்பட்டுள்ள கலமொன்றின் முடிவிடங்களுக்குப் குறுக்கேயான அழுத்த விக்தியாசம்,

1. எப்போதும் கலத்தின் மி.இ.வி யை விடக் குறைவானதாகும்.
2. எப்போதும் கலத்தின் மி.இ.வி. க்குச் சமமாகும்.
3. எப்போதும் கலத்தின் மி.இ.வி. யை விடக் கூடுதலாகும்.
4. பூச்சியமாகும்.

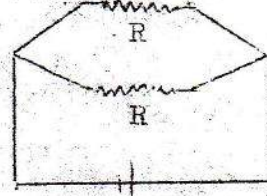
32. பின்வரும் சுற்றுக்களில், எதில் வலுவிரயம் உயர்வானதாயிருக்கும்?



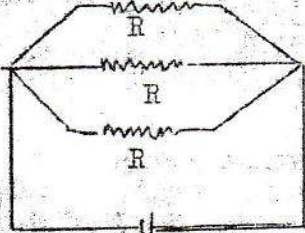
(1) V



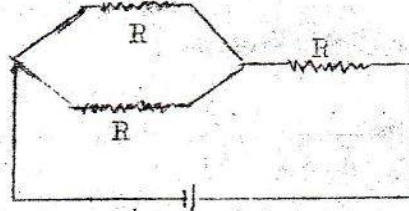
(2) V



V (3)



V (4)

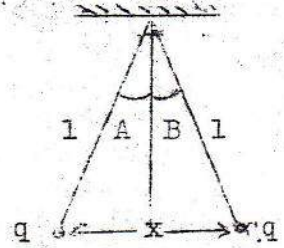


V (5)

33. வினா 32 இல், சுலத்திலிருந்து பெறப்படும் ஓட்டம் எப்போதும் ஒரே யளவினதாயிருக்கக் கூடியதாகக் சுலத்தின் மி.இ.வி. மாற்றப்படின், எச்சுற்றில் வலு விரயம் மிகப் பெரியதாயிருக்கும்?

1. 1      2. 2      3. 3      4. 4      5. 5

34. படத்தில் காட்டப்பட்டுள்ளவாறு, 1 நீளமுடைய பாரமற்ற இழைகளினால் தொங்கவிடப்பட்டுள்ள ஒவ்வொன்றும்  $m$  திணிவுடைய, இரு சர்வசமமான கோளங்கள், ஒத்த ஏற்றங்கள்  $q$  களைக் காவுகின்றன.  $\sin \theta \approx \tan \theta$  வாகவிருக்கும் வகையில்  $\theta$  சிறியதாயிருப்பின், கோளங்களுக்கிடையிலுள்ள சாரம்  $x$  த் தருவது,



(1)  $\left[ \frac{q^2 21}{mg} \right]^{1/3}$       (2)  $\left[ \frac{q^2 1}{2\pi \epsilon_0 mg} \right]^{1/3}$       (3)  $\left[ \frac{q^2 1}{4\pi \epsilon_0 mg} \right]^{1/3}$

(4)  $\left[ \frac{8\pi \epsilon_0 q^2 1}{mg} \right]^{1/3}$       (5)  $\left[ \frac{q^2 1}{16\pi \epsilon_0 mg} \right]^{1/3}$

35. R சராசரி ஆரையுடைய, N சுற்றுக்களைக் கொண்டுள்ள தட்டையான வட்டச் சுருளொன்று அதனை தளம் காந்த நள்வாளுக்குச் (நெடுங்கோடு) செவ்வக இருக்கும் வகையில் வைக்கப்பட்டுள்ளது. சுருளினூடாக ஓட்டமேறும் பாயா திருக்கும்போது, சுருளின் மத்தியில் கிடையாகத் தொங்கவிடப்பட்டுள்ள காந்தமொன்று அலகு நேரத்தில் T அலைவுகளைச் செய்கின்றது. சுருளின் ஊடாக ஓரோட்டம் பாயும் போது இக்காந்தம் அலகு நேரத்தில் அதேயளவு அலைகளைச் செய்கின்றது. புவியினது காந்தமண்டலத்தின் கிடைக்கூறினது செறிவு B ஆயின், சுருளினூடாகப் பாயும் ஓட்டம்,

(1)  $\mu_0 \frac{4BR}{N}$       (2)  $\frac{4BR}{\mu_0 N}$       (3)  $\mu_0 \frac{2BR}{N}$       (4)  $\frac{2BR}{\mu_0 N}$       (5)  $\frac{4BR}{N}$

36.  $m$  திணிவுடைய உபகோளம் ஒன்று R ஆரையுடைய வட்டமொன்றில் புவியைச் சுற்றுகின்றது. புவியினது திணிவு M ஆயின், உபகோளின் மொத்தச் சக்தி,

(1)  $-\frac{GmM}{R}$       (2)  $-\frac{GmM}{2R}$       (3)  $\frac{3GmM}{2R}$       (4)  $\frac{GmM}{2R}$       (5)  $\frac{GmM}{R}$

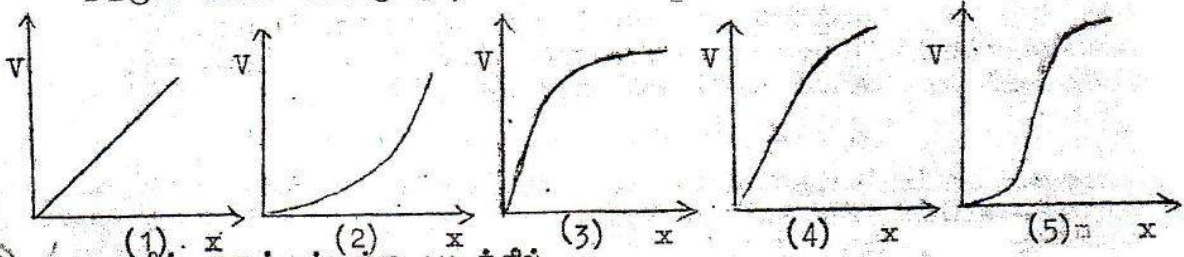
37. சம எண்ணிக்கை  $H_2$  மூலக்கூறுகளையும்  $N_2$  மூலக்கூறுகளையும் கொண்டுள்ள வாயுக் சுலவையொன்று வேற எவற்றையும் கொண்டுள்ளதில்லை. பின்வரும் சுற்றுக்களுள் எது உண்மையானது?

2.  $H_2$  இனமும் மொத்தத் திணிவு  $N_2$  இனத்தின் ஒரேயளவாகும்
3. மாற்றக் கவனத்தில் வெப்பநிலை  $^2$  அதிகரிக்கப்படுமாயின்,  $N_2$  இனலான அழுக்கம்,  $H_2$  இனலான அழுக்கத்தைவிட, மிக விரைவாக  $^2$  உயரும்.
4.  $H_2$  மூலக்கூறுகள் குறைந்த திணிவுடையவையாகையால், அவை கூடிய கதிர்களைப்பெற்று, அடிக்கடி மோதுகைகளைச் செய்வதனால் அழுக்கத்துக்குக் கூடிய பங்கைக் கொடுக்கின்றன.
5. மேலுள்ள எதுவுமல்ல.

38.  $f$  - என் 11 ஐயும், மூடிக்கதி  $\frac{1}{60}$  s ஐயும் பாவித்து, சுமரா ஒன்றினால் ஒளிப்படமொன்று எடுக்கப்படுகிறது. மூடிக்கதி  $1/120$  s ஆயிருக்கையில் ஏறக்குறைய சம அளவு ஒளியை இச்சுமரா உட்புக விடுவதற்குத் தேவையான  $f$  - என்,

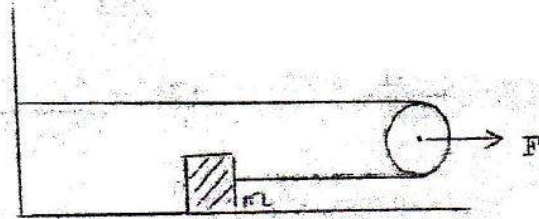
1. 22
2. 16
3. 11
4. 8
5. 5.6

39. கூடிய உயரத்திலிருந்து பந்தொன்று ஓய்விலிருந்து போடப்படுகிறது இயக்கத்திற்கு, வளியினால் ஏற்படும் தடை  $V^2$  க்கு விகிதசமமாகும். இங்கு  $V$  பந்தினது கதியாகும். பந்து விழுந்த தூரம்  $x$  ஆயின், இயக்கத்தினை த்தரும் படம் காட்டுவது,



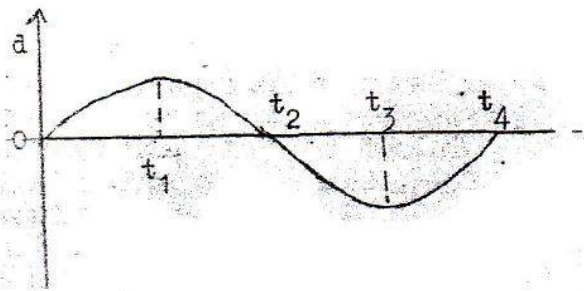
40. அருகில் தரப்பட்டுள்ள படத்தில் பிரயோசிக்கப்படும் விசை  $F$  திணிவற்றதும் உராய்வற்றதுமாக சுப்பி சுருதப்படலாம்.  $m$  இல் தாக்கும் உராய்வு விசை  $f$  ஆயின் திணிவு  $m$  இன் ஆர்முடுகல்,

- (1)  $F/m$
- (2)  $(F - f)/m$
- (3)  $(F + f)/m$
- (4)  $F/2m - f/m$
- (5)  $F/2m + f/m$



41. பொருளொன்றினது பெயர்ச்சி (a) நேரம் (t) வரைபு, படத்தில் காட்டப்பட்டுள்ளவாறு அமைந்துள்ளது.

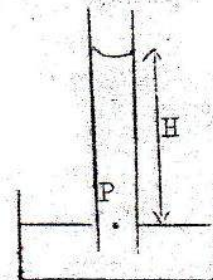
- (A) -  $t_2$  இலும்  $t_3$  இலும் வேகம் திசை மாறுகிறது.
- (B) -  $t_2$  இலும்  $t_3$  இலும் ஆர்முடுகல் திசை மாறுகிறது.
- (C) -  $t_1$  இலும்  $t_3$  இலும் ஆர்முடுகல் பூச்சியும்.



மேற்கூறப்பட்டுள்ளவற்றுள்,

1. (A) மாத்திரம் உண்மையானது.
2. (B) மாத்திரம் உண்மையானது.
3. (C) மாத்திரம் உண்மையானது.
4. (A), (C) ஆகியன மாத்திரம் உண்மையானவை.
5. (B), (C) ஆகியன மாத்திரம் உண்மையானவை.

42. காட்டப்பட்டுள்ள ஒருங்கில்,  $T$  மேற்பரப்பு இழுவையுடையதும்  $p$  அடத்தியுடையதுமான நீர்,  $r$  ஆரையுடைய மயிர்த்துளைக் குழாய் ஒன்றினால் உயரத்தை அடைகிறது. வளி மண்டலழுக்கம்  $\lambda$  ஆயின், புள்ளி  $P$  யிலுள்ள அழுக்கம்

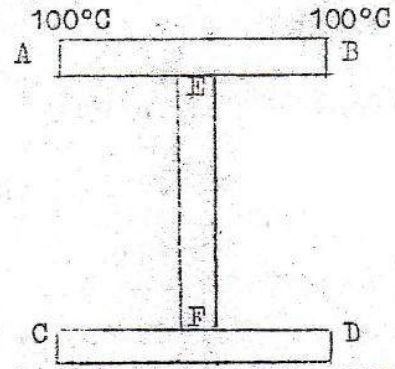


1.  $\lambda + Hpg$
2.  $\lambda + Hpg - \frac{2T}{r}$
3.  $\lambda + Hpg - \frac{2T}{r}$
4.  $\lambda$
5. பூச்சியம்.

3. புவியின் ஈர்ப்புப் புலத்திலிருந்து மூலக்கூறுகள் தப்பும் சுதி அண்ணளவாக  $1.1 \times 10^4 \text{ ms}^{-1}$  ஆகும். எவ்வெப்பநிலையில், ஐதரசன் அணுக்கள் மட்டுமட்டாகத் தப்புவதற்கு ஏதுவான சராசரிக் சுதியைக் கொண்டிருக்கும்? ஐதரசன் அணுவொன்றின் திணிவு  $17 \times 10^{-27} \text{ kg}$  அகில வாயு ஒருமை  $R = 8.3 \text{ J mol}^{-1} \text{ K}^{-1}$  ஆவகாதரோவில் எண்  $N = 6.0 \times 10^{23} \text{ mol}^{-1}$

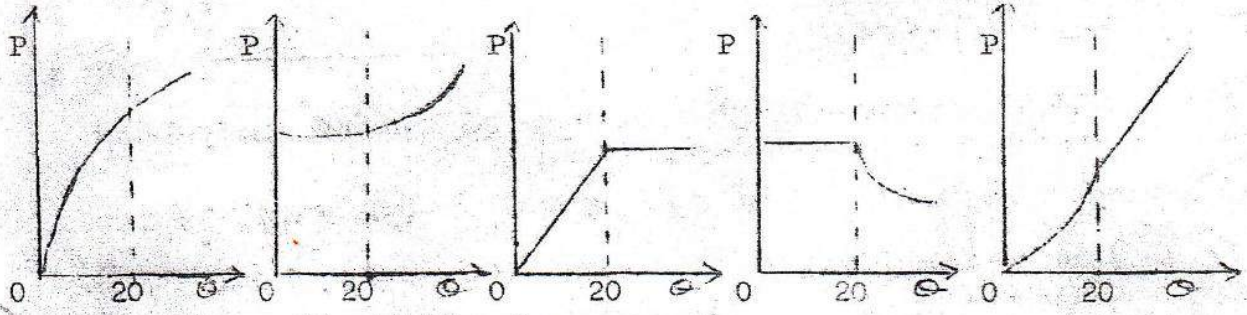
- (1)  $\frac{1.7 \times 1.1 \times 6 \times 10^4}{3 \times 8.3} \text{ K}$  (2)  $\frac{1.7 \times 1.21 \times 6 \times 10^4}{3 \times 8.3} \text{ K}$   
 (3)  $\frac{1.7 \times 1.1 \times 6 \times 10^4}{8.3} \text{ K}$  (4)  $\frac{2 \times 1.7 \times 1.21 \times 6 \times 10^4}{3 \times 8.3} \text{ K}$   
 (5)  $1.7 \times 1.21 \times 6 \times 10^4 / 8.3 \text{ K}$

44. மூன்று சர்வசமமான, சீரான உலோகச் சட்டங்கள் AB, CD, EF என்பன படத்திற் காட்டப்பட்டுள்ளவாறு ஒன்றுகப் பொருத்தப்பட்டுள்ளன. முனைகள் C, D இரண்டும்  $0^\circ\text{C}$  உறுதி வெப்பநிலையில் நிலைநிறுத்தப்பட்டிருக்கையில், முனைகள் A, B இரண்டும்  $100^\circ\text{C}$  உறுதி வெப்பநிலையில் நிலைநிறுத்தப்பட்டுள்ளன. சுற்றூலக்கான வெப்ப இழப்புகள் புறக்கணிக்கத்தக்கதாயின், புள்ளி F இன் வெப்பநிலை,

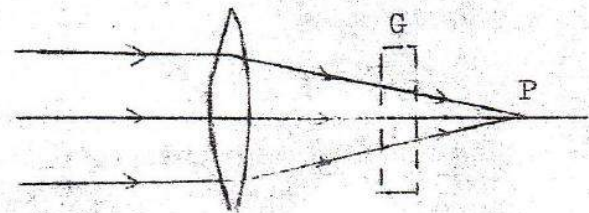


1.  $0$  2.  $8\frac{1}{3}^\circ\text{C}$  3.  $16\frac{2}{3}^\circ\text{C}$  4.  $25^\circ\text{C}$  5.  $33\frac{1}{3}^\circ\text{C}$

45. மூடிய கொள்கலமொன்று  $20^\circ\text{C}$  இலுள்ள, நீரைக் கொண்டிராத நீராவியினால் நிரம்பிய வகையைக் கொண்டுள்ளது. இக்கொள்கலம்  $0^\circ\text{C}$  க்கு குளிராக்கப்பட்டு, பின்பர்  $50^\circ\text{C}$  க்குச் சூடாக்கப்படுகிறது. கொள்கலத்திலுள்ள ஆவியமூச்சம் P கைய வெப்பநிலை  $\theta^\circ\text{C}$  இன் சார்பாகத் திறம்படக் காட்டும் வரைபு பின்வருவனவற்றுள் எதுவாகும்?



46. சமாந்தர ஒளிக்கற்றையொன்று, குவிவுவில்லையொன்றில் பட்டு P யில் விம்பமொன்றை உருவாக்குகிறது. படத்தில் காட்டப்பட்டுள்ளவாறு வில்லைக்கும் P க்குமிடையில் ஒரு சுண்ணாடித் தட்டு G உட்புகுத்தப்படும் போது,

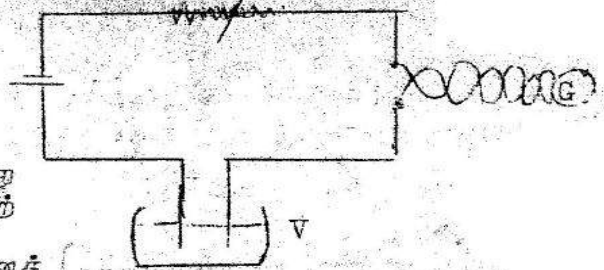


1. விம்பம், இன்றும் P யிலேயே இருக்கும்.
2. விம்பம், P யின் இடப்பக்கத்தில் உருவாகும்.
3. விம்பம் P யின் வலப்பக்கத்தில் உருவாகும்.
4. வெவ்வேறு நிறங்களையுடைய பல விம்பங்கள் P க்கு அருகாமையில் உருவாகும். இங்கு சிவப்பு விம்பம் வலது எல்லையிலிருக்கும்.
5. வெவ்வேறு நிறங்களையுடைய பல விம்பங்கள் P க்கு அருகாமையில் உருவாகும். இங்கு சிவப்பு விம்பம் இடது எல்லையிலிருக்கும்.



47.

மேலே தரப்பட்டுள்ள சுற்றில், ஒரு தாங்கல் கல்வனோமாகி, V ஒரு செப்பு வோற்றோமாகி, கல்வனோமாகியின் திறம்பல்  $\epsilon$  (திறம்பல்), ஆகக் காணப்பட்டது T நேர் ஆயிடையொன்றில், வோற்றோமாகியில் படிந்த செப்பின் திணிவு m ஆகும். செப்பினது மின்னிரசாயகச் சமவலு e ஆயின் கல்வனோமாகியின் மர்ந்துக் காரணி K யைத் தருவது பின்வருவனவற்றுள் எதுவாகும்?

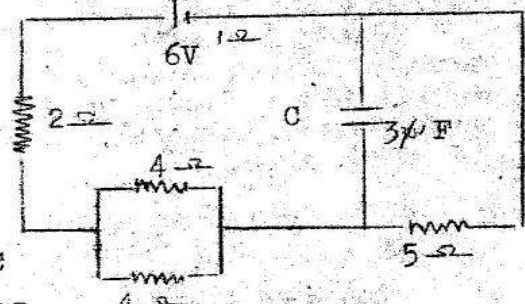


1.  $-\frac{m}{eT}$
2.  $-\frac{m}{eT}$  தாங்கல்
3.  $-\frac{m\epsilon T}{\text{தாங்கல்}}$
4.  $eT$  தாங்கல்

2.  $-\frac{m}{eT}$  தாங்கல்
4.  $-\frac{\text{தாங்கல்}}{m\epsilon T}$

48.


படத்தில் காட்டப்பட்டுள்ள சுற்றில், உறுதி நிலையில், கொள்ளளவி C யின் தட்டுக் கனவள்ள ஏற்றம்,



1. 0
2.  $7.5 \times 10^{-6} \text{ C}$
3.  $9.0 \times 10^{-6} \text{ C}$
4.  $10.0 \times 10^{-6} \text{ C}$
5. 9C

49.

I ஓட்டமொன்றைக் காவும் முடிவற்ற நீண்ட நேர் சும்பியொன்று, அதே ஓட்டம் I யைக் காவும் சதுரத்தடமொன்றின் தளத்துக்கு மேல் h உயரத்தில் சமச்சீராச படத்தில் காட்டப்பட்டுள்ளவாறு வைக்கப்பட்டுள்ளது.

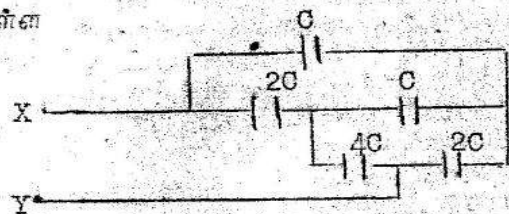


தடத்தில் தாக்கும் விளையுள் விசை F ஆகவும் விளையுள் முறுக்குத்திறன் (முறுக்கம்) T ஆகவுயிருப்பின்,

- (1)  $F = 0, T = 0$
- (2)  $F \neq 0, T = 0$
- (3)  $F = 0, T \neq 0$
- (4)  $F \neq 0, T \neq 0, T = Fh$
- (5)  $F \neq 0, T \neq 0, T \neq Fh$

50.

புள்ளிகள் X க்கும் Y க்குமிடையிலுள்ள பயன்படு கொள்ளளவம்,



- (1)  $C/2$
- (2) C
- (3) 2C
- (4) 4C
- (5) 6C

51.

M காந்தத் திருப்பதையுடைய குறுகிய சட்டக் காந்தமொன்று, குறுகிய அதிரும் காந்த ஊசியொன்றின் தெற்குத் திசையில், அதனை மையம் d தூரத்திலிருக்கும் வகையிலும், அதனை அக்க காந்த நள்வானில் (நெடுங் கோட்டில்) சிடக்கக்கூடியதாகவும் வைக்கப்பட்டபோது அதிர்வின் ஆவர்த்தனம்  $T_1$  ஆகக் காணப்பட்டது. காந்தம் முனைக்கு முனை புறமாற்றப்பட்டபோது ஆவர்த்தனம்  $T_2 (> T_1)$  ஆகியது. காந்தத்தில் இரு நிலைகளுக்கும் ஊசி ஒரே திசையைச் சுட்டுவதாகவும் அவதானிக்கப்பட்டது. புவிக்காந்தப் புலத்தின் சிடைக் செறிவு  $B$  ஆயின்

விசிகம்  $(T_1/T_2)^2$  ஐத் தருக?

1.  $B - \frac{\mu_0 2M}{2\pi d^3}$
2.  $B + \frac{\mu_0 2M}{2\pi d^3}$
- $B + \frac{\mu_0 2M}{2\pi d^3}$
- $B - \frac{\mu_0 2M}{2\pi d^3}$

Agaram.lk - Keep your dreams alive !

Agaram.lk - Keep your dreams alive !

3. 
$$\left[ \begin{array}{c} B - \frac{\mu_0}{2\pi} \frac{2M}{d^3} \\ B + \frac{\mu_0}{2\pi} \frac{2M}{d^3} \end{array} \right]^{\frac{1}{2}}$$

4. 
$$\left[ \begin{array}{c} B + \frac{\mu_0}{2\pi} \frac{2M}{d^3} \\ B - \frac{\mu_0}{2\pi} \frac{2M}{d^3} \end{array} \right]^{\frac{1}{2}}$$

5. 
$$\left[ \begin{array}{c} B - \frac{\mu_0}{2\pi} \frac{2M}{d^3} \\ B + \frac{\mu_0}{2\pi} \frac{2M}{d^3} \end{array} \right]^2$$

52.  $\mu_1$  முறிவுச்சுட்டியுடைய கண்ணடியைக் கொண்டு ஒருக்கும் வில்லையொன்று செய்யப்பட்டுள்ளது  $\mu_2$  ( $\mu_2 > \mu_1$ ) முறிவுச்சுட்டியுடைய திரவமொன்றினால் அது அமிழ்த்தப்பட்டுள்ளது. பின்வரும் கூற்றுக்களைக் கருதுக:

- (A) - வில்லை மேற்பரப்புக்களினது வளைவாக்கம் அதிகரிக்கிறது.
- (B) - வில்லையின் குவிய நகர்த்தின் பருமன் அதிகரிக்கிறது.
- (C) - அது விரிவில்லையொன்றுகிறது.

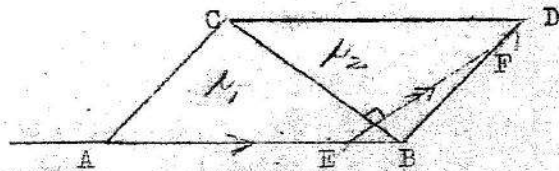
மேற்கூறப்பட்டுள்ளவற்றில்,

1. (A) மாத்திரம் உண்மையானது.
2. (B) மாத்திரம் உண்மையானது.
3. (C) மாத்திரம் உண்மையானது.
4. (B), (C) ஆகியன மாத்திரம் உண்மையானவை.
5. (A), (B), (C) ஆகிய எல்லாமே பொய்யானவை.

53. திறந்தவெளியில் சுயாதீனமாகத் தொங்கவிடப்பட்டுள்ள உ பக்கமுடைய கனவடிவம் ஒன்று, அதனை மேற்பரப்பில் சீராசுப் பரப்பப்பட்ட ஒரேற்றம்  $q$  வைச் காவுகின்றது. அதனை பக்கச்சுள் ஒன்றின் மையத்திற்கு மிக அருகிலமைந்த வெளிப்புள்ளியொன்றிலுள்ள மிக்புலம்,

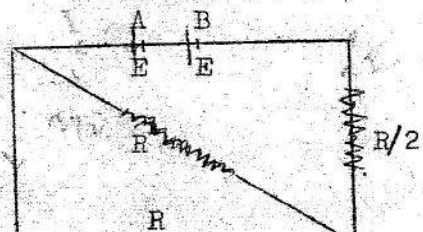
1.  $q/\epsilon_0$     2.  $q\epsilon_0/6a^2$     3.  $q^2/\epsilon_0$     4.  $q^2/6\epsilon_0$     5.  $q/6\epsilon_0 a^2$

54.  $\mu_1$  முறிவுச்சுட்டியுடைய ABC  
 $\mu_2$  முறிவுச்சுட்டியுடைய CBD  
 ஆகிய இரு அரியங்களும், படத்தில் காட்டப்பட்டுள்ளவாறு CB முக வழியே ஒன்றாக ஒட்டப்பட்டுள்ளன. காட்டப்பட்டவாறு ஒளிக்கதிரொன்று AB முகத்தில் மேல் E இல் மருவுகோணத்தில் பட்டு, BD முகத்தை விட்டு F இல் மருவுகோணத்தில் திரும்பவும் வெளியேறுகிறது. இங்கு CB, EFக்குச் செவ்வகமும், இக்கதிரின் மொத்த விலகல்,



1.  $\sin^{-1}\left(\frac{1}{\mu_1}\right) + \sin^{-1}\left(\frac{1}{\mu_2}\right)$     2.  $90 + \sin^{-1}\left(\frac{1}{\mu_1}\right) + \sin^{-1}\left(\frac{1}{\mu_2}\right)$
3.  $180^\circ - \sin^{-1}\left(\frac{1}{\mu_1}\right) - \sin^{-1}\left(\frac{1}{\mu_2}\right)$
4.  $180^\circ - \sin^{-1}\left(\frac{1}{\mu_1}\right) + \sin^{-1}\left(\frac{1}{\mu_2}\right)$
5.  $180^\circ + \sin^{-1}\left(\frac{1}{\mu_1}\right) - \sin^{-1}\left(\frac{1}{\mu_2}\right)$

55. படத்தில் காட்டப்பட்டுள்ள சுற்றில் மின்கலவருக்கியின் குறுக்கேயுள்ள அறுக்த வேறுபாடு பூச்சியமாயிருப்பதற்கு R இன் பெறுமதி என்னவாயிருக்க வேண்டும்?



1.  $r_1 - r_2$

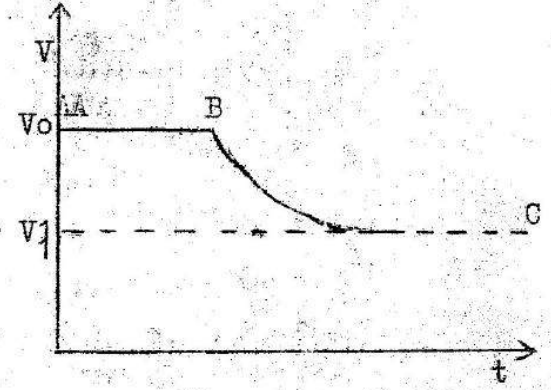
2.  $r_2 - r_1$

3.  $2/3(r_1 - r_2)$

4.  $2/3(r_2 - r_1)$

5.  $r_1 + r_2$

56. படத்தில் வலியுறுட்டாக சுயாதீனமாக விழும் கோள மழைத்துளியொன்றின் வேகம்  $V_0$ யை நேரம்  $t$  சார்பாக  $AE$  காட்டுகின்றது.  $B$  யில் மழைத்துளி இரு சிறிய சர்வசமமான துளிகளாக உடைகின்றது. இவையிரண்டும் தொடர்ந்து வளையி  $BC$  யினால் காட்டப்படும் வேகத்துடன் விழுகின்றன. இவ்வகையில்  $V_1$  இன் பெறுமதி.



1.  $V_0/8$

2.  $V_0/4$

3.  $V_0/2$

4.  $\frac{V_0}{2^{1/3}}$

5.  $\frac{V_0}{4^{1/3}}$

57. A பரப்பளவையுடையதும்  $n$  சுற்றுக்களையுடையதுமான சிறிய தட்டைச் சுருளொன்று மொத்தமாக  $N$  சுற்றுக்களைக் கொண்ட  $L$  நீளமுடைய நீண்ட வரிச் சுருளொன்றினுள் தொங்கவிடப்பட்டுள்ளது. வரிச்சுருளின் அச்சுடன் சுருளின் தளம்  $\theta$  கோணத்தை ஏற்படுத்துகிறது. ஒவ்வொன்றினும் ஒட்டம்  $r$  பாயுமாயின், தட்டைச்சுருளின் மேலுள்ள முறுக்கம் (முறுக்குதிறம்)

1.  $\frac{\mu_0 N I^2 A \sin \theta}{L}$


2.  $\frac{\mu_0 n N I^2 A \sin \theta}{L}$

3.  $\frac{\mu_0 N I A \cos \theta}{L}$

4.  $\frac{\mu_0 n N I A \sin \theta}{L}$

5.  $(n N I^2 A \cos \theta) / L$


58. வெப்பக் கவிலிட்ட அறையொன்றினுள் ஒரு குளிரேற்றி, அதனுடைய குடப்பட்டு நிலையில் இயங்குகிறது.  $t = t_0$  நேரத்தில், இக்குளிரேற்றியின் சுதவு திறந்து விடப்படுகிறது. அறைவெப்பநிலை  $\theta$  நேரம்  $t$  யுடன் மாறுவதைக் குறிக்கும் வரைபு பின்வருவனவற்றுள் எதுவாகும்?




(1)



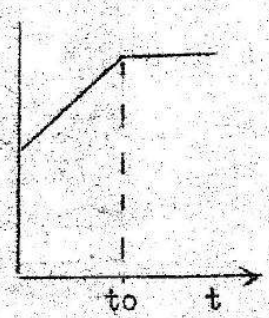
(2)



(3)




(4)



(5)

59.



சிடையான மேசையொன்றின் மேல் இரு சர்வசமமான சட்டக் காந்தங்கள் படத்தில் காட்டப்பட்டுள்ளவாறு தமது  $N$  முனைகள் ஒன்றாகச் சேர்த்துப் பிடிக்கப்பட்ட நிலையில் வைக்கப்பட்டுள்ளன. அவற்றின் அச்சுக்கள் புவிக்காந்தப் புலம்  $H$  க்குச் செவ்வனாயுள்ளன. இக்காந்தங்களைச் சுற்றி எத்தனை குவியப்புள்ளிகள் (பூச்சியப்புள்ளிகள்) இருக்கும்?

1. 1

2. 2

3. 3

4. 4

5. ஒன்றுமில்லை.

36. சுவாமியார் வீதி, கொழும்புத்தறை, யாழ்ப்பாணம்.

பெளதீசுவியல் 11. ச.பொ.த. (உயர்தரம்) மாதிரி விடைகள், ஓகஸ்ட், 1982.

மேலதிகப் பரீட்சை

புதிய பாடத்திட்டம்

பகுதி B - அமைப்புக் கட்டுரை

( $g = 10 \text{ N kg}^{-1}$ )

1. (a) அல்லது (b) க்கு விடை தருக?

(a) யங்கின் மட்டை வரைவிலக்கணப்படுத்தக?

சீரான கம்பியொன்று அக்கம்பி உடையும் வரையும் மெதுவாக இழுவை (இழுவிசை) யைக் கூட்டுவதன் மூலம் ஈர்க்கப்படும்போது என்ன நடக்கின்றது என்பதைப் பொருத்தமான வரைபொன்றின் உதவியுடன் பண்பறிதற்குரிய வகையில் விபரிக்க?

a பக்கத்தையுடைய சமபக்க முக்கோண வடிவத்திலுள்ள பாரமற்ற விதைத் தட்டை (தகடு) ஒன்று அதன் உச்சிகளுக்குப் பொருத்தப்பட்டுள்ள சமநீளமும், சமகுறுக்கு வெட்டுமுடைய மூன்று நீண்ட நிலைக்குத்தான கம்பி களினால் சிதையாகத் தொங்கவிடப்பட்டுள்ளது. இக்கம்பிகளில் இரண்டு செப்பினாலும் அடுத்த இரும்பினாலும் செய்யப்பட்டுள்ளன. இவ்வட்டின் மேல் நிறையொன்றை, இந்நிறையின் தாக்கத்தின் கீழ் கம்பிகள் விரிவடையும் போதும் அடர் சிதையாகவே இருக்கும் வகையில் எங்கு வைக்கவேண்டும்.

செப்பினை யங்கின் மட்டு  $1.2 \times 10^{11} \text{ Nm}^{-2}$

இரும்பினை யங்கின் மட்டு  $1.8 \times 10^{11} \text{ Nm}^{-2}$

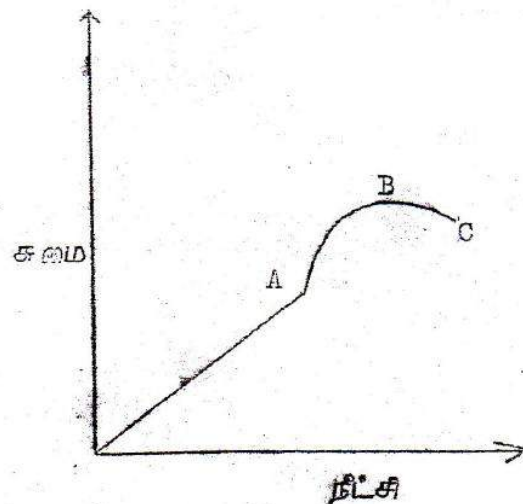
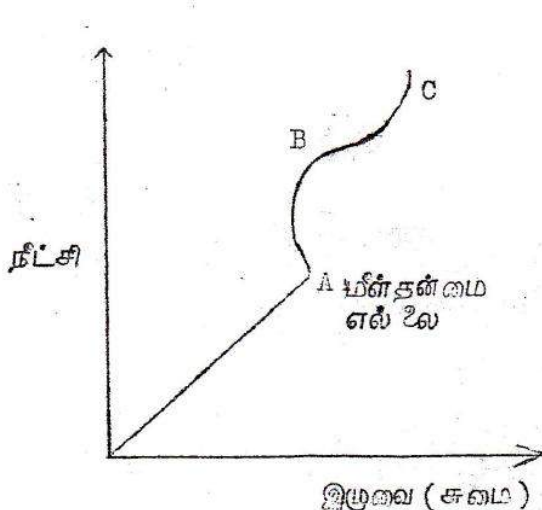
(b) பிசுக்குமையில் (பாகுநிலையில்) ஸ்ரோக்கின் (தோக்கின்) விதியைக் கூறி பரிமாணங்கள் முறையைப் பாவித்து அதனை வரம்புப் பூர்க்க?

ஆழமான பாத்திரமொன்று  $P_0$  அடர்த்தியையுடைய நீரினால் நிரம்பி உள்ளது. இப்பாத்திரத்தில் அடிப்புறத்தில்  $x$  ஆழத்தில், ஓய்விலிருந்து விடுவிக்கப்படும்,  $x$  ஆரையுடையதும்,  $P(<P_0)$  அடர்த்தியையுடையதமான சிறு கோளமொன்று சிறுபொழுதில் முடிவு வேகத்தை அடைகின்றது. வளித்தடையும் நீர் மேற்பரப்பினிடாகப் பந்த செல்லும் போதுள்ள சக்தி நடவடிகளையும் புறக்கணித்து இக்கோளத்தின் கதி அடுத்தப் பூச்சியமாக வரும் உயரத்தை கணிக்க.

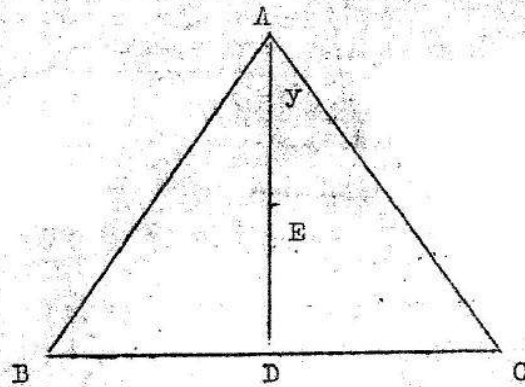
உற்பத்தி விடுவித்தற் புள்ளிக்கு, இக்கோளம் எப்போதாவது திரும்பி வருமா? விளக்குக? நேரத்தின் சார்பாகக் கோளத்தின் உயரத்தைக் குறிக்கும் அண்ணளவான வரைபொன்றை வரைக?

விடை:

1. (a) மீள்தன்மை எல்லைக்குள் இழுவிசைத் தகைப்பிற்கும் இழுவிசை விகாரத்திற்கும் உள்ள விசிதம் யங்கின் மட்டு எனப்படும்.



மளதனமை எலலை A இலுள் நடன அனயத்து தளமயை உடைய அப்பால் கம்பி உடையும்வரை இந்நேர்விசை சமன் சாத்தியமாகாது.



இரும்புக்கம்பியில் செயற்படும் விசை  $F_1$  செப்புக்கம்பியில் செயற்படும் விசை  $F_2$  என்க.

∴ இரும்பிலுள்ள விகாரம் =  $\frac{F_1}{A \times 1.8 \times 10^{11}}$

செபிலுள்ள விகாரம் =  $\frac{F_2}{A \times 1.2 \times 10^{11}}$

அடர் கிடையாக இருப்பதற்கு இரு விகாரங்களும் சமமாக இருத்தல் வேண்டும்.

$$\frac{F_1}{A \times 1.8 \times 10^{11}} = \frac{F_2}{A \times 1.2 \times 10^{11}} \quad \frac{F_1}{F_2} = \frac{3}{2} \quad 2F_1 = 3F_2 \quad \text{--- (1)}$$

B இலும் C இலும் உள்ள செப்புக்கம்பியில் தாக்கும் விசைகளின் விளையுள் D இல் தாக்கும்  $2F_2$  இற்கு சமனாகும். இற்கு D, BC இன் நடுப்புள்ளி A இலுள்ள  $F_1$  இனதம் D இலுள்ள  $2F_2$  இனதம் விளையுள் E இல் தாக்குகிறது என்க. இற்கு  $AE = y$  என்க. E பற்றி திருப்பம் எடுக்க.

$$F_1 \cdot y = 2F_2(AD - y)$$

ஆனால்

$$AD = \sqrt{a^2 - a^2/4} = \sqrt{3}a/2$$

$$F_1 y = 2F_2(\sqrt{3}a/2 - y)$$

$$y = \frac{2F_2}{F_1} (\sqrt{3}a/2 - y) \quad (\because F_2/F_1 = 2/3)$$

$$= 2 \times 2/3 (\sqrt{3}a/2 - y) = 2a/\sqrt{3} - 4y/3 = 2\sqrt{3}a/7$$

எனவே அடர்கிடையாக இருப்பதற்கு நிறையை E இல் வைத்தல் வேண்டும்.

$$AE = \frac{2\sqrt{3}a}{7} \quad \text{ஆகும்}$$

(b)

ஆரயுடைய ஒரு கோணம் முடிவுவேகம்  $v$  உடன்  $\eta$  பாகுநிலைக்குகைமுடைய ஊடகத்தில் இயங்கும்போது அதில் செயற்படும் பாகுநிலை விசை.

$$F = 6\pi \eta a v \quad \text{இனால் தரப்படும்}$$

$$F - \text{இன் பரிமாணம்} = MLT^{-2}$$

$$a - \text{இன் பரிமாணம்} = L$$

$$v - \text{இன் பரிமாணம்} = LT^{-1}$$

$$\eta - \text{இன் பரிமாணம்} = ML^{-1}T^{-1}$$

$$F = 6\pi \eta a v \quad \text{இல் வலது பக்கத்தின் பரிமாணம்} = ML^{-1}T^{-1} L^2 T^{-1}$$

$$= MLT^{-2}$$

= இ.ப. பரிமாணம்

∴ சமன்பாடு பரிமாண முறைப்படி சரியாகும்.

$$\text{கோணத்தில் திணிவு} = m = \frac{4}{3}\pi a^3 \rho$$

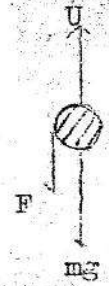
$$\text{மேலகதப்பு} U = \frac{4}{3}\pi a^3 \rho_0 g$$

$$\text{பாகுநிலை விசை} F = 6\pi \eta a v$$

$$\text{முடிவு வேகத்தடன் இயங்கும்போது} U = F + mg$$

$$\frac{4}{3}\pi a^3 \rho_0 g = \frac{4}{3}\pi a^3 \rho g + 6\pi \eta a v$$

$$v = \frac{2}{9} \cdot \frac{a^2 g}{\eta} \cdot (\rho_0 - \rho)$$



கோளம் நீர்ப்பரப்பில் விடுவிக்கப்படும்போது நிலைக்குத்து வேகத்தைக் கொண்டிருக்கும் கோணத்தில் சுதி பூச்சியமாக வரும் உயரம்  $h$  என்க.

$$v^2 = U^2 + 2gh \quad \text{இலிருந்து}$$

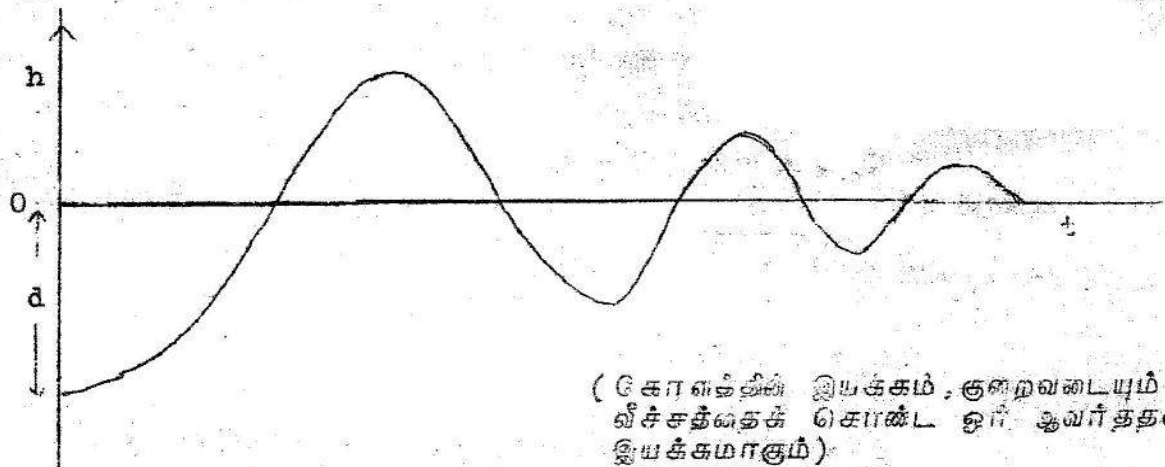
$$0 = v^2 - 2gh$$

$$h = v^2 / 2g$$

$$h v = \frac{2}{81} \cdot a^4 \frac{g}{2\eta} \cdot (\rho_0 - \rho)^2$$

இல்லை

கோளம் மீண்டும்  $v$  வேகத்தடன் நீர்ப்பரப்பினடாக சென்றாலும், அதன் கீழ் நோக்கிய இயக்கத்தில் பாகுநிலைவிசையும் மேலகதப்பும் எதிர்ப்பதால் அடியை அடைவதற்கு முன் ஓய்வடைந்துவிடும்.



(கோளத்தில் இயக்கம், குறைவடையும் வீச்சத்தைக் கொண்ட ஓர் ஆவர்த்தன இயக்கமாகும்)

2. (a) அல்லது (b) க்கு விடை தருக:

$\mu$  முறிவுச்சுட்டியையுடையதும்,  $A$  முறிவுக்கோணத்தையுடையதான சிறகோண அரியமொன்றிற்கடாகச் செல்லும் ஒளிக்கதிர்ொன்றினது விலகல்  $D$

$$D = (\mu - 1) A$$

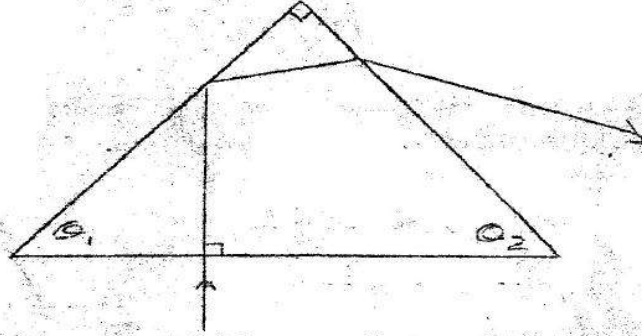
என்பதாற் தரப்படும். இக்கோவையை வில்லையொன்றின் சூவிய நீண்ட  $r$  இற்கு, அதன் முறிவுச் சுட்டி  $\mu$  மேற்பரப்புகளிரண்டினதும் ஈளைவாகரகக்  $r_1, r_2$  முதலியவற்றிலான கோவையொன்றைக் திருவிக்கப் பாவிக்கുക.

ஒரு தளக்குவிவுவில்லை 1.5 முறிவுச்சுட்டியையுடைய திரவியமொன்றினால் செய்யப்பட்டுள்ளது. தாழியொன்றிலுள்ள இரசத்தடன் அதனை தளமேற்பரப்பு தொட்டுக் கொண்டிருக்கக் கூடியதாகக் கிடையாக இவ்வில்லை வைக்கப்படும் பொழுது தலைமையக்சில் வைக்கப்படும் பொருளொன்று வில்லைக்கு மேல் 24 சமீ. உயரத்திலுள்ள அதனை விம்பத்தடன் ஒன்றிணைசின்றது. இவ்வில்லை திருப்பப்பட்டு அதன் வளைந்த மேற்பரப்பு இரசத்தைக் தொட்டுக்கொண்டிருக்கக் கூடியதாக வைக்கப்பட்டால் வில்லைக்கு மேல் எவ்வயரத்தில் இவ்வொன்றிப்பு நடைபெறும்?

இவ்வில்லையின் தள மேற்பரப்பு இரசத்தைச் தொட்டுக்கொண்டிருக்கும்மாறு மீண்டும் இவ்வில்லை வைக்கப்பட்டு, இவ்வில்லை மட்டுமட்டாக நீருக்குள் அமிழ்த்தப்பட்டிருக்கும்வகையில் 1.3 முறிவுச்சட்டியையுடைய நீர் தாழிக்குள் ஊற்றப்படுகிறது. இப்போது, வில்லைக்கு மேல் எவ்வயரத்தில் பொருள் ஒன்று அதை விம்பித்தடல் ஒன்றிணையும்?

(b) "முழு அகத்தெறிப்பு", "அவதிக் கோணம்" (மாறுநிலைக் கோணம்) ஆகிய பதங்களால் நீர் விளங்கிக்கொள்வது யாவையென விளக்குக?

60° கண்ணாடியரியமொன்றும் கடதாசி ஒற்றையொன்றும் சில ஊசியும் உமக்குத் தரப்பட்டுள்ளன. கண்ணாடியின் அவதிக் கோணத்தை அளவிட, இவைகளை நீர் எவ்விதம் பாவிப்பீர் என்பதை விளக்குக?



முறிவுச்சட்டியையுடைய செங்கோணவரியமொன்றுக்கடாண ஒளிக்கதிர் ஒன்றிணை பாதையை வரிப்படம் காட்டுகிறது.

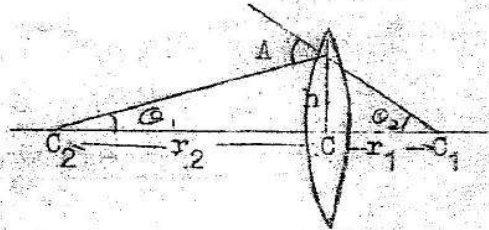
$$\theta_1 > \sin^{-1}(\mu) > \theta_2 \text{ எனக் காட்டுக?}$$

விடை.

27 a) தலைமை அச்சிலிருந்து h உயரத்தில் இடைவெட்டும் ஆரைகளுக்கு இடைப்பட்ட கோணம் அரியக் கோணம் A ஆகும்.

$$A = \theta_1 + \theta_2$$

$$\theta_1 = h/CC_2 \quad \theta_2 = h/CC_1$$



குறிவழக்கின்படி

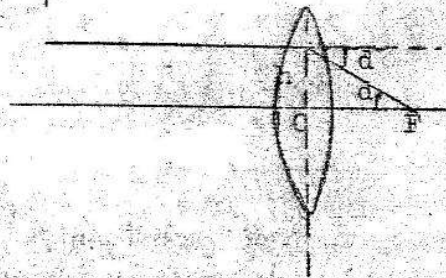
$$CC_2 = +r_2 \quad ; \quad CC_1 = -r_1$$

$$\theta_1 = h/r_2 \quad ; \quad \theta_2 = h/-r_1 \quad \therefore A = h(1/r_2 - 1/r_1)$$

தலைமை அச்சிற்கு சமாந்தரமாக h உயரத்தில் படும் ஒளிக்கதிரின் விலகல் கோணம் a

$$a = h/CF$$

குறிவழக்கின் படி CF = -f ; a = -h/f



ஆனால் சிறு கோண அரியத்தின் விலகல் a = (\mu - 1)A

$$\therefore -h = (\mu - 1)(1/r_2 - 1/r_1)$$

$$\therefore 1/f = (\mu - 1)(1/r_1 - 1/r_2)$$

நல்லையின் குவியத்தூரம் 24 சமீ ஆகும்.

வில்லைக்கு, குறிவழக்கின் படி, f = -24, \mu = 1.5, r = -r, r\_2 = \infty

$$1/f = (\mu - 1)(1/r_1 - 1/r_2) \text{ இல் பிரதியிடு}$$

$$-\frac{1}{24} = (1.5 - 1) \left(\frac{1}{f} - \frac{1}{\infty}\right)$$

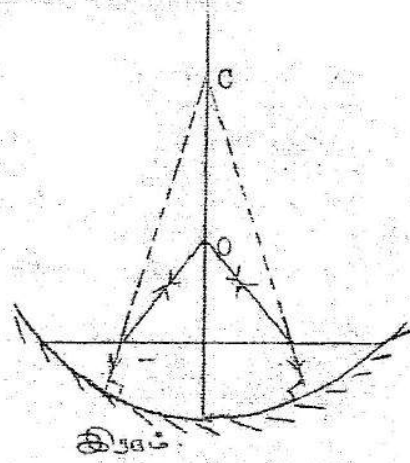
$$-\frac{1}{24} = \frac{0.5}{r} ; r = 12 \text{ cm}$$

$$V = +12, U = ?, f = -24 \text{ cm}$$

வில்லைச் சூத்திரம்  $1/V - 1/U = 1/f$  இலிருந்து

$$\frac{1}{12} - \frac{1}{U} = \frac{1}{-24}, \frac{1}{U} = \frac{3}{24}$$

$$U = 8 \text{ cm}$$



நீரினாலான தளக்குவிவிலையினதும்  
கண்ணாடியாலான தளக்குவிவிலையினதும்  
சேர்மானமாக கருதலாம். நீர்  
வில்லைக்கு,

$$f = ?, \mu = 1.3, r_1 = \infty, r_2 = -12$$

$$\frac{1}{f} = (-1) \left(\frac{1}{r_1} - \frac{1}{r_2}\right) \text{ இல் பிரதியிட}$$

$$(1.3 - 1) \left(-\frac{1}{\infty} - \frac{1}{-12}\right)$$

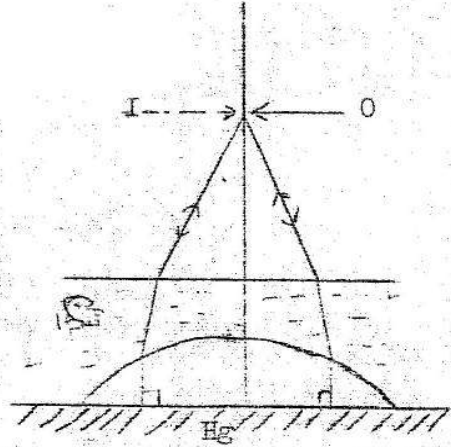
$$f = 40 \text{ cm}$$

சேர்மான வில்லைக்கு,

$$F = ?, f_1 = +40, f_2 = -24$$

$$\frac{1}{F} = \frac{1}{f_1} + \frac{1}{f_2} \text{ இல் பிரதியிட}$$

$$\frac{1}{F} = \frac{1}{40} - \frac{1}{24} = -\frac{4}{60}$$

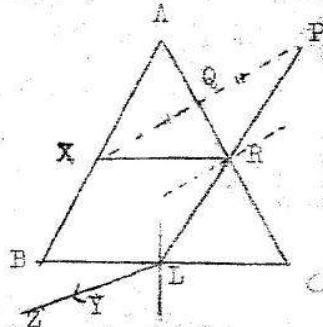


$$\therefore F = -60$$

$\therefore 60 \text{ cm}$  தூரத்தில் பொருந்தும்

(b) முழுவுட்டெறிப்பு: ஒளிக்கதிர் அடர்ந்த ஊடகத்திலிருந்து ஐதான ஊடகத்திற்கு செல்லும்போது, படுகோணம் ஒரு குறித்த பெறுமானத்திற்கும் அதிகரிக்கும்போது ஒளிக்கதிர் ஊடுகடத்தப்படாது முழு ஒளிக்கதிரும் அடர்ந்த ஊடகத்தில் ஒளித்தெறிப்பு விதிக்கமைய தெறிப்படையும், இது முழுவுட்டெறிப்பு எனப்படும்.

அவதிக் கோணம்: இது முழுவுட்டெறிப்பு நடைபெறுவதற்கான படுகோணத்தின் மிகக் குறைந்த பெறுமானமாகும்.



கடதாசியின் மேல் அரியம் வைக்கப்பட்டு புறவு வரையப்படும். இதன் மேல் பரப்பு AB இல் உள்ள புள்ளி X இல் ஒரு ஊசி குற்றப்படும். முகம் BG இனடாக AC இது அவதானித்துக்கொண்டு X இல் விம்பத்தடன் பொருந்தக் கூடியதாக இரு ஊசிகள் Y, Z ஒரு குறித்தளவு இடைத்தூரத்தில் குற்றப்படும் (BC வழியே கண்ணை அசைக்கும்போது ஒரு குறித்த தூரத்தில் X இல் விம்பம் மறையும். இந்நிலையில் ஊசிகள் Y, Z குற்றப்படும்) இந்நிலையில் X இலிருந்து செல்லும் ஒளிக்கதிர் AC இல் அவதிக் கோணத்தில் தெறிப்படைந்து I இலிருந்து வெளியேறியிருக்கிறது. X இலிருந்து AC இற்கு வரையும் செங்குத்து XQ. XQ ஐ XQ = QP ஆகும்படி P இற்கு நீட்டுக. PL ஐ Q இலிருந்து AC ஐ வெட்டும் புள்ளி R. XRL முகம் AC இல் அவதிக் கோணத்தில் தெறிப்படையும் ஒளிக்கதிர் பாடையாகும்.



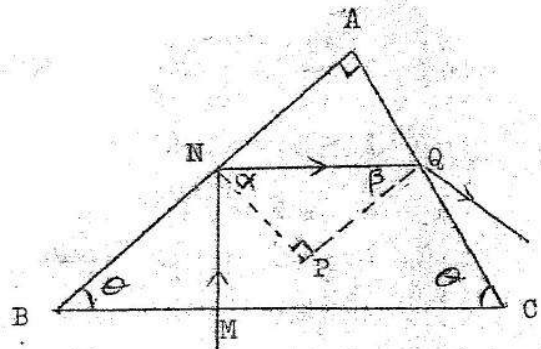
முக்கங்கள் AB, AC செவ்வன்கள் NP, QP  
NP, QP ஐ வரைக.

$$\theta_1 + (90 - \alpha) = 90$$

$$\therefore \alpha = \theta_1$$

$$\alpha + \beta = 90$$

$$\theta_1 + \theta_2 = 90 \quad \theta_2 = \beta$$



அவதிக்கோணம் C எனில்  $\sin C = 1/\mu \quad C = \sin^{-1}(1/\mu)$

N இல் முழுவூட்டெறிப்பு நடைபெறுவதால்  $\alpha > C$  ஆகும்  
 $\therefore \alpha > \sin^{-1}(1/\mu) \quad \theta_1 > \sin^{-1}(1/\mu) \quad \text{--- (1)}$

இல் ஒளிக்கதிர் முறிவடைந்து செல்வதால்  $\beta < C$  ஆகும்

$$\therefore \beta < \sin^{-1}(1/\mu)$$

$$\theta_2 < \sin^{-1}(1/\mu) \quad \text{--- (2)}$$

$$(1), (2) \quad \theta_1 > \sin^{-1}(1/\mu) > \theta_2$$

$$\theta_1 > \sin^{-1}(\mu^{-1}) > \theta_2$$

3. உருளை உலோகக் கோலொன்றின் வெப்பக் கடத்தாறைக் (கடத்துதிறன்) துணிவதற்கான முறையொன்றை விபரிக்க?

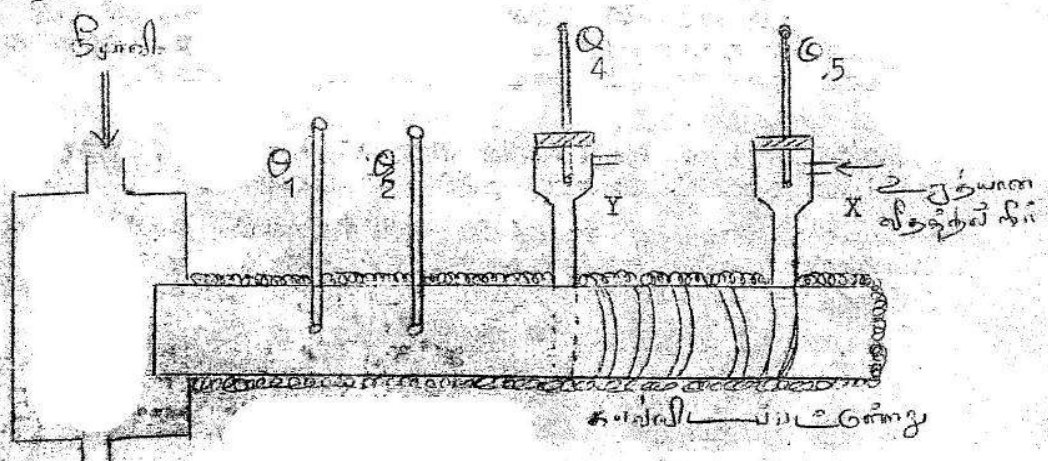
ஒரே நீளமுடைய இரண்டு உருளை உலோகக் கோல்கள் AB, BC என்பன B யில் முனைக்கு முனை பொருத்தப்பட்டுள்ளன. சுயாதீன முனைகள் A யும் B யும் மாறா வெப்ப நிலைக்கான  $100^\circ\text{C}$  இலும்  $0^\circ\text{C}$  இலும் முறையே நிலைநிறுத்தப்பட்டுள்ளன. பின்வரும் சந்தர்ப்பங்களுக்கு, சேர்த்திக் கோல்வழி வெப்பநிலையை முனை A யிலிருந்துள்ள தூரம் சார்பாகக் காட்டும் அண்ணளவான வரைபுகளைக் கீழ்க்.

1. இரு கோல்களும், ஒரே உலோகத்தினால் செய்யப்பட்டு ஒரே விட்டங்களைக் கொண்டிருப்பதுடன் சுற்றாடலுக்கு வெளிக்காட்டப்பட்டுள்ளன.
2. இரு கோல்களும், ஒரே உலோகத்தினால் செய்யப்பட்டு ஒரே விட்டங்களைக் கொண்டிருப்பதுடன் நன்றாக காவற்கட்டப்பட்டுள்ளன.
3. இரு கோல்களும், ஒரே உலோகத்தினால் செய்யப்பட்டு நன்றாக காவற்கட்டப்பட்டுள்ளன. ஆனால் AB யினது விட்டம் BC யினதின் இருமடங்காகும்.
4. இரு கோல்களும் ஒரே விட்டத்தைக் கொண்டுள்ளதன் நன்றாகக் காவற்கட்டப்பட்டுள்ளன. ஆனால் இரண்டும் வித்தியாசமான உலோகங்களிலானவை. AB கடிய வெப்பக்கடத்தாறைக் கொண்டுள்ளது.

மேலுள்ள சந்தர்ப்பங்கள் ஒவ்வொன்றிலும் B யிலுள்ள வெப்பநிலையைப்பற்றி உம்மால் என்ன கூறமுடியும்?

விடை:

3. சேனின் முறை:



நீராவியறையினூடாக மேலிருந்து கீழாக நீராவியைச் செலுத்தி கோல் வெப்ப மாக்கப்பம் அதே நேரத்தில் X இனூடாக உறுதியான விதத்தில் நீர் செலுத்தப்படும். தொடர்ச்சியாக செலுத்த ஒரு நிலையில் வெப்பமானிகள் உறுதி வாசிப்பை காட்டும், அப்போது கோலில் a இடைத்தூரத்திலுள்ள புள்ளிகளில் வெப்பநிலைகள்  $\theta_1, \theta_2$  உம் நீரின் ஆரம்ப, இறுதி வெப்பநிலைகள்  $\theta_3, \theta_4$  உம் குறிக்கப்படும். மேலும் Y இனூடாக வெளியேறும் நீரின் திணிவும் காணப்படும்.

1. செக். கோலினூடே கடத்தப்படும் வெப்பம் =  $KA \left( \frac{\theta_1 - \theta_2}{a} \right)$

1 செக். நீர் பெற்ற வெப்பம் =  $MC (\theta_4 - \theta_3)$

உறுதி நிலையில்  $KA \frac{(\theta_1 - \theta_2)}{a} = MC (\theta_4 - \theta_3)$

$\therefore K = MC (\theta_4 - \theta_3)$

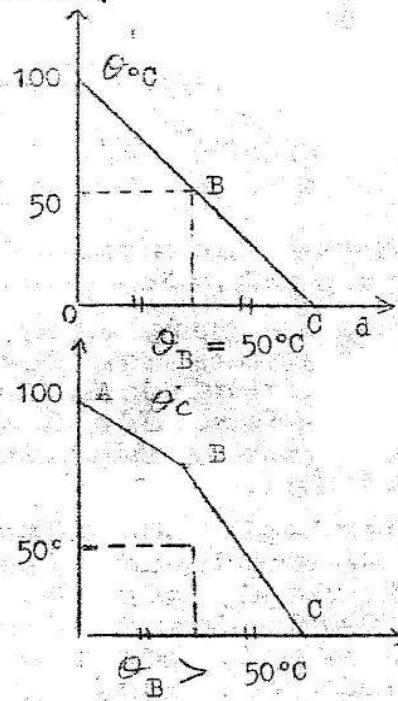
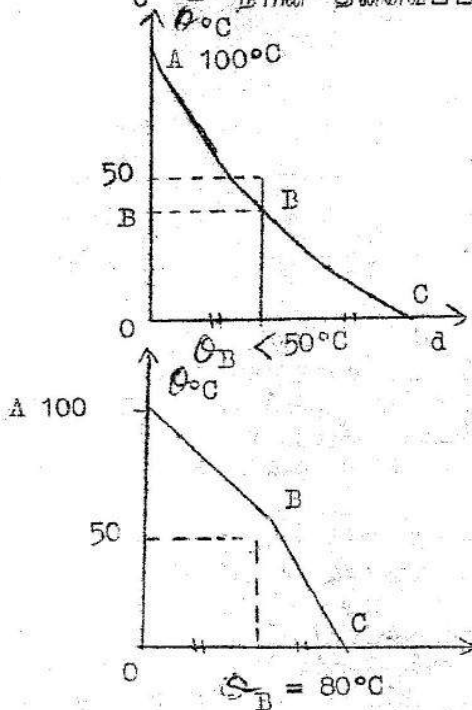
இங்கு

K - கோலின் வெப்பக்கடத்துதிறன்

A - கோலின் குறுக்குமுகப்பரப்பு

M - 1 செக்களில் பாயும் நீரின் திணிவு

C - நீரின் தன்வெப்பக் கொள்ளவு



4. விருத்தியலைகளையும் நிலையான அலைகளையும் வேண்டுகூத்தக:

மாறா இழுவையின் கீழுள்ள வளைதகு இழையொன்றின் வழியேயான குறுக்கலைகளின் செலுத்தலை வேகத்துக்குக் கோவையொன்றைத் தருக? பாவித்த எல்லாக் குறியீடுகளையும் வரைவிலக்கணப்படுத்தக?

2n நீளமுடைய சீரான இழையொன்றை 1.25 N நிறையொன்றினால் ஈர்க்கப்பட்டுள்ளது. இவ்விழையின் ஒரு முனை, 50 Hz மீட்டிரவெக்டைய அதிரும் இசைக்கவையொன்றினது சுவரொன்றுக்கு, சுவர்களின் தளத்துக்கு இழை செவ்வனாக இருக்கும் வகையில் கொடுக்கப்பட்டுள்ளது. இழையின் முழு நீள வழியே 10 முழுத்தடங்கள் உருவாகுவதாக அவதானிக்கப்படுகின்றது. இழை வழியேயான அலைகளின் வேகத்தையும் இழையின் திணிவையும் கணிக்க?

விடை:

விருத்தியலை அலை இயக்கத்தின் திசையில் அசைகிறது. இங்கு சக்தி அல்லது குழப்பம் அலையின் திசையில் முன்னேறிச் செல்லும்.

நிலையான அலை ஒரு ஊடகத்தில் எதிர்த்திசையில் செல்லும் ஒரு சர்வசமனான அலைகளின் மேற்பொருந்துகையால் உண்டாகிறது. இதில் சக்தி அல்லது குழப்பம் முன்னேறாது நிலையான அலையின் சுணுக்களும் முரண்கணுக்களும் காணப்படும்.

$V = \sqrt{T/m}$

இங்கு

- T - இழையிலுள்ள இழுவிசை
- m - ஒருலகு நீளத்தின் திணிவு
- V - குறுக்கலையின் வேகம்

ஒரு தடத்தின் நீளம்  $\lambda/2$  ஆகும்.  $\lambda$  அலைநீளம்

$$\therefore \text{இழையின் நீளம் } 2 = \lambda/2 \times 10 \quad \lambda = 2/5 \text{ m}$$

இழையின் அதிர்வெண் 25 Hz

$$\text{வேகம் } v = n\lambda = 25 \times 2/5 = 10 \text{ ms}^{-1}$$

இழையின் திணிவு M எனின், ஓரலகு நீளத்தின் திணிவு = M/2

$$v = \sqrt{T/M} \quad M = 2.5/100 \text{ kg} = (2.5/100) \times 1000 \text{ g}$$

$$10 = \sqrt{\frac{1.25}{M/2}} = \sqrt{2.5/M} \quad = 25 \text{ g}$$

5. (a) அல்லது (b) க்கு விடை தருக.

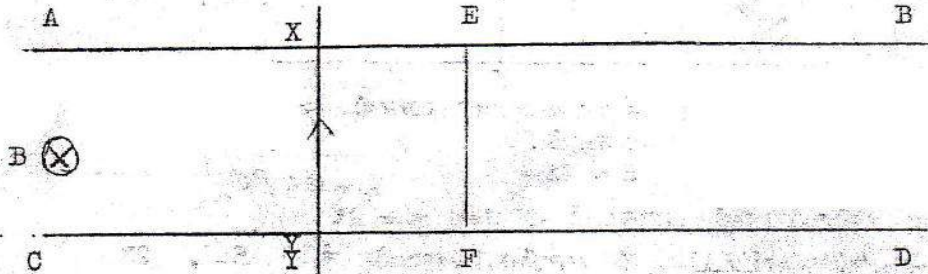
ஒரு எளிய ஈய - அமில. சேமிப்புக் கலத்தின் பாவனையின் போதும் மீளேற்றலின் போதும் அதன் நேர்மின்வாயிலும் மறை மின்வாயிலும் நடைபெறும் தாக்கங்களின் இரசாயனச் சமன்பாடுகளை எழுதுக?

மின்கலவருக்கு மின்னேற்றப்பட வேண்டுமா இல்லையா என்பதை அமிலத்தின் அடர்த்தி எவ்விதம் உமக்கு அறிவிக்கும்.

மி.இ.வி 20V உடையதும் மாறிலியாகக் கருதப்படக்கூடிய உட்டை 2 Ω உடையதுமான சேமிப்புக் கலமொன்று, 50V உறுதி நேர் ஓட்ட முதலொன்றையும் தொடர் தடையொன்றையும் பாவித்து மீளேற்றப்படுகின்றது. இதற்குத் தேவையான ஏற்றம் ஓட்டம் 2 A ஆயின், சேமிப்புக் கலத்தை 2 மணித்தியாலங்களுக்கு மின்னேற்றுவதற்குத் தேவையான சக்தியை சி.வா.ம. களில் கணிக்குக? இந்நேரத்தின் பின், சேமிப்புக் கலத்தில் சேகரிக்கப்படும் மேலதிகச் சக்தி யூல்கள் எத்தனை?

(b) மின்காந்த தூண்டல் விதிகளைக் கூறுக?


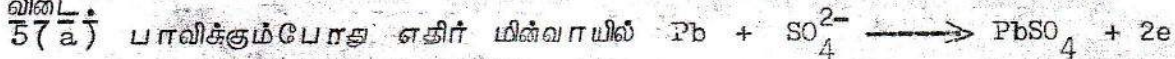
நான்கு திறந்த சீரான நைக்குரோம் கம்பிகள் AB, CD, EF, XY என்பன ஒரே குறுக்குவெட்டுப் பரப்பளவைக் கொண்டுள்ளன. படத்தில் காட்டப்பட்டுள்ளவாறு AB, CD, EF என்பன ஒன்றாகத் தொடுக்கப்பட்டு காந்தப் புலமொன்றுக்குச் செங்குத்தாக வைக்கப்பட்டுள்ளன.



கம்பி XY கம்பிகள் AB, CD ஆகியவற்றைத் தொட்டுக்கொண்டும் EF இற்குச் சமாந்தரமாகவும், இருக்கும் வகையில் வைக்கப்பட்டுள்ளது.

$2 \text{ ms}^{-1}$  மாறாக்கதியொன்றுடன் XY இப்போது வலம் நோக்கி அசைக்கப்படுகிறது நேரம்  $t = 0$  இல், கம்பி XY, EF உடன் ஏறக்குறைய ஒன்றிணைகின்றது. இவ்வேளையில் EF இனுள்ள ஓட்டம் 2 mA. EF இனது நீளம் 0.5 m ஆயின் 0.25 s இல் EF இனுள்ள ஓட்டத்தைக் கணிக்க? இவ்வோட்டத்தின் திசையைச் சுட்டிக் காட்டுக?

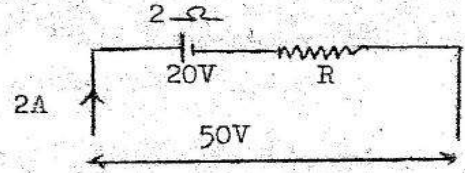
விடை:



பாவிப்பின்போது  $SO_2$ ,  $H_2SO_4$  அகற்றப்படுகிறது. சுரைசல் ஐதாசிறத இதனால் அடர்த்தி குறைவடைகிறது. அமிலத்தின் அடர்த்தி 1.25 இலிருந்து 1.18 இற்கு வீழ்ச்சியடையும்.

$$50 = 20 = (2 - R) 2$$

$$\therefore R = 13 \Omega$$



முதலிலிருந்து 2 மணித்தியாலத்தில் எடுக்கப்படும் சக்தி =  $VIt$

$$\frac{50 \times 2 \times 2}{1000} \text{ கி.வா.மணி} = 0.2 \text{ கி.வா.மணி}$$

$\therefore$  மின்னோற்றத் தேவையான சக்தி 0.2 கி.வா.மணி

2 மணித்தியாலத்தில் தடைகளில் இழக்கப்படும் சக்தி =  $I^2 R t$

$$= \frac{2^2}{1000} \times (2 + 13) \times 2 \times 60 \times 60$$

$$= 0.12 \text{ கி.வா.மணி}$$

சேமிப்புக் கலத்தில் சேமிக்கப்படும் சக்தி =  $0.2 - 0.12$

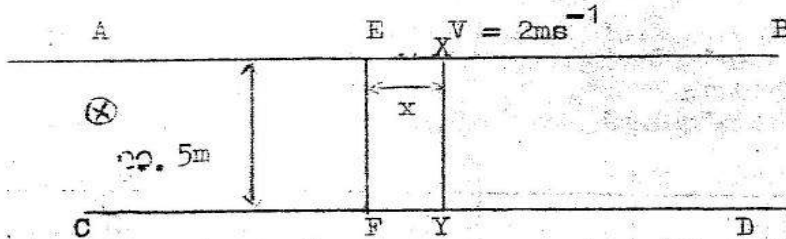
$$= 0.08 \text{ கி.வா.மணி}$$

$$= 0.08 \times 3600 \times 1000 \text{ யூல்}$$

$$= 2.9 \times 10^5 \text{ யூல்}$$

- (b) 1. ஒரு சுற்றில் தூண்டப்படும் மி.இ.வி. அதனால் தொடர்புடைய காந்தப் பாயம் மாறும் வீதத்திற்கு சமனாகும்.  
2. தூண்டப்படும் மி.இ.வி. அல்லது மின்னோட்டம் அதைத் தூண்டும் பாய மாற்றத்தை எதிர்க்கும் திசையில் இருக்கும்.

$$(\text{அல்லது } E = -\frac{d\phi}{dt})$$



கடத்திகள் ஒவ்வொன்றும் சீரானவையாதலால் ஒவ்வொன்றினதும் தடை அகல் நீளத்திற்கு நேர்விகித சமனாகும்.

$$R = Kl$$

$K = \text{மாறிலி}$

$XY$ ,  $t$  செக்கனில் அசையும் தூரம்  $x = 2t$

$$1 \text{ செக்கனில் வெட்டப்படும் காந்தப்பாயம்} = 0.5 \times 2B = B$$

$\therefore$  தூண்டப்படும் மி.இ.வி. =  $B$

$$\text{தடத்திலுள்ள மொத்தத் தடை} = 2K(0.5 + vt) = 2K(0.5 + 2t)$$

$$\therefore \text{தடத்தில் செல்லும் மின்னோட்டம் } I = \frac{B}{2K(0.5 + 2t)}$$

$$t = 0 \text{ ஆகும்போது } I = 2 \times 10^{-3} \text{ A}$$

$$\therefore 2 \times 10^{-3} = \frac{B}{K}$$

$$t = 0.25 \text{ செக். ஆயின் } I = \frac{B}{2K(0.5 + 2 \times 0.25)} = \frac{B}{2K} = 10^{-3} \text{ A} \quad (B/K = 2 \times 10^{-3})$$

$$= 1 \text{ mA}$$

மின்னோட்டம்  $\vec{EF}$  திசையில் அல்லது  $\vec{YX}$  திசையில் இருக்கும்.

6. நிலை மின்னியலில் கவுசின் விதியைக் கூறி, அதனை  $A$  குறுக்குவெட்டுப் பரப்பளவையும், வேறொக்கத்திற்குமுள்ள இது சமாதான உலோகத் தட்டுக்களுக்கிடையிலுள்ள கொள்ளளவும்.

$$C = \frac{E_0 A}{d}$$

என்பதாற் தரப்படும் எளிபங்க நிறுவல்

பாவிக்குக்?

இக் கொள்ளளவி, இப்போது  $E_0$  மி.இ.வி. உடைய கலமொன்றின் முடிவிடங்களுக்குத் தொடுக்கப்படுவதன் மூலம் மின்னேற்றப்படுகின்றது. அதனை தட்டுக்களுக்கிடையிலுள்ள வெளி  $K$  மின்னியை ஒருமை (மின்கோடு புகுவூடக மாறிலி) யையுடைய மின்னியைத் திரவியமொன்றினால் நிரப்பப்பட்டுள்ளது. தட்டுக்கள் மேலுள்ள ஏற்றத்தைக் கணிக்க?

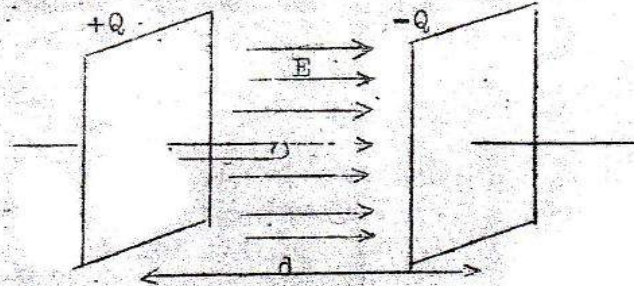
தட்டுக்களுக்கிடையிலுள்ள வேறாக்கம் இப்போது இரட்டிப்பாக்கப்படுகிறது. ஒரு தட்டை  $d$  தூரத்துக்கூடாக மின்னியைப் படையிலிருந்து அதனை தடிப்புடைய வெற்றிடம் வேறுபடுத்தும் வகையில், அசைப்பதன் மூலம் இது பெறப்படுகின்றது. பின்வரும் கணியங்கள், கூடுமா, குறையுமா அல்லது மாறாமல் இருக்குமா?

1. தட்டுக்களுக்கிடையிலுள்ள அழுத்த வேறுபாடு
2. தட்டுக்களிலுள்ள ஏற்றம்
3. மொத்தக் கொள்ளளவம்
4. கொள்ளளவியின் மொத்தச் சக்தி

இவை ஒவ்வொன்றுக்குமான விடையைச் சுருக்கமாக விளக்குக?

விடை:

6. கவுசின் விதி: யாதாயினுமொரு மூடிய மேற்பரப்பினூடாக வெளியேறும் மொத்த மின்பாயம்  $Q/\epsilon_0$  இற்கு சமனாகும். இங்கு  $Q$  மூடிய மேற்பரப்பினுள் உள்ள மொத்த ஏற்றம்  $Q_0$  சுயாதீன வெளியின் தனி அடிமதித்திறன் தட்டில் உள்ள ஏற்றம்  $+Q$  உம்  $-Q$  என்க. இவ்வேற்றமானது தட்டின் மேற்பரப்பில் சீராசுப்பரவியுள்ளது என்க. தட்டுக்கள் சமச்சீராக இருப்பின் தட்டுக்களுக்கிடையிலுள்ள மின்புலம் ( $E$ ) சீரானதாகவும் தட்டுக்களுக்கு செங்குத்தாகவும் இருக்கும். படத்தில் காட்டியவாறு குறுக்குமுகப் பரப்பு உடைய ஒரு கீறிய உருளை மேற்பரப்பைக் கருதுக.



தட்டு  $X$  இன் பரப்பு  $A$  எனின் ஓரலகு பரப்பிலுள்ள ஏற்றம்  $= Q/A$ .

$\therefore$  உருளையின் ஏற்றம்  $= Q/A$

உருளையினூடாக வெளியேறும் மின்பாயம்  $= Ee$

கவுசின் தேற்றப்படி  $Ee = \frac{Qe}{A\epsilon_0} \therefore E = \frac{Q}{A\epsilon_0}$

தட்டுக்களுக்கிடையிலுள்ள அழுத்த வேறுபாடு

$V$  எனின் செறிவு  $E = \frac{V}{d}$

$V/d = Q/A\epsilon_0 \therefore Q/V = A\epsilon_0/d$

ஆனால் கொள்ளளவு  $C = Q/V \therefore C = \frac{A\epsilon_0}{d}$

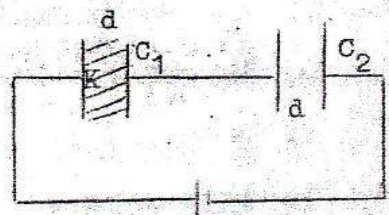
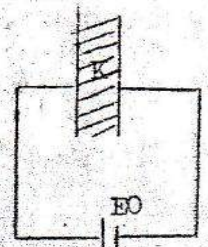
இப்போது ஒக்கியின் கொள்ளளவு  $C = K\epsilon_0 A/d$

தட்டுக்களுக்கிடையிலுள்ள அழுத்தவேறுபாடு  $V = E_0$

$\therefore$  தட்டுக்கள் மேலுள்ள ஏற்றம்  $Q = CV = K\epsilon_0 A E_0/d$

தட்டுக்களை வேறாக்கும் போது பெறப்படும் கொள்ளளவம் அருகில் உள்ள படத்தில் காட்டியவாறு தொடர்நிலையில் தொடுக்கப்பட்டுள்ள கொள்ளளவங்கள்  $C_1, C_2$

இற்கு சமவலவாகும்  $C_1 = K\epsilon_0 A/d ; C_2 = \frac{\epsilon_0 A}{d}$



1. இரு தட்டுக்களுக்கும் மிடையிலுள்ள அழுத்த வேறுபாடு மாறாது. ஏனெனில் அவை சலத்துடன் தொடுக்கப்பட்டவாறே உள்ளன.
2. சமானக் கொள்ளளவு  $C$  எனின்  $\frac{1}{C} = \frac{1}{C_1} + \frac{1}{C_2} = \frac{d}{K\epsilon_0 A} + \frac{d}{\epsilon_0 A}$

$C = K/(K+1) \cdot \epsilon_0 A/d$

எனவே கொள்ளளவு குறைவடைகிறது.

3.  $Q = CV$  அழுத்த வேறுபாடு  $V$  மாறாதிருக்க  $C$  குறைகின்றது. எனவே ஏற்றம் குறைகின்றது.
4. கொள்ளளவியின் சக்தி  $= \frac{1}{2} QV$  மாறாதிருக்க  $Q$  குறைவடைகிறது. சக்தி குறைவடையும்.



Agaram.lk - Keep your dreams alive !

Agaram.lk - Keep your dreams alive !

உரிமை பதிப்பகத்துக்குரியது .

உயர் கல்விப் பதிப்பகம்

36. சுவர்மியார் வீதி, கொழும்புத்தறை, யாழ்ப்பாணம்.

பௌதீகவியல் 11. சு. பொ. த. (உயர்தரம்) மாதிரிவிடைகள், ஓகஸ்ட், 1982.

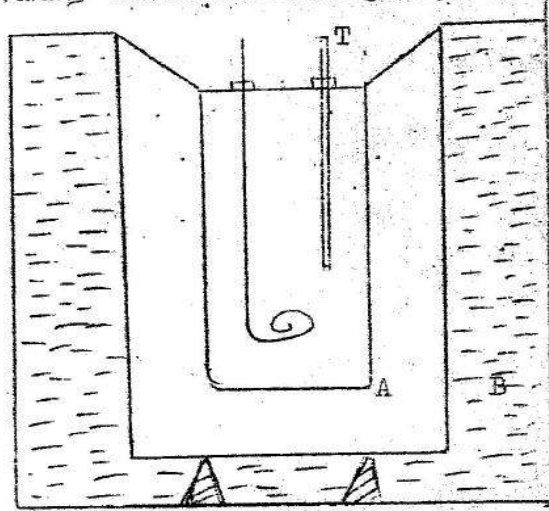
மேலதிகப் பரீட்சை

புதிய பாடத்திட்டம்

பகுதி A - அமைப்புக் சுட்டுரை


(  $g = 10 \text{ N kg}^{-1}$  )

1. தேங்காயெண்ணெயின், தன்வெப்பக் கொள்ளவு  $\cdot$  ஶ ஐக் தனிவதற்குப் பாவிக்கப் படும் ஆய்கருவியொன்றை வரிப்படம் காட்டுகின்றது.

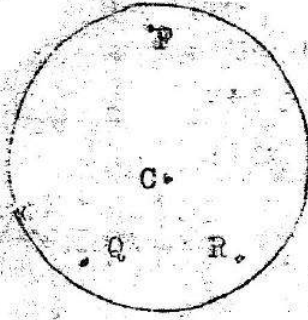


ஒரு பெரிய கொள்கலம் C யின் அடிப்பாகத்தில் இருக்கும் இருமுனைகளின் மேல் வைக்கப்பட்டுள்ள கொள்கலம் B யின் உட்பகுதியில் W நீர்ச்சமவலுவை உடைய மூடிய சுலோரிமானி A தொங்குகின்றது. B க்கும் C க்குமிடையிலுள்ள வெளி குளிர்நீரினால் நிரப்பப்பட்டுள்ளது. T ஒரு வெப்பமானியாகும்.


- (a) (1) இரு கொள்கலங்களுக்குமிடையிலுள்ள வெளி குளிர்நீரினால் நிரப்பப்படுவதன் காரணம் யாது?
- (11) B யின் அடிப்புறத்தில் A வைக்கப்படாதது ஏன்?
- (b) தேங்காயெண்ணெயின் தரப்பட்ட தனிவு  $m$  ஏறக்குறைய  $80^\circ\text{C}$  க்குச் சூடாக்கப்பட்டு சுலோரிமானி A யினால் ஊற்றப்படுகிறது. சுலோரிமானியிலிருந்தும் அதனை உள்ளடக்கங்களிலிருந்தும் இழக்கப்படும் வெப்ப வீதத்தை நிர்ணயிக்கும் முக்கிய காரணிகள் யாவை?
- (c) இப் பரிசோதனை முடிவுகளைக் கொண்டு நீர் பெறவிருக்கும் வெப்பநிலை  $(\theta)$  - நேரம்  $(t)$  வரைபை அண்ணலாக வரைக?



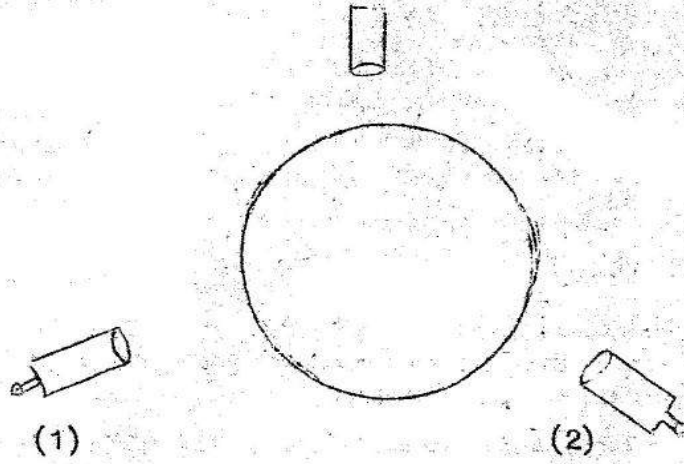
- (d) தேவகாயெண்ணெய்க்கு வெப்பநிலை  $\theta_1$  இலிருந்து  $\theta_2$  இற்கு குளிரடைய எடுக்கும் நேரம்  $t_1$  ஆயின் சலோரிமானியிலிருந்தும் அதனை உள்ளடக்கக்கூடாது எலிருந்தும் இழக்கப்படும் வெப்பத்தில் சராசரி வீதம் என்ன?
- (e) இப்பரிசோதனையில் வழக்கமாக நீர் மாட்டேற்றத் திரவமாகப் பாவிக்கப்படும் சலோரிமானி A யிலுள் நீர் எவ்வளவு நீரை வைப்பீர்?
- (f) (e) பகுதியிலுள்ள வரைபில் நீருக்கான குளிரல் வளையியை வரைக?
- (g) இவ்விரு வளையிகளிலிருந்தும் எவ்விதம் நீர்  $\theta$  இன் பெறுமதியைத் துணியீர்?
- 12) ஒரு திருசியமானி (நிறமாலைமானி) பாவிக்கப்படும் பரிசோதனையொன்றில் வாசிப்புகள் எவற்றையும் எடுப்பதற்கு முன்னர் திருசியமானியின் கூறுகளைச் செப்பஞ் செய்ய வேண்டியது அவசியமாகும்.
- (a) சமாந்தர ஒளிக்காது தொலைக்காட்டியை நீர் எவ்விதம் செப்பஞ் செய்வீர்?
- (b) அடுத்தபடி நேர்வரிசையாக்கியை சமாந்தர ஒளிக்காதுச் செப்பஞ் செய்வதாகும். இது எவ்விதம் செய்யப்படும்?
- (c) அரிய மேசையை மட்டமாக்குவதற்கு ஏதுவாக, மூன்று திருகானிகள் P, Q, R முதலியவற்றுக்கும், மேசையின் மையம் C இற்கும் சார்பாக எவ்விதம் நீர் அரியத்தை வைப்பீர் என்பதைக் கீழுள்ள வரிப்படத்தில் சுட்டிக் காட்டுக?



- (d) சமாந்தர ஒளிக்காதுச் செப்பஞ் செய்யப்பட்ட அரியத் திருசியமானி ஒன்றினை கீழுள்ள படம் காட்டுகின்றது. நேர்வரிசையாக்கியின் பிளப்பில் (பிளவில்) உற்பத்தியாகும் விரியும் ஒளிக்கற்றையொன்று கண்ணையடையும் பாதையை வரைக?



- (e) கீழேயுள்ள வரிப்படத்தில் அரியத்தின் கோணத்தை துணிவதற்கு உமக்குத் துணைசெய்யும் அரியத்தையும் ஒளிக்கதிர்சுளையும் வரைக?



(f) தொலைக்காட்டி (1), (2) ஆகிய இரு நிலைகளிலும் இருக்கும் போது திருசியமாளி அளவிடையில் வாசிப்புக்கள் முறையே  $Q. 3^{\circ} 12'$  உம்  $240^{\circ} 42'$  மாகும். அரியத்தின் கோணம் என்ன?

3. காந்தவியல் நேர்மாறு வர்க்க விதியைப் பரிசோதனை மூலம் வாய்ப்புப் பார்ப்பதற்காக திரும்பல் காந்தமாளியொன்றும் நீண்ட குண்டு முனைக் காந்தம் ஒன்றும் உமக்குத் தரப்பட்டுள்ளன.

(a) இக்காந்தமாளியின் புயங்களை எவ்விதம் நீர் வைப்பீர்?

(b) இக்காந்தத்தின் இருமுனைவுகளும் N உம் S மாயின்,

(1) N ஐ நீர் எங்கே வைப்பீர்?

(2) S ஐ நீர் எங்கே வைப்பீர்?

(c) இக்காந்தத்தின் முனைவுத்திறன்  $m$  காந்தமாளியின் ஆலையும் மையம் P  $PN = a$  ஆகவும் PS = b ஆகவும் இருப்பின் N, S ஆகியவற்றினால் P யில் உண்டாகப்படும் காந்தப்புலத்திற்கான கோவைகளை எழுதுக?

(d) புவிச் காந்தப்புலத்தினை சிதைக்கிற B ஆகவும் காந்தமாளி ஊசியினை திரும்பல்  $\ominus$  ஆகவும் இருப்பின் நேர்மாறு வர்க்க விதியை வாய்ப்புப் பார்ப்பதற்கு நீர் கையாளவிருக்கும் சமன்பாட்டை எழுதுக?

(e) (1) பொருத்தமான வரைபொன்றை வரைவதற்கு, உமது அச்சுக்களாக எவ்விரு கணியங்களை நீர் பாவிப்பீர்?

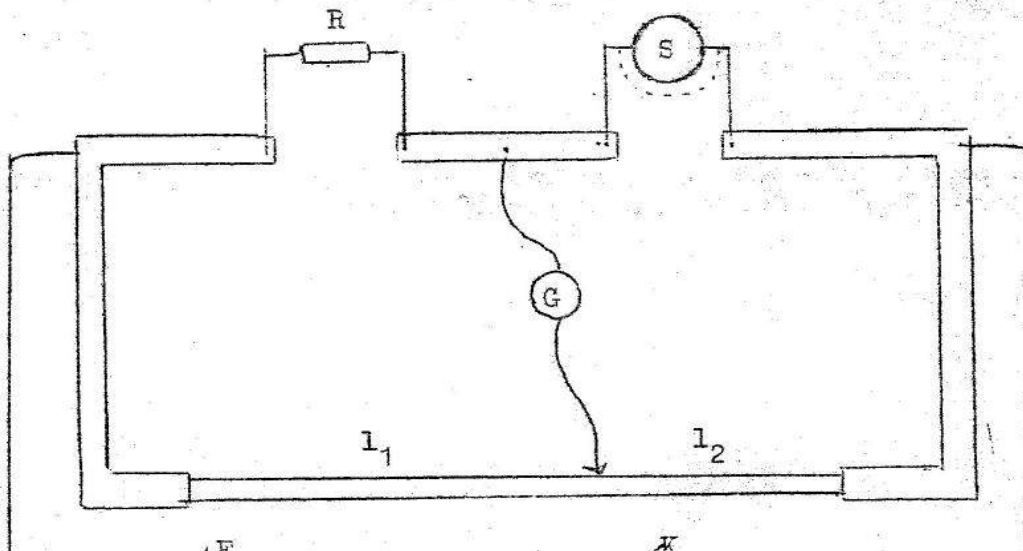
(2) இவ்வரைபில் இருந்து நேர்மாறு வர்க்க விதியை எவ்விதம் நீர் நிலைநாட்டுவீர்?

(f) காந்தத்தின் ஒவ்வொரு நிலைக்கும் ஒன்றுக்கு மேற்பட்ட  $\ominus$  வின் பெறுமதியை எடுப்பது வழக்கம். இப்பெறுமதிகள் எவ்விதம் எடுக்கப்படும்?

(g) (f) பகுதியிலுள்ள செயல்முறை நீக்கவிருக்கும் சாத்தியமான வழக்கள் எவை?

(h) குண்டுமுனைக் காந்தத்திற்குப் பதிலாக நீண்ட சட்டக் காந்தமொன்றைப் பாவிப்பது வழக்கமல்ல. ஏன்?

4.





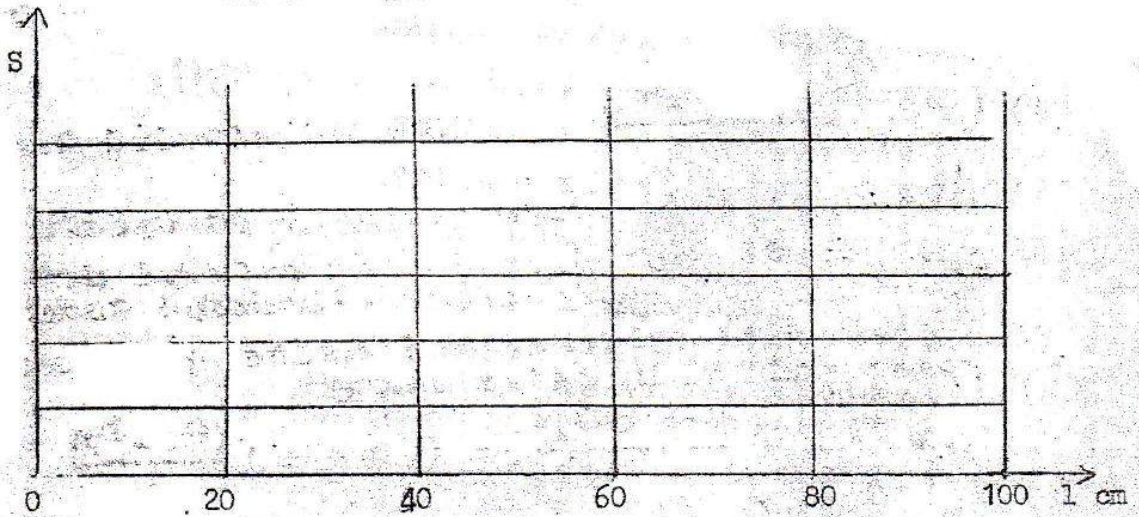
சீரான தடையையுடைய உலோகக் கம்பியொன்றை ஒருமுனைக்கும், மற்றொரு முனையை உருவாக்கும் வகையில் ஒன்றாகப் பொருத்தப்பட்டுள்ளன. இத் தடத்தில் இரு சறுக்கும் உலோகக் கம்பிகள் செருகப்பட்டுள்ளன. இக்கம்பிகளுக்கு இடையிலுள்ள தடத்தின் வழியேயான நீளம்  $1\text{ m}$  இக்கம்பியின் நீளம். அதனுடைய விட்டம்  $0.75\text{ mm}$  சுற்றில் காட்டப்பட்டுள்ளவாறு மீற்றர்ப் பாலம் ஒன்றின் வலது பக்க இடைவெளிக்கு இக்கம்பிகள் தொடுக்கப்பட்டுள்ளன.

(a) இக்கம்பிகளுக்கிடையிலுள்ள தடை S ஐத் தனிவதற்கு இம்மீற்றர்ப் பாலம் பாவிக்கப்படுகின்றது. வரிப்படத்தில் காட்டப்பட்டுள்ள சமநிலைப்புள்ளியில் S இற்குக் கோவையொன்றை எழுதுக?

(b) இம் முடிவுள்ள பெறுமதிகள் எல்லாவற்றிற்கும் சமநிலைப் புள்ளியைப் பெறவது சாத்தியமாகும் என்பதை நிச்சயப்படுத்தச் சுற்றி எவ்விதம் நீர் சரிபாப்பீர்?

(c) S இதை அளவீட்டிலுள்ள வழுவை இழிவாக்குவதற்கு R இன் பெறுமதியை எவ்விதம் நீர் தெரிவு செய்வீர்?

(d) 1 இன் முழுவீச்சுக்கும் 1 இற்கு எதிரான S இன் வரைபொன்றை வரைக?



ஒரு குறிப்பிட்ட அளவீட்டில் R ஆனது 5 இல் நிலைநிறுத்தப்பட்டு 1 ஆனது  $45\text{ cm}$  இல் வைக்கப்பட்டது. சமநிலைப்புள்ளியில்  $1_1$  இனதம்  $1_2$  இனதம் பெறுமதிகள் முறையே  $55.0\text{ cm}$  உம்  $45.0\text{ cm}$  உமாகக் காணப்பட்டன. சறுக்கும் கம்பிகளுக்கு குறுக்கேயான தடை என்ன?

கம்பித் தடத்தினது திரவியத்தின் தடைத்திறனைக் கணிப்பதற்கு மேலுள்ள S இன் பெறுமதியைப் பாவிக்குக?