



9. යමන් රාගයේ රාග අංග වඩාත් පැහැදිලිව පෙන්නුම් කරන තානාලංකාරය තෝරන්න.
- (1) සරි ගුණ පු සු | පුණ ගුණ පු
  - (2) සරි ගුණ පු ගු | රිගු පුණ ගුණ පු
  - (3) නිරි ගුණ පු රි | ගුණ නිරි නිරි පු
  - (4) ගුණ නිරි පු ගු | පු රිපු ගුණ රිපු
10. 'X' සහ 'O' යන තාල සංකේත පමණක් යෙදෙන තාල යුගලය තෝරන්න.
- (1) ත්‍රිකාල් - කෙහෙර්වා (2) දාදරා - කෙහෙර්වා (3) ජප් - දාදරා (4) දීප්වන්දී - බෙම්බෝ
11. නිර්දේශිත තාල අතුරෙන් මාත්‍රා දෙක බැගින් විභාග වන තාල යුගලය තෝරන්න.
- (1) ත්‍රිකාල් - දාදරා (2) ජප් - දීප්වන්දී (3) බෙම්බෝ - ලාවතී (4) කෙහෙර්වා - ජප්
12. ලාවතී සහ කෙහෙර්වා යන තාල දෙකටම පොදු ලක්ෂණයක් වන්නේ,
- (1) තාල විභාග සංඛ්‍යාව සමාන වීමයි.
  - (2) තාල විභාගයක යෙදෙන මාත්‍රා ගණන සමාන වීමයි.
  - (3) යේකා පදය සමාන වීමයි.
  - (4) තාල සංකේත සමාන වීමයි.
13. මමපඩ, නිනිසි ලෙස අන්තරා ආරම්භ වන රාගය වන්නේ
- (1) බිලාවල් ය. (2) යමන් ය. (3) හෙරවී ය. (4) කාලි ය.
- අංක 14 සිට 18 තෙක් ඇති ප්‍රශ්නවලට පහත සඳහන් වගුව ඇසුරෙන් පිළිතුරු සපයන්න.

	මේලය	ගාතසමය	රාගයේ විකෘති ස්වර	වාදි-සංවාදී	රාගයට අදාළ ස්වර සංගති
A			නැත	ග-ධ	පග, ධපග
B		දිවා ප්‍රථම ප්‍රහරය	නැත		මග, මරිස
C		දිවා ප්‍රථම ප්‍රහරය		ම-ස	
D	කාලි	මධ්‍යම රාත්‍රී			

14. ඉහත A, B හා C අක්ෂරවලට අදාළ වන නිර්දේශිත රාග තුන වන්නේ පිළිවෙළින්
- (1) යමන්, භූපාලි සහ බිලාවල් ය. (2) භූපාලි, බිලාවල් සහ හෙරවී ය.
  - (3) භූපාලි, හෙරවී සහ කාලි ය. (4) යමන්, කාලි සහ බිලාවල් ය.
15. D තීරුවෙහි දැක්වෙන හිස්තැන් සඳහා ගැළපෙන පිළිතුරු පිළිවෙළින් සඳහන් වරණය තෝරන්න.
- (1) ගුනි , ස-ප , සරිප (2) නිගු , රි-ප , පරිස
  - (3) නිගු , ප-ස , සරිප (4) ගුනි , ස-ම , පරිස
16. B තීරුවට අයත් රාගයේ මේලය සහ වාදි-සංවාදී ස්වර පිළිවෙළින් සඳහන් වරණය තෝරන්න.
- (1) බිලාවල්, ග-ධ (2) කල්‍යාණ, ග-නි (3) බිලාවල්, ධ-ග (4) කල්‍යාණ, ප-රි
17. A තීරුවට අදාළ මේලයේ නම සහ ගාතසමය පිළිවෙළින් සඳහන් වරණය තෝරන්න.
- (1) කල්‍යාණ , දිවා ප්‍රථම ප්‍රහරය (2) බිලාවල් , රාත්‍රී ප්‍රථම ප්‍රහරය
  - (3) බිලාවල් , දිවා ප්‍රථම ප්‍රහරය (4) කල්‍යාණ , රාත්‍රී ප්‍රථම ප්‍රහරය
18. C තීරුවට අයත් රාගයෙහි විකෘති ස්වර සහ ස්වර සංගතීන් පිළිවෙළින් සඳහන් වරණය තෝරන්න.
- (1) රි ගු ධ නි , ම ගු ස රි ස (2) රි ගු ධ නි , සප නිරිස
  - (3) ගු නි , රි ගු ම ම ප (4) ගු නි , රි ගු ම රි ස
19. භාරතීය සංගීතඥයින් පිළිබඳ නිවැරදි ප්‍රකාශනය තෝරන්න.
- (1) උස්තාද් ගකීර් හුසේන් තත් වාද්‍ය භාණ්ඩයක් සඳහා සුප්‍රසිද්ධ ය.
  - (2) උස්තාද් ගකීර් හුසේන් සුමීර වාද්‍ය භාණ්ඩයක් සඳහා සුප්‍රසිද්ධ ය.
  - (3) පණ්ඩිත් හරිප්‍රසාද් වෛරසියා අවනද්ධ වාද්‍ය භාණ්ඩයක් සඳහා සුප්‍රසිද්ධ ය.
  - (4) පණ්ඩිත් හරිප්‍රසාද් වෛරසියා සුමීර වාද්‍ය භාණ්ඩයක් සඳහා සුප්‍රසිද්ධ ය.


Agaram.lk - Keep your dreams alive !

Agaram.lk - Keep your dreams alive !

20. භූපාලී රාගයට අනුව ගරීසරී, පගරිග වශයෙන් ගොඩනැගෙන ස්වර අභ්‍යාසයේ කුන්වන සහ සතරවන පියවර පිළිවෙළින් සඳහන් වරණය කුමක් ද?

- (1) පධපග, පධස්ධ
- (2) ධපගප, ධස්ධප
- (3) ධපගප, ස්ධපධ
- (4) පධගප, ධස්ධධ

● අංක 21 සිට 24 තෙක් ඇති ප්‍රශ්නවලට පහත සඳහන් රූපසටහන් ඇසුරෙන් පිළිතුරු සපයන්න.



21. 'ජෙංගත් ජෙංගත් ජෙං ජෙං කා' යන බෙරපදය වාදනය කිරීමට සුදුසු භාණ්ඩය දැක්වෙන අක්ෂරය කුමක් ද?

- (1) A
- (2) B
- (3) C
- (4) D

22. B අක්ෂරයෙන් දැක්වෙන භාණ්ඩයෙන් වාදනය කළ හැකි බෙරපදය කුමක් ද?

- (1) දොංඪ් ජිගත
- (2) ජිම් තකු දත් දොම්
- (3) ගුංද දෙගත ගදිගත ගුද
- (4) දොං ජිංත ගත දොංත

23. C අක්ෂරයෙන් දැක්වෙන භාණ්ඩය යොදාගනු ලබන රංග ශෛලිය වන්නේ,

- (1) සොකරී ය.
- (2) කෝලම් ය.
- (3) නුර්ති ය.
- (4) නාඩගම් ය.

24. D අක්ෂරයෙන් දැක්වෙන භාණ්ඩය සහාය වාදනයට යොදා ගනිමින් ගායනය කළ හැකි ගී පාදය තෝරන්න.

- (1) ගම්වල සෑම තැන ඇවිද ගොසින්තේ
- (2) වෙදා නටන්නේ පළමුව අවසර ගන්නේ
- (3) ගම්හිර කාලිංග නුවර
- (4) මං වගේ පේඩි කතක් මනා

25. හෙරවී රාගය ආශ්‍රයෙන් නිර්මාණය වූ නුර්ති ගීතයේ මුල් පද පෙළ තෝරන්න.

- (1) සවන් දී පෙර රාම වරින් අසව්
- (2) රකිනු රිඳ්වරා
- (3) අප ගුණ සරු සිංහල භූපති
- (4) ලෝනා මුනි රාජගේ

26. අනාසාතාත්මකව ගැයෙන මෙහෙ ගී පාදය තෝරන්න.

- (1) බුද්ධං සරණේ සිරස දරාගෙන
- (2) පැහැසරණිය මිණිපැමිණිය කොත් අගට
- (3) අතට වෙරළ ඇහිද ගෙනේ
- (4) වෙල්යායක ගොන් දෙන්නෙක් කකා උනී

27. 'රු රැසේ අදිනා ලෙසේ අත් ලෙල දිදී වීදුලිය පබා' යනුවෙන් ගැයෙන සේ ගී පාදයේ,

- (1) සඳැස්මත් 16ක් සහ ගීමත් 20 කි.
- (2) සඳැස්මත් 20ක් සහ ගීමත් 22 කි.
- (3) සඳැස්මත් 24ක් සහ ගීමත් 32 කි.
- (4) සඳැස්මත් 26ක් සහ ගීමත් 28 කි.

28. 'සමන් පිච්ච මල් අත්තට පිණි වැටිලා' යන ගී පාදයේ ගුරු අක්ෂර සංඛ්‍යාව

- (1) හතරකි.
- (2) පහකි.
- (3) හයකි.
- (4) අටකි.

29. වෙස්සන්තර නාඩගමේ එන 'ඒ බුදු බව පතමින් ලොබිනේ' ගීතය පාදක කරගෙන නිර්මාණය වූ නවනාට්‍ය ගීතය කුමක් ද?

- (1) ලප නොමවන් සඳ සේ සොම් ගුණෙනා
- (2) මැ වේ මා දුටු කොමළ ලියා
- (3) දස දෙස ඉන්ද්‍රා වෙමි මම සිංහ රාජ මාගේන්ද්‍රා
- (4) බුදුකුල් ගුණැති සමීදුනි සැරදේ

30. බෙරපදය, තානම, කවිය, ඉරට්ටිය වශයෙන් කොටස් හතරකට බෙදෙන්නේ,

- (1) කෝකිල වන්නමයි.
- (2) තිසරා වන්නමයි.
- (3) උකුසා වන්නමයි.
- (4) පහතරට සින්දු වන්නමයි.

61931

- අංක 31 සිට 34 තෙක් ඇති ප්‍රශ්නවලට පිළිතුරු සැපයීම සඳහා වික්‍රපටවලට අදාළ පහත සඳහන් ගී පාද උපයෝගී කරගන්න.

- A - හඳ රාහු මුඛයේහි ගිලුනා ලෙසේ
- B - සිරිදැරු හෙළ දිව පුරාතනේ
- C - ඕලු තෙළුම් තෙරිය රඟාලා

31. A, B සහ C යටතේ එන ගීත ඇතුළත් වික්‍රපට පිළිවෙළින්.

- (1) රේඛාව, මාතලන් සහ සැඩසුළං වේ. (2) මාතලන්, සැඩසුළං සහ රේඛාව වේ.
- (3) සැඩසුළං, රේඛාව සහ මාතලන් වේ. (4) මාතලන්, රේඛාව සහ සැඩසුළං වේ.

32. A ගීතය ඇතුළත් වික්‍රපටයේ සංගීත අධ්‍යක්ෂවරයා,

- (1) ආර්. මුත්තුසාමි වේ. (2) ආනන්ද සමරකෝන් වේ.
- (3) සුනිල් සාන්ත වේ. (4) මොහොමඩ් ගවුස් වේ.

33. B හි ඇතුළත් ගීතය ගැසු ගායිකාව තෝරන්න.

- (1) ආශා බෝස්ලේ (2) ජමුනා රාණි (3) කේ. රාණි (4) ලතා මංගේශ්කර්

34. C හි ඇතුළත් ගීතය ගැසු ගායකයා වන්නේ,

- (1) තිලකසිරි ප්‍රනාන්දු ය. (2) සිසිර සේනාරත්න ය.
- (3) ඩබ්ලිව්. ඩී. අමරදේව ය. (4) අයිවෝ ඩෙනිස් ය.

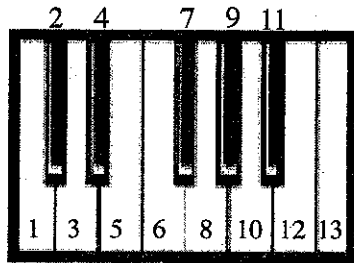
35. සංගීත භාණ්ඩවල හඬ එකිනෙකින් වෙන්කොට හඳුනා ගැනීමට තරංග රටාවේ වෙනස හේතුවන අතර එම ලක්ෂණය හඳුන්වනු ලබන්නේ,

- (1) කාරකාවය වශයෙනි. (2) විපුලකාව වශයෙනි.
- (3) ධ්වනි ගුණය වශයෙනි. (4) රූපභේදය වශයෙනි.

36. යමන් රාගයේ ආරෝහණ ස්වරයන්ට ගැලපෙන අපරදිග ස්වර පිළිවෙළින් සඳහන් වරණය තෝරන්න.

- (1) CDEF#GAB (2) CDEFG#AB (3) CDEFGA#B (4) CDEFGAB#

- අංක 37 සහ 38 ප්‍රශ්නවලට පහත සඳහන් ස්වර පුවරුව අදාළ කර ගනිමින් පිළිතුරු සපයන්න.



37. F Major Chord එක සඳහා යොදා ගන්නා ස්වරයන්ට හිමි අංක නිවැරදිව සඳහන් වරණය කුමක් ද?

- (1) 6, 9, 13 (2) 1, 5, 8 (3) 5, 7, 10 (4) 6, 10, 13

38. ඉහත ස්වර පුවරුවෙහි සඳහන් 1, 3, 4, 6, 8, 10, 11, 13 අංකවලින් පිළිබිඹු වන ආරෝහණය අයත් රාගය කුමක් ද?

- (1) යමන් (2) භූපාලි (3) කාලි (4) හෙරව්

39. යතුරු පුවරුව සහිත සංගීත භාණ්ඩ මගින් ඉදිරිපත් කරනු ලබන සංගීත නිර්මාණ හැඳින්වීම සඳහා භාවිත නාමය

- (1) E Music වේ. (2) Midi Music වේ.
- (3) Key Board Music වේ. (4) Popular Music වේ.

40. මල්ට්‍රැක් රෙකෝඩින් (Multi-Track Recording) යනු

- (1) එක් එක් භාණ්ඩයෙන් නිකුත් වන සංගීතය වෙනම පටිගත කිරීම ය.
- (2) විවිධ සංගීත භාණ්ඩ එකවර වාදනය කර පටිගත කිරීම ය.
- (3) ගායනය හා වාදනය පමණක් පටිගත කිරීම ය.
- (4) වාදනය පටිගත කර ගායනය සජීවී ලෙස ඉදිරිපත් කිරීම ය.

\*\*

සියලු ම හිමිකම් ඇවිරිණි / முழுப் பதிப்புரிமையுடையது / All Rights Reserved

ශ්‍රී ලංකා විභාග දෙපාර්තමේන්තුව ශ්‍රී ලංකා විභාග දෙපාර්තමේන්තුව ශ්‍රී ලංකා විභාග දෙපාර්තමේන්තුව ශ්‍රී ලංකා විභාග දෙපාර්තමේන්තුව ශ්‍රී ලංකා විභාග දෙපාර්තමේන්තුව  
 இலங்கைப் பரீட்சைத் திணைக்களம் இலங்கைப் பரීட்சைத் திணைக்களம் இலங்கைப் பரීட்சைத் திணைக்களம் இலங்கைப் பரීட்சைத் திணைக்களம் இலங்கைப் பரීட்சைத் திணைக்களம்  
 Department of Examinations, Sri Lanka Department of Examinations, Sri Lanka Department of Examinations, Sri Lanka Department of Examinations, Sri Lanka Department of Examinations, Sri Lanka  
 ශ්‍රී ලංකා විභාග දෙපාර්තමේන්තුව ශ්‍රී ලංකා විභාග දෙපාර්තමේන්තුව ශ්‍රී ලංකා විභාග දෙපාර්තමේන්තුව ශ්‍රී ලංකා විභාග දෙපාර්තමේන්තුව ශ්‍රී ලංකා විභාග දෙපාර්තමේන්තුව  
 இலங்கைப் பரීட்சைத் திணைக்களம் இலங்கைப் பரීட்சைத் திணைக்களம் இலங்கைப் பரීட்சைத் திணைக்களம் இலங்கைப் பரīட்சைத் திணைக்களம் இலங்கைப் பரīட்சைத் திணைக்களம்

**40 S I, II**

**අධ්‍යයන පොදු සහතික පත්‍ර (සාමාන්‍ය පෙළ) විභාගය, 2018 දෙසැම්බර්  
 கல்விப் பொதுத் தராதரப் பத்திர (சாதாரண தர)ப் பரீட்சை, 2018 டிசெம்பர்  
 General Certificate of Education (Ord. Level) Examination, December 2018**

සංගීතය (පෙරදිග)	I, II
சங்கீதம் (கீழதீதய)	I, II
Music (Oriental)	I, II

**සංගීතය (පෙරදිග) II**

\* පළමුවන ප්‍රශ්නය ඇතුළු ව ප්‍රශ්න පහකට පමණක් පිළිතුරු සපයන්න.

1. අංක (i) සිට (iv) තෙක් අසා ඇති ප්‍රශ්නවලට කෙටි පිළිතුරු ප්‍රශ්න අංකය ද සමගින් ඔබේ පිළිතුරු පත්‍රයෙහි ලියන්න.
    - (i) 'නිසඟම ධූප' ස්වර සංගතිය යෙදෙන රාගයෙහි ජාතිය නම් කරන්න.
    - (ii) යමත් රාගයෙහි යෙදෙන මධ්‍යම ස්වරය හඳුන්වන්නේ කුමන නමකින් ද?
    - (iii) බලි ස්ථානය හයවන මාත්‍රාවෙහි යෙදෙන කාලය නම් කරන්න.
    - (iv) බ්‍යාල් ගායනා සඳහා යොදාගනු ලබන කාල වාද්‍ය භාණ්ඩය නම් කරන්න.
  - අංක (v) සිට (viii) තෙක් ප්‍රශ්නවල දී ඇති හිස්තැන් සඳහා නිවැරදි පිළිතුරු ප්‍රශ්න අංකය ද සමග ඔබේ පිළිතුරු පත්‍රයෙහි ලියන්න.
    - (v) සත්‍යජීන් රායිගේ පාතර් පංචාලි වික්‍රමයට පසුබිම් සංගීතය නිර්මාණය කරන ලද්දේ ..... විසිනි.
    - (vi) 'ගැඹුරු සත් සමුදුර පතුල බිඳ' යන ගී පාදය සඳහා වැඩිමට සුදුසු හින්දුස්ථානී කාලය ..... ලෙස හැඳින්වේ.
    - (vii) විශාරද නන්දා මාලනී විසින් ගයන 'අම්මාවරුනේ' ගීතයෙහි කනුව නිර්මාණය කර සංගීතවත් කරන ලද්දේ ..... සූරින් විසිනි.
    - (viii) 'නෙයිනගෙ සුදුව' නාට්‍යමය ස්වනිකාව ඇතුළත් වන්නේ ..... නාට්‍යයෙහි ය.
  - ප්‍රශ්න අංක (ix) සහ (x) හි හිස්තැන් සඳහා සුදුසු ම පිළිතුරු වරහන් තුළින් තෝරා ප්‍රශ්න අංකය ද සමගින් ඔබේ පිළිතුරු පත්‍රයෙහි ලියන්න.
 

(උරුවුව, කපිරිකුකු, නුර්ති, 68, 44)

    - (ix) ..... ගීත සම්ප්‍රදාය ඇසුරු කරමින් නිර්මාණය වූ 'රස ආහර කවලා - රත් කුඩුවේ දමලා' යන සිංහල ගීතය ..... රිද්මය මුල්කරගෙන නිර්මාණය වී ඇත.
    - (x) ..... ගීතයක කාලයෙන් තොරව ගැයෙන කොටස දොහොරාව වන අතර නාඩගම් ගීතයක දෘත ලයෙන් ගැයෙන කොටස ..... වේ.
2. පහත දැක්වෙන්නේ නිර්දේශිත රාග තුනකට අයත් ස්වර බණ්ඩ කිහිපයකි.
 

A - ගප, ධනි, සර්ඝ්  
 B - ගප, නිධ, නිර්ඝ්  
 C - ගප, ධධ, සර්ඝ්

    - (i) ඉහත A, B, C හි දැක්වෙන ස්වර බණ්ඩවලට අයත් වන රාග පිළිවෙළින් නම් කරන්න.
    - (ii) එම රාග තුනට අදාළව මධ්‍යම ස්වරයෙහි සුවිශේෂීතාවය වෙත වෙනම රාග නාමය ඉදිරියෙන් ලියන්න.
    - (iii) ඉහත A, B, C කොටස්වලින් පිළිබිඹු වන කල්‍යාණ මේලගත රාගයකට අයත් මධ්‍යලය බ්‍යාල ගීයක හෝ ලක්ෂණ ගීයක හෝ වාදිතයක හෝ ස්ථායී කොටසක් කාල සංකේත සහිතව ස්වර ප්‍රස්තාර කරන්න.

Agaram.lk - Keep your dreams alive !

Agaram.lk - Keep your dreams alive !

3. නිර්දේශිත රාග තුනක් හඳුනා ගැනීම සඳහා උපකාරී වන තොරතුරු දෙකක් පහත දැක්වේ.
- A - කලාණ මේලගත නිර්දේශිත රාග දෙකකි.  
 B - ශුද්ධ ස්වර පමණක් යෙදෙන නිර්දේශිත රාග දෙකකි.
- ඉහත තොරතුරු මගින් පිළිබිඹු වන රාග තුන නම් කරන්න.
  - එම රාග තුනෙන් කැමති රාගයකට අනුව මාත්‍රා 8 කට නොඅඩු තානාලංකාර දෙකක් ලියන්න.
  - කෝමල ස්වර සහිත නිර්දේශිත රාගයකට අයත් මධ්‍යලය බ්‍යාල් ගීයක හෝ ලක්ෂණ ගීයක හෝ වාදිතයක හෝ අන්තරා කොටසක් ස්වර ප්‍රස්තාර කරන්න.
  - දීප්වන්දි කාලය නියමිත තාල සංකේත සහිතව ප්‍රස්තාර කරන්න.

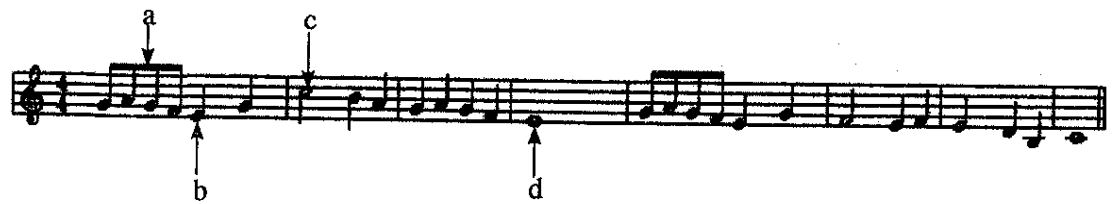
4.
  - බැති ගී සහ කෙළි ගී යන ගී වර්ග දෙක පිළිබඳ කෙටි විස්තරයක් කරන්න.
  - කුන්සරණේ ගී, මළිඳ කෙළිය යන ගී වර්ග දෙකේ සමානතා දෙකක් හා අසමානතා දෙකක් ලියා දක්වන්න.
  - සේ ගීවල විශේෂ ලක්ෂණ හතරක් ලියන්න.
  - ගුත්තිල කාව්‍යයේ එන, දොළොස්මත් පැදියක මුල්පාද දෙකේ වචන පමණක් ප්‍රස්තාර කරන්න.

5. පහත වගුවෙහි A, B, C හා D යන කීරුවලින් දැක්වෙන්නේ ලංකාවේ ප්‍රචලිත නාට්‍ය ගීත හතරක මුල් පාද ය.

A	B	C	D
මෙමගින් ගිය රුසිරු එ කරුණා	ප්‍රේමයෙන් මන රංජිත වේ, නන්දිත වේ	වගුරට නරනිඳු දඹදිව පරසිඳු	ආලේ බැන්ද මාගේ රමයවත්

- ඉහත ගීත අතුරෙන් තුනක් නවනාට්‍ය ශෛලියට අයත් වේ. අදාළ ඉංග්‍රීසි අක්ෂරය ද සමග එම නවනාට්‍ය තුනෙහි නම් ලියන්න.
- A කීරුවෙහි සඳහන් ගීතය අයත් වන නාට්‍ය ශෛලියේ සංගීතමය ලක්ෂණ හතරක් ලියන්න.
- B හා C කීරුවල සඳහන් ගී පාද කලානුකූලව ප්‍රස්තාර කරන්න.
- D කීරුවෙහි සඳහන් නාට්‍ය ගීතය ඇසුරෙන් පහත ප්‍රශ්නවලට පිළිතුරු සපයන්න.
  - යොදා ගන්නා තාල වාද්‍ය භාණ්ඩය නම් කරන්න.
  - එම ගීතය ගයනු ලබන නාට්‍යයෙහි එන වර්ත නාමය ලියන්න.
  - එම ගීතයේ තාලයට ගැලපෙන හින්දුස්තානී තාලය නම් කරන්න.

6. පහත දැක්වෙනුයේ අපරදිග ස්වර ප්‍රස්තාරයකින් උපුටාගත් කොටසකි.



- ඉහත අපරදිග ස්වර ප්‍රස්තාරය පෙරදිග සංගීත ක්‍රමයට අනුව ස්වර ප්‍රස්තාර කරන්න.
- පෙරදිග ක්‍රමයට අනුව ප්‍රස්තාර කරන ලද ස්වර ප්‍රස්තාරයේ පළමු විභාග හතරට අයත් ස්වර, මධ්‍යම භාවයට පෙරළා නැවත ස්වර ප්‍රස්තාර කරන්න.
- ඉහත ස්වර ප්‍රස්තාරයේ a, b, c, d වශයෙන් ලකුණු කොට ඇති අපරදිග ස්වර සංකේත සඳහා භාවිත නාමයන් ලියා දක්වන්න.
- ඉහත ස්වර ප්‍රස්තාරයේ දැක්වෙන ටයිම් සිග්නේචරයට (time signature) ගැලපෙන දේශීය 'තිත' නම් කර, බෙර පදය ප්‍රස්තාර කරන්න.

7. පහත සඳහන් කරුණු අතුරෙන් තුනක් පිළිබඳ ව උදාහරණ සහිත ව කෙටියෙන් විස්තර කරන්න.
- ග්‍රැමෆෝන් යුගයේ ජනප්‍රිය වූ ස්වාධීන ගී හා ගායක ගායිකාවන්
  - සී. ද. එස් කුලතිලක සූරීන් විසින් සිදු කරන ලද සංගීතමය සේවාව
  - නූර්ති ගීතවල රාගධාරී පසුබිම
  - සිංහල වික්‍රමට ඉතිහාසයේ සුවිශේෂී ස්ථානයක් ගත් 'රේඛාව' වික්‍රමය
  - බටහිර සංගීතඥ මොසාර්ට් විසින් සංගීතයට සිදු කළ සේවාව

Agaram.lk - Keep your dreams alive !

Agaram.lk - Keep your dreams alive !