

සියලු ම හිමිකම් ඇවිරිණි
All Rights Reserved

දකුණු පළාත් අධ්‍යාපන දෙපාර්තමේන්තුව
Department of Education, Southern Province
දකුණු පළාත් අධ්‍යාපන දෙපාර්තමේන්තුව
Department of Education, Southern Province

Department of Education, Southern Province

පළමු වාර පරීක්ෂණය 2019 මාර්තු
First Term Test, March 2019

II ශ්‍රේණිය
Grade 11

ඉතිහාසය - I

පැය එකයි
One hour

සැලකිය යුතුයි :

- සියලුම ප්‍රශ්න වලට පිළිතුරු සපයන්න. මෙම පත්‍රය සඳහා ලකුණු 80 ක් හිමිවේ.
- අංක 01 සිට 40 දක්වා ප්‍රශ්නවල දී ඇති (1), (2), (3), (4) පිළිතුරු අතරින් නිවැරදි හෝ වඩාත් ගැලපෙන පිළිතුර තෝරන්න.
- ඔබට සැපයෙන පිළිතුරු පත්‍රයේ එක් එක් ප්‍රශ්නය සඳහා දී ඇති කව අතුරින් ඔබ තෝරාගත් පිළිතුරෙහි අංකයට සැසඳෙන කවය තුළ (x) ලකුණ යොදන්න.

- මහා වංශය අපගේ අඛණ්ඩ ඉතිහාසය පිළිබඳ තොරතුරු ලබා ගත හැකි ඉතා වටිනා මූලාශ්‍රයකි. එහි මුල් කොටස රචනා කරන ලද්දේ,
 - (1) බුද්ධකෝෂ හිමියන් විසින් ය.
 - (2) ධර්මකීර්ති හිමියන් විසින් ය.
 - (3) මහානාම හිමියන් විසින් ය.
 - (4) පාභියන් හිමියන් විසින් ය.
- තෙත් කලාවේ ඵලමහත් කඳවුරකට නිදසුනක් වන්නේ,
 - (1) පාභියන්ගල
 - (2) හෝර්ටන්හැත්ත
 - (3) මිනිහාගල්කන්ද
 - (4) බෙල්ලන්බැදි පැලැස්ස
- කම රටේ ඉතිහාසය පිළිබඳ දැනුවත් වීමෙන් ලැබිය හැකි වැදගත්කම ප්‍රයෝජනය වන්නේ,
 - (1) අතීතයේ සිදුවූ දේවල් නැවත මතකකර සතුටුම්බවයි.
 - (2) විදේශ කුමන්ත්‍රණවලින් ආරක්ෂාවීම සඳහායි.
 - (3) අතීතයේ ඇතිවූ විවිධ අභියෝග හඳුනාගෙන අනාගතය සකස් කර ගැනීමටයි.
 - (4) අතීතයේ සිදුවූ අමිහිරි අත්දැකීම් නැවත සිදු නොවීමට වගබලා ගැනීමටයි.
- පූර්ව ඓතිහාසික යුගයේ මැටි ඔරු සුසාන භූමියක් තිබූ ස්ථානයක් ලෙස හඳුනාගත හැකි වන්නේ,
 - (1) අලිගල
 - (2) බටදොඹ ලෙන
 - (3) බුන්දල
 - (4) රංචාමඩම
- පැරණි කාසි පිළිබඳ හදාරන විද්‍යාචාර්යවරුන්ට භද්‍රන්වතු ලබන්නේ කුමන නමකින් ද?
 - (1) වාස්තු විද්‍යාචාර්ය
 - (2) නාණක විද්‍යාචාර්ය
 - (3) පුරා විද්‍යාචාර්ය
 - (4) මානව විද්‍යාචාර්ය
- ඉන්දියා නම් විදේශීය සාහිත්‍ය මූලාශ්‍රය රචනා කර ඇත්තේ,
 - (1) මෙගස්තිනිස්
 - (2) කොස්මස්
 - (3) අබුසයිද්
 - (4) ප්‍රකෝපියස්
- වසඟ රජුගේ පාලනය ලංකාවේ උතුරු ප්‍රදේශය දක්වා පැතිර තිබූ බව සඳහන් වන මූලාශ්‍රය කුමක් ද?
 - (1) පනාකඩුව තඹ සන්නය
 - (2) ගල්පොත ගිලා ලිපිය
 - (3) අඹගමුව සෙල්ලිපිය
 - (4) වල්ලිපුරම් රන් සන්නය
- වැටකින් ආවරණය වූ ගමක් හැඳින්වීමට අතීතයේදී භාවිතා කළේ කුමන නමක් ද?
 - (1) පරිබින්න ගම්
 - (2) අපරිබින්න ගම්
 - (3) ඔලගම්
 - (4) නියම් ගම්
- ගංගා කිහිපයක් හැඳින්වූ පැරණි නම් හා අලුත් නම් "අ" හා "ආ" නිරූපල දක්වේ. සුදුසු පරිදි ගලපා නිවැරදි පිළිතුර තෝරන්න.

'අ' 1. කදම්බ නදී 2. ශෝණනදී 3. මහාවාසුකා නදී 4. ජජ්ජර නදී	'ආ' A දුදුරුමය B මහවැලි ගඟ C මල්වතු මය D කලාමය
--	--

- | | |
|----------|----------|
| (1) CBDA | (2) CDBA |
| | (3) BACD |
| | (4) ACDB |

Agaram.LK - Keep your dreams alive!

Agaram.LK - Keep your dreams alive!

10. පූර්ව ඓතිහාසික යුගය සම්බන්ධයෙන් නිවැරදි ප්‍රකාශය කුමක් ද?
 (1) භාවිතය සඳහා ක්ෂුද්‍ර ගල් මෙවලම් සකස් කර ගැනීම ආරම්භ කළහ.
 (2) වළ දැමූ ඇට සැකිලි ගොඩගෙන රතු පැහැති ගුරුගල් ආලේප කළහ.
 (3) ගොවිබෙල්ලන් ආහාරයට ගැනීමට මහත් රුචියක් දැක්වූහ.
 (4) පිළිස්සූ මැටි වළං භාවිතය ආරම්භ කළහ.

11. අතීතයේදී එක් එක් වෘත්තියයන් විසූ ජනාවාස පිළිබඳ වංශ කථාවලින් තොරතුරු හෙළිවේ. පහත 'අ' හා 'ආ' තීරු සුදුසු පරිදි ගලපා නිවැරදි පිළිතුර තෝරන්න.

'අ'	'ආ'
1. කේවට්ටගාම	A මැණික් ගැරු අය විසූ ගම්
2. වඩ්ඩකිගාම	B ගොවීන් විසූ ගම්
3. මණිකාරගාම	C ධීවරයන් විසූ ගම්
4. කසිකාරගාම	D වඩුවන් විසූ ගම්
(1) CDAB	(2) CBAD
	(3) CADB
	(4) BCDA

12. ගෘහපතින් කිහිපදෙනෙකුගෙන් සැදුම්ලත් කණ්ඩායමක් වෙනුවෙන් කටයුතු කළ පුද්ගලයා හැඳින්වූයේ කුමන නමකින් ද?
 (1) ගෘහපති (2) ගමික (3) පරුමක (4) රජු

13. විහාරස්ථානයේ දානය සපයා ගැනීමේ කටයුතුවලදී යම් ගැටලුවක් ඇතිවුවහොත් දසගම් ඇත්තන් රැස්වී එම ගැටලුව විසඳිය යුතු බවට සඳහන් සෙල්ලිපිය වන්නේ,
 (1) තෝනිගල (2) බබරගස්තලාව (3) කළුදියපොකුණ (4) හෝපිටිගමුව

14. වැව් අමුණු තනවා ආර්ථිකයට කළ සේවාව නිසා දේවත්වයට පත්ව ඇති රජකුමා වන්නේ,
 (1) කුට්ටස්සේ අභය (2) මහසෙන් (3) ධාතුසේන (4) I අග්බෝ රජකුමාය

15. අතීත දේශපාලන බලය මධ්‍යගතවීමෙන් පසුව ගොඩ නැගුණු රාජ්‍ය පරිපාලන සැකැස්මේ ඉහළම තනතුර වූයේ,
 (1) මහමත (2) පරුමක (3) ගෞතම (4) මපුරුමුතා

16. IV වන උදය රජකුමා විසින් කරවන ලද බදුදු වැම් ලිපියේ විශේෂත්වය වන්නේ,
 (1) වෙළඳපොළක පාලනය පිළිබඳ තොරතුරු ඇතුළත් වීම.
 (2) පැරණි දඬුවම් පිළිබඳ තොරතුරු ඇතුළත් වීම.
 (3) විනය නීති පිළිබඳ තොරතුරු ඇතුළත් වීම.
 (4) ගොවිතැන් කරන කන්න පිළිබඳ තොරතුරු ඇතුළත් වීම.

17. පැරණි බෞද්ධ ආරාමවල "අත්තේවාසික" හික්ෂුන් ලෙස හැඳින්වූයේ කුමන හික්ෂුන් වහන්සේලා ද?
 (1) ධර්ම ප්‍රභාසක කටයුතුවලට සම්බන්ධ වූ අය (2) රෝගී වූ අයට උවැටුත් කරන අය
 (3) නායක ස්ථානීන් වහන්සේ යටතේ වැඩ සිටින අය (4) ආරාමවල භාවනායෝගීව වැඩ විසූ අය

18. පහත 'අ' හා 'ආ' තීරුවල දක්වෙන වගන්ති සුදුසුපරිදි ගලපා නිවැරදි පිළිතුර තෝරන්න.
- | | |
|--------------------|------------------------------------|
| 'අ' | 'ආ' |
| 1. පසවත්තිනාම ශාලා | A රෝහල් |
| 2. පණ්ණසාලා | B මූහම්මණයන් ආගමික කටයුතු කළ ස්ථාන |
| 3. සොන්ති සාලා | C පන්සල් |
| 4. වෙජ්ජ සාලා | D මාතෘ නිවාස |
| (1) BACD | (2) DACB |
| | (3) CDAB |
| | (4) DCBA |

19. පොළොන්නරුවේ දළදා මාලිගාවේ ආරක්ෂාව සඳහා වේලෙක්කාර හමුදාවක් පත්කළ රජකුමා වන්නේ,
 (1) I විජයබාහු රජකුමා (2) I පරාක්‍රමබාහු රජකුමා
 (3) නිශ්ශංකමල්ල රජකුමා (4) II පරාක්‍රමබාහු රජකුමා

20. වැවක අංශ කිහිපයක් 'අ' තීරුවේ ඇති අතර ඒවායින් ඉටුවන කාර්යයන් 'ආ' තීරුවේ දක්වා ඇත. සුදුසු පරිදි ගලපා නිවැරදි පිළිතුර තෝරන්න.
- | | |
|--------------|---|
| 'අ' | 'ආ' |
| 1. පිටවාන | A වැව් ජලය කෙත්බිම්වලට මුදාහැරීම |
| 2. සොරොව්ව | B වැව් බැම්ම ඇතුළුපැත්ත බාදනය වීම වැළැක්වීම |
| 3. බිසෝකොටුව | C වැවේ අතිරික්ත ජලය මුදාහැරීම |
| 4. රළපනාව | D වැව් ජලය මුදාහැරීමේදී අවම පීඩන තත්වයක් යටතේ පිටතට මුදාහැරීම |
| (1) CABD | (2) CADB |
| | (3) ACDB |
| | (4) BCDA |

Agaram.LK - Keep your dreams alive!

Agaram.LK - Keep your dreams alive!

21. ගමේ සැඟවී සිටින අපරාධකරුවකු අල්ලා දෙනතුරු ගම්වාසීන් විසින් රාජ්‍යයට ගෙවිය යුතු බද්ද හැඳින්වූයේ කුමන නමකින් ද?
 (1) කැති අඩ (2) දකපති (3) මතරමජ්ඛක (4) ගාහදණ්ඩ
22. පුනරුද සමයේ දේශගවේෂණ කටයුතු හා සම්බන්ධ තොරතුරු කිහිපයක් 'අ' හා 'ආ' තීරුවල දක්වා ඇත. සුදුසු පරිදි ගලපා නිවැරදි පිළිතුර තෝරන්න.

<p>'අ'</p> <ol style="list-style-type: none"> 1. වස්කෝද ගාමා 2. ක්‍රිස්ටෝපර් කොලොම්බස් 3. පර්ඩිනන්ඩ් මැගලන් 4. බර්තොලමියු දියෙස් <p>(1) DBAC (2) DACB</p>	<p>'ආ'</p> <ol style="list-style-type: none"> A අප්‍රිකාවේ දකුණු තුඩුවට පැමිණීම B ලෝවටා යාත්‍රා කිරීම C ඇමරිකාව සොයාගැනීම D පෙරදිගට පැමිණි පළමු යාත්‍රිකයා වීම <p>(3) DCBA (4) BCDA</p>
---	---
23. කාර්මික විප්ලවය ආරම්භ වූ යුරෝපා රට වන්නේ,
 (1) එංගලන්තය (2) ප්‍රංශය (3) ඉතාලිය (4) ජර්මනිය
24. ක්‍රි.ව. 1623 දී ලන්දේසීන් විසින් පහරදී අල්ලාගත් කුළුබඩු දිවයින ලෙස හැඳින්වූ දූපත කුමක් ද?
 (1) ජාවා (2) මැඩගස්කර් (3) සුමාත්‍රා (4) ඇම්බොයිනා
25. 1815 උඩරට ගිවිසුම අත්සන් කරන සමයේ සිටි ඉංග්‍රීසි ආණ්ඩුකාරයා වන්නේ,
 (1) තෝමස් මේට්ලන්ඩ් (2) රොබට් බ්‍රවුන්රිග් (3) පෙඩරික් තෝන් (4) ටොරින්ටන්
26. ප්‍රසිද්ධ වාද විවාද පවත්වමින් මිෂනාරි ආගමික ප්‍රචාරක කටයුතුවලට පෙරමුණ ගත් හික්සන් වහන්සේ නමකි
 (1) වස්කඩුවේ සුභති හිමි (2) මීගෙට්ටුවන්නේ ගුණානන්ද හිමි
 (3) හික්කඩුවේ සුමංගල හිමි (4) රත්මලානේ ධම්මාලෝක හිමි
27. අතීත වාස්තු විද්‍යාත්මක නිර්මාණවල විශිෂ්ටත්වය නූතන තාක්ෂණික ශිල්පීය ක්‍රමවලට නොදෙවෙනි බව ප්‍රකට කරන නිර්මාණයකට නිදසුනකි,
 (1) රුවන්වැලි මහසෑ නිර්මාණය (2) සීගිරි උද්‍යාන නිර්මාණය
 (3) පරාක්‍රම සමුද්‍රයේ වැව් බැම්ම නිර්මාණය (4) අනුරාධපුර නගර නිර්මාණය
28. කෝට්ටේ යුගයේ ලංකාවට පැමිණි විදේශිකයකුට පහත සඳහන් සිදුවීම් අතරින් අසන්නට නොලැබෙන සිදුවීම කුමක් ද?
 (1) නිශ්ශංකලතා මණ්ඩපය ඉදිකිරීම.
 (2) වන්දනානු දෙවනවරටත් ලංකාව ආක්‍රමණය කිරීම.
 (3) ශ්‍රී දළදා මාලිගාවට පත්තිරිප්පුව එකතු කිරීම.
 (4) ඉබන් බතුතා නම් අරාබි සංචාරකයා ලක්දිවට පැමිණීම.
29. "අනේ කුහුඹියනේ - නොපටත් රජෙක් ඉන්නේ....." යනුවෙන් ආරම්භවන කවි වලින් කියැවෙන්නේ,
 (1) රජෙකුගේ අවශ්‍යතාවයක් නැති බවයි. (2) කුහුඹුවන්ටත් රජෙක් සිටින බවයි.
 (3) රජෙක් නැතිවීම නිසා ඇතිවූ සිත්තැවුලයි. (4) පෙරහැර කළ හැකි බවයි.
30. රජවරු තම අභිෂේක උත්සවවලදී සෞභාග්‍යය උදාකරනු ඇතැයි යන විශ්වාසයෙන් පංච කකුඩ භාණ්ඩ පරිහරණය කරන්නට ඇතැයි සැලකේ. පහත ලැයිස්තුවෙන් ඒවා ඇතුළත් පිළිතුර තෝරන්න.

A වලවිදුනාව	B මිරිවැඩි සඟල	C පා පුටුව	D කුංකුම
E මඟුල් කඩුව	F සේසන	G සඳුන් අරටු	H නළල් පටිය

(1) ABEFH (2) ABCDF (3) ACDGH (4) BCDGH

31. පැරකුම්බා සිරිත, ලෝවැඩ සඟරාව, ගුත්තිල කාව්‍ය වැනි සාහිත්‍ය ග්‍රන්ථ බිහිවූයේ කුමන යුගයේදී ද?
 (1) අනුරාධපුර (2) කෝට්ටේ (3) මහනුවර (4) දඹදෙනිය

Agaram.LK - Keep your dreams alive!

Agaram.LK - Keep your dreams alive!

32. වැලිවිට සරණංකර හිමියන්ට සංසරාජ තනතුර පිරිනමා බෞද්ධ ප්‍රබෝධයක් ඇතිකිරීමට කටයුතු කළ රජතුමා වන්නේ,
 (1) ශ්‍රී විජය රාජසිංහ (2) රාජාධිරාජසිංහ (3) කීර්ති ශ්‍රී රාජසිංහ (4) ශ්‍රී වික්‍රම රාජසිංහ
33. රජ තනතුරේ ගාමිහිරත්වය රැකගනිමින් රජවාසල කටයුතු පවත්වාගෙනයාමේ කාර්යය පැවරී තිබුණේ කුමන නිලධාරීන්ට ද?
 (1) මහවාසල නිලධාරීන් (2) මුහම්දිරම්වරු (3) දිසාවේවරු (4) අධිකාරම්වරු
34. කුරුණෑගල සමයේ සිදුවූ වැදගත් සාහිත්‍ය සේවාවකි
 (1) කවිසිඵමේණ රචනා කිරීම.
 (2) පන්සිය පනස් ජාතක පොත සිංහලයට පරිවර්තනය කිරීම.
 (3) ගිරා, සැලලිහිණි සංදේශ කාව්‍ය රචනා කිරීම.
 (4) මයුර, තිසර සංදේශ කාව්‍ය රචනා කිරීම.
35. ජය ගඟ හෙවත් යෝධ ඇළ විශිෂ්ඨ වාරි නිර්මාණයක් ලෙස සැලකීමට හේතුව මින් කුමක් ද?
 (1) කුඩා වැව් රාශියකට ජලය ලබාදීම.
 (2) ජලය ගෙනයාමට දිගු ඇළක් නිර්මාණය කිරීම.
 (3) භූමියේ ඇති සියුම් බැස්මට අනුව ඇළ නිර්මාණය කිරීම.
 (4) කලා වැවේ සිට තිසා වැවට ජලය ගෙනයාම.
36. යුරෝපයේ කාර්මික විප්ලව සමයේ නව නිපැයුම් හා ඒ හා සම්බන්ධ පුද්ගලයන් 'අ' හා 'ආ' තීරුවල දැක්වේ. සුදුසු පරිදි ගලපා නිවැරදි පිලිතුර තෝරන්න.

'අ'		'ආ'	
1. අශ්වයන් යෙදූ නඟුල්වලින් පේළියට වැපිරීම		A සැමුවෙල් මෝස්	
2. බැටලු වර්ග අහිච්ඡනය		B රිචඩ් ආක්රයිට්	
3. විදුලි පණිවුඩ ක්‍රමය		C රොබට් බැක්වෙල්	
4. ජල බලයෙන් ක්‍රියාකරන තුල් කච්ඡන යන්ත්‍රය		D ජෙන් රෝටල්	
(1) DBCA	(2) ACDB	(3) BDAC	(4) DCAB
37. මුදල් ආයෝජනය කරන ධනපති පංතියක් හා ශ්‍රමය විකුණන කම්කරු පංතියක් ලෙස සමාජ ස්ථර දෙකක් බිහිවූයේ,
 (1) කාර්මික විප්ලවයේ ප්‍රතිඵලයක් ලෙසය. (2) පුනරුදයේ ප්‍රතිඵලයක් ලෙසය.
 (3) දේශගවේෂණයේ ප්‍රතිඵලයක් ලෙසය. (4) යටත්විජිත ඇතිකර ගැනීමේ ප්‍රතිඵලයක් ලෙසය.
38. අතීත ශ්‍රී ලංකාවේ දියුණු වෛද්‍ය තාක්ෂණයක් පැවැති බවට හොඳම සාධකයකි
 (1) වෛද්‍යවරු ලෙස ප්‍රසිද්ධ රජවරු අතීතයේදී සිටි බවට සාධක ලැබීම.
 (2) පැරණි වෙද පොත් භාවිතයේ පැවතීම.
 (3) පැරණි රෝහල්වලට අයත් නටබුන් හමුවීම.
 (4) පුරාවිද්‍යාත්මක කැණීම්වලින් ශල්‍ය වෛද්‍ය උපකරණ හමුවීම.
39. උඩරට ගිවිසුමේ පස්වන වගන්තිය හා සම්බන්ධ පහත කරුණු අතරින් කුමන කරුණ ද?
 (1) රජුගේ හතරවර්ග නෑයන්ට උඩරටට ඇතුළුවීමට නොහැකිය.
 (2) උඩරට රාජධානිය ඉංග්‍රීසීන්ට අයත්වේ.
 (3) බුද්ධ ශාසනය හා දේවාගම කඩනොකොට ආරක්ෂා කිරීම.
 (4) උඩරට මුලාදැනින්ගේ තනතුරු හා රාජකාරි පෙර පරිදිම සිදුවේ.
40. දිගුකාලීනව මිනිසාට ප්‍රබල තර්ජනයක් එල්ල කරන කාර්මික විප්ලවයේ අහිතකර ප්‍රතිඵලයක් වන්නේ මින් කුමක් ද?
 (1) සමාජ පන්ති ඇතිවීම (2) වෘත්තීය සමිති ක්‍රියාමාර්ග
 (3) පරිසර දූෂණය (4) වැඩ වර්ජන සඳහා යොමුවීම

සියලු ම හිමිකම් ඇවිරිණි
All Rights Reserved

දකුණු පළාත් අධ්‍යාපන දෙපාර්තමේන්තුව
Department of Education, Southern Province
දකුණු පළාත් අධ්‍යාපන දෙපාර්තමේන්තුව
Department of Education, Southern Province


දකුණු පළාත් අධ්‍යාපන දෙපාර්තමේන්තුව
Department of Education, Southern Province

පළමු වාර පරීක්ෂණය 2019 මාර්තු
First Term Test, March 2019

II ශ්‍රේණිය
Grade 11

ඉතිහාසය - II

පැය දෙකයි
Two hours



සැලකිය යුතුයි.

- පළමුවන ප්‍රශ්නය අනිවාර්ය වේ.
- II කොටසින් ඔනෑම ප්‍රශ්න හතරකට පිළිතුරු සපයන්න.
- III කොටසින් එක් ප්‍රශ්නයකට පිළිතුරු සපයන්න.

I - කොටස

(01) (අ) පහත (i) යටතේ දක්වා ඇති ඓතිහාසික ස්ථාන සියල්ලම සපයා ඇති ශ්‍රී ලංකා සිතියමෙහි ද; (ii) යටතේ දක්වා ඇති ඓතිහාසික ස්ථාන සියල්ලම සපයා ඇති ලෝක සිතියම කොටසෙහි ද ලකුණු කර නම් කරන්න.

(i) මල්වතුමය, පරාක්‍රම සමුද්‍රය, පාහියන්ගල, දේවනගර, සෙංකඩගල, බුන්දල, ශ්‍රී ජයවර්ධනපුරය, මහානිත්ථ, කසාතොට, කලාවැව, දඹකොළ පටුන, කප්පකන්දර නදිය (ලකුණු 12)

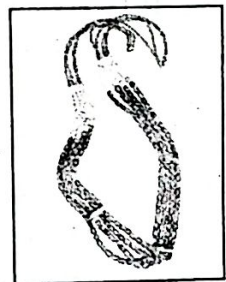
(ii) කොන්ස්තන්තීනෝපල්, පාතුගාලය, මහා බ්‍රිතාන්‍යය, සුභපැත්තේ තුඩුව, ගෝව, චීනය (ලකුණු 06)

(ආ) (i) පහත A, B, C හා D යටතේ දක්වා ඇති ඓතිහාසික තොරතුරුවලට අදාළ පිළිතුරු අනුපිළිවෙළින් ඔබේ පිළිතුරු පත්‍රයේ ලියා දක්වන්න.

- A ලම්බකර්ණ වංශයේ ආරම්භක පාලකයා
- B I විජයබාහු රජතුමාට රජවීමට ප්‍රථම රැකවරණය සැලසූ පුද්ගලයා
- C ඉංග්‍රීසින් මෙරටට පැමිණෙන විට මෙහි සිටි ලන්දේසි ආණ්ඩුකාරයා
- D ගාල්ලේ ත්‍රිභාෂා සෙල්ලිපිය කරවූ චීන සෙනවියා (ලකුණු 04)

• A හා B යටතේ දක්වා ඇති පින්තූර අධ්‍යයනය කොට අසා ඇති ප්‍රශ්නවලට පිළිතුරු අංක අනුපිළිවෙළින් ඔබේ පිළිතුරු පත්‍රයේ දක්වන්න.

- (ii) 1. A අක්ෂරයෙන් දක්වා ඇති පින්තූරය හඳුන්වන නම කුමක් ද?
2. මෙය සොයාගෙන ඇත්තේ කුමන ස්ථානයෙන් ද?
3. මෙය අයත්වන්නේ කුමන කාලවකවානුවකට ද?
4. මෙමගින් පිළිබිඹුවන එක් කරුණක් සඳහන් කරන්න. (ලකුණු 04)



- (iii) 1. B රූපයෙන් දැක්වෙන පුද්ගලයාගේ නම කුමක් ද?
2. ප්‍රංශය තම රට ආක්‍රමණය කළ විට ඔහු පලාගියේ කුමන රටටද?
3. මොහු අත්සන් තැබූ ලිපිය හඳුන්වන්නේ කුමන නමින් ද?
4. එම ලිපිය නිසා ඇතිවූ ප්‍රතිඵලය කුමක් ද? (ලකුණු 04)



Agaram.LK - Keep your dreams alive!

Agaram.LK - Keep your dreams alive!

II - කොටස

- (02) (i) ශ්‍රී ලංකාවේ ප්‍රාග් ඓතිහාසික යුගය පිළිබඳව සාධක හමුවූ ලෙන් තැනක් නම් කරන්න. (ලකුණු 03)
- (ii) පුරව ඓතිහාසික යුගය ප්‍රාග් ඓතිහාසික යුගයෙන් වෙන්කර ගැනීමට පදනම් වූ සාධක දෙකක් සඳහන් කරන්න. (ලකුණු 04)
- (iii) මුල් ඓතිහාසික යුගයේ ජනාවාස ව්‍යාප්තියට බලපෑ සාධක දෙකක් විස්තර කරන්න. (ලකුණු 05)
- (iv) (a) පැරණි ගම්වල ජීවත්වූ ගම් ප්‍රධානීන් හැඳින්වූ නම කුමක් ද?
 (b) වැව් පද්ධතියකට අයත් ගම් සියල්ල නියෝජනය කළ නායකයා හැඳින්වූ නම කුමක් ද?
 (c) 'a' හි දක්වූ ගම් ප්‍රධානීන් විසින් ඉටුකළ කාර්යයන් හතරක් සඳහන් කරන්න. (ලකුණු 06)

- (03) (i) පහත සඳහන් වැව් ඉදිකළ රජතුමා කවුරුන්දැයි වරහන් තුළින් තෝරා A, B, C අනුපිළිවෙලින් සඳහන් කරන්න.
 A අභය වැව
 B කලාවැව
 C මින්නේරිය වැව
 (දේවානම් පියතිස්ස රජතුමා / පණ්ඩුකාභය රජතුමා / ධාතුසේන රජතුමා / I අග්බෝ රජතුමා / මහසෙන් රජතුමා) (ලකුණු 03)
- (ii) හේන් වගා කිරීම වෙනුවෙන් පැරණි රජවරු අයකළ බදු වර්ග දෙකක් සඳහන් කරන්න. (ලකුණු 04)
- (iii) අතීත සමාජයේ දේශීය වෙළඳාම මෙන්ම විදේශීය වෙළඳාම ද පැවැති බව සඳහන් වේ. මේ බව කරුණු දෙකක් ඇසුරින් විස්තර කරන්න. (ලකුණු 05)
- (iv) දුටුගැමුණු රජතුමා මෙරට දේශපාලන බලය නිසි අයුරින් සංවිධානය කිරීමට වැදගත් සේවාවක් කළ රජ කෙනෙකි. කරුණු තුනක් ඇසුරින් විස්තර කරන්න. (ලකුණු 06)

- 04 (i) වර්තමානයේ භාවිතාවන මිනුම් ක්‍රමවලට නොදෙවෙනි ඉතා කුඩා ඒකක පවා මැනිය හැකි මිනුම් ක්‍රම අතීතයේදී ද තිබූ බවට සාධක ඇත. පහත A, B හා C වලින් දක්වා ඇති මිනුම් භාවිතා කළේ කුමන දේවල් මැනීමටදැයි ABC අනුපිළිවෙලින් සඳහන් කරන්න.
 A පරමාණු හා ආංශුල
 B ගුන්නා හා ස්වර්ණ
 C කුරුණි හා අඹුණු (ලකුණු 03)
- (ii) යහපත් සමාජයක් පවත්වාගෙන යාමට විවිධ නීති අතීතයේදී ද පනවා ඇත. පහත සඳහන් නීති අනාවරණය වන සෙල්ලිපිය වරහන් තුළින් තෝරා A, B, C හා D අනුපිළිවෙලින් සඳහන් කරන්න.
 A නිසි කලට සී සෑම නොකරන පුද්ගලයන්ට කලං පහක දඩයක් නියම කිරීම.
 B සැකසූ මඩුවල පමණක් තබා බුලත් පුවක් වෙළඳාම් කළ යුතුයි.
 C එළ හරකුන්, එඵවන් සාතනය කරන අයට මරණ දඩුවම.
 D සොරකම හා මිනීමැරීම සඳහා දඩුවම එල්ලා මැරීමයි.
 (වෙස්සගිරිය සෙල්ලිපිය / හෝපිටිගමුව සෙල්ලිපිය / සිතුල්පව්ව සෙල්ලිපිය / වේවැල්කැටිය සෙල්ලිපිය / මිහින්තලා පුවරු ලිපිය / කොණ්ඩවට්ටවන් සෙල්ලිපිය) (ලකුණු 04)
- (iii) (a) අතීත වාස්තු විද්‍යාවේ විශිෂ්ඨත්වය විදහා පාන අංශ දෙකක් නම් කරන්න.
 (b) "සනීපාරක්ෂාව, ස්වස්ථතාව හා වෛද්‍ය ක්‍රම පිළිබඳ දීර්ඝ ඉතිහාසය, වර්තමානයට ද ආදර්ශ සපයයි." මෙය සනාථ කිරීමට කරුණු තුනක් දක්වන්න. (ලකුණු 05)
- (iv) අතීත සමාජයේදී කාන්තා නියෝජනය සඳහා අවස්ථා සම්පාදනය වී තිබූ බව සාධක තුනක් ඇසුරින් පෙන්වා දෙන්න. (ලකුණු 06)

Agaram.LK - Keep your dreams alive!

Agaram.LK - Keep your dreams alive!

- 05 (i) A පළමු නාගරීකරණයට අයත් ප්‍රථම අගනගරය ද, (ලකුණු 03)
 B දෙවන නාගරීකරණයට අයත් පාලන මධ්‍යස්ථාන දෙකක්ද දක්වන්න.
- (ii) පළමු නාගරීකරණයට අයත් දෙවන පාලන මධ්‍යස්ථානය බිඳ වැටීමට බලපෑ හේතු දෙකක් සඳහන් කරන්න. (ලකුණු 04)
- (iii) "දෙවන පරාක්‍රමබාහු රජතුමා ශ්‍රේෂ්ඨ පාලකයකු ලෙස හැඳින්විය හැකිය." කරුණු දෙකක් ඉදිරිපත් කරමින් මෙම කියමන සනාථ කරන්න. (ලකුණු 05)
- (iv) "භයවන පරාක්‍රමබාහු රජතුමා ලංකා ඉතිහාසයේ ඉතා වැදගත් සේවාවන් රැසක් සිදුකළ නරපතියෙකි." රටේ ඒකීය භාවය පුරක්ෂිත කිරීම සඳහා එතුමා ගත් ක්‍රියාමාර්ග තුනක් විස්තර කරන්න. (ලකුණු 06)

- 06 (i) අපේ රටේ පාලන කටයුතු සඳහා බලය අල්ලා ගැනීමට මෙරටට පැමිණි බටහිර ජාතීන් පැමිණි අනුපිළිවෙළ අනුව සඳහන් කරන්න. (ලකුණු 03)
- (ii) පහත සඳහන් සටන් සම්බන්ධයෙන් ක්‍රියාකළ පාකුගිසි කපිතාන්වරුන්ගේ නම් වරහන් තුළින් තෝරා A, B, C හා D අනුපිළිවෙළින් සඳහන් කරන්න.

- A දන්තවරු සටන
 B බලන සටන
 C රන්දෙනිවල සටන
 D ගන්නොරුවේ සටන

(දියෝගෝද මෙලෝ / කොන්ස්තන්තීනු ද සා / අපොන්සු පෙරේසිරා ලසර්දා / දොන් ජෙරනිමෝ ද අසවේදු / ජෙරෝ ලෝපැස් ද සුසා) (ලකුණු 04)

- (iii) "නව රාජවංශයක් ආරම්භ කරමින් රාජ්‍යත්වයට පත්වූ I විමලධර්මසූරිය රජතුමාට අභියෝග රැසකට මුහුණ දීමට සිදුවිය. එතුමා ඒවා ජය ගැනීමට ද ක්‍රියා කළේය."

- (a) එතුමා මුහුණ දුන් එක් අභියෝගයක් හා
 (b) අභියෝග ජය ගැනීමට ගත් ක්‍රියාමාර්ගයක් පැහැදිලි කරන්න. (ලකුණු 05)

- (iv) (a) මහනුවර රාජධානියේ රජතුමා විසින්ම විසඳු නඩු වර්ග තුනක් හා
 (b) මහනුවර රාජධානි සමයේ සමාජ සංවිධානයේ කැපී පෙනෙන ලක්ෂණ තුනක් සඳහන් කරන්න. (ලකුණු 06)

- 07 (i) ඉංග්‍රීසින් මුහුදුබඩ ප්‍රදේශ අත්පත් කර ගැනීමට පෙර ඔවුන්ගේ දූතයන් තිදෙනෙකු වරින් වර උඩරටට පැමිණ තිබේ. එම තිදෙනා නම් කරන්න. (ලකුණු 03)

- (ii) පහත A, B, C හා D යන සිදුවීම් හා සම්බන්ධ පුද්ගලයන් අනුපිළිවෙළින් සඳහන් කරන්න.

- A බ්‍රිතාන්‍ය ආණ්ඩුව විසින් ලංකාවට පත්කර එවූ ප්‍රථම ආණ්ඩුකාරයා කවුද?
 B උඩරට තොරතුරු රහසිගතව ලබාගනිමින් උඩරට හික්ෂුන්වහන්සේලා හා ප්‍රභූන්ගේද සිත් දිනාගත් ඉංග්‍රීසි රාජ්‍ය නිලධාරියා කවුද?
 C ශ්‍රී වික්‍රම රාජසිංහ රජු සමග මතභේද ඇතිකරගත් බැවින් මරණීය දණ්ඩනයට ලක්වූ මහාධිකාරම්වරයා කවුද?
 D උඩරට ගිවිසුම අත්සන් කිරීමට ආසන්න මොහොතේ එසවූ ඉංග්‍රීසි කොඩිය බිම හෙළා සිංහ කොඩිය එසවූයේ කවුද? (ලකුණු 04)

(iii) 1797 ඉංග්‍රීසි වෙළඳ සමාගමේ පාලනයට එරෙහිව මුහුදුබඩ ප්‍රදේශවල ජනතාවගේ අප්‍රසාදය කැරැල්ලක් බවට පත්විය."

(අ) එවැනි කැරැල්ලක් ඇතිවීමට හේතු වූ කරුණු තුනක් හා

(ආ) කැරැල්ල මැඩලීමෙන් පසු පත්කළ මියුරන් කොමිසමේ නිර්දේශ දෙකක් සඳහන් කරන්න. (ලකුණු 05)

(iv) "උඩරට ගිවිසුම අත්සන් කර වසර තිස් තුනක් ගතවීමෙන් පසුද උඩැටියන්ට හුරුපුරුදු වූ පැරණි රාජාණ්ඩු ක්‍රමය යළි ස්ථාපිත කරගැනීමට ආයුධ සන්නද්ධ අරගලයකට අවතීර්ණ විය."

(a) එම නිදහස් අරගලයට නායකත්වය දුන් පුද්ගලයන් දෙදෙනෙක්

(b) එම අරගලයට හේතු වූ කරුණු දෙකක් හා

(c) එය අසාර්ථක වීමට හේතු දෙකක් ද සඳහන් කරන්න. (ලකුණු 06)

III - කොටස

(08) (i) පුනරුද සමයේ පහත සොයාගැනීම් කළ පුද්ගලයන් නම් කරන්න.

A දුරේක්ෂය

B මුද්‍රණ යන්ත්‍රය

C ගුරුත්වාකර්ෂණ නියමය

(ලකුණු 03)

(ii) පහත කරුණු හා සම්බන්ධ පුද්ගලයන් වරහන් තුළින් තෝරා A, B, C හා D අනුපිළිවෙළින් සඳහන් කරන්න.

A කතෝලික සභාවේ දුර්වලතා විවේචනය කිරීම.

B "අන්තිම රාත්‍රී භෝජන සංග්‍රහය" විනය නිර්මාණය කිරීම.

C කිරිගරුඬින් ප්‍රතිමා නෙලීම.

D සෞරග්‍රහ මණ්ඩලයේ ග්‍රහලෝක ඉලිප්සාකාර ගමන් මාර්ගයක පරිභ්‍රමණය වීම.

(ජොහැන්නස් කෙප්ලර් / නිකලස් කොපර්නිකස් / මයිකල් ආන්ජිලෝ / මාටින් ලූතර් / ලියනාඩෝ ඩාවින්චි / මයිකල් සර්ටෙස්)

(ලකුණු 04)

(iii) (a) දේශ ගවේෂණ කටයුතු සඳහා මුලින්ම උනන්දුවක් දැක්වූ රටවල් දෙක හා

(b) පුනරුදයේ බලපෑම නිසා අපේ රටේ ආර්ථික අංශයේ ඇතිවූ වෙනස්කම් තුනක් සඳහන් කරන්න. (ලකුණු 05)

(iv) "පුනරුද සමයේ සොයාගැනීම් නව මුහුදු මාර්ග සොයා යාමේ ගමන සාර්ථක වීමට හේතු විය." නිදසුන් තුනක් ඇසුරින් සනාථ කරන්න. (ලකුණු 06)

09 (i) බ්‍රිතාන්‍යයට අමතරව කාර්මික විප්ලවය ව්‍යාප්ත වූ යුරෝපා රටවල් තුනක් නම් කරන්න. (ලකුණු 03)

(ii) පහත නම් සඳහන් පුද්ගලයන් සිදුකළ සොයාගැනීම් A, B, C හා D අනුපිළිවෙළින් සඳහන් කරන්න.

A සැමුවෙල් ක්‍රොම්ප්ටන්

B හෙන්රි බෙසමර්

C හම්ප්‍රිඩේව්

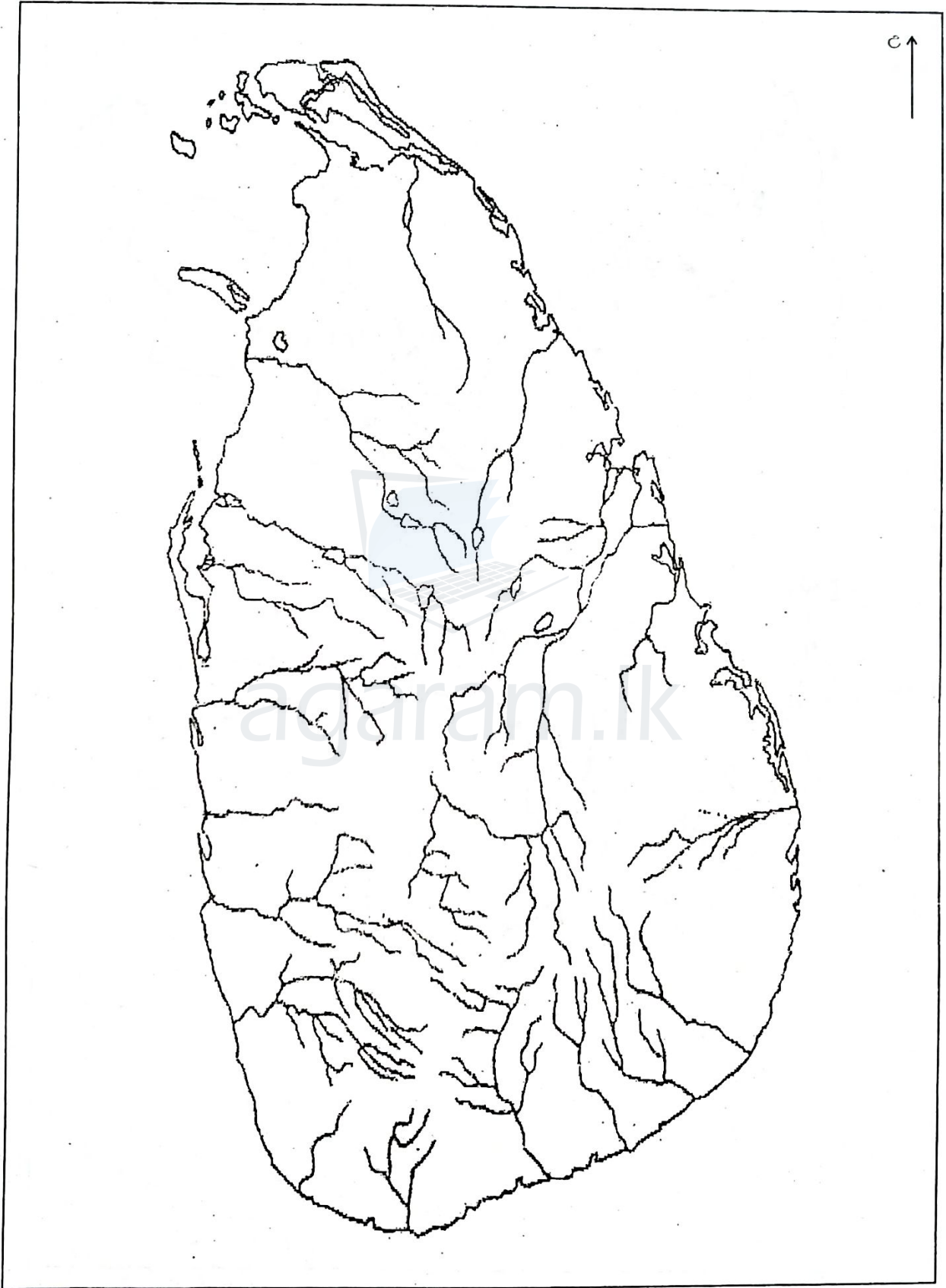
D ගුග්ලි එල්මෝ මාර්කෝනි

(ලකුණු 04)

(iii) කාර්මික විප්ලවය බ්‍රිතාන්‍යයේම ආරම්භවීමට හේතු වූ කරුණු දෙකක් පැහැදිලි කරන්න. (ලකුණු 04)

(iv) කාර්මික විප්ලවය කෘෂිකාර්මික ක්‍ෂේත්‍රය කෙරෙහි ඇතිකළ බලපෑම කරුණු තුනක් ඇසුරින් විස්තර කරන්න. (ලකුණු 04)

(01) (අ) (i) ප්‍රශ්නයට අදාළ ශ්‍රී ලංකා සිතියම



Agaram.LK - Keep your dreams alive!

Agaram.LK - Keep your dreams alive!

11 ඉතිහාසය - II

(01) (අ) (ii) ප්‍රශ්නයට අදාළ ලෝක සිතියම

