




AL/2019/24/S-I(OLD)

සියලු ම හිමිකම් ඇවිරිණි / முழுப் பதிப்புரிமையுடையது / All Rights Reserved

පැරණි නිර්දේශය පழைய පාட.த்திட்டம் / Old Syllabus

OLD

ශ්‍රී ලංකා විභාග දෙපාර්තමේන්තුව
 இலங்கைப் பரீட்சைத் திணைக்களம்
 Sri Lanka Department of Examinations
 இலங்கைப் பரீட்சைத் திணைக்களம்

අධ්‍යයන පොදු සහතික පත්‍ර (උසස් පෙළ) විභාගය, 2019 අගෝස්තු
 கல்விப் பொதுத் தராதரப் பத்திர (உயர் தர)ப் பரீட்சை, 2019 ஓகஸ்ட்
 General Certificate of Education (Adv. Level) Examination, August 2019

2019.08.07 / 1300 - 1500

තර්ක ශාස්ත්‍රය හා විද්‍යාත්මක ක්‍රමය I
 அளவையியலும் விஞ்ஞானமுறையும் I
 Logic and Scientific Method I

24 S I

පැය දෙකයි
 இரண்டு மணித்தியாலம்
 Two hours

- උපදෙස්:**
- * සියලු ම ප්‍රශ්නවලට පිළිතුරු සපයන්න.
 - * උත්තර පත්‍රයේ නියමිත ස්ථානයේ ඔබේ විභාග අංකය ලියන්න.
 - * උත්තර පත්‍රයේ පිටුපස දී ඇති උපදෙස් ද සැලකිල්ලෙන් කියවා පිළිපදින්න.
 - * 1 සිට 50 තෙක් එක් එක් ප්‍රශ්නයට (1), (2), (3), (4), (5) යන පිළිතුරුවලින් කිවැරදි හෝ ඉහාමත් හැදෑරෙන හෝ පිළිතුර තෝරාගෙන එය උත්තර පත්‍රයේ පසුපස දැක්වෙන උපදෙස් පරිදි කතිරයක් (X) යොදා දක්වන්න.
 - * එක් ප්‍රශ්නයකට ලකුණු 02 බැගින් මුළු ලකුණු 100 යි.

සැලකිය යුතුයි: * මෙම ප්‍රශ්න පත්‍රයෙහි තාර්කික නියත භාවිත වන්නේ පහත පෙනෙන ආකාරයටයි.
 නිෂේධනය: ~, ගමනය: →, සංයෝජනය: ∧, විශේෂනය: ∨, උභයගමනය: ↔,
 සර්වචාරී ප්‍රමාණිකතාවය: Λ, අස්තිචාරී ප්‍රමාණිකතාවය: V

- ප්‍රස්තුතයක ඇරිස්ටෝටලියානු විග්‍රහයේ සාධක දෙකක් වන්නේ,
 - අවයව හා නිගමනයන් ය.
 - සත්‍යය හා සප්‍රමාණතාවයයි.
 - එකාධිචාරී හා ඒකචාරී ය.
 - වාච්‍යය හා වාචකයයි.
 - ශ්‍රීතය හා ස්වයන්ත විචල්‍යයයි.
- ග්‍රහයන්ගේ ගමන ඉලිප්සාකාර බව සොයාගැනීමට කෙප්ලර්ට මග පෙන්වනු ලැබුවේ ටයිකෝ ද බ්‍රාහි විසින් සටහන් කර තිබූ එක්තරා ග්‍රහයෙකුගේ නිරීක්ෂිත ස්ථාන පිළිබඳ දත්ත වක්‍රාකාර කක්ෂයකින් අපගමනය වූ අන්දමයි. එම ග්‍රහයා
 - බ්‍රහස්පති ය.
 - සිකුරු ය.
 - අඟහරු ය.
 - බුධ ය.
 - යුරේනස් ය.
- ප්‍රබල නිගාමී තර්කයක් යනු
 - සප්‍රමාණ තර්කයකි.
 - සත්‍ය නිගමනයක් සහිත නිෂ්ප්‍රමාණ තර්කයකි.
 - අසත්‍ය අවයව ඇති සප්‍රමාණ තර්කයකි.
 - සත්‍ය අවයව සහිත නිෂ්ප්‍රමාණ තර්කයකි.
 - සත්‍ය අවයව සහිත සප්‍රමාණ තර්කයකි.
- විද්‍යාත්මක විධි ක්‍රමවේදයෙහිලා, ආනුභූතික පරීක්ෂණයක් වන්නේ,
 - නිරීක්ෂණයකි.
 - සම්පරීක්ෂණයකි.
 - නිරීක්ෂණයක් හෝ සම්පරීක්ෂණයකි.
 - මිනුම සහිත සම්පරීක්ෂණයකි.
 - සම්පරීක්ෂණයක් අනුක්‍රමිකව සිදු කළ නිරීක්ෂණයකි.
- පහත දී ඇති වාක්‍ය අතුරෙන් සාම්ප්‍රදායික තර්ක ශාස්ත්‍රයෙහි සරල නිරූපාධික ප්‍රස්තුතයක් ලෙස සැලකිය හැක්කේ කුමක් ද?
 - ඔහු ශ්‍රී ලාංකිකයෙකු හෝ ඉන්දියානුවෙකු ය.
 - ඉදින් කිසිවෙක් ශ්‍රී ලාංකිකයෙකු නම් එවිට ඔහුට ආ හැකි ය.
 - කිසිම ශ්‍රී ලාංකිකයෙකු එක්සත් ජාතීන්ගේ සංවිධානයේ මහ ලේකම් වී නැත.
 - සොක්‍රටීස් වස පානය කළේ ද?
 - ජැක් සහ ජිල් කන්ද උඩට ගියහ.

[දෙවැනි පිටුව බලන්න.

Agaram.LK - Keep your dreams alive!

Agaram.LK - Keep your dreams alive!

6. ස්වභාවික නිරීක්ෂණයක් ලෙස සැලකිය හැකි ප්‍රකාශය කුමක් ද?
- (1) සූර්යයා වටා ග්‍රහයකුගේ කක්ෂය ඉලිප්සාකාර බව කෙප්ලර් නිරීක්ෂණය කිරීම
 - (2) දහනයෙන් පසු වස්තුවක බර වැඩිවන බව ලැවොයිසියර් නිරීක්ෂණය කිරීම
 - (3) ගැලීලියෝ තම දුරදක්නය මගින් සඳෙහි තලය උස් පහත් බිම් සහිත බව නිරීක්ෂණය කිරීම
 - (4) සංයෝග ගොඩනැගීමට මූලද්‍රව්‍ය එකතු වන්නේ සරල අනුපාත වලින් බව ජෝන් ඩෝල්ටන් නිරීක්ෂණය කිරීම
 - (5) රොසලින්ඩ් ෆ්‍රැන්ක්ලින් විසින් DNA අණුවෙන් ලබාගත් X-කිරණ විවර්තන රටාව ද්විත්ව හෙලිකස්සයක් බව ජෝන් වොට්සන් දැකීම
7. 'සියලු කුනිස්සන් අද ලබාගත නොහැකි දේ වේ' යන වාක්‍යයේ ප්‍රතිවර්තනය ඇතුළත් වරණය කුමක් ද?
- (1) සමහර කුනිස්සන් අද ලබාගත නොහැක.
 - (2) අද ලබාගත නොහැකි සියලු දේ කුනිස්සන් ය.
 - (3) කිසිම කුනිස්සෙකු අද ලබාගත නොහැකි ය.
 - (4) අද ලබාගත නොහැකි සමහර දේ කුනිස්සන් ය.
 - (5) සමහර කුනිස්සන් අද ලබාගත හැක.
8. අනුපාත පරිමාණයක් භාවිත කළ හැකි මිනුම කුමක් ද?
- (1) පුද්ගලයකුගේ ප්‍රාග් භාෂාව පිළිබඳ දැනුම පරීක්ෂා කිරීම
 - (2) පුද්ගලයකුගේ බුද්ධි මට්ටම (IQ)
 - (3) දිග
 - (4) උෂ්ණත්වය °C හෝ °F වලින්
 - (5) වාර විභාග පරීක්ෂණයක දී පන්තියක ශිෂ්‍යයෙකුගේ ලකුණු
9. "සියලු ශ්‍රී ලාංකිකයින් ආර්යයන් ය. සමහර ඉන්දියානුවන් ආර්යයන් ය. එහෙයින් සමහර ශ්‍රී ලාංකිකයින් ඉන්දියානුවන් ය." යන සංවාක්‍යය
- (1) සප්‍රමාණ තර්කයකි.
 - (2) අයථා සාධාන පද ආභාසය සහිත ය.
 - (3) අයථා පක්ෂ පද ආභාසය සහිත ය.
 - (4) ප්‍රබල තර්කයකි.
 - (5) අව්‍යාජිත මධ්‍ය පද ආභාසය සහිත ය.
10. දේදුන්නේ වර්ණ, X-කිරණ, අධෝරක්ත කිරණ, පාරජම්බුල කිරණ හා ගැමා කිරණ යන සියලු ඒවා,
- (1) සුදු ආලෝකයයි.
 - (2) ගුරුත්ව තරංගයි.
 - (3) නොපෙනෙන ආලෝකයයි.
 - (4) විද්‍යුත් චුම්බක විකිරණයි.
 - (5) රේඩියෝ තරංගයි.
11. සම්ප්‍රදායික ප්‍රතියෝග වතුරසුයේ එන පහත දැක්වෙන කුමන ප්‍රස්තුත යුගලයේ සාමාජිකයන් අතර සම්බන්ධය සම්මතීය නොවන්නේ ද?
- (1) A හා E (2) A හා O (3) A හා I (4) E හා I (5) O හා I
12. ද්විපද නාමකරණය එනම් ගණය හා විශේෂය පදනම් කරගනිමින් නම් දෙකක් මගින් ජීවී වස්තුවක් හැඳින්වීම මගින් වර්ගීකරණ විද්‍යාවට දායකත්වයක් දෙනු ලැබූයේ,
- (1) ෂෝන් බැප්ටිස්ට් ලොරික් ය. (2) වාල්ස් ඩාවින් ය.
 - (3) කැරොලස් ලීනියස් ය. (4) ඇල්ග්‍රඩ් වොලස් ය.
 - (5) ඇන්ටන් වෑන් ලීවුවෙන්හෝක් ය.
13. පහත දැක්වෙන කුමන ප්‍රකාශය 'පරිවර්තනය' ගැන සත්‍ය වේ ද?
- (1) I ප්‍රස්තුතයක පරිවර්තනය O ප්‍රස්තුතයකි.
 - (2) A ප්‍රස්තුතයක පරිවර්තනය A ප්‍රස්තුතයකි.
 - (3) O ප්‍රස්තුතයක පරිවර්තනය A ප්‍රස්තුතයකි.
 - (4) I ප්‍රස්තුතයක පරිවර්තනය I ප්‍රස්තුතයකි.
 - (5) E ප්‍රස්තුතයක පරිවර්තනය A ප්‍රස්තුතයකි.
14. ගණනයෙන් කෙරෙන පූර්ණ උද්ගමනයක දී ඉදින් අවයව සත්‍ය නම් එවිට නිගමනය
- (1) සත්‍ය වේ. (2) සම්භාවී ය. (3) නිෂ්ප්‍රමාණ ය.
 - (4) අවිනිශ්චිත ය. (5) සත්‍යවීමට භව්‍යතාවක් ඇත.

[තුන්වැනි පිටුව බලන්න.

Agaram.LK - Keep your dreams alive!

Agaram.LK - Keep your dreams alive!

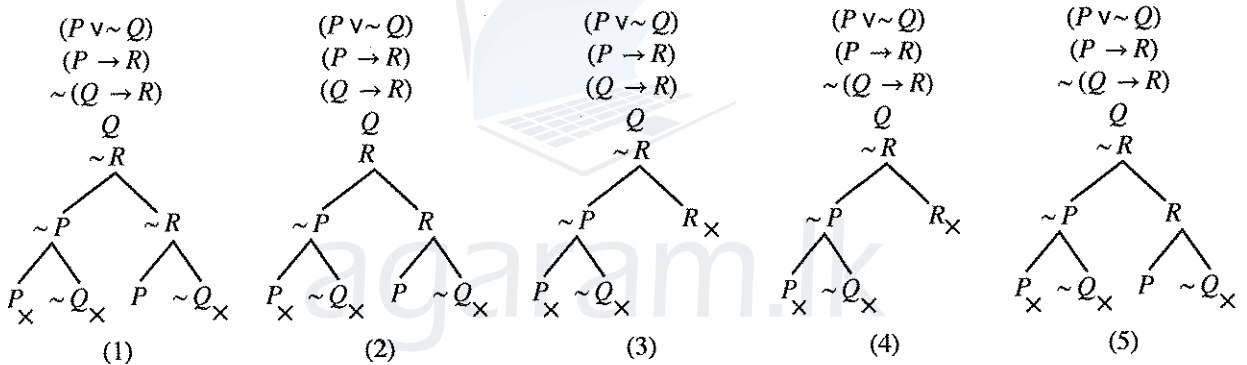
15. 'ඉදින් වැස්සෙන් මහවැලිය පිටාර ගලයි යන්න අසත්‍ය ය' සහ 'වැසි වසී සහ මහවැලිය පිටාර ගලන්නේ නැත' යන වාක්‍ය
- (1) විසංවාදී ය.
 - (2) තාර්කික වශයෙන් සම්බන්ධයක් නැත.
 - (3) තාර්කිකව සමාන ය.
 - (4) ප්‍රත්‍යනීක ය.
 - (5) සමාන වන්නේවත් ප්‍රත්‍යනීක වන්නේවත් නැත.

16. නැනෝමීටරය හා ආලෝක වර්ෂය යන මිනුම් ඒකක යෝග්‍ය ලෙස යොදාගත හැක්කේ පිළිවෙළින්,
- (1) බැක්ටීරියාවල විශාලත්වය හා ඩයිනසෝරයන්ගේ විශාලත්වය මැනීම සඳහා ය.
 - (2) ශ්‍රවණය වන ශබ්දයේ තරංග ආයාමය හා මෝටර් රථයක වේගය මැනීම සඳහා ය.
 - (3) පරමාණුක ප්‍රමාණ හා අන්තර් මන්දාකිණි දුර ප්‍රමාණ මැනීම සඳහා ය.
 - (4) ක්ෂුද්‍ර ජීවීන්ගේ විශාලත්වය හා ශබ්දයේ වේගය මැනීම සඳහා ය.
 - (5) පෘථිවිය තමන්ගේ අක්ෂය වටා භ්‍රමණය වීමේ වේගය හා පෘථිවිය සහ සෙනසුරු හිරු වටා කක්ෂයන්හි ගමන් කරද්දී එම ග්‍රහලෝක දෙක අතර ඇති දුර ප්‍රමාණ මැනීම සඳහා ය.

17. ඉදින් A, B ශුන්‍ය නොවන වර්ග නම් හා $A\bar{B} = \phi$ නම්, එවිට
- (1) $\bar{A}\bar{B} \neq \phi$ වේ. (2) $\bar{A}B \neq \phi$ වේ. (3) $\bar{A}\bar{B} = \phi$ වේ. (4) $AB \neq \phi$ වේ. (5) $AB = \phi$ වේ.

18. කොළ 52 ක් ඇති කාඩ් කුට්ටමකින් කොළ 3 බැගින් ඇති කාඩ් කුලක කීයක් බෙදිය හැකි ද?
- (1) 17850 (2) 20658 (3) 22100 (4) 126000 (5) 221225

19. $(P \vee \sim Q) \cdot (P \rightarrow R) \therefore (Q \rightarrow R)$ යන තර්කයේ නිවැරදි සත්‍යතා රූක පහත දැක්වෙන ඒවායින් කුමක් ද?



20. X යන පුද්ගලයාගේ නිවසට සතියකට සිනි 1 kg ක්, පොල් ගෙඩි 5 ක්, හාල් 5 kg ක්, පරිප්පු 2 kg ක් සහ කිරි 3 l (ලීටර) ක් අවශ්‍ය ය. අනුක්‍රමික සති දෙකක මෙම ද්‍රව්‍යවල මිල ගණන් පහත දැක්වේ.

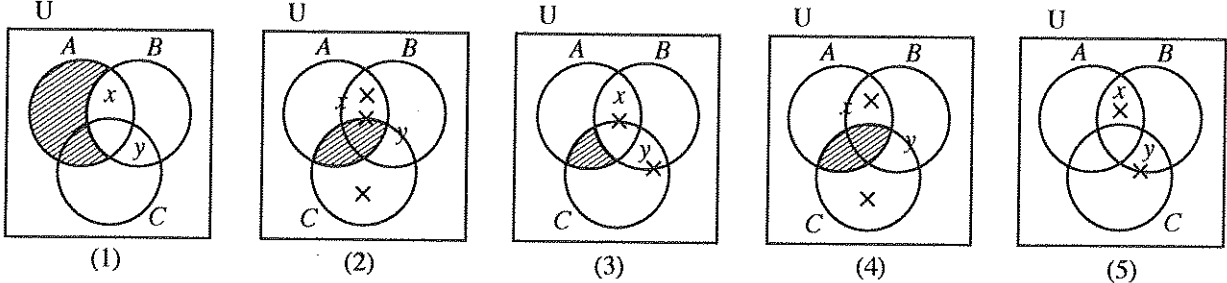
	1 වන සතියේ මිල (රු.)	2 වන සතියේ මිල (රු.)
සිනි 1 kg	100	110
පොල් ගෙඩි 1	50	45
හාල් 1 kg	90	100
පරිප්පු 1 kg	150	160
කිරි 1 l	200	220

- ජීවන වියදම් සුවකය ගණනයේ දී සලකා බලනු ලබන්නේ ඉහත දී ඇති සාධක පමණක් නම්, දෙවන සතියේ ජීවන වියදම් සුවකය වෙනස් වී ඇති අනුපාතය ආසන්න දශම ස්ථාන දෙකකට ගණනය කළ විට ලැබෙන අගය
- (1) 0.95 කි. (2) 1.07 කි. (3) 1.10 කි. (4) 1.16 කි. (5) 1.19 කි.

21. 'මිනිසුන් කිහිප දෙනෙක් දුම් නොබොන්නන් වී ය' යන වාක්‍යයෙහි
- (1) වාච්‍යය ව්‍යාජ්‍ය ය.
 - (2) කිසිම පදයක් ව්‍යාජ්‍ය වී නැත.
 - (3) වාචකය පමණක් ව්‍යාජ්‍ය ය.
 - (4) වාච්‍යය හා වාචකය යන දෙකම ව්‍යාජ්‍ය ය.
 - (5) පදවල ව්‍යාජ්‍යතාව නිගමනය කළ නොහැක.

22. තම සමාජය එදා මුහුණ දුන් ජීවිතය හා ජීවනෝපායයන් පිළිබඳ ගැටලුවලට විසඳුම් සැපයීම සඳහා නිර්මාණශීලී, මග පෙන්වන සුළු, කල් පවතින ක්‍රම උපයෝගී කරගත් විශිෂ්ට විද්‍යාඥයා කවරෙක් ද?
- (1) අයිසෙක් නිව්ටන් (2) චාල්ස් ඩාවින්
 (3) ඇලෙක්සැන්ඩර් ෆ්ලෙමින් (4) ජේ.සී. බෝස්
 (5) ලුවී පාස්චර්

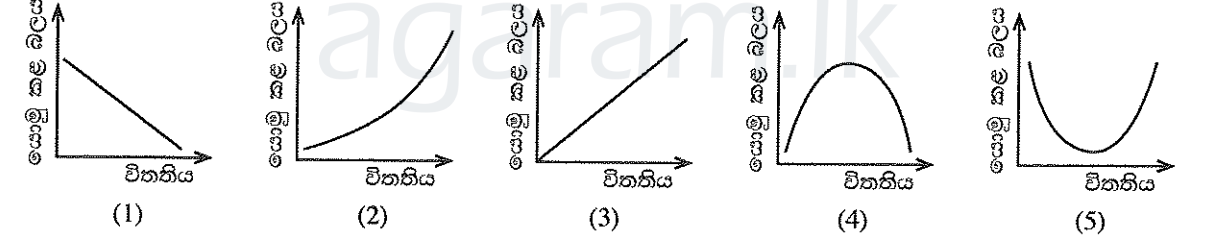
23. ඉදින් A, B, C වර්ග නම් හා x, y වර්ග සාමාජිකයින් නම් $AB \neq \phi, AC = \phi, \bar{B}C \neq \phi, x \in A$ සහ $y \in B$, එවිට ඉහත කරුණු නියෝජනය වන වෙන්රූප සටහන කුමක් ද?



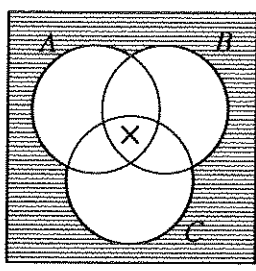
24. භාෂාව ජනවර්ගයක ලෝක දැක්ම සඳහා බලපාන්නේය යන බී.එල්. වෝග්ගේ අදහසෙහි බලපෑමට ලක් වූ විද්‍යාවේ විධික්‍රමවේදීන් වන්නේ,
- (1) උද්ගමනවාදීන් ය. (2) අනුභූතිවාදීන් ය. (3) නිගාමිවාදීන් ය.
 (4) සාපේක්ෂකවාදීන් ය. (5) යථානුභූතවාදීන් ය.

25. පහත දැක්වෙන කුමන ලක්ෂණ ගොනුව, "සියලු පක්ෂිතානුවෝ උර්දු කථා කරති. සියලු සිංහලයෝ උර්දු කථා නොකරති. එහෙයින්, කිසිම සිංහලයෙක් පක්ෂිතානුවෙක් නොවේ" යන සංවාක්‍යයට ගැලපේ ද?
- (1) ප්‍රකාරය 1, AAE, සප්‍රමාණය (2) ප්‍රකාරය 2, AEE, සප්‍රමාණය
 (3) ප්‍රකාරය 3, AOE, නිෂ්ප්‍රමාණය (4) ප්‍රකාරය 4, AOE, සප්‍රමාණය
 (5) ප්‍රකාරය 2, AOE, නිෂ්ප්‍රමාණය

26. හුක්ගේ නියමයට අනුව දුන්නක හෝ කම්බියක විතතිය (යම් සීමාවක් තුළ) ඊට යොමුකළ බලයට සෘජුව අනුපාත වෙයි. යොමුකළ බලවේගයන් හා විතතිය ගලපා ප්‍රස්තාරය ලකුණු කළ විට පහත දැක්වෙන කුමන ස්වරූපයකට දිස්වේ ද?



27. රූපයේ දක්වා ඇති A, B, C යන වර්ග
- (1) සමහරක් ශුන්‍ය ය.
 (2) එකක්වත් ශුන්‍ය නැත.
 (3) එකතුව කථා විශ්වය නිරවශේෂ නොකරයි.
 (4) ශුන්‍යද නැද්ද යන්න නිගමනය කළ නොහැක.
 (5) සියල්ල ශුන්‍ය ය.



28. ගැලීලියෝගේ නියමය ආනුභූතික සාමාන්‍යකරණයක් වන අතර නිව්ටන්ගේ ගුරුත්වාකර්ෂණ නියමය න්‍යායාත්මක සාමාන්‍යකරණයක් වන්නේ,
- (1) නිව්ටන්ගේ නියමය ගැලීලියෝගේ නියමයට වඩා නිරවද්‍ය වන නිසා ය.
 (2) නිව්ටන්ගේ නියමය ගැලීලියෝගේ නියමයට වඩා පුළුල් නිසා ය.
 (3) ගැලීලියෝගේ නියමය නිව්ටන්ගේ නියමයට වඩා සරල නිසා ය.
 (4) නිව්ටන්ගේ නියමයෙහි සෘජුව ආනුභූතික නොවන සංකල්ප ඇති අතර ගැලීලියෝ නියමයෙහි එසේ නොමැති නිසා ය.
 (5) නිව්ටන්ගේ නියමය ගැලීලියෝගේ නියමයෙන් ඔබ්බට යන නිසා ය.

[පස්වැනි පිටුව බලන්න.

Agaram.LK - Keep your dreams alive!

Agaram.LK - Keep your dreams alive!

29. $(P \vee \sim P)$ යන ප්‍රමේය සාධනය කිරීම සඳහා පහත දැක්වෙන කුමන අනුමිති රීතියක් උපයෝගී කරගනු ලැබේ ද?
- (1) ද්විත්ව නිෂේධනය (2) ආකලනය (3) ආබද්ධය
(4) අස්ති ප්‍රකාරය (5) නාස්ති ප්‍රකාරය
30. ඕගස්ත් කොමිත් දුටු අන්දමට මානව ඥානයේ පරිණාමයෙහි අවස්ථා තුන මොනවා ද?
- (1) වාදය - ප්‍රතිවාදය - සංස්ලේෂිතවාදය
(2) සෞන්දර්යාත්මක - සදාචාරාත්මක - ආගමික
(3) දේව ධාර්මික - පාරභෞතික - යථානුභූතී
(4) මුඛ - අපාන - ජනනෙන්ද්‍රී
(5) ඉන්ද්‍රිය - බුද්ධිය - වැටහීම
31. පහත දැක්වෙන ආභාස අතුරෙන් අර්ථාන්තරා ආභාසයක් ලෙස හොඟනෙන්නේ කවරක් ද?
- (1) දෛත්‍යමූල ආභාසය (2) තර්ජනාත්මක ආභාසය
(3) අඥානමූල ආභාසය (4) සාධාසම ආභාසය
(5) ආපේත ප්‍රමාණ ආභාසය
32. ස්වභාවික විද්‍යාවන්හි සිදු කෙරෙන පර්යේෂණ හා සැසඳීමේදී, සමාජීය විද්‍යාවන්හි කෙරෙන පර්යේෂණවල සීමිතකමක් ලෙස දැනෙන්නේ, පහත සඳහන් කුමන කාර්යයක් ඒවායේ සාමාන්‍යයෙන් සිදු නොවන හෙයින් ද?
- (1) ආනුභූතික පර්යේෂණ (2) විද්‍යාත්මක පර්යේෂණ
(3) සම්පරීක්ෂණමය පර්යේෂණ (4) න්‍යායාත්මක පර්යේෂණ
(5) වාස්තවික පර්යේෂණ
33. "උපාධිධරයන් පමණක් ලෝගුව අදිසි" යන වාක්‍යය, $F: a$ උපාධිධරයෙකි, $G: a$ ලෝගුව අදී යන සංකේතපණ රටාව යොදා සංකේතවත් කළ හැකි ආකාරය කුමක් ද?
- (1) $\forall x (Fx \wedge Gx)$ (2) $\Lambda x (Gx \rightarrow Fx)$ (3) $\Lambda x (Fx \rightarrow Ga)$
(4) $\Lambda x (Fx \rightarrow Gx)$ (5) $\Lambda x (\sim Gx \rightarrow \sim Fx)$
34. විද්‍යාත්මක සාමාන්‍යකරණයක පහත දැක්වෙන කුමන ලක්ෂණයක් පිළිබඳව නිගාමී විධික්‍රමයක් විසින් ක්‍රියාමාර්ගයක් ඉදිරිපත් කෙරේ ද?
- (1) සොයාගැනීම (2) පරීක්ෂා කිරීම
(3) සන්‍යෝජන කිරීම (4) අසත්‍යකරණය කිරීම
(5) විශ්ලේෂණය කිරීම
35. $(P \leftrightarrow Q)$ යන සංකේතමය වාක්‍යයට තාර්කිකව සමාන වන්නේ කුමක් ද?
- (1) $(P \rightarrow Q) \wedge (\sim Q \rightarrow P)$ (2) $(P \vee Q) \wedge (Q \rightarrow P)$
(3) $(P \wedge Q) \rightarrow (\sim P \wedge \sim Q)$ (4) $(P \rightarrow Q) \wedge (Q \rightarrow \sim P)$
(5) $(P \wedge Q) \vee (\sim P \wedge \sim Q)$
36. තෝමස් කුන් ඉදිරිපත් කළ ඕනෑම විද්‍යාවක සිදුවීම් සන්තතිය පිළිවෙලින් දැක්වෙන වරණය වන්නේ කුමක් ද?
- (1) විද්‍යා-පූර්ව අවස්ථාව, අර්බුදය, පදනම්වාදය, අනියමයන්, සාමාන්‍ය විද්‍යාව, විප්ලවය
(2) විප්ලවය, අර්බුදය, සාමාන්‍ය විද්‍යාව, අනියමයන්, පදනම්වාදය, විද්‍යා-පූර්ව අවස්ථාව
(3) විද්‍යා-පූර්ව අවස්ථාව, විප්ලවය, සාමාන්‍ය විද්‍යාව, අර්බුදය, අනියමයන්, පදනම්වාදය
(4) පදනම්වාදය, විද්‍යා-පූර්ව අවස්ථාව, සාමාන්‍ය විද්‍යාව, විප්ලවය, අර්බුදය, අනියමයන්
(5) විද්‍යා-පූර්ව අවස්ථාව, පදනම්වාදය, සාමාන්‍ය විද්‍යාව, අනියමයන්, අර්බුදය, විප්ලවය
37. (a) 2, 3, 3, 4, 4, 5, 5, 4, 6, 6, 7, 5, 5, 8, 5
(b) 3, 5, 7, 9, 1, 11, 18, 22
(c) 2, 3, 3, 4, 3, 6, 7, 8, 8, 9, 3
- ඉහත දත්ත පේළි තුනෙහි මාත මොනවා ද?
- (1) (a) 5 (b) නැත (c) 3
(2) (a) 4 සහ 5 (b) 8 (c) 3 සහ 8
(3) (a) 4 සහ 5 (b) නැත (c) 5
(4) (a) 5 (b) නැත (c) 3 සහ 8
(5) (a) 5 (b) 5 (c) 8

Agaram.LK - Keep your dreams alive!

Agaram.LK - Keep your dreams alive!

44. අ.පො.ස. (උ.පෙළ) විභාගයේ තර්ක ශාස්ත්‍රය හා විද්‍යාත්මක ක්‍රමය ප්‍රශ්න පත්‍රයට පිළිතුරු සැපයූ එක් අපේක්ෂකයෙක් $Vx Fx \therefore \Lambda x Fx$ යන තර්කය සපුරාණ බව දැක්වීමට පහත දැක්වෙන ව්‍යුත්පන්නය මගින් උත්සාහ කළේ ය.

1. දැක්වූණ $\Lambda x Fx$
2. $Vx Fx$ අවයවය
3. Fy 2, අ.අ.
4. දැක්වූණ $\Lambda y Fy$
5. Fy 3, පුනර්
6. Fx 4, ස.අ.

මෙහි දී අපේක්ෂකයා මුල් ම වැරදි පියවර අනුගමනය කර ඇත්තේ කීවන පේළියේ දී ද?
 (1) 2 (2) 3 (3) 4 (4) 5 (5) 6

45. නවීන තාර්කික විශ්ලේෂණයේ දී “සියලු කපුටන් කළු පාට ය.” යන වාක්‍යය අර්ථකථනය කරනු ලබන්නේ පහත දැක්වෙන කුමන ප්‍රස්තුතයක් ලෙස ද?
 (1) සරල ප්‍රස්තුතයක් (2) සෝපාධික ප්‍රස්තුතයක්
 (3) විශේෂක ප්‍රස්තුතයක් (4) සන්භාවය දෙන ප්‍රස්තුතයක්
 (5) සංයුක්ත ප්‍රස්තුතයක්

46. විද්‍යාවේ විධි ක්‍රමවේදයෙහි සාපේක්ෂතාවාදී වින්තකයින් දායක වන්නේ කවර මතයකට ද?
 (1) විද්‍යාත්මක ඥාන වර්ධනය ඒකජ වර්ධනයක් සහිත ය.
 (2) විද්‍යාවේ අනුයාතවාද සංස්ථිතික ය.
 (3) නිරීක්ෂණ භාෂාවේ වාදහරිත බව ය.
 (4) වාද අනුප්‍රාප්තියක් සිදු වූ විට පූර්ව පදනම්වාදය අනුප්‍රාප්ත පදනම්වාදයට උන්නතය කළ හැකි ය.
 (5) අනුයාතවාද අතර නිර්ණය පරීක්ෂණ පැවැත්විය හැකි බව ය.

47. පහත දැක්වෙන ඒවායින් ප්‍රමේයයක් වන්නේ කුමක් ද?
 (1) $((P \vee Q) \rightarrow P)$ (2) $(P \rightarrow (P \wedge Q))$
 (3) $(Vx Fx \rightarrow \Lambda x Fx)$ (4) $(\Lambda x (Fx \rightarrow Gx) \rightarrow (Vx Fx \rightarrow Vx Gx))$
 (5) $(P \vee Q) \leftrightarrow (P \leftrightarrow Q)$

48. ‘ශ්‍රී ලංකාවේ සාමය ඇතිවේවා’ යන වාක්‍යය
 (1) මේ අවස්ථාවේ ශ්‍රී ලංකාවේ සාමය පවතින හෙයින් සත්‍ය වේ.
 (2) මේ අවස්ථාවේ ශ්‍රී ලංකාවේ සාමය නොපවතින හෙයින් අසත්‍ය වේ.
 (3) අඩ සත්‍යයකි.
 (4) සත්‍ය හෝ අසත්‍ය නොවේ.
 (5) සදාකාලික සත්‍යයකි, මක්නිසාද යත් අපට කිසිවිටෙකත් සාමය පිළිබඳ ප්‍රාර්ථනාව අතහැරිය නොහැකි නිසා ය.

49. “මෝඩයෙකු හැර කිසිවෙක් සියදිවි නසාගන්නේ නැත.” යන්න ඔබට දී ඇත්නම් හා සෝමපාල නම් එක්තරා පුද්ගලයකු දිවි නසාගත් බව ඔබ දන්නේ නම්, පහත දැක්වෙන කුමන නිගමනයට ඔබට පැමිණිය හැකි ද?
 (1) සියලුදෙනා මෝඩයින් ය.
 (2) එක්කෝ ඔබ මෝඩයෙකු නොවේ නැත්නම් ඔබ සියදිවි නසා ගනී.
 (3) මෝඩයින් ඇත.
 (4) කෙනෙකු මෝඩවීමත් ඔහු දිවි නසා ගැනීමත් එකිනෙකට සමාන තත්වයන් ය.
 (5) සිය දිවි නසා නොගන්නා මෝඩයින් නැත.

50. විද්‍යාත්මක විප්ලව අවධියෙහි යුරෝපයේ වර්ධනය වෙමින් තිබුණු ඇතැම් ශිල්පීය තාක්ෂණයන් පිළිබඳ මුල් දැනුම වෙළඳ මාර්ගයන් හරහා කුමන රටකින් යුරෝපයට සංක්‍රමණය වූ බවට පිළිගත හැකි ද?
 (1) ඇමෙරිකා එක්සත් ජනපදය (2) ජපානය (3) රුසියාව
 (4) චීනය (5) පර්සියාව

Agaram.LK - Keep your dreams alive!

Agaram.LK - Keep your dreams alive!



agaram.lk

3. (අ) විද්‍යාත්මක ප්‍රකාශන විද්‍යාත්මක නොවන ප්‍රකාශන වලින් වෙන් කර ගැනීමට පොපර් ඉදිරිපත් කළ රීතිය දක්වා, ප්‍රකාශනයක් විද්‍යාත්මක වීම සඳහා එම ප්‍රකාශනය සපුරාලිය යුතු කරුණු පැහැදිලි කරන්න. (ඉකුණු 04 හි)
- (ආ) "සමාජ විද්‍යාවන් පොපේරියානු අර්ථයෙන් අසත්‍යකරණය කළ නොහැක": සමාජ විද්‍යාත්මක පර්යේෂණයෙහි පැන නගින අර්ථය, අනාවැකි කීම, පරීක්ෂණ පැවැත්වීම ආදී ගැටලු ගැන සලකමින් ඉහත ප්‍රකාශය සාකච්ඡා කරන්න. (ඉකුණු 06 හි)
4. (අ) විද්‍යාත්මක පර්යේෂණයෙහිලා උපකරණවල භූමිකාව සැකෙවින් ඉදිරිපත් කරන්න. (ඉකුණු 04 හි)
- (ආ) ශුද්ධ විද්‍යාව හා ව්‍යවහාරික විද්‍යාව අතර ප්‍රභේදය සාකච්ඡා කරන්න. ශ්‍රී ලංකාව වැනි රටවල සියදිවි නසා ගැනීම වැනි සමාජ ගැටලු ගැන කෙරෙන ආනුභවික ගවේෂණයක් ශුද්ධ විද්‍යාත්මක මෙන්ම ව්‍යවහාරික විද්‍යාත්මක ලෙස සැලකිය හැකි ද? (ඉකුණු 06 හි)
5. (අ) ඔබේ සංක්ෂේපණ රටාව ලියා දක්වමින් පහත දැක්වෙන තර්කය සංකේතයට නගා එහි සපුරාණතාවය/නිෂ්ප්‍රමාණතාවය සත්‍යතා රුක් ක්‍රමය මගින් විමසන්න.
ඉදින් ෂර්ලොක් හෝමීස් වැඩිපුර නින්දට වැටුණේ නම් හෝ වොට්සන් අවිනිශ්චිත තීරණයක වී නම් එවිට අපරාධකරු දකුණු ඇමෙරිකාවට බේරී යයි. අපරාධකරු දකුණු ඇමෙරිකාවට බේරී ගියේ නැත. එහෙයින් ෂර්ලොක් හෝමීස් වැඩිපුර නින්දට වැටුණේ නැත. (ඉකුණු 04 හි)
- (ආ) (i) $((P \rightarrow Q) \leftrightarrow P)$
(ii) $((P \rightarrow \sim Q) \rightarrow (\sim P \rightarrow R))$
යන ප්‍රකාශන සඳහා තර්ක ද්වාර අදින්න. (ඉකුණු 06 හි)

II කොටස

6. (අ) "විද්‍යාත්මක පර්යේෂණයන්හි වැදගත් භූමිකාවක් ආකෘතින්ගෙන් සිදු කෙරේ." තහවුරු කරන්න. (ඉකුණු 06 හි)
- (ආ) "විද්‍යා ක්‍රීඩාව ආනුභවික ගවේෂණය හා න්‍යායාත්මක කාර්යය අතර අන්‍යෝන්‍ය ක්‍රියාදාමයකි." අදහස් දක්වන්න. (ඉකුණු 05 හි)
- (ඉ) "නිරපේක්ෂකව අර්ථකථනයෙන් තොර දත්ත හා නිරපේක්ෂකව ප්‍රාග් විනිශ්චයෙන් තොර විද්‍යාඥයින් මායාවන් ය. ඇතිවිය හැක්කේ සාපේක්ෂකව අර්ථකථනයෙන් තොර දත්ත හා සාපේක්ෂව ප්‍රාග් විනිශ්චයෙන් තොර විද්‍යාඥයින් ය" යන ප්‍රකාශයට ඔබ එකඟ වන්නේ ද? (ඉකුණු 04 හි)
7. (අ) සම්භාවිතාවය පිළිබඳ සාම්ප්‍රදායික නිර්වචනය කුමක් ද? දායු කැට දෙකක් උඩ දැමූ විට ඒ දෙකෙහි ම තුනෙහි ඉලක්කම උඩු අතට හැරී වැටීමේ සම්භාවිතාව කුමක් ද? (ඉකුණු 03 හි)
- (ආ) සම්මත අපගමනය හා විචලතාව පිළිබඳ සංකල්ප පැහැදිලි කරන්න.
මධ්‍යන්‍ය අපගමනයට වඩා සම්මත අපගමනයට ඇති වාසිය කුමක් ද?
4, 5, 6, 8, 9 යන ප්‍රමාණවල සම්මත අපගමනය හා මධ්‍යන්‍ය අපගමනය ගණනය කර, එමගින් ඉහත වාසිය පෙන්වා දෙන්න. (ඉකුණු 06 හි)
- (ඉ) පර්යේෂණයට නියැදි අවශ්‍ය වන්නේ ඇයි?
මහවැලි කලාපයේ ජනපදයක ආර්ථික තත්වයන් පිළිබඳව කරන සමීක්ෂණයක දී සම්මුඛ සාකච්ඡා සඳහා පවුල් 500 ක ජනගහණයකින් පවුල් 50 ක් තෝරා ගැනීමට අවශ්‍ය ය. එම පවුල්වල ගෘහමුලික ලැයිස්තුවක් ද, නම් 1400 කින් සමන්විත ඡන්දදායක ලැයිස්තුවක් ද ටෙලිපෝන් ඇති නිවාසවල දුරකතන 200 ක හිමිකරුවන්ගේ දුරකතන නාමාවලිය ද ඔබට සපයා ඇත. 50 කින් සැදි අහඹු නියැදියක් තෝරා ගැනීමේ දී ඉහත එක් එක් ලැයිස්තුවක් උපයෝගී කරගැනීමෙන් ඇති වන අවදානම් සාකච්ඡා කර ඔබ කුමන තේරීමක් හා ක්‍රියාමාර්ගයක් අනුගමනය කරන්නේදැයි සඳහන් කරන්න. (ඉකුණු 06 හි)

Agaram.LK - Keep your dreams alive!

Agaram.LK - Keep your dreams alive!

8. (අ) ඔබේ සංක්ෂේපණ රටාවන් ලියා දක්වමින් පහත දැක්වෙන තර්ක වර්ග යොදාගනිමින් සංකේතවත් කර ඒවායේ සපුරාණතාවය වෙන්රූප සටහන් ඇසුරෙන් නිගමනය කරන්න.
- (i) කිසිම වාහනයක් ලියාපදිංචි නොකර නැත.
කිසිම විවාහයක් ලියාපදිංචි නොකර නැත.
එහෙයින් සමහර විවාහ වාහන ය.
- (ii) සියලු ළමුන් ආදරයට පාත්‍රවන අය ය.
සමහර ළමුන් දඟකාර ය.
එහෙයින් සමහර දඟකාර අය ආදරයට පාත්‍රවන අය ය. (ලකුණු 06 හි)
- (ආ) ඔබේ සංක්ෂේපණ රටාව ලියා දක්වමින් පහත දැක්වෙන තර්කය සංකේතයට නගා එය සපුරාණ බව ව්‍යුත්පන්න ක්‍රමයෙන් පෙන්වා දෙන්න.
සියලු මිනිස්සු උන්නතිකාමියෝ ය. සමහර මිනිස්සු ව්‍යාපාරිකයෝ ය. එහෙයින් සමහර උන්නතිකාමීන් වන අය ව්‍යාපාරිකයන් ය. (ලකුණු 05 හි)
- (ඉ) ඔබේ සංක්ෂේපණ රටා දක්වමින් පහත දැක්වෙන වාක්‍ය සංකේතවත් කරන්න.
- (i) මන්ත්‍රීවරයා පාර්ලිමේන්තුවට පැමිණියේත් නැත ඔහු ඡන්දය දුන්නේ ද නැත යන්න අසත්‍ය ප්‍රකාශනයකි.
- (ii) A හා B යන දෙදෙනාගෙන් එක් අයකු පමණක් ඡන්දය දීනයි. (ලකුණු 04 හි)
9. (අ) පහත දැක්වෙන ප්‍රමේයයන් සාධනය කරන්න.
- (i) $(P \rightarrow (Q \wedge R)) \rightarrow ((P \wedge Q) \leftrightarrow (P \wedge R))$
- (ii) $(\sim \forall x Fx \leftrightarrow \exists x \sim Fx)$
- (iii) $\forall x Fx \leftrightarrow \forall y Fy$ (ලකුණු 09 හි)
- (ආ) පහත ඒවා ගැන සටහන් ලියන්න.
- (i) උභතෝකෝටික (ලකුණු 06 හි)
- (ii) ව්‍යවහාර භාෂාව හා තර්ක ශාස්ත්‍රයෙහි සංකේතමය භාෂාව භාවිතය
10. පහත දැක්වෙන භූතක් ගැන සටහන් ලියන්න.
- (i) ලකටෝස්ගේ විද්‍යාත්මක පර්යේෂණ වැඩසටහන් විධි ක්‍රමවේදය
- (ii) තාක්ෂණය හා පෘථිවිය මත අනාගත ජීවින් - අප යන්නේ කොහි ද?
- (iii) වෘත්තීන් සඳහා ආචාරධර්ම පද්ධති හා ඒවා ක්‍රියාත්මක කිරීම (05 x 3 = ලකුණු 15 හි)



agaram.lk