



NALANDA VIDYALAYA
නාලන්දා විද්‍යාලය - කොළඹ 10
 NALANDA VIDYALAYA
 දෙවන වාරය - ඒකක පරීක්ෂණ ව්‍යාපෘතිය

6 ශ්‍රේණිය

ගණිතය

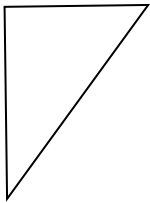
ඒකකය: 12 - සරල රේඛීය තල රූප

• ප්‍රශ්න සියල්ලටම පිළිතුරු ලියන්න.


(1) සරල රේඛා බණ්ඩයක් අඳින්න.

(2) වක්‍ර රේඛා බණ්ඩයක් අඳින්න.

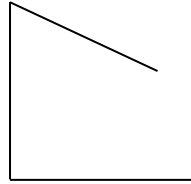
(3) සංවෘත තල රූප යටින් ඉරක් අඳින්න.




i)



ii)



iii)



iv)

(4) සරල රේඛීය තල රූප යටින් ඉරක් අඳින්න.



i)



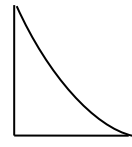
ii)



iii)



iv)



v)

(5) සරල රේඛීය තල රූපයක අංග මොනවාද?

i) චතුරස්‍ර වර්ග කීය ද?


ii) ඒ මොනවාද?

iii) ඒ එක එකෙහි ලක්ෂණ මොනවා ද?

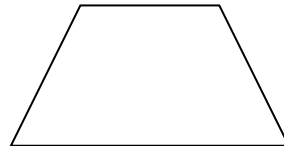
(7) පහත දී ඇති චතුරස්‍ර හඳුන්වන නම් ලියන්න.



.....



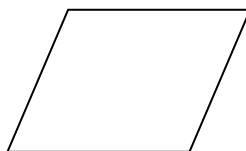
.....



.....



.....



.....

සැකසුම : නයනා අසෝකා මිය

Agaram.LK - Keep your dreams alive!

Agaram.LK - Keep your dreams alive!