



NALANDA V **නාලන්දා විද්‍යාලය - කොළඹ 10** NA VIDYALAYA  
NALANDA VIDYALAYA **ඒකක පරීක්ෂණ ව්‍යාපෘතිය** NALANDA VIDYALAYA

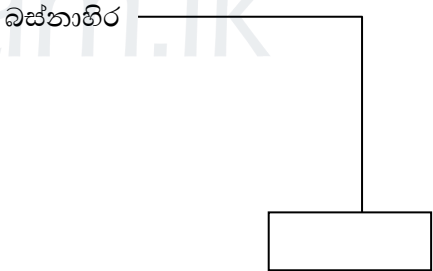
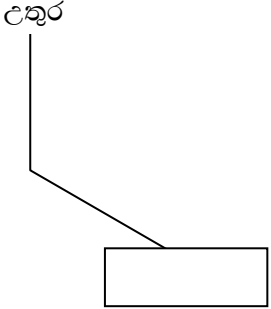
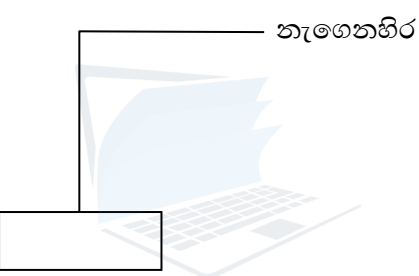
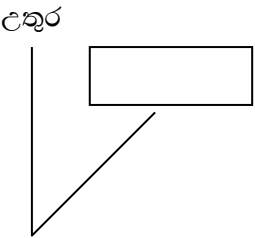
6 ශ්‍රේණිය

ගණිතය

ඒකකය : 8 - දිශා

- ප්‍රශ්න සියල්ලටම පිළිතුරු සපයන්න.

- 1\* ප්‍රධාන දිශා කීයද?
- 2\* එම දිශා සටහනකින් පෙන්වා දෙන්න.
- 3\* උතුරු දිශාවේ සිට දක්ෂිණාවර්තව සෘජු කෝණයක් දක්වන දිශාව දිශා සටහනක් ඇසුරින් පෙන්වා දෙන්න.
- 4\* පහත සඳහන් දිශා සහිත රූප සටහන් ඇඳ හිස්තැනට ගැලපෙන දිශාව හෝ අනු දිශාව ලියන්න.



- 5\* උතුරු දිශාවේ සිට දක්ෂිණාවර්තව පරාවර්ත කෝණයක් සාදන දිශාවන් කිහිපයක් තිබේ. ඒ මොනවා ද? ඒවා සඳහා දළ සටහන් අඳින්න.

- තිරස් තල - සමතලා හා එක් පැත්තකට බැවුම් නොවන පරිදි වූ තලයකි.

Agaram.LK - Keep your dreams alive!


Agaram.LK - Keep your dreams alive!

6\* පාසලක දක්නට ලැබෙන තිරස් තල සඳහා උදාහරණ 3 ක් ලියන්න.

- සිරස් තල - තිරස් තලයකට ලම්බ වන පරිදි සකස් කෙරෙන තලයකි.

7\* පාසලක දක්නට ලැබෙන සිරස් තල සඳහා උදාහරණ 3 ක් ලියන්න.

- 8\* දිශාව බලා ගත හැකි උපකරණය කුමක් ද?
- 9\* තලයක තිරස් ඔබ මනින උපකරණය කුමක්ද?
- 10\* තලයක සිරස් බව මනින උපකරණය කුමක්ද?



agaram.lk සැකසුම : නයනා අසෝකා මිය