



Royal College - Colombo 07

රාජකීය විද්‍යාලය - කොළඹ 07

Grade 7 – Second Term Test – July 2019

දෙවන වාර පරීක්ෂණය - 2019 ජූලි - 7 ශ්‍රේණිය

කාලය : පැය 2
Time : 2 hours

GEOGRAPHY - I

භූගෝල විද්‍යාව - I

--	--	--

Name :- Grade : -..... Index number:-.....

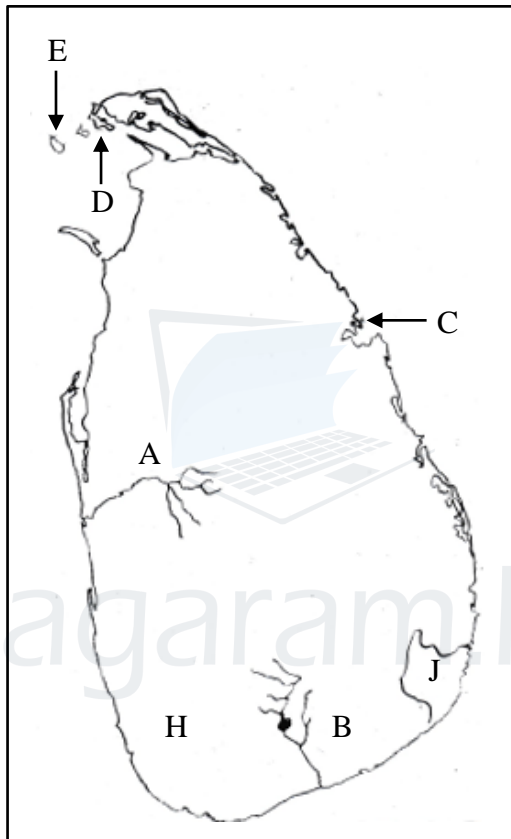
❖ ප්‍රශ්න සියල්ලටම පිළිතුරු සපයන්න.

(ලකුණු 2 × 20 = 40 යි.)

❖ අංක 01 - 05 දක්වා ප්‍රශ්නවලට අදාළ නිවැරදි පිළිතුර යටින් ඉරක් අඳින්න.

01. ආදර්ශ ලෝක ගෝලයෙහි කර්කටක නිවර්තනය පිහිටා ඇත්තේ සමකයට,
 - (i) උතුරු දිශාවෙහි.
 - (ii) දකුණු දිශාවෙහි.
 - (iii) නැගෙනහිර දිශාවෙහි.
 - (iv) බටහිර දිශාවෙහි.
02. ඉන්දියන් සාගරය තුළ පිහිටි දූපත් ඇතුළත් පිළිතුර,
 - (i) මාලදිවයින, ජපානය, මැඩගස්කරය
 - (ii) ශ්‍රී ලංකාව, නිකොබාර් දූපත්, අන්දමන් දූපත්
 - (iii) කියුබාව, මාලදිවයින, ශ්‍රී ලංකාව
 - (iv) නිකොබාර් දූපත්, මාලදිවයින, කියුබාව
03. කැළණි විහාරය, අවුකන පිළිමය හා නල්ලූර් කෝවිල යන ස්ථාන පිහිටා ඇති දිස්ත්‍රික්ක අනුපිළිවෙලින් දැක්වෙන පිළිතුර වන්නේ,
 - (i) කොළඹ, පොළොන්නරුව, යාපනය
 - (ii) කොළඹ, අනුරාධපුරය, යාපනය
 - (iii) කොළඹ, පොළොන්නරුව, ත්‍රිකුණාමලය
 - (iv) කොළඹ, අනුරාධපුරය, පොළොන්නරුව
04. "ශ්‍රී ලංකාව ආර්ථික වශයෙන් සංවර්ධනය වන රටක් වුව ද සමාජීය සංවර්ධනය අතින් ඉතා ඉහළ මට්ටමක පවතී." ඊට බලපා ඇති හේතු අතරින් ප්‍රධාන හේතුවකි.
 - (i) වැඩි ළදරු මරණ අනුපාතයක් පැවතීම.
 - (ii) මාතෘ මරණ විශාල ප්‍රමාණයක් සිදුවීම.
 - (iii) මිනිසුන් සෞඛ්‍යමත් ජීවිතයක් ගත කිරීමට පෙළඹීම.
 - (iv) වෛද්‍ය පහසුකම් ඉතා අඩු මට්ටමක පැවැතීම.

05. ■ වානිජ පදනමකින් එළවළු වගා කිරීම.
 ■ පළතුරු හා මල් වගා කිරීම.
 ■ කෘෂි ආශ්‍රිතව සත්ව පාලනය පැවතීම.
 ඉහත දැක්වූ ලක්ෂණ දැකිය හැක්කේ ලංකාවේ.
- (i) වියළි කලාපීය භූ දර්ශනය තුළය. (ii) කඳුකර භූ දර්ශනය තුළය.
 (iii) වෙරළ ආශ්‍රිත භූ දර්ශනය තුළය. (iv) යාපනය අර්ධද්වීපය ආශ්‍රිත භූ දර්ශනය තුළය.
- ❖ දී ඇති ආදර්ශ ශ්‍රී ලංකා සිතියම ඇසුරින් පහත ප්‍රශ්නවලට පිළිතුරු සපයන්න.



06. තෙත් කලාපය වියළි කලාපයෙන් වෙන් කරන A හා B අක්ෂර දෙකෙන් දැක්වෙන ගංගා දෙක වන්නේ,
- (i) දැඳුරු මය හා වළවේ ගඟ (ii) කලා මය හා කිරිඳි මය
 (iii) දැඳුරු මය හා කිරිඳි මය (iv) කැලණි හා වළවේ ගඟ
07. "C" අක්ෂරයෙන් දක්වා ඇති ස්ථානයේ පිහිටා ඇති ප්‍රසිද්ධ ආගමික සිද්ධස්ථානය වන්නේ,
- (i) මඩු දේවස්ථානය. (ii) ස්කන්ධ කුමාර දේවාලය
 (iii) කෝනේෂ්වරම් කෝවිල (iv) සෝමාවතී විහාරය
08. කයට්ටි දූපත දක්වා ඇති අක්ෂරය,
- (i) E (ii) F
 (iii) D (iv) G

- 09. "H" අක්ෂරයෙන් දක්වා ඇති කලාපයෙහි දැකිය හැකි විශේෂ ලක්ෂණයකි,
 - (i) භූමි ප්‍රමාණය සීමිත බැවින් සිරස් අතට ඉදිවූ තට්ටු ගොඩනැගිලි දැකිය හැකි වීම.
 - (ii) වාරි ජලය පදනම් කරගෙන විශාල බිම් ප්‍රමාණයක වී වගා කිරීම.
 - (iii) තල ගස් බහුල වන අතර ඒ අශ්‍රිත නිෂ්පාදන දෛනික කටයුතු සඳහා යොදා ගනී.
 - (iv) සියලුම පහසුකම් සහිතව ඉඳි කරන ලද මහවැලි ජනාවාස දක්නට ලැබේ.

- 10. "J" අක්ෂරයෙන් දක්වා ඇති වනෝද්‍යානය වන්නේ,
 - (i) විල්පත්තුව
 - (ii) උඩවලව
 - (iii) වස්ගමුව
 - (iv) යාල

❖ අංක 11-15 දක්වා ප්‍රශ්නවලට අදාළ නිවැරදි පිළිතුර වරහන් තුළින් තෝරා ලියන්න.

(තෙත් කලාපය/අභ්‍යන්තර තැනිතලාව/ මධ්‍යමකඳුකරය/ භූතානය/ පාකිස්ථානය/ ශ්‍රී ලංකාව/ නැගෙනහිර/ බටහිර)

- 11. දකුණු ආසියාතික රටවල් අතරින් පහළම ආයු අපේක්ෂාවක් ඇති රට වන්නේ
- 12. හෙල්වැට් හා තැනිතලා ප්‍රදේශ බහුලව දැකිය හැක්කේ තැනිතලාවේ ය.
- 13. මැටි කැපීම සහ මැණික් ඉල්ලම් අසීමිත ලෙස හැරීම නිසා හායනයට ලක් වූ ප්‍රදේශ
- 14. සාක්ෂරතාව 92% මට්ටමක් ලබා ගනිමින් දකුණු ආසියාතික රටවල් අතරින් දෙවන ස්ථානය හිමි කරගෙන සිටියි.
- 15. නිලාවේලි හා පාසිකුඩා වෙරළවල් ලංකාවේ ප්‍රදේශය ආශ්‍රිතව පිහිටා ඇත.

❖ අංක 16-20 දක්වා දී ඇති ප්‍රකාශන නිවැරදි නම් (✓) ලකුණ ද වැරදි නම් (X) ලකුණ ද දී ඇති වරහන් තුළ යොදන්න.

- 16. මහාද්වීප අතරින් විශාලත්වය අනුව තෙවැනි ස්ථානය හිමිකරගෙන ඇත්තේ උතුරු ඇමෙරිකා මහාද්වීපය යි. ()
- 17. බෙංගාල බොක්ක ප්‍රදේශයේ හට ගන්නා වායු කැළඹීම නිසා වාසුළි ඇති වේ. ()
- 18. තද අරටු සහිත ගස් වලින් යුක්ත වනාන්තර තෙත් කලාපය තුළ බහුලව දක්නට ලැබේ. ()
- 19. බ්‍රසීලය පිහිටා ඇත්තේ දකුණු ඇමෙරිකා මහද්වීපයේය. ()
- 20. අනුරාධපුරයේ රන්මසු උයන ස්වාභාවික නිර්මිත ජාතික උරුමයකි. ()

Agaram.LK - Keep your dreams alive!

Agaram.LK - Keep your dreams alive!



Royal College - Colombo 07

රාජකීය විද්‍යාලය - කොළඹ 07

Grade 7 – Second Term Test – July 2019

දෙවන වාර පරීක්ෂණය - 2019 ජූලි - 7 ශ්‍රේණිය

කාලය : ෭:෫෨
Time : 2 hours

GEOGRAPHY - II

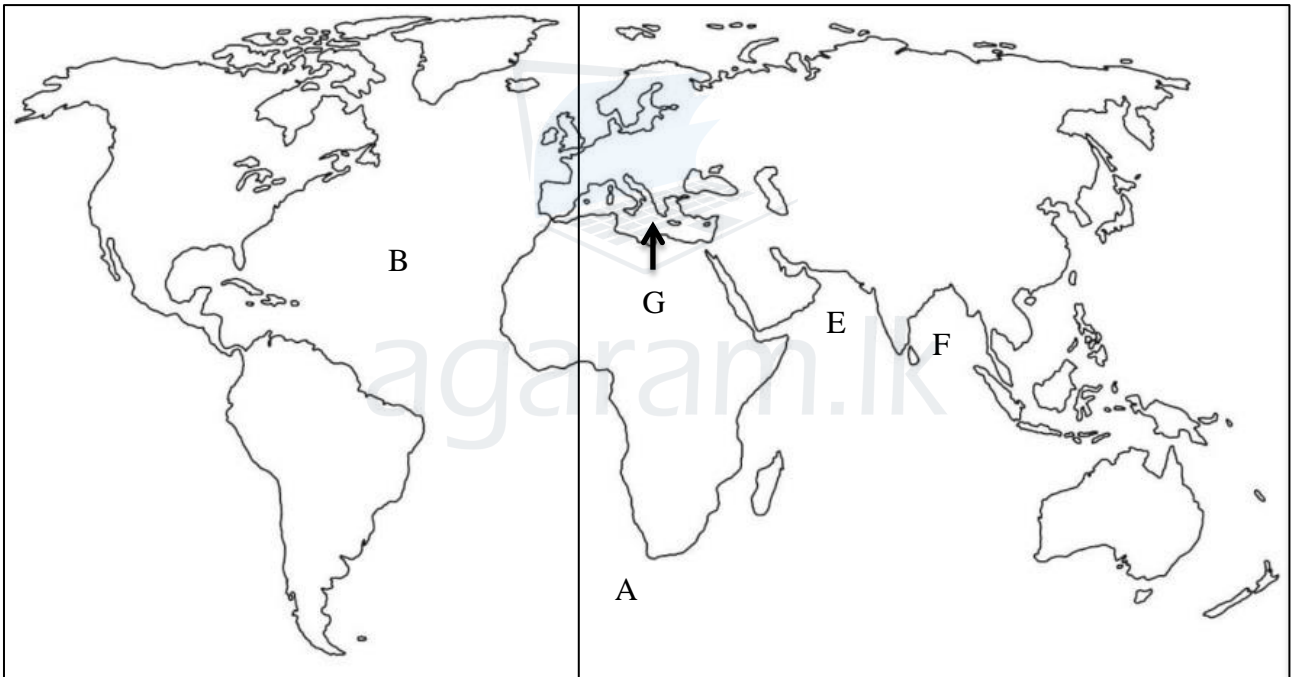
--	--	--

භූගෝල විද්‍යාව – II

Name :- Grade :- Index number:-.....

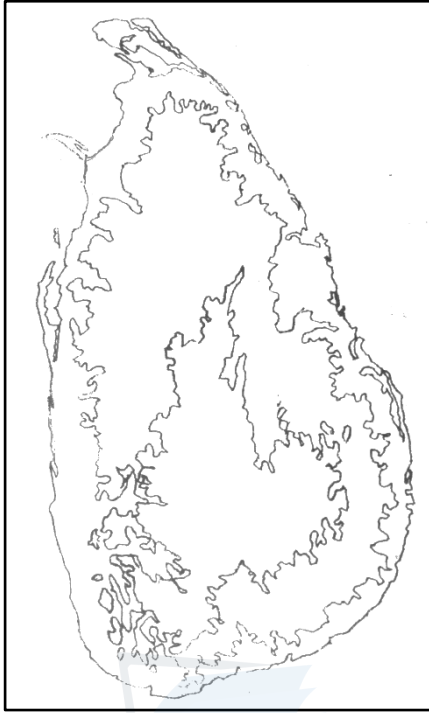
- ❖ පළමු ප්‍රශ්නය අනිවාර්ය වේ.
- ❖ පළමු ප්‍රශ්නය ඇතුළුව ප්‍රශ්න 05 කට පිළිතුරු සපයන්න.
- ❖ (ලකුණු 12 × 5 = 60 යි.)

01. (a) අංක (i) - (iv) දක්වා ප්‍රශ්නවලට පිළිතුරු සැපයීමට දී ඇති ආදර්ශ ලෝක සිතියම උපයෝගී කර ගන්න.



- (i) අප්‍රිකා මහාද්වීපය රතු පැහැයෙන් වර්ණ ගන්වන්න.
- (ii) A අක්ෂරයෙන් දක්වා ඇති දේශාංශ රේඛාවෙහි නම එම ස්ථානයේ ලියන්න.
- (iii) සාගරවල විශාලත්වය අනුව පෙළ ගැස්වූ විට B අක්ෂරයෙන් දක්වා ඇති සාගරයට හිමි වන්නේ කී වෙනි ස්ථානය ද?.....
- (iv) මධ්‍යධරණී මුහුද දක්වා ඇත්තේ කුමන අක්ෂරයෙන්ද?
- (v) ලෝකයේ විශාලතම දූපත D අක්ෂරයෙන් දක්වන්න.
- (vi) තනි රටක් ලෙස පවතින මහාද්වීපය කහ පාටින් වර්ණ ගන්වන්න. (ලකුණු 1 × 6 = 6 යි.)

(b) අංක (i) - (vi) දක්වා ප්‍රශ්නවලට පිළිතුරු සැපයීමට සපයා ඇති ආදර්ශ ලංකා සිතියම උපයෝගී කරගන්න.



- (i) වෙරළ බඩ තැනිතලාව කොළ පැහැයෙන් වර්ණ ගන්වන්න.
- (ii) ජේදුරු තුඩුව හා දෙවුන්දර තුඩුව යා කර ඒ අතර දුර කිලෝමීටර් වලින් දක්වන්න.
- (iii) මන්නාරම් දූපත රතු පැහැයෙන් වර්ණ ගන්වන්න.
- (iv) ලංකාවට නිරිත දිග මෝසම් සුළං ඇතුළු වන දිශාව ඊ හිස් මඟින් ඇඳ දක්වන්න.
- (v) කොළඹ නගරය පිහිටි ස්ථානයෙහි A අක්ෂරය යොදන්න.
- (vi) අලිමංකඩ B අක්ෂරයෙන් දක්වන්න.

(ලකුණු $1 \times 6 = 6$ යි.)

02. (i) ශ්‍රී ලංකාවේ ආදි වාසී ජනතාව ජීවත්වන ප්‍රදේශ 03ක් ලියන්න. (ලකුණු 03 යි.)

.....
.....
.....

(ii) ශ්‍රී ලංකික ජන සමාජය තුළ විවිධ ජාතීන් විසින් පවත්වන සංස්කෘතික උත්සව 04ක් ලියන්න.

.....
.....
.....
.....

(ලකුණු 04 යි.)

(iii) (a) වර්තමානයේදී ආදි වාසීන් තුළ ඇතිවී තිබෙන වෙනස්කම් 03 ක් ලියන්න. (ලකුණු 03 යි.)

.....
.....
.....

(b) ඉන් එක් වෙනස්කමක් කෙටියෙන් පැහැදිලි කරන්න. (ලකුණු 02 යි.)

.....
.....
.....
.....
.....



Agaram.LK - Keep your dreams alive!

Agaram.LK - Keep your dreams alive!

03. (i) දකුණු ආසියානු කලාපයට අයත් වෙරළ තීරයක් හිමි රටවල් 03 ක් ලියන්න. (ලකුණු 03 යි.)

.....
.....
.....

(ii) වර්තමානය වන විට ශ්‍රී ලංකාවේ අධ්‍යාපනික පහසුකම් වැඩි දියුණු වීම නිසා ලැබී ඇති ප්‍රයෝජන 04 ක් ලියන්න. (ලකුණු 04 යි.)

.....
.....
.....
.....

(iii) (a) ශ්‍රී ලංකාවේ ඉහළ ආයු අපේක්ෂාවක් පැවතීමට බලපා ඇති හේතු 03 ක් ලියන්න.

.....
.....
.....

(ලකුණු 03 යි.)

(b) ඉහතින් ඔබ සඳහන් කළ එක් හේතුවක් කෙටියෙන් විස්තර කරන්න.

(ලකුණු 02 යි.)

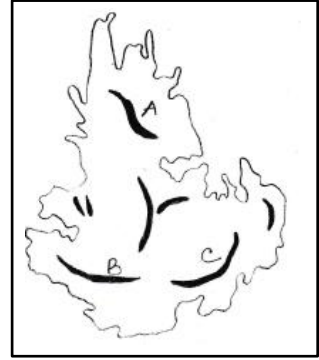
.....
.....
.....
.....
.....

Agaram.LK - Keep your dreams alive!

Agaram.LK - Keep your dreams alive!

04. (i) ශ්‍රී ලංකාවේ මධ්‍යම කඳුකරය ආශ්‍රිත ප්‍රධාන කඳු පන්ති 03 ක් A, B, C යන අක්ෂර වලින් දක්වා ඇත. ඒවා නම් කරන්න.

- A -
- B -
- C -



(ii) කඳුකර භූ දර්ශනයක් සහිත කලාපවල සිදුකරනු ලබන මානුෂ්‍ය ක්‍රියාකාරකම් 04 ක් ලියන්න.

.....

.....

.....

.....

(ලකුණු 04 යි.)

(iii) (a) ශ්‍රී ලංකාවේ කඳුකර ප්‍රදේශ කෙරෙහි සංචාරක ආකර්ෂණය ඇති වීමට බලපා ඇති හේතු 03 ක් ලියන්න.

(ලකුණු 03 යි.)

.....

.....

.....

(b) ඉන් එක් හේතුවක් කෙටියෙන් පැහැදිලි කරන්න.

(ලකුණු 02 යි.)

.....

.....

.....

.....

.....

Agaram.LK - Keep your dreams alive!

Agaram.LK - Keep your dreams alive!

05. (i) තෙත් කලාපය තුළ පිහිටි නාගරික, කාර්මික හා සේවා මධ්‍යස්ථාන ලෙස වැදගත් නගර 03 ක් ලියන්න. (ලකුණු 03 යි.)

.....
.....
.....

(ii) තෙත් කලාපයේ පවතින අධික වර්ෂාපතනය නිසා පැන නගින ගැටලු 04 ක් ලියන්න.

.....
.....
.....
.....

(ලකුණු 04 යි.)

(iii) (a) තෙත් කලාපීය භූ දර්ශනය වඩා සංකීර්ණවීමට බලපා ඇති හේතු 03 ක් ලියන්න. (ලකුණු 03 යි.)

.....
.....
.....
.....

(b) ඔබ දැක්වූ එක් හේතුවක් කෙටියෙන් පැහැදිලි කරන්න.

(ලකුණු 02 යි.)

.....
.....
.....
.....
.....

06. (i) යාපන අර්ධද්වීපය තුළ ම පිහිටි සම්පත් පරිහරණයට ගනිමින් කරගෙන යනු ලබන ආර්ථික කටයුතු 03 ක් ලියන්න. (ලකුණු 03 යි.)

.....
.....
.....

(ii) යාපන අර්ධද්වීපය ආශ්‍රිත ප්‍රදේශය සංචාරකයන්ගේ ආකර්ෂණයට ලක්වීමට බලපා ඇති හේතු 04 ක් ලියන්න. (ලකුණු 04 යි.)

.....
.....
.....
.....

(iii) (a) මානුෂ ක්‍රියාකාරකම් නිසා ශ්‍රී ලංකාවේ වෙරළ භූ දර්ශනයට හානි වන අවස්ථා 03 ක් ලියන්න.

.....
.....
.....

(b) ඔබ ඉහතින් සඳහන් කළ එක් අවස්ථාවක් කෙටියෙන් පැහැදිලි කරන්න. (ලකුණු 02 යි.)

.....
.....
.....
.....
.....

Agaram.LK - Keep your dreams alive!

Agaram.LK - Keep your dreams alive!