



Royal College - Colombo 07

රාජකීය විද්‍යාලය - කොළඹ 07

Grade 6 – First Term Test – April 2019

පළමු වාර පරීක්ෂණය - 2019 අප්‍රේල් - 6 ශ්‍රේණිය

කාලය : පැය 2
Time : 2 hours

Mathematics – I

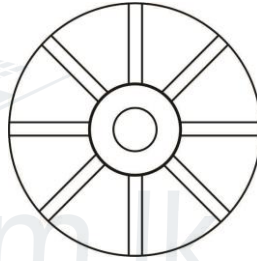
ගණිතය – I

Name :- Grade :- Index number:-.....

❖ ප්‍රශ්න සියල්ලටම මෙම ප්‍රශ්න පත්‍රයේ ම පිළිතුරු සපයන්න.

1. එකතු කරන්න.
 $125 + 78 + 4$

2. මෙම රූපයේ ඇති වෘත්ත ගණන කොපමණ ද?



3. 23401200 සංඛ්‍යාව සම්මත ආකාරයට ලියන්න.

4. අඩු කරන්න.
 $246 - 89$

5. පහත දී ඇති වේලාව සම්මත ආකාරයට ලියන්න.

14 : 15

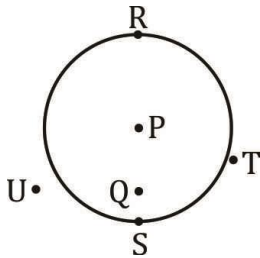
6. වෘත්ත ඇඳීමට භාවිත කළ හැකි ද්‍රව්‍ය දෙකක් ලියන්න.

(i)

(ii)

7. 2019 මාර්තු පළමු වන දිනය අන්තර්ජාතික සම්මත ආකාරයට දක්වන්න.

8. වෘත්තය මත පිහිටිම් දක්වා ඇති අක්ෂර ලියන්න.



9. සෘජුකෝණ දෙකක විශාලත්වයේ එකතුවට සමාන වන කෝණය කුමක් ද?

10. පහත ප්‍රකාශන හරි නම් '✓' ලකුණ ද, වැරදි නම් 'x' ලකුණ ද යොදන්න.

(i) පංති කාමරයේ බිත්ති සහ දොර සිරස් වේ. ()

(ii) එක් මිනිත්තුවක දී තත්පර කටුව වට 60 ක් ගමන් කරයි. ()

11. පහත රූපයෙන් දැක්වෙන්නේ මිරිස් පැළ තව්‍යනකි. ක් තිබේ නම් සම්පූර්ණ තව්‍යනේ ඇති මිරිස් පැළ සංඛ්‍යාව නිමානය කරන්න.

A	A කොටසේ මිරිස් පැළ 70

12. එකතු කරන්න.

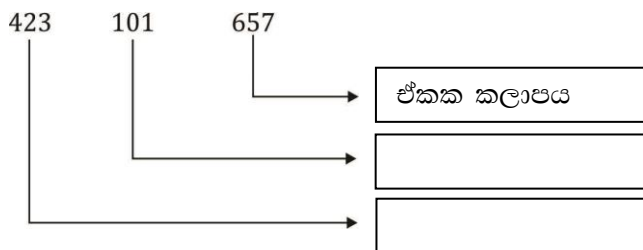
$$\begin{array}{r}
 \text{මිනිත්තු} \qquad \text{තත්පර} \\
 3 \qquad \qquad \qquad 15 \\
 + 4 \qquad \qquad \qquad 40 \\
 \hline
 \hline
 \end{array}$$

13. ආසන්න දහයේ ගුණාකාරයට වටයා ලියන්න.

(i) 36 -

(ii) 72 -

14. හිස්තැන් සම්පූර්ණ කරන්න.



15. දින 2, පැයවලින් දක්වන්න.

16. ලබ්ධිය සහ ශේෂය ලියන්න.

$$123 \div 6$$

ලබ්ධිය -

ශේෂය -

17. 15 හි එකතු කිරීම් ඇසුරෙන් හිස්තැන් පුරවන්න.

8	+	
---	---	--

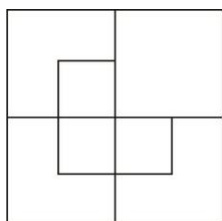
▶ 15

	+	6
--	---	---

18. පන්තියේ සිටින සිසුන් සංඛ්‍යාව ආසන්න දහයේ ගුණාකාරයට වැටියු විට 50 ක් වේ. එම පන්තියේ සිටිය හැකි අඩුම සිසුන් සංඛ්‍යාව කොපමණ ද?

19. 2 , 3, 0 සහ 5 යන ඉලක්කම්වලින්, එක් ඉලක්කමක් එක් වරක් පමණක් යොදා ගනිමින් ලිවිය හැකි ස්ථාන හතරේ විශාලතම සංඛ්‍යාව ලියන්න.

20. මෙම රූපයේ ඇති සමචතුරස්‍ර සංඛ්‍යාව කීය ද?

**Mathematics – II**

2. (a) 1490230015
- (i) ඉහත සංඛ්‍යාව කලාප වලට වෙන් කරන්න. (ල. 03)
- (ii) එම සංඛ්‍යාවේ සංඛ්‍යා නාමය ලියන්න. (ල. 02)
- (b) “දෙබ්ලියන තුන්සිය විසි මිලියන දෙසිය පන්දහස් පහ” යන සංඛ්‍යාව සම්මත ආකාරයට ලියන්න. (ල. 02)
- (c) 3562 යන සංඛ්‍යාවේ,
- (i) 3 හි ස්ථානීය අගය කුමක් ද? (ල. 02)
- (ii) 6 න් නිරූපණය වන අගය කුමක් ද? (ල. 02)

- 3 (a) කිසියම් ස්ථානයක උතුරු දිශාව සොයා ගැනීම සඳහා යොදා ගන්නා උපකරණය කුමක් ද? (ල. 01)

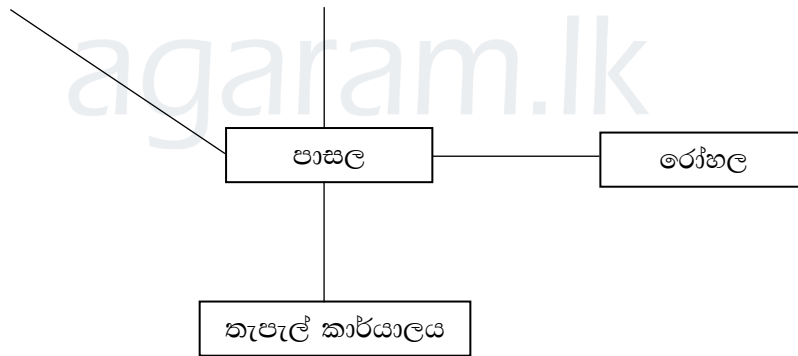
- (b) ප්‍රධාන දිශා හතර ලියන්න. (ල. 04)

බස් නැවතුම්පල

පුස්තකාලය

04)

- (c)



ඉහත රූපය ඇසුරෙන් හිස්තැන් පුරවන්න.

- (i) පාසලට දිශාවෙන් බස් නැවතුම්පල පිහිටා ඇත.
- (ii) රෝහලට දිශාවෙන් පාසල පිහිටා ඇත.
- (iii) තැපැල් කාර්යාලයට උතුරු දිශාවෙන් සහ පිහිටා ඇත. (ල. 04)
- (d) ඉහත රූපය ඔබේ පිළිතුරු පත්‍රයේ පිටපත් කරගෙන පාසලට බටහිර දිශාවෙන් වෙළඳසැල ලකුණු කරන්න. (ල. 02)

4. සුළු කරන්න.

(i) 12×100 (ල. 01)

(ii) $1900 \div 10$ (ල. 02)

(iii) $\begin{array}{r} 43 \\ \times 6 \\ \hline \end{array}$ (ල. 02)

(iv) $6 \overline{)3804}$ (ල. 02)

(v) $\begin{array}{r} 63 \\ \times 34 \\ \hline \end{array}$ (ල. 02)

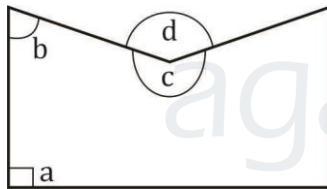
(vi) $16 \overline{)512}$ (ල. 02)

5. (a) ඔබ කැමති කෝණයක් ඇඳ එහි ශීර්ෂය නම් කරන්න. (ල. 01)

(b) ඔබ අවට ඇති දෑ වලින් සාප්පකෝණ හැඩය දක්නට ලැබෙන අවස්ථා 2 ක් ලියන්න. (ල. 02)

(c) පහත අකුරුවලින් ලකුණු කර ඇති කෝණ කුමන වර්ගයට අයත් දැයි ලියන්න. (ල. 4 x

2=8)



a -

b -

c -

d -

6. (a) එක්තර රූපවාහිනී වැඩසටහනක් ප.ව. 3.10 ට ආරම්භ වී ප.ව. 3.50 ට අවසන් විය.

(i) එය ආරම්භ කරන වේලාව හා අවසන් කරන වේලාව සම්මත ආකාරයට ලියන්න.

ප.ව. 3.10 -

ප.ව. 3.50 -

(ල. 02)

(ii) රූපවාහිනී වැඩසටහන විකාශය වූ කාලය සොයන්න. (ල. 02)

(iii) ඉහත රූපවාහිනී වැඩසටහන විකාශය වූ කාලය අතර මිනිත්තු 10 යි තත්පර 30 ක

වෙළඳ දන්වීමක් විකාශය වූයේ නම්, එම රූපවාහිනී වැඩසටහනට පමණක් ගත වූ

කාලය කොපමණ ද?

(ල. 03)

(b) තත්පර 320, මිනිත්තු හා තත්පර වලින් දක්වන්න. (ල. 02)

(c) එකතු කරන්න.

දින පැය

$$\begin{array}{r} 10 \quad 10 \\ + 3 \quad 8 \\ \hline \end{array}$$

(ඉ. 02)



agaram.lk

Agaram.LK - Keep your dreams alive!

Agaram.LK - Keep your dreams alive!