



**Royal College - Colombo 07**

රාජකීය විද්‍යාලය - කොළඹ 07

**Grade 6 – First Term Test –April 2019**

පළමු වාර පරීක්ෂණය - 2019 අප්‍රේල් - 6 ශ්‍රේණිය

කාලය : පැය 2  
Time : 2 hour

**History – I**  
**ඉතිහාසය – I**

Name :- ..... Grade : -..... Index number:-.....

❖ ප්‍රශ්න සියල්ලටම පිළිතුරු සපයන්න.

- අංක 01 සිට 05 දක්වා ප්‍රශ්නවලට වඩාත් සුදුසු පිළිතුර තෝරා යටින් ඉරක් අඳින්න.

- ක්‍රිස්තු වර්ෂ පස්වන සියවසේ දී පමණ රචනා වූ බවට සැලකෙන සාහිත්‍ය මූලාශ්‍රය වන්නේ,
 

(1) දීපවංසය	(2) මහාවංසය	(3) ථූපවංසය	(4) මූලවංසය
-------------	-------------	-------------	-------------
- පොළොන්නරුවේ පිහිටි ගල් විහාරය ඉදිකළ රජු වූයේ,
 

(1) පළමුවන විජයබාහු රජු	(2) පළමුවන පරාක්‍රමබාහු රජු ය
(3) නිශ්ශංකමල්ල රජු ය	(4) දෙවන පරාක්‍රමබාහු රජු ය
- බුදුන් වහන්සේගේ මහා පරිනිර්වාණය සිදුවූයේ කවර වර්ෂයකදී ද?
 

(1) ක්‍රිස්තු පූර්ව 544 දී ය	(2) බුද්ධ වර්ෂ 544 දී ය
(3) බුද්ධ වර්ෂ 818 දී ය	(4) ක්‍රිස්තු පූර්ව 818 දී ය
- 2019 වර්ෂය බුද්ධ වර්ෂවලින් නිවැරදිව දක්වා ඇති පිළිතුර තෝරන්න.
 

(1) බුද්ධ වර්ෂ - 2563	(2) බුද්ධ වර්ෂ - 2463
(3) බුද්ධ වර්ෂ -1565	(4) බුද්ධ වර්ෂ - 2665
- ගොඩබිම පළමුවරට පහළ වූයේ හැකැරැල්ලන් වැනි පාද කිහිපයක් ඇති සතුන් ය. එම සතුන් පහළ වූ යුගය නම්,
 

(1) පැලියොසොයික යුගයයි	(2) සිලූරියන් යුගයයි
(3) මෙසෝසොයික යුගයයි	(3) හොලෝසීන යුගයයි

- ප්‍රශ්න අංක 06 සිට 10 දක්වා වාක්‍ය හරිනම් (✓) ලකුණ ද වැරදි නම් (X) ලකුණ ද ඉදිරියේ ඇති කොටුව තුළ යොදන්න.

- පාර්ථිවිය මැද කොටස තවමත් දැඩි උණුසුමකින් යුක්ත ය ( )
- ලෝකයේ මුල්ම ජීවියා බිහි වූයේ ගොඩබිම ය. ( )
- මහා හිම යුගය තුළ අධික ශීත කාල තුනක් හා කෙටි උණුසුම් කාල හතරක් විය. ( )
- මිනිසෙකු විමට නැඹුරුවක් ඇතිකළ වාතරයා ඔස්ට්‍රලෝපිනිකස් ලෙස හැඳින්වේ. ( )
- මානවයා ප්‍රථම වරට ගින්දර භාවිතා කිරීම පිළිබඳ සාධක අප්‍රිකාවෙන් සොයාගෙන ඇත.( )

Agaram.LK - Keep your dreams alive!

Agaram.LK - Keep your dreams alive!

- ප්‍රශ්න අංක 11 සිට 15 දක්වා ප්‍රශ්නවලට පහත වරහන තුළ දී ඇති වචන අතුරින් ගැලපෙන වචනය තෝරා හිස්තැනෙහි ලියන්න.

(වානරයන්, හෝමෝසාපියන්, මූලාශ්‍ර, අතීත, මහා හිම යුගයේ, හෝමෝනැබ්ලස්)

11. ඉතිහාසය යනු..... කාලයේ ජීවත් වූ මිනිසා ගැන තොරතුරු සොබලා ඒවා පැහැදිලි කිරීමයි.
12. ඉතිහාසය පිළිබඳ අපට දැනුම ලබාගැනීමට උපකාරී වන සෑම දෙයක්ම.....ලෙස හැඳින්විය හැකි ය.
13. මිනිස් වර්ගයා බිහිවීම.....ගෙන් ආරම්භ විය.
14. අප සියලු දෙනාම ..... පවුලට අයත් වේ.
15. මැමත් නම් වූ, සුවිසල් සත්ත්වයා.....දී ජීවත් විය.

- ප්‍රශ්න අංක 16 සිට 20 දක්වා ප්‍රශ්න සඳහා A තීරුවේ ප්‍රශ්නයට අදාළ පිළිතුර B තීරුවෙන් තෝරා එම ඉංග්‍රීසි අක්ෂරය කොටුව තුළ ලියන්න.

A

B

- |  |                          |                      |
|--|--------------------------|----------------------|
| 16. දුනු ඊතල භාවිතා කර දඩයම් ආරම්භ කිරීම   | <input type="checkbox"/> | පුරා ශිලා යුගය       |
| 17. නැදැයන් වෙනුවෙන් අවමංගල්‍ය වාරිතූ පැවැත්වීම ආරම්භ කිරීම                                    | <input type="checkbox"/> | B හෝමෝසාපියන්        |
| 18. ගින්දර පළමුවරට භාවිතා කිරීම  | <input type="checkbox"/> | C හෝමෝ හැබ්ලස්       |
| 19. විශාල සතුන්ගේ ඇටකටු භාවිතා කර නිවාස ඉදිකිරීම   | <input type="checkbox"/> | D මධ්‍ය ශිලා යුගය    |
| 20. අදහස් හුවමාරු කරගත හැකි භාෂාවක් සහ හැඟීම් ප්‍රකාශ කිරීම සඳහා සංගීතය හා නැටුම් භාවිතා කිරීම | <input type="checkbox"/> | E හෝමෝ ඉරෙක්ටස්      |
|  |                          | F හෝමෝනියන්ඩකාලයිනස් |

(ලකුණු 20 x 2 =40)



Royal College - Colombo 07

රාජකීය විද්‍යාලය - කොළඹ 07

Grade 6 – First Term Test – April 2019

පළමු වාර පරීක්ෂණය - 2019 අප්‍රේල් - 6 ශ්‍රේණිය

History – II
ඉතිහාසය– II

Name :- ..... Grade :-..... Index number:-.....

II කොටස

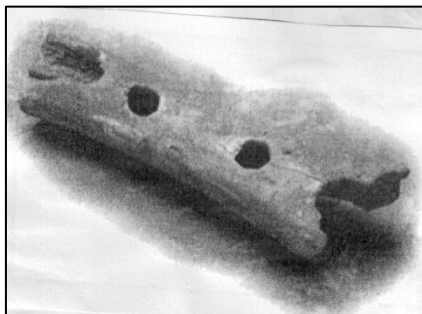
- ❖ පළමු ප්‍රශ්නය අනිවාර්යය වේ.
❖ අනෙක් ප්‍රශ්න අතරින් කැමති ප්‍රශ්න හතරකට පිළිතුරු සපයන්න.
❖ පිළිතුරු සැපයිය යුතු මුළු ප්‍රශ්න සංඛ්‍යාව පහකි.
❖ පිළිතුරු ප්‍රශ්න පත්‍රයේ ම ලියන්න.
• A හා B වශයෙන් දක්වා ඇති පින්තූර ඇසුරෙන් අසා ඇති ප්‍රශ්නවලට පිළිතුරු සපයන්න.

01. A



- 1. මෙම ජීවියා හැඳින්වූ නම ලියන්න.
.....
2. මෙය හමු වූ රට නම් කරන්න.
.....
3. මෙම ජීවියා ජීවත් වූ කාලය ලියන්න.
.....
4. මෙම සත්ත්වයාගේ දක්නට ලැබෙන ශරීර ලක්ෂණ දෙකක් ලියන්න.
1.....
2.....

B



1. මෙම නිර්මාණයේ නම කුමක් ද?

.....

2. මෙම නිර්මාණය කරනු ලැබූ මානව වර්ගයා නම් කරන්න.

.....

3. මෙම නිර්මාණය කළ කාලය ලියන්න.

.....

4. මෙම නිර්මාණය සෑදීමට උපයෝගී කරගත් ද්‍රව්‍ය ලියන්න.

.....

(ලකුණු 2 x 8 =16)

02. 1. ඉතිහාසය ඉගෙනීමට උපකාරී වන මූලාශ්‍ර ප්‍රධාන ලෙස කොටස් 2කට බෙදේ. එම කොටස් දෙක නම් කරන්න.

1.....

2.....

(ල.02)

2. පහත සඳහන් A,B,C,D වලින් අසා ඇති ප්‍රශ්න සඳහා පිළිතුරු සපයන්න.

A. බුදුන් වහන්සේගේ මහා පරිනර්වාණය සිදුවූ දින සිට ආරම්භ වන වර්ෂ ක්‍රමය.....

B. ක්‍රිස්තුස් වහන්සේගේ උත්පත්තියෙන් පසු ආරම්භ වන වර්ෂ ක්‍රමය.....

C. ඉස්ලාම් ආගමික නායකයා වූ මහම්මත්තුමා මක්කම සිට මදීනා නගරයට යාමෙන් පසු ආරම්භ වූ වර්ෂ ක්‍රමය.....

D. ගෞතමීපුත්‍ර සාතකර්ණී රජු විසින් ක්‍රි.ව. 78 දී ලද යුධ ජයග්‍රහණය සිහිවීම පිණිස ආරම්භ කළ වර්ෂ ක්‍රමය..... (ල.04)

3. ඉතිහාසය ඉගෙනගනීමෙන් අපට ලැබෙන ප්‍රයෝජන පහක් ලියන්න.

1.....

.....

2.....

.....

3.....

.....

4.....

.....

5.....

.....

(ල.05)

Agaram.LK - Keep your dreams alive!

Agaram.LK - Keep your dreams alive!

03. 1. පාසලේ ඉතිහාසය පිළිබඳ තොරතුරු ලබාගත හැකි සාහිත්‍ය මූලාශ්‍ර දෙකක් ලියන්න.  
 1.....  
 2.....  
 (ල.02)

2. ඉහත සඳහන් A,B,C,D වලින් අසා ඇති ප්‍රශ්න සඳහා පිළිතුරු සපයන්න.  
 A. ශ්‍රී ලංකාවේ පැරණිතම සාහිත්‍ය ග්‍රන්ථය කුමක් ද?  
 .....  
 B. එම සාහිත්‍ය ග්‍රන්ථය රචනා වූ කාලය සඳහන් කරන්න.  
 .....  
 C. මහාවංසය රචනා කරනු ලැබුවේ කවුරුන් විසින් ද?  
 .....  
 D. පොළොන්නරු ගල් විහාරය ඉදිකළ කාලය ලියන්න.  
 .....

3. ඔබේ පාසැලේ ඉතිහාසය පිළිබඳව වාක්‍ය 5ක් ලියන්න.  
 1.....  
 .....  
 2.....  
 .....  
 3.....  
 .....  
 4.....  
 .....  
 5.....  
 .....  
 (ල.05)

04. 1. "දුවිලි" වලාවක් හැඳින්වීමට භාවිතා කරන වචන දෙකක් ලියන්න.  
 1.....  
 2.....  
 (ල.02)


2. පහත සඳහන් A,B,C,D ප්‍රශ්න සඳහා පිළිතුරු ලියන්න.  
 A. පෘථිවියේ බිහි වූ පළමු ජීවියා හඳුන්වන නම ලියන්න.  
 .....  
 B. ගිනිකඳු පිපිරීමේදී පිටතට එන උණුසුම් ද්‍රව්‍ය නම් කරන්න.  
 .....  
 C. විම්පන්සියකුගෙන් මිනිසෙකු බිහිවීමේ ක්‍රියාවලිය හඳුන්වන්නේ කවර නමකින් ද?  
 .....  
 D. හෝමෝ හැබ්ලස් යන්නෙහි තේරුම ලියන්න.  
 .....  
 (ල.04)

Agaram.LK - Keep your dreams alive!


Agaram.LK - Keep your dreams alive!

3. (i) පහත සඳහන් පින්තූර හඳුනාගෙන නම් කරන්න.


A



B



C



A..... B ..... C .....

(ii) එම මානවයන් තුළ දක්නට ලැබූ විශේෂ හැකියාවන් එක බැගින් වෙන් වෙන්ව ලියන්න.

A.....  
.....  
B.....  
.....  
C.....  
.....

(ල.05)

05. 1. පහත සඳහන් ප්‍රශ්නවලට කෙටි පිළිතුරු සපයන්න.

A. ගොඩබිම ශාකවර්ග බිහිවන්නේ කුමන යුගයක ද?  
.....

B. පෘථිවිය බිහි වූ කාලය ලියන්න.  
.....

(ල.02)


2. පුරා ශිලා යුගයට අයත් මිනිසාගේ ජීවන රටාවේ දැකිය හැකි ලක්ෂණ හතරක් ලියන්න.

- 1.....
- .....
- 2.....
- .....
- 3.....
- .....
- 4.....
- .....

(ල.04)

3. මෙම රූප ඇසුරෙන් අසා ඇති ප්‍රශ්න සඳහා පිළිතුරු ලියන්න.

A



1. මෙම රූපයේ සිටින්නේ කවරෙක් ද?

.....

2. මෙය අයත් යුගය නම් කරන්න.

.....

3. මෙය සකස් කිරීමට යොදා ගත් ද්‍රව්‍ය නම් කරන්න.

.....

B



1. මෙම චිත්‍රය කවර යුගයකට අයත් ද?

.....

2. මෙම චිත්‍රය දැක්වූ ලැබෙන රට නම් කරන්න.

.....

(ල.05)

06. 1. ගොවිතැන ආරම්භවීමත් සමඟ එක් එක් රටවල විසූ ජනයා විවිධ ධාන්‍ය වර්ග වගා කර ඇත. ඒ ආකාරයට වගාකළ ධාන්‍ය වර්ග දෙකක් හා වගාකළ රටවල් හෝ ප්‍රදේශ ඒ ඉදිරියෙන් ලියන්න.

ධාන්‍ය වර්ගය

වගාකළ රට හෝ ප්‍රදේශය

1. .... - .....

2. .... - .....

(ල.02)




2. හෝමෝ සාපියන් මානවයා වර්ග හතරකට බෙදා ඇත. එම මානව වර්ග හතර හඳුනාගෙන නම් කරන්න.

A



B



C



D



A..... B ..... C ..... D .....

(ඉ.04)

3. ගොවි යුගයේ මිනිසාගේ ජීවන රටාවේ දක්නට ලැබුණු විශේෂ ලක්ෂණ පිළිබඳව වාක්‍ය 5ක් ලියන්න.

- 1.....
- .....
- 2.....
- .....
- 3.....
- .....
- 4.....
- .....
- 5.....
- .....

(ඉ.05)

Agaram.LK - Keep your dreams alive!

Agaram.LK - Keep your dreams alive!