

සියලු ම හිමිකම් ඇවිරිණි  
முழுப் பதிப்புரிமையுடையது  
All Rights Reserved

# දකුණු පළාත් අධ්‍යාපන දෙපාර්තමේන්තුව

## අර්ධ වාර්ෂික පරීක්ෂණය - 2019

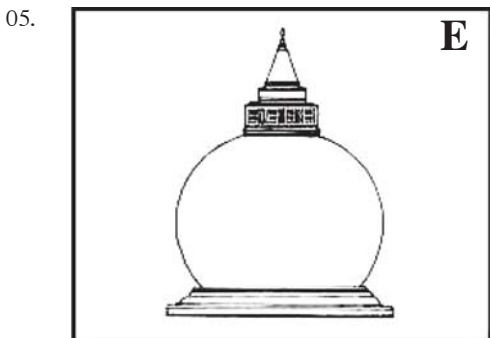


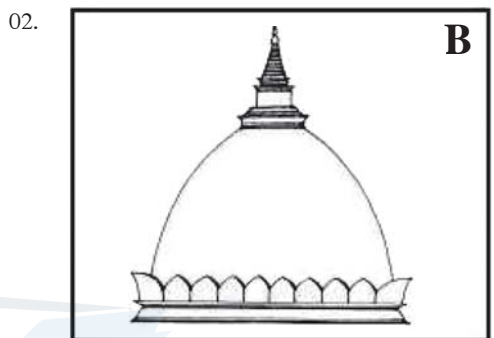

### 6 ශ්‍රේණිය චිත්‍ර කලාව

කාලය : පැය 02 යි.

(I කොටස හා II කොටස සඳහා)

නම/විභාග අංකය :- .....

- I ප්‍රශ්නසියල්ලට ම පිළිතුරු මෙම පත්‍රයේ ම සපයන්න.
- I අංක 1 සිට 5 දක්වා ප්‍රශ්න සඳහා පහත දී ඇති ස්ඵූප වර්ග නම් කරන්න.



- 01. A .....
- 02. B .....
- 03. C .....
- 04. D .....
- 05. E .....

(ලකුණු 2 x 5 =10)

I ප්‍රශ්න අංක 06 සිට 10 දක්වා දී ඇති ප්‍රශ්න සඳහා නිවැරදි පිළිතුර වරහන තුළ ඇති පිළිතුරු අතරින් තෝරා ගිස්කැන් පුරවන්න.

- (6) රතු වර්ණය ..... වර්ණයක් ලෙස හඳුන්වනු ලබයි.
- (7) දමිළ අවුරුදු ක්‍රමයට අනුව වසරේ පළමු වන මාසය ..... යන නාමය භාවිතා වේ.
- (8) වෙසක් උත්සවයේ දී ආමිස මෙන්ම ..... පූජාවට ද ප්‍රමුඛතාවය ලැබේ.

Agaram.LK - Keep your dreams alive!

Agaram.LK - Keep your dreams alive!

- (9) රුවන්වැලි මහා සෑය ..... හැඩයෙන් යුක්තව සාදා තිබේ.
- (10) හින්දු කෝවිලක ප්‍රධානම ගෘහ නිර්මාණ අංගය ..... නමින් හඳුන්වයි.  
(කෙ, ගෝපුර, බුබ්බුලාකාර, මූලික වර්ණ, ප්‍රතිපත්ති)

(ලකුණු 2 x 5 =10)

I ප්‍රශ්න අංක 11 සිට 15 දක්වා ප්‍රශ්නවල ඇතුළත් වගන්ති හරි නම් (3) ලකුණ ද වැරදි නම් (6) ලකුණ ද ඉදිරියෙන් ඇති වරහන් තුළ යොදන්න.

- 11. හින්දු ආගමික සංකේතය ලෙස භාවිතා කරන්නේ වෘෂභ කොඩිය යි. (.....)
- 12. මහින්දාගමනයෙන් පසු ශ්‍රී ලංකාවේ ඉදිකළ පළමු ස්ථූපය ථූපාරාමය ලෙස සලකනු ලබයි. (.....)
- 13. මුස්ලිම් පල්ලිවල විත්‍ර හා ප්‍රතිමා නිර්මාණයන් දක්නට ලැබේ. (.....)
- 14. රතු, කහ යන මූලික වර්ණ දෙක සමානව එකතු කිරීමෙන් තැඹිලි (රඹ) යන ද්විතීක වර්ණය සෑදේ. (.....)
- 15. කුඩා ළමුන්ගේ විත්‍ර වර්ණ කිරීම සඳහා දිය සායම් මාධ්‍යය වඩාත් සුදුසු වේ. (.....)

(ලකුණු 2 x 5 =10)

I අංක 16 සිට 20 දක්වා ප්‍රශ්න සඳහා නිවැරදි පිළිතුර තෝරා යටින් ඉරක් අඳින්න.

- 16. පුරාණ විත්‍ර ශිල්පියා විසින් තමාවෙත පැමිණි ශිෂ්‍යයාට පළමුව ඇදීමට ලබාදෙන රේඛා අභ්‍යාසය වන්නේ,  
(1) ලියපත (2) තිරිගිතලය (3) වකදෙක (4) ගල්බිංදුව
- 17. මූලික වර්ණ නම් කරන්න.  
(1) කොළ, දම්, තැඹිලි (2) රතු, කහ, නිල් (3) කහ, කොළ, නිල් (4) සුදු, රතු, කළු
- 18. ථූපාරාම ස්ථූපයේ ධාතු ගර්භයේ හැඩය වන්නේ,  
(1) බුබ්බුලාකාරයි (2) සටාකාරයි (3) ධාන්‍යාකාරයි (4) සන්ධාකාරයි
- 19. ඉන්දියාවේ සාංචි ස්තූපයේ දී හර්මිකාව යනුවෙන් හඳුන්වන අංගය ශ්‍රී ලංකාවේ වෛතාසවල දී හඳුන්වනු ලබන්නේ,  
(1) හතරැස් කොටුව (2) කොත්කැරැල්ල (3) පේසා වළලු (4) දේවතා කොටුව
- 20. මුර්තියක් ඇඹීම සඳහා ඔබට පහසුවෙන් හැසිරවිය හැකි මාධ්‍යයක් වන්නේ,  
(1) සිමෙන්තිය (2) මැටි ය. (3) දූව ය. (4) සබන් කැටයක් ය.

(ලකුණු 2 x 5 =10)

**II කොටස**

\* පහත සඳහන් ‘අ’, ‘ආ’ හෝ ‘ඉ’ කොටසින් එක් මාතෘකාවක් පමණක් තෝරාගෙන වර්ණවත් චිත්‍රයක් නිර්මාණය කරන්න.

‘අ’ කොටස (ප්‍රකාශන විත්‍ර)

- 1. ගමේදුලක සෙල්ලම් කරන ළමුන්
- 2. වෙසක් පූන් පොහොදා අපේ පන්සල
- 3. මා දුටු මුහුදු වෙරළ

‘ආ’ කොටස (මෝස්තර විත්‍ර)

- 4. කැමති සත්ත්ව රූපයක් යොදා ගනිමින් ළමා ඇඳුමකට මෝස්තරයක් නිර්මාණය කරන්න.
- 5. පෙනි පහක මලක් යොදා ගනිමින් අලංකාර චිත්‍ර මෝස්තරයක් නිර්මාණය කරන්න.

‘ඉ’ කොටස (ග්‍රැපික් විත්‍ර)

- 6. ළමා කතන්දර පොතක් සඳහා උචිත වන පොත් පිටකවරයක් නිර්මාණය කරන්න.
- 7. ඔබ පාසලේ පවත්වන විත්‍ර ප්‍රදර්ශනයක් සඳහා සුදුසු ආරාධනා පත්‍රයක් නිර්මාණය කරන්න. (ලකුණු 60)

Agaram.LK - Keep your dreams alive!

Agaram.LK - Keep your dreams alive!