



වයඹ පළාත් අධ්‍යාපන දෙපාර්තමේන්තුව  
දෙවන වාර පරීක්ෂණය 2019

09 ශ්‍රේණිය

ඉතිහාසය

කාලය පැය 02 යි

නම/ විභාග අංකය:

I කොටස

- ප්‍රශ්න සියල්ලටම පිළිතුරු සපයන්න.
  - අංක 01 සිට 05 දක්වා ප්‍රශ්න වල හිස්තැනට සුදුසු වචනය වරහන තුළින් තෝරා හිස්තැන මත ලියන්න.
- 01 ජොර්ස් වෑන් ස්පිල්බර්ජන් නම් ලන්දේසි ජාතික අද්මිරාල්වරයා නැව් තුනක් සමඟ ලංකාවේ නැගෙනහිර වෙරළේ පිහිටි ..... වරායට ගොඩබැස්සේය. ( ත්‍රිකුණාමලය / මඩකලපුව / ගොඩවෘය )
  - 02 පස්වන විලියම් රජතුමා විසින් එංගලන්තයේ කිව් මාලිගයේ සිට ලියූ ලිපිය ශ්‍රී ලංකාවේ ලන්දේසි ආණ්ඩුකාර ..... වෙත එවන ලදී. ( ෆන් එංගල්බෙග් / රොබට් බ්‍රවුන්රිග් / ස්ටුවට් මැකන්සි )
  - 03 වසර 30 ක් තිස්සේ නොකඩවා බුක්ති විඳි බවට අධිකරණය ඉදිරියේ තහවුරු කළ නොහැකි වූ ඉඩම් ..... පනත යටතේ රජයට පවරා ගන්නා ලදී. ( සුරාබදු පනත / මුඩුබිම් පනත / අදගොවි පනත )
  - 04 මිගෙට්ටුවත්තේ ගුණානන්ද හිමියන්ගේ මූලිකත්වයෙන් පවත්වන ලද වාද විවාද අතරින් ..... ජාත්‍යන්තර වශයෙන් ප්‍රසිද්ධියට පත්විය. ( බද්දේගම වාදය / පානදුරාවාදය / උදම්විට වාදය )
  - 05 ඉංග්‍රීසින් ඉන්දියාවට පැමිණෙන විට ..... එහි බලවත්ව පැවතුණි. ( මුගල් අධිරාජ්‍යය / විජය නගර් අධිරාජ්‍යය / අශෝක අධිරාජ්‍යය )
- ප්‍රශ්න අංක 6 - 10 දක්වා ප්‍රකාශයන් නිවැරදි නම් වරහන් තුළ (✓) ලකුණ ද, වැරදි නම් (x) ලකුණ ද යොදන්න.
- 06 දෙවන රාජසිංහ රජුගේ අවධියේ දී ජෙනරාල් ජෙරාඩ් හල්ප්ට් නම් ලන්දේසි ජාතිකයා ලංකාවට පැමිණෙන ලදී. ( )
  - 07 කැප්පෙට්ටොල නිලමේ තුමා ක්‍රි.ව. 1848 නිදහස් අරගලයට නායකත්වය දුන් පුද්ගලයෙකි. ( )
  - 08 මිෂනාරින් සිය ආගම ප්‍රචාරය සඳහා "උරගල" නම් ප්‍රකාශනයක් නිකුත් කරන ලදී. ( )

Agaram.LK - Keep your dreams alive!

Agaram.LK - Keep your dreams alive!

09 පූජ්‍ය වලානේ සිද්ධාර්ථ හිමියන්ගේ මූලිකත්වයෙන් මාලිගාකන්දේ විද්‍යාර්ථය පිරිවෙන පිහිටුවන ලදී. ( )

10 ඉන්දියාවේ වෙරළබඩ ප්‍රදේශයේ බලය අල්ලාගත් ප්‍රංශ ජාතිකයින් පොන්ඩිචෙරි ප්‍රදේශය මූලික කරගෙන පාලන කටයුතු මෙහෙය විය. ( )

● අංක 11 - 15 දක්වා ප්‍රශ්න වලට ගැලපෙන පිළිතුර පහත සඳහන් පිළිතුරු අතරින් තෝරන්න.

11 ලන්දේසි අධිකරණ පද්ධතියේ ඉහළම උසාවිය වූයේ මින් කුමක් ද?

- (1) රාද්වැන් ජස්ටිට් (2) සිවිල් රාද් (3) ලැන් රාද් (4) පිස්කල් උසාවිය

12 ලන්දේසින් විසින් ඔවුන්ගේ භාෂාවෙන් උසස් අධ්‍යාපනය ලබාදීම සඳහා පිහිට වූ සෙමනෝරිය නම් ආයතනය පිහිටි ප්‍රදේශය වන්නේ මින් කුමක් ද?

- (1) ගාල්ල (2) කොළඹ (3) මීගමුව (4) හලාවත

13 හියුබොයිඩ් නම් ඉංග්‍රීසි ජාතිකයාගේ දූත ගමන සිදුවන අවධියේ සිටි උඩරට පාලකයා කවුරුන් ද?

- (1) කීර්ති ශ්‍රී රාජසිංහ (2) ශ්‍රී වික්‍රම රාජසිංහ (3) රාජාධිරාජසිංහ (4) ශ්‍රී වීරපරාක්‍රම නරේන්ද්‍රසිංහ

14 හෙමිලියා වෙස්ට්ට්ට්ස් නම් දිලීර රෝගය වැළඳීම නිසා විනාශයට පත් වතු වගාව මින් කුමක් ද?

- (1) තේ (2) කොකෝවා (3) සිංකෝනා (4) කෝපි

15 ඉන්දියාව තුළ සික් ජනතාව අතර සංස්කෘතික ප්‍රබෝධය ඇති කිරීම සඳහා ආරම්භ කළ සංවිධානය වන්නේ මින් කුමක් ද?

- (1) බ්‍රහ්ම සමාජය (2) අහමඩියා (3) ආර්ය සමාජය (4) සිංසහා

● අංක 16 - 20 දක්වා ප්‍රශ්න වලට හිස්තැනට සුදුසු පිළිතුර ලියා දක්වන්න.

16 ක්‍රි.ව. 1818 නිදහස් අරගලයට බල පෑ ආසන්න හේතුව වූයේ උභව වෙල්ලස්සේ මඩගේ මුහන්දිරම් තනතුරට ..... නම් මුස්ලිම් ජාතිකයා පත්කිරීමයි.

17 තේ වගාව පිළිබඳ මූලිකම ලංකාව තුළ අත්හදා බැලීම් කළේ ..... නැමැත්තා විසිනි.

18 වලිසිංහ හරිශ්චන්ද්‍රතුමා අනුරපුරයේ නටඹුන් වූ ..... රැක ගැනීමේ ව්‍යාපාරය සංවිධානය කළේය.

19 ඩබ්ලිව් සී. බෙන්ට්ලි මහතා ඉන්දියානු ජාතික සංගමයේ ..... දුරයට පත්විය.

20 බ්‍රිතාන්‍ය නිෂ්පාදන වර්ජනය කර ඉන්දියානු නිෂ්පාදන භාවිතය ප්‍රවලිත කිරීමේ ව්‍යාපාරය ..... ව්‍යාපාරය නමින් හැඳින්වේ. (ල. 20 x 2 = 40)

Agaram.LK - Keep your dreams alive!

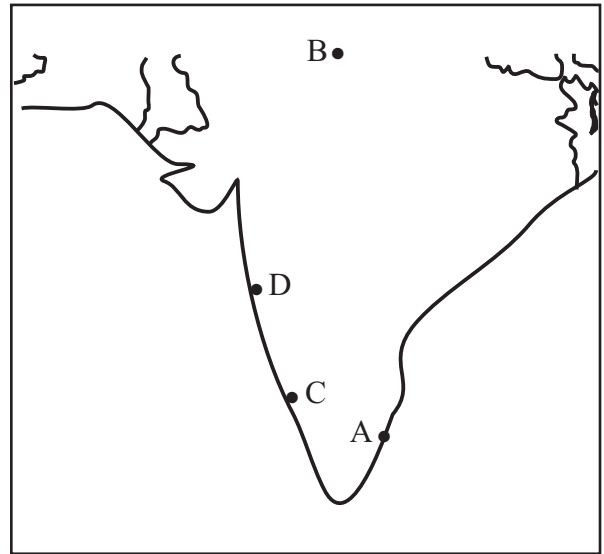
Agaram.LK - Keep your dreams alive!

09 ශ්‍රේණිය

ඉතිහාසය - II කොටස

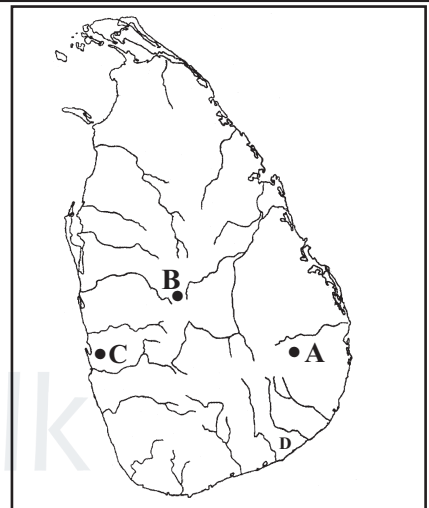
- පළමු ප්‍රශ්නය අනිවාර්ය වේ.
- පළමු ප්‍රශ්නය හා තවත් ප්‍රශ්න 04 කට පිළිතුරු සපයන්න.

01. පහත සඳහන් සිතියම් කොටස උපයෝගී කර ගනිමින් පහත සඳහන් ප්‍රශ්න වලට පිළිතුරු සපයන්න.



- (i) ප්‍රංශ ජාතිකයන්ගේ පෙරදිග මධ්‍යස්ථානයක් වන කරිකාල් දූක්වෙන අක්‍ෂරය කුමක් ද? (ල. 02)
- (ii) සිපොයි කැරැල්ල ව්‍යාප්ත වූ ප්‍රදේශයක් වන දිල්ලිය දූක්වෙන අක්‍ෂරය කුමක් ද? (ල. 02)


- (iii) ක්‍රි.ව. 1818 නිදහස් අරගලය ආරම්භ වූ ප්‍රදේශය දූක්වෙන අක්‍ෂරය කුමක් ද? (ල. 02)
- (iv) ක්‍රි.ව. 1848 නිදහස් අරගලය ආරම්භ වූ ප්‍රදේශය දූක්වෙන අක්‍ෂරය කුමක් ද? (ල. 02)



- (v) පින්තුරයේ දූක්වෙන්නේ ලංකාවේ ක්‍රියාත්මක වූ මිෂනාරි සමාගමක් විසින් ඉදිකරන ලද ගොඩනැගිල්ලකි. එය කුමක් ද? (ල. 02)
- (vi) එය ඉදිකළ මිෂනාරි සමාගම නම් කරන්න. (ල. 02)



- (vii) පින්තුරයේ දූක්වෙන තැනැත්තා කවුරුන් ද? (ල. 02)
- (viii) (අ) එතුමා ආරම්භ කළ පුවත්පත කුමක් ද? (ල. 01)
- (ආ) ඉස්ලාම් දහමට අනුගත අධ්‍යාපනයක් ලබා දීම සඳහා ඔහු ආරම්භ කළ පාසල කුමක් ද? (ල. 01)



Agaram.LK - Keep your dreams alive!

Agaram.LK - Keep your dreams alive!

02 (i) ලංකාවේ ලන්දේසින් යටතේ පැවති පාලන කොට්ඨාස 03 ක් නම් කරන්න. (ල. 03)

(ii) ලන්දේසින්ට, පෙරදිග ඕලන්ද වෙළඳ සමාගම පිහිටුවීමේ රාජ්‍ය බලපත්‍රය ලබාදුන් පසු එම සමාගමට ලැබුණ බලතල 04ක් නම් කරන්න. (ල. 04)

(iii) පහත සඳහන් ප්‍රකාශවලට සම්බන්ධ රජවරුන්ගේ නම් එම ප්‍රකාශ ඉදිරියෙන් ලියන්න.

- ක්‍රි.ව. 1638 ගිවිසුම අත්සන් කිරීම
  - පහළ බූරුමයෙන් උපසම්පදා හික්කුන් ගෙන්වීමට ලන්දේසින් ගෙන් නැව් ලබා ගැනීම
  - සියම් නිකාය ආරම්භ කිරීම
  - ඉංග්‍රීසින් ලංකාවට පැමිණීම
- (ල. 04)

03 (i) වෙළඳාම සම්බන්ධයෙන් ඉංග්‍රීසින් ලංකාව අල්ලා ගැනීමට හේතු වූ කරුණු 03 ක් ලියන්න. (ල. 03)

(ii) පහත සඳහන් ස්ථාන අතරින් ක්‍රි.ව. 1796 පෙබරවාරි මාසය වන විට ඉංග්‍රීසින් විසින් ලන්දේසින්ගෙන් අල්ලාගත් බලකොටු 04 ක් තෝරා ලියන්න. (යාපනය, වව්නියාව, මන්නාරම, කිලිනොච්චිය, කල්පිටිය, කොළඹ, ගාල්ල)

(ල. 04)

(iii) ඉංග්‍රීසින්ගේ ක්‍රි.ව. 1803 උඩරට ආක්‍රමණය අසාර්ථක වීමට බලපෑ හේතු 02 ක් හා ක්‍රි.ව. 1815 උඩරට ආක්‍රමණය සාර්ථක වීමට බලපෑ හේතු 02 ක් නම් කරන්න. (ල. 04)

04 (i) බ්‍රිතාන්‍ය පාලන සමයේ මෙරට පරිපාලන වියදම් අවම කරගැනීමේ අරමුණින් කෝල්බෲක් කොමිසම විසින් ලබාදුන් යෝජනා 03 ක් නම් කරන්න. (ල. 03)

(ii) බ්‍රිතාන්‍යයන් දේශීය කෘෂිකර්මය නගා සිටුවීම සඳහා ගන්නා ලද එක් ක්‍රියාමාර්ගයක් ලෙස සමුපකාර සමිති ව්‍යාපාරය පිහිටුවීම දැක්විය හැකිය. එලෙස සමුපකාර ව්‍යාපාරය මගින් බලාපොරොත්තු වූ අරමුණු 04 ක් දක්වන්න. (ල. 04)

(iii) පහත සඳහන් වන්නේ බ්‍රිතාන්‍යයන් දේශීය කෘෂිකර්මාන්තය නංවාලීමට උත්සාහ දැරූ අවස්ථා කීපයකි. එම අවස්ථා සඳහා දායක වූ ආණ්ඩුකාරවරුන් දක්වන්න.

- A වාරිකර්මාන්ත පිළිබඳ සොයා බැලීම සඳහා 1855 කාරක සභාවක් පත් කිරීම
  - B වාරිමාර්ග පිළිබඳ සොයා බැලීමට කොමිෂන් සභාවක් පත් කිරීම
  - C අනුරපුර බසවක්කුලම වැව ප්‍රතිසංස්කරණය කිරීම
  - D වලවේ ගඟ හා උඩුකිරිවල ආශ්‍රිත වාරිකර්මාන්ත ප්‍රතිසංස්කරණය කිරීම
- (ල. 04)

05 පහත සඳහන් වචන සටහන උදව් කරගෙන දී ඇති ප්‍රශ්න වලට පිළිතුරු සපයන්න.

(i) බ්‍රිතාන්‍ය පාලන සමයේ දී ක්‍රිස්තියානි ආගම ප්‍රචාරය කිරීම සඳහා ක්‍රියාත්මක වූ ස්වේච්ඡා සංවිධාන 03 ක් තෝරා ලියන්න. (ල. 03)

(ii) ආගම ප්‍රචාරයට මිෂනාරි සමාගම් විසින් ගන්නා ලද ක්‍රියාමාර්ග 04 ක් සොයා ලියන්න. (ල. 04)

ප	ල	න්	ඩ	න්	ව	ඊ	වි
ර	අ	දේ	ශ	න	ය	න්	ස
ම	ධ	ලේ	බැ	ප්	ටි	ස්	මා
වි	භා	බ	වි	දෙයා	ද	ය	ඡ
ඥ	ප	න	ස්	ක	න්	ධ	සේ
නා	න	ය	පු	රා	ණ	ම්	වා
ඊ	ය	වි	ද්‍යා	ල	ං	කා	ර
ථ	ධ	ඊ	ම	පා	ල	තු	මා
ම	ර	බි	පා	ෂා	ස	ග	රා

(iii) පහත ප්‍රකාශ වලට අදාළ වන පිළිතුරු වචන වගුවෙන් තෝරා ලියන්න.

(අ) ඕල්කොට් තුමා මුල් වී පිහිට වූ සමාගම කුමක් ද?

(ආ) හික්කඩුවේ සුමංගල හිමි පිහිට වූ පිරිවෙන කුමක් ද?

(ඇ) හින්දු ආගමික පුනරුදයේ දී දෙමළ භාෂාවට පරිවර්තනය කළ ග්‍රන්ථයක් ලියන්න.

(ඈ) සිද්ධි ලෙඛිත මහතාට ඉස්ලාම් ආගමික පුනරුදයේදී උදව් කළ ඊජිප්තුවෙන් පිටුවහල් කළ තැනැත්තා කවුද? (ල. 04)

06 (i) පහත සඳහන් වන්නේ ඉන්දියාව තුළ යුරෝපීයන් බලය ව්‍යාප්ත කළ ප්‍රදේශ කීපයකි. ඒ එක් එක් ප්‍රදේශ වල බලය පිහිටුවාගත් යුරෝපා ජාතීන් නම් කරන්න.

A - ගෝව .

B - ඔරිස්සා .

C - චන්ද්‍රනගර් . (ල. 03)

(ii) පහතින් සඳහන් වන්නේ ඉන්දියාවේ මුගල් අධිරාජ්‍යයේ පාලකයන් විසින් සිදු කරන ලද කාර්යයන් කීපයකි. එම කාර්යයන් කරන ලද පාලකයන් වරහන් තුළින් තෝරා ලියන්න.

A - 1526 උතුරු ඉන්දියානු ප්‍රදේශ කීපයක් අල්ලාගෙන වෙනම පාලනයක් ගොඩනැගීම

B - මුගල් බලය අධිරාජ්‍ය තත්වයට ව්‍යාප්ත කිරීම

C - සුප්‍රකට ටජ්මහල් නම් නිර්මාණය ඉදිකිරීම

D - මුගල් අධිරාජ්‍යයේ පරිහානිය සිදු වීම

( මහා අක්බාර් / බාබුර් / ජහන්ගිර් / ඔරංජෙබ් / සාජහාන් ) (ල. 04)

(iii) පහත සඳහන් වන්නේ ඉංග්‍රීසින් ඉන්දියාවේ බල ව්‍යාප්තියේ සඳහා යුධ උපක්‍රම වලට අමතරව යෙදූ උපක්‍රම කීපයකි. එම උපක්‍රම උදව් කරගෙන පහත වගුව සම්පූර්ණ කරන්න.


යෙදූ උපක්‍රමය	ක්‍රියාත්මක වූ ආකාරය	අල්ලාගත් ප්‍රදේශ
(1) .....	අභ්‍යන්තර බල අරගල හා විශ්වල් සහිත ප්‍රදේශ සමග ගිවිසුම් ඇතිකර ගෙන ගිවිසුමේ ලෙස මුදල් ගෙවීමට නොහැකි වූ ප්‍රදේශ ඉංග්‍රීසින් විසින් පවරා ගැනීම.	(2) .....
අස්වාමික න්‍යාය	(3) .....	(4) .....

(ල. 04)

07 (i) පහතින් නම් සඳහන් වන පුද්ගලයින් දැක්වෙන පින්තූර A, B, C ලෙස දක්වා ඇත. පින්තූරයට අදාළ ඉංග්‍රීසි අක්ෂර පින්තූරයේ සිටින තැනැත්තාට අදාළ නම ඉදිරියෙන් ඇති වරහන තුළ ලියන්න.


★ බාල් ගංගාධාර් තිලක් ( )

A




★ දඩාබායි නඹරෝජි ( )

B



★ සුරේන්ද්‍රනාත් බැනර්ජි ( )

C



(ල. 03)

(ii) ඉන්දියානුවන්ට පාලන කටයුතු වලට සහභාගි වීමට ඇති ඉඩකඩ පුළුල් වන ආකාරයට, ඉන්දියානු ජාතික සංගමයේ මුල්කාලීන ඉල්ලීම් සකස්වී තිබුණි. එවැනි ඉල්ලීම් 04 ක් නම් කරන්න. (ල. 04)

(iii) ඉන්දියානු ජාතික සංගමය මධ්‍යස්ථ මතධාරීන්ගේ ක්‍රියාකාරිත්වය යටතේ පැවති කාලයේ ඔවුන්ගේ ඉල්ලීම් දිනා ගැනීමට අනුගමනය කළ ක්‍රියා මාර්ග 04 ක් දක්වන්න. (ල. 04)