

AL/2020/32/S-I(NEW)

සියලු ම හිමිකම් ඇවිරිණි / முழுப் பதிப்புரிமையுடையது / All Rights Reserved

නව නිර්දේශය/புதிய பாடத்திட்டம்/New Syllabus

NEW

ශ්‍රී ලංකා විභාග දෙපාර්තමේන්තුව ශ්‍රී ලංකා විභාග දෙපාර්තමේන්තුව ශ්‍රී ලංකා විභාග දෙපාර්තමේන්තුව ශ්‍රී ලංකා විභාග දෙපාර්තමේන්තුව ශ්‍රී ලංකා විභාග දෙපාර්තමේන්තුව
 இலங்கைப் பரீட்சைத் திணைக்களம் இலங்கைப் பரීட்சைத் திணைக்களம் இலங்கைப் பரීட்சைத் திணைக்களம் இலங்கைப் பரීட்சைத் திணைக்களம் இலங்கைப் பரීட்சைத் திணைக்களம்
 Sri Lanka Department of Examinations, Sri Lanka Department of Examinations, Sri Lanka Department of Examinations, Sri Lanka Department of Examinations, Sri Lanka
 ශ්‍රී ලංකා විභාග දෙපාර්තමේන්තුව ශ්‍රී ලංකා විභාග දෙපාර්තමේන්තුව ශ්‍රී ලංකා විභාග දෙපාර්තමේන්තුව ශ්‍රී ලංකා විභාග දෙපාර්තමේන්තුව ශ්‍රී ලංකා විභාග දෙපාර්තමේන්තුව
 இலங்கைப் பரීட்சைத் திணைக்களம் இலங்கைப் பரීட்சைத் திணைக்களம் இலங்கைப் பரීட்சைத் திணைக்களம் இலங்கைப் பரීட்சைத் திணைக்களம் இலங்கைப் பரීட்சைத் திணைக்களம்
 Sri Lanka Department of Examinations, Sri Lanka Department of Examinations, Sri Lanka Department of Examinations, Sri Lanka Department of Examinations, Sri Lanka

**අධ්‍යයන පොදු සහතික පත්‍ර (උසස් පෙළ) විභාගය, 2020
 கல்விப் பொதுத் தராதரப் பத்திர (உயர் தர)ப் பரீட்சை, 2020
 General Certificate of Education (Adv. Level) Examination, 2020**

ව්‍යාපාර අධ්‍යයනය I வணிகக் கல்வி I Business Studies I	<div style="border: 1px solid black; padding: 5px; display: inline-block;">32</div> <div style="border: 1px solid black; padding: 5px; display: inline-block; margin: 0 5px;">S</div> <div style="border: 1px solid black; padding: 5px; display: inline-block;">I</div>	පැය දෙකයි இரண்டு மணித்தியாலம் Two hours
---	--	---

- උපදෙස්:**
- * සියලු ම ප්‍රශ්නවලට පිළිතුරු මෙම ප්‍රශ්න පත්‍රයේ ම සපයන්න.
 - * විභාග අංකය, ඉහළින් ඇති කොටුවේ පැහැදිලි ව සටහන් කරන්න.
 - * ප්‍රශ්න අංක 1 සිට 30 තෙක් වූ ප්‍රශ්නවලට නිවැරදි පිළිතුරු තෝරා, එහි අංකය ප්‍රශ්නය ඉදිරියෙන් ඇති තිත් ඉර මත ලියන්න.
 - * ප්‍රශ්න අංක 31 සිට 50 තෙක් වූ ප්‍රශ්නවලට කෙටි පිළිතුරු අදාළ තිත් ඉර මත ලියන්න.
 - * සෑම ප්‍රශ්නයකට ම ලකුණු දෙක බැගින් හිමි වේ.

විභාග අංකය :

I පත්‍රය සඳහා		අත්සන	සංඛේත අංකය
ප්‍රශ්න අංක	ලකුණු		
01 - 30	30	1 වන පරීක්ෂක	
31 - 50	20	2 වන පරීක්ෂක	
එකතුව	50	අති. ප්‍රධාන පරීක්ෂක	
		ප්‍රධාන පරීක්ෂක	
		ගණිත පරීක්ෂක	

1. ව්‍යාපාරයක් යනු,
 - (1) ලාභය මත අභිප්‍රේරණය වන පුද්ගල සමූහයකි.
 - (2) සේවා පදනම් කරගත් ඕනෑම ආර්ථික ක්‍රියාකාරකමකි.
 - (3) භාණ්ඩ විකිණීම සඳහා පුද්ගලයන්ගේ සංවිධානාත්මක උත්සාහයකි.
 - (4) භාණ්ඩ නිෂ්පාදනය සඳහා පුද්ගලයන්ගේ සංවිධානාත්මක උත්සාහයකි.
 - (5) පුද්ගල අවශ්‍යතා හා වුවමනා ඉටු කරන ඕනෑම ආර්ථික ක්‍රියාකාරකමකි. (.....)
2. ශ්‍රී ලංකාවේ දළ දේශීය නිෂ්පාදිත වර්ගීකරණය අනුව කර්මාන්ත අංශයට අදාළ වන ආර්ථික කටයුත්තක් වන්නේ,
 - (1) ප්‍රතිවක්‍රීයකරණයයි. (2) නීති උපදේශනයයි. (legal advocacy)
 - (3) රක්ෂණයයි. (4) එළවලු බීජ අලෙවියයි.
 - (5) වන වගාවයි. (.....)
3. සාධාරණ ඉපැයුමක් හිමිකරුවන් වෙත ලබාදීමට ව්‍යාපාරයකට ගත හැකි සෘජු ක්‍රියාමාර්ගය කුමක් ද?
 - (1) අපද්‍රව්‍ය කළමනාකරණය
 - (2) සමාජ සුභසාධන සේවා ඉටු කිරීම
 - (3) සේවක රැකියා සුරක්ෂිතතාවය තහවුරු කිරීම
 - (4) එලදායී ආයෝජන මාර්ගයන්හි මුදල් යෙදවීම
 - (5) භාණ්ඩ හා සේවා සඳහා සාධාරණ මිලක් නියම කිරීම (.....)
4. ආර්ථික තිරසර බව තහවුරු කරගැනීම සඳහා ව්‍යාපාරයක් දායක වන්නේ,
 - (1) යටිතල පහසුකම් ඇති කිරීමෙනි. (2) භාණ්ඩ ආනයනය කිරීමෙනි.
 - (3) සේවා නියුක්තිය ඇති කිරීමෙනි. (4) සාධාරණ ආදායම් ව්‍යාප්තියක් පවත්වා ගැනීමෙනි.
 - (5) අභ්‍යන්තර මිල ස්ථායීතාව පවත්වා ගැනීමෙනි. (.....)
5. ශ්‍රී ලංකාවේ වඩාත් බහුලව පවතින ව්‍යාපාරික ආයතන වර්ගය කුමක් ද?
 - (1) හවුල් ව්‍යාපාර (2) සමූපකාර
 - (3) පොදු සීමිත සමාගම් (4) කේවල ස්වාමි ව්‍යාපාර
 - (5) වරලත් ව්‍යාපාර (.....)

[දෙවැනි පිටුව බලන්න.

Agaram.LK - Keep your dreams alive!

Agaram.LK - Keep your dreams alive!

6. පොදු භාණ්ඩවල මිල ඉහළ යන අතරේ නිෂ්පාදනය අඩු කරන අවස්ථාවකදී ව්‍යාපාරයක පිරිවැටුම හා ලාභය කෙරෙහි ඇතිවිය හැකි වඩාත් ක්ෂණික බලපෑම කුමක් ද?

	පිරිවැටුම	ලාභය
(1)	අඩු වේ	වැඩි වේ
(2)	වැඩි වේ	අඩු වේ
(3)	වෙනස් නොවේ	වෙනස් නොවේ
(4)	අඩු වේ	අඩු වේ
(5)	වැඩි වේ	වැඩි වේ

(.....)

7. ව්‍යවසායකයෙකු අයවැයක් භාවිත කරනුයේ,

- (1) මූල්‍ය අවශ්‍යතා අවම කරගැනීමට ය.
- (2) සේවකයින්ට මූල්‍ය තොරතුරු සැපයීමට ය.
- (3) ව්‍යාපාරයේ ක්‍රියාකාරීත්වය අධීක්ෂණය කිරීමට ය.
- (4) ව්‍යාපාරයේ මූල්‍ය කාර්යසාධනය අධීක්ෂණය කිරීමට ය.
- (5) සමච්ඡේදන ලක්ෂ්‍යයේ නිමැවුම් මට්ටම හඳුනාගැනීමට ය.

(.....)

8. ව්‍යවසායකයෙකු හා සැසඳීමේදී ව්‍යාපාරිකයෙකු වඩාත් කැමැත්තක් දක්වන්නේ,

- (1) අවදානම් දැරීමට ය.
- (2) සියලු වගකීම් භාරගැනීමට ය.
- (3) ආරක්ෂාකාරීව කටයුතු කිරීමට ය.
- (4) නිර්මාණශීලීත්වය වර්ධනය කරගැනීමට ය.
- (5) නව ව්‍යාපාර අවස්ථා නිර්මාණය කරගැනීමට ය.

(.....)

9. පහත වගුවේ ශ්‍රී ලංකා මහ බැංකුව විසින් භාවිත කරනු ලබන මූල්‍ය ප්‍රතිපත්ති උපකරණ සහ ඒවාට අදාළ විස්තර දක්වා ඇත.

උපකරණ	විස්තර
(i) නිත්‍ය තැන්පතු පහසුකම් අනුපාතය	A - මහ බැංකුව විසින් රජයේ සුරැකුම්පත් ස්ථාවර හෝ තාවකාලික පදනම යටතේ මිල දී ගැනීම සහ විකිණීම
(ii) විවට වෙළෙඳපොළ කටයුතු	B - වාණිජ බැංකුවල තාවකාලික ද්‍රවශීලතා අරමුණු ඉටුකර ගැනීමට මහ බැංකුව මගින් අත්තිකාරම් ප්‍රදානය කිරීමේදී ඒ සඳහා පැනවෙන පොලී අනුපාතය
(iii) ව්‍යවස්ථාපිත සංචිත අනුපාතය	C - වාණිජ බැංකු රජයේ සුරැකුම්පත් ඇපයට තබා අරමුදල් ලබා ගැනීමේදී මහ බැංකුව මගින් අය කරනු ලබන පොලී අනුපාතය
(iv) නිත්‍ය ණය පහසුකම් අනුපාතය	D - වාණිජ බැංකු විසින් තම තැන්පතුවලින් මහ බැංකුවෙහි තැන්පතුවක් ලෙස පවත්වාගෙන යා යුතු ප්‍රමාණය
(v) බැංකු පොලී අනුපාතය	E - වාණිජ බැංකු ඔවුන්ගේ අතිරික්ත අරමුදල් රජයේ සුරැකුම්පත්වල ආයෝජනය කිරීමේදී මහ බැංකුව විසින් ගෙවනු ලබන පොලී අනුපාතය

ඉහත දී ඇති උපකරණ අනුපිළිවෙළ අනුව විස්තර නිවැරදිව ගළපා ඇති වරණය කුමක් ද?

- (1) A, C, D, E, B
- (2) C, D, A, B, E
- (3) C, D, A, E, B
- (4) E, A, D, B, C
- (5) E, A, D, C, B

(.....)

10. ප්‍රකාශය A : රාජ්‍ය අංශයේ සියලු ම ස්ථීර සේවකයින් සඳහා රාජ්‍ය සේවා අර්ථසාධක අරමුදල අදාළ වේ.

ප්‍රකාශය B : පුද්ගලික අංශයේ සියලු ම සේවකයින් සඳහා සේවක අර්ථසාධක අරමුදල අදාළ වේ.

ඉහත ප්‍රකාශ දෙක අතුරෙන්,

- (1) A සත්‍ය වන අතර B අසත්‍ය වේ.
- (2) A අසත්‍ය වන අතර B සත්‍ය වේ.
- (3) A සහ B ප්‍රකාශ දෙක ම අසත්‍ය වේ.
- (4) A සහ B සත්‍ය වන අතර B මගින් A පැහැදිලි කෙරේ.
- (5) A සහ B සත්‍ය වන අතර B මගින් A පැහැදිලි නොකෙරේ.

(.....)

38. (අ) නාණ්ඩ හෝ සේවා පාරිභෝජනය තුළින් පාරිභෝගිකයාට ලැබෙන එහි වේ.

(ආ) ව්‍යාපාර ආයතනයක සියලු ම සේවකයන් විසින් සඳහා වඩාත් හොඳ සේවාවක් ලබාදීමට සාමූහිකව කටයුතු කිරීම හඳුන්වන්නේ අලෙවිකරණය යනුවෙනි.

39. (අ) ණයකර සඳහා ස්ථාවර අනුපාතයක් ගෙවිය යුතු අතර, සාමාන්‍ය කොටස් සඳහා ගෙවිය යුතු අනුපාතය විචල්‍ය වේ.

(ආ) සේවක තුළින් වර්තමාන රැකියා කාර්යසාධනය වර්ධනය කළ හැකි අතර, සේවක තුළින් අනාගත කාර්යසාධනය කෙරෙහි අවධානය යොමු කෙරේ.

40. (අ) නිෂ්පාදන පිරිවැය ගණනය කිරීමේදී මූල්‍ය කළමනාකරුගේ වැටුප පිරිවැය ලෙස වර්ග කළ හැකි අතර, නිෂ්පාදන සේවකයන්ගේ වැටුප පිරිවැය ලෙස වර්ග කළ හැකි ය.

(ආ) සංවිධානයක ඇති විවිධ අංශ හා කතකුරු අතර පවත්නා අන්තර් සම්බන්ධතා සංවිධාන වන අතර එය සංවිධාන මගින් සාරාංශ කළ හැකි ය.

● අංක 41 සිට 50 තෙක් ප්‍රශ්නවලට නිශ්චිත පිළිතුරු සපයන්න.

41. ව්‍යාපාර විසින් මිනිස් වුවමනා ඉටු කරනු ලබන ආකාර හතරක් ලියන්න.

- (1)
- (2)
- (3)
- (4)

42. ව්‍යාපාර ආචාරධර්ම පිළිපැදීම ව්‍යාපාරයකට කෙසේ වැදගත් වන්නේ දැයි හේතු හතරක් දක්වන්න.

- (1)
- (2)
- (3)
- (4)

43. ව්‍යාපාරයක් ඉටුකර ගැනීමට බලාපොරොත්තු වන ප්‍රධාන අරමුණු හතරක් ලියන්න.

- (1)
- (2)
- (3)
- (4)

44. සීමාසහිත පෞද්ගලික සමාගම්වල දැකිය හැකි සීමා හතරක් ලියන්න.

- (1)
- (2)
- (3)
- (4)

Agaram.LK - Keep your dreams alive!

Agaram.LK - Keep your dreams alive!

45. සුළු හා මධ්‍ය පරිමාණ (SMEs) ව්‍යාපාරවල සාර්ථකත්වය සඳහා ව්‍යවසායකත්වය වැදගත් වීමට හේතු හඟරක් දක්වන්න.

- (1)
- (2)
- (3)
- (4)

46. පහත දී ඇති එක් එක් විස්තරයට ගැලපෙන ප්‍රවාහය (logistics) පද්ධතිය නම් කරන්න.

විස්තර	ප්‍රවාහය පද්ධති
1. මිලට ගත් අමුද්‍රව්‍යවලින් නිෂ්පාදිත භාණ්ඩ පාරිභෝගිකයාට සැපයීම	1.
2. නිෂ්පාදනයට අවශ්‍ය අමුද්‍රව්‍ය සපයා ගැනීම	2.
3. අවසන් පාරිභෝගිකයාට නිෂ්පාදිතය ලබාදීම	3.
4. භාවිත කළ නිෂ්පාදිත, නිෂ්පාදකයාට නැවත භාරදීම	4.

47. පොදු සීමිත සමාගම් විසින් භාවිත කරනු ලබන මූල්‍ය ප්‍රභවවලට අදාළ පහත වගුව සම්පූර්ණ කරන්න.

අභ්‍යන්තර ප්‍රභව	බාහිර ප්‍රභව
1.	1.
2.	2.





48. ව්‍යාපාරික කාර්යයන් සඳහා අන්තර්ජාලය යොදාගත හැකි ආකාර හඟරක් ලියන්න.

- (1)
- (2)
- (3)
- (4)

49. ව්‍යාපාර සැලැස්මක් පිළියෙල කිරීමේදී සලකා බැලිය යුතු කරුණු හඟරක් ලියන්න.

- (1)
- (2)
- (3)
- (4)

50. මංගත මිල දී ගැනීමේ ක්‍රියාවලිය සම්බන්ධ පහත දී ඇති එක් එක් සංකේතය මගින් දැක්වෙන අදහස ලියන්න.

(1) 	(2) 
.....
(3) 	(4) 
.....

Agaram.LK - Keep your dreams alive!

Agaram.LK - Keep your dreams alive!

AL/2020/32/S-II(NEW)

සියලු ම හිමිකම් ඇවිරිණි / முழுப் பதிப்புரிமையுடையது / All Rights Reserved

නව නිර්දේශය/புதிய பாடத்திட்டம்/New Syllabus

ශ්‍රී ලංකා විභාග දෙපාර්තමේන්තුව ශ්‍රී ලංකා විභාග දෙපාර්තමේන්තුව ශ්‍රී ලංකා විභාග දෙපාර්තමේන්තුව ශ්‍රී ලංකා විභාග දෙපාර්තමේන්තුව ශ්‍රී ලංකා විභාග දෙපාර්තමේන්තුව
 இலங்கைப் பரீட்சைத் திணைக்களம் இலங்கைப் பரීட்சைத் திணைக்களம் இலங்கைப் பரීட்சைத் திணைக்களம் இலங்கைப் பரීட்சைத் திணைக்களம் இலங்கைப் பரීட்சைத் திணைக்களம்
 Department of Examinations, Sri Lanka Department of Examinations, Sri Lanka Department of Examinations, Sri Lanka Department of Examinations, Sri Lanka Department of Examinations, Sri Lanka
 இலங்கைப் பரීட்சைத் திணைக்களம் இலங்கைப் பரීட்சைத் திணைக்களம் இலங்கைப் பரීட்சைத் திணைக்களம் இலங்கைப் பரීட்சைத் திணைக்களம் இலங்கைப் பரීட்சைத் திணைக்களம்

NEW

අධ්‍යයන පොදු සහතික පත්‍ර (උසස් පෙළ) විභාගය, 2020
கல்விப் பொதுத் தராதரப் பத்திர (உயர் தர)ப் பரீட்சை, 2020
General Certificate of Education (Adv. Level) Examination, 2020

ව්‍යාපාර අධ්‍යයනය II
 வணிகக் கல்வி II
 Business Studies II

32 S II

පැය තුනයි
 மூன்று மணித்தியாலம்
 Three hours

අමතර කියවීමේ කාලය - මිනිත්තු 10 යි
 மேலதிக வாசிப்பு நேரம் - 10 நிமிடங்கள்
 Additional Reading Time - 10 minutes

අමතර කියවීමේ කාලය ප්‍රශ්න පත්‍රය කියවා ප්‍රශ්න තෝරා ගැනීමටත් පිළිතුරු ලිවීමේදී ප්‍රමුඛත්වය දෙන ප්‍රශ්න සංවිධානය කර ගැනීමටත් යොදාගන්න.

උපදෙස්:

* එක් කොටසකින් අවම වශයෙන් ප්‍රශ්න දෙක ගැඹිල්වත් තෝරාගෙන, ප්‍රශ්න පහකට පිළිතුරු සපයන්න.

I කොටස

- වෘත්තීය පුහුණු පාඨමාලාවක් අවසන් කිරීමෙන් පසු ආශා විසින් 'අමාශා' නමින් රුපලාවණ්‍යාගාරයක් ආරම්භ කර, එහි කළමනාකරු ලෙස අමර පත් කරන ලදී. රු. 500 000 ක ණය මුදලක් සහ ඇයගේ ඉතුරුම් මුදල් රු. 200 000 ක් ද මෙම ව්‍යාපාරය සඳහා ආශා විසින් ආයෝජනය කරනු ලැබී ය. ආශා විසින් රු. 600 000 ක් ගෙවා ගොඩනැගිල්ලක් මිල දී ගත් අතර, ඉතිරිය තම ව්‍යාපාරය මගින් ඉහළ ගුණත්වයෙන් යුතු සේවාවක් සැපයීම සඳහා අවශ්‍ය නවීන උපකරණ ආනයනය කිරීම සඳහා වැය කරන ලදී. ඇය ඇතුළු පුහුණු කාර්ය මණ්ඩලය තම ගනුදෙනුකරුවන්ගේ පහසුව සලකා ඕනෑම මොහොතකදී, ගනුදෙනුකරුවන්ගේ නිවසට පැමිණ හෝ රුපලාවණ්‍යාගාරයේදී හෝ තම සේවා සැපයීමට කටයුතු කරනු ලැබේ.
 - මෙම ව්‍යාපාරය පහත නිර්ණායක අනුව වර්ග කරන්න.

(අ) හිමිකාරිත්වය	:	
(ආ) අරමුණ	:	
(ඉ) පරිමාණය	:	
(ඊ) නිෂ්පාදන අංශය	:	(ඔබගේ 04 යි)
 - (අ) ආශාගේ ව්‍යාපාරය ඉටු කරනු ලබන්නේ පුද්ගල අවශ්‍යතාවයක් ද නැතහොත් ව්‍යවස්ථාපිතව ද යන්න කෙටියෙන් විස්තර කරන්න. (ඔබගේ 02 යි)

(ආ) ආශා විසින් මිල හැර, පාරිභෝගික ඉල්ලුම වැඩි කරගැනීම සඳහා යොදාගෙන ඇති වෙනත් උපක්‍රම දෙකක් නම්කර, ඒවා විස්තර කරන්න. (ඔබගේ 02 යි)
--
 - (අ) මෙම ව්‍යාපාරයේ ශක්තින් දෙකක් හා දුර්වලතා දෙකක් දක්වන්න. (ඔබගේ 02 යි)

(ආ) ආශාගේ ව්‍යාපාරය අයත් කර්මාන්තය ආර්ථික සංවර්ධනයට දායක වන ආකාර දෙකක් විස්තර කරන්න. (ඔබගේ 02 යි)

 - (අ) මෙවැනි ව්‍යාපාරවල දැකිය හැකි සීමා හතරක් සඳහන් කරන්න. (ඔබගේ 02 යි)

(ආ) ආශාගේ ව්‍යාපාරයේ ව්‍යවසායකත්වයට අමතරව යොදවා ඇති සම්පත් හතරක් උදාහරණ සහිතව ලියන්න. (ඔබගේ 02 යි)
--
 - (අ) ආශාගේ ව්‍යවසායකත්ව ගතිලක්ෂණ සහ කුසලතා තවදුරටත් වර්ධනය කරගත හැකි ආකාර හතරක් පැහැදිලි කරන්න. (ඔබගේ 04 යි)

(මුළු ඔබගේ 20 යි)

Agaram.LK - Keep your dreams alive!

Agaram.LK - Keep your dreams alive!

2. (i) (අ) වෙළෙඳ විෂමාවාර පිළිබඳව ඔබට පැමිණිලි කළ හැකි ශ්‍රී ලංකාවේ ස්ථාපිත ආයතන හතරක් නම් කරන්න. (ඔබගේ 02 ලකුණ)
- (ආ) වෙළෙඳුන් විසින් සිදු කරනු ලබන වෙළෙඳ විෂමාවාර දෙකක් කෙටියෙන් විස්තර කරන්න. (ඔබගේ 02 ලකුණ)
- (ii) (අ) 'විධිමත් සංවිධානයක්' යනුවෙන් අදහස් කරන්නේ කුමක් දැයි විස්තර කරන්න. (ඔබගේ 02 ලකුණ)
- (ආ) සීමිත පොදු සමාගම්වල ලක්ෂණ හතරක් දක්වන්න. (ඔබගේ 02 ලකුණ)
- (iii) (අ) 'වරලක් ව්‍යාපාර' යන්න නිර්වචනය කරන්න. (ඔබගේ 02 ලකුණ)
- (ආ) ලැයිස්තුගත පොදු සමාගමක් ලැයිස්තුගත නොකළ පොදු සමාගමකින් වෙනස් වන්නේ කෙසේ දැයි විස්තර කරන්න. (ඔබගේ 02 ලකුණ)
- (iv) කීර්ති, දේශීය සැපයුම්කරුවන්ගෙන් මිලට ගනු ලබන මසුන් අපනයනය කිරීමේ ව්‍යාපාරයක් පවත්වාගෙන යනු ලැබේ. කොවිඩ්-19 වසංගතය හේතුවෙන් මසුන් කිලෝවක අපනයන මිල ඇ.ඩො. 16 සිට ඇ.ඩො. 06 දක්වා අඩු විය. මේ නිසා කීර්ති මහතා තම ව්‍යාපාරය වසා දැමීමට තීරණය කළ නමුත් සේවකයින් සහ ප්‍රදේශවාසීන් විසින් එම තීරණය කෙරෙහි විරෝධයක් දැක්වී ය.
- (අ) මෙම ව්‍යාපාරයේ 'සමාජ වගකීම' යනුවෙන් අදහස් කරනුයේ කුමක් ද? (ඔබගේ 01 ලකුණ)
- (ආ) ඉහත ව්‍යාපාරය කෙරෙහි උනන්දුවන පාර්ශව තුනක් නම් කර, එක් එක් පාර්ශවය එසේ උනන්දු වීමට බලපානු ලබන එක් හේතුව බැගින් දක්වන්න. (ඔබගේ 03 ලකුණ)
- (v) තාර්කික පාරිභෝගිකයෙකු වෙළෙඳපොළ තුළ හැසිරෙන ආකාරය කරුණු හතරක් ඇසුරෙන් පැහැදිලි කරන්න. (ඔබගේ 04 ලකුණ)
- (මුළු ඔබගේ 20 ලකුණ)
3. රජය මගින් පවත්වාගෙන යනු ලබන ගුවන් සමාගමක් තම වෙළෙඳපොළ කොටස වර්ධනය කරගැනීමේ අපේක්ෂාවෙන් පෞද්ගලික ගුවන් සමාගමක් වන 'එයාර් ඇල්ෆා' සමග සංයෝජනය වන ලදී.
- (i) (අ) 'ව්‍යාපාර ඒකාබද්ධවීම' යනුවෙන් අදහස් කරන්නේ කුමක් ද? (ඔබගේ 02 ලකුණ)
- (ආ) ඉහත සමාගම් දෙක අතර සිදු වූ ඒකාබද්ධවීම කුමන සංයෝජනයට අදාළ දැයි නම් කර, එම සංයෝජන වර්ගය පිළිබඳව විස්තර කරන්න. (ඔබගේ 02 ලකුණ)
- (ii) (අ) කල්බදු සමාගම් මගින් ව්‍යාපාරිකයකුට හිමිවන වාසි හතරක් ලියන්න. (ඔබගේ 02 ලකුණ)
- (ආ) ශ්‍රී ලංකා මහ බැංකුවේ නියෝජ්‍යායතන කාර්යයන් හතරක් දක්වන්න. (ඔබගේ 02 ලකුණ)
- (iii) (අ) බලපත්‍රලාභී වාණිජ බැංකු හා බලපත්‍රලාභී මුදල් සමාගම් අතර ඇති වෙනස්කම් දෙකක් විස්තර කරන්න. (ඔබගේ 02 ලකුණ)
- (ආ) 'ලංකා සෙට්ටල්' (Lanka Settle) පද්ධතියේ ප්‍රධාන ගෙවීම් පියවීම් පද්ධති දෙක පිළිබඳව විස්තර කරන්න. (ඔබගේ 02 ලකුණ)
- (iv) (අ) ගුවන් ප්‍රවාහනය, ආර්ථිකයට වැදගත් වන ආකාරය පිළිබඳව හේතු දෙකක් දක්වමින් විස්තර කරන්න. (ඔබගේ 02 ලකුණ)
- (ආ) ශ්‍රී ලංකාවේ මහාමාර්ග ප්‍රවාහන අංශයේ දැකිය හැකි වර්තමාන ප්‍රවණතා දෙකක් උදාහරණ සහිතව විස්තර කරන්න. (ඔබගේ 02 ලකුණ)
- (v) සුළු හා මධ්‍ය පරිමාණ ව්‍යාපාර නිර්වචනය කිරීමේදී 'ප්‍රමාණාත්මක සාධක' යනුවෙන් අදහස් කරන්නේ කුමක් දැයි පැහැදිලි කර, ඒ සඳහා උදාහරණ දෙකක් සපයන්න. (ඔබගේ 04 ලකුණ)
- (මුළු ඔබගේ 20 ලකුණ)
4. (i) (අ) 'ණයවර ලිපිය' යනුවෙන් අදහස් කරන්නේ කුමක් ද? (ඔබගේ 02 ලකුණ)
- (ආ) දකුණු ආසියානු කලාපීය සහයෝගිතා සංගමයේ (SAARC) සහයෝගිතා කටයුතු ක්ෂේත්‍ර හතරක් නම් කරන්න. (ඔබගේ 02 ලකුණ)
- (ii) (අ) සේවක අර්ථසාධක අරමුදල (EPF) සඳහා දායකත්වය ලබා දිය යුතු පාර්ශව නම් කර, ඔවුන් දැරිය යුතු අවම දායකත්ව ප්‍රතිශත සඳහන් කරන්න. (ඔබගේ 02 ලකුණ)
- (ආ) රක්ෂණය කළ නොහැකි අවදානම් හඳුනාගත හැකි ආකාර හතරක් දක්වන්න. (ඔබගේ 02 ලකුණ)
- (iii) (අ) වෙක්පතක් ලිවීමේදී සැලකිලිමත් විය යුතු කරුණු හතරක් සඳහන් කරන්න. (ඔබගේ 02 ලකුණ)
- (ආ) සීමාකාරී පිටසනක ඇති වැදගත්කම හේතු දෙකක් ඇසුරෙන් කෙටියෙන් පැහැදිලි කරන්න. (ඔබගේ 02 ලකුණ)

Agaram.LK - Keep your dreams alive!

Agaram.LK - Keep your dreams alive!

- (iv) (අ) 'සාධාරණ (General) වගකීම් රක්ෂණය' යනුවෙන් අදහස් කරන්නේ කුමක් ද? (කෙඹුණු 01 ශී)
- (ආ) ව්‍යාපාර කටයුතු සඳහා සන්නිවේදනයේ වැදගත්කම හේතු තුනක් ඇසුරෙන් පැහැදිලි කරන්න. (කෙඹුණු 03 ශී)
- (v) ව්‍යාපාරයකට 'කීරු සංකේත' (Barcodes) වැදගත් වන්නේ ඇයි දැයි හේතු හතරක් ඇසුරෙන් පැහැදිලි කරන්න. (කෙඹුණු 04 ශී)
(මුළු කෙඹුණු 20 ශී)

II කොටස

5. (i) (අ) 'සංවිධානයක්' යනු කුමක් දැයි විස්තර කරන්න. (කෙඹුණු 02 ශී)
- (ආ) 'සම්පූර්ණතාවය' හා 'කාර්යක්ෂමතාවය' අතර ඇති සම්බන්ධතාව විස්තර කරන්න. (කෙඹුණු 02 ශී)
- (ii) (අ) සංවිධානයක් විවිධාගතකරණය කිරීමෙන් ලැබෙන වාසි දෙකක් හා අවාසි දෙකක් ලියන්න. (කෙඹුණු 02 ශී)
- (ආ) පාලන ක්‍රියාවලියේ වැදගත්කම පිළිබඳව හේතු හතරක් සඳහන් කරන්න. (කෙඹුණු 02 ශී)
- (iii) (අ) නිෂ්පාදනයක 'එකතුකළ අගය' යනු කුමක් ද? (කෙඹුණු 02 ශී)
- (ආ) 'කුටි පිරියත' යන්න උදාහරණයක් ඇසුරෙන් කෙටියෙන් විස්තර කරන්න. (කෙඹුණු 02 ශී)
- (iv) (අ) සැලසුම්කරණ ක්‍රියාවලියේ සම්පත් විශ්ලේෂණය මගින් ඇති ප්‍රයෝජන දෙකක් සඳහන් කරන්න. (කෙඹුණු 01 ශී)
- (ආ) අග්‍ර කළමනාකරුවන් සඳහා සංකල්පනාත්මක කුසලතා වඩාත් වැදගත් වන්නේ ඇයි දැයි හේතු දෙකක් දක්වමින් පැහැදිලි කරන්න. (කෙඹුණු 03 ශී)
- (v) සරවනාස් පාවහන් නිපදවීමේ සමාගමට අදාළව සත්‍ය හා පුරෝකථනය කරන ලද තොරතුරු පහත වගුවේ දැක්වේ.

විස්තරය	2020 (සහස්‍ර)	2021 (පුරෝකථන)
පාවහන් යුගල (ඒකක)	500	1 000
ස්ථාවර පිරිවැය	රු. 212 000	50% කින් වැඩි වේ
විචල්‍ය පිරිවැය (පාවහන් යුගලයක)	රු. 200	රු. 200
විකුණුම් මිල (පාවහන් යුගලයක)	රු. 730	රු. 730

2021 වර්ෂය සඳහා පහත දෑ ගණනය කරන්න.

- (අ) මුළු නිෂ්පාදන පිරිවැය (කෙඹුණු 04 ශී)
- (ආ) පාවහන් යුගලයක නිෂ්පාදන පිරිවැය (මුළු කෙඹුණු 20 ශී)
- (ඉ) සම්පූර්ණ ලක්ෂ්‍යයේ ඒකක ප්‍රමාණය
- (ඊ) 2020 වර්ෂයට සාපේක්ෂව සම්පූර්ණ ලක්ෂ්‍යයේ ඒකක ප්‍රමාණයෙහි වෙනස

6. (i) (අ) නව තාක්ෂණය භාවිත කිරීමේදී ව්‍යාපාරයකට ඇතිවිය හැකි ගැටලු හතරක් සඳහන් කරන්න. (කෙඹුණු 02 ශී)
- (ආ) විශේෂිත භාණ්ඩවලින් සාප්පු භාණ්ඩ වෙනස් වන ආකාරය උදාහරණයක් ඇසුරෙන් විස්තර කරන්න. (කෙඹුණු 02 ශී)
- (ii) වෙළෙන්දෙකු විසින් තරගකරුවන්ගේ මිලට වඩා 20% ක් අඩුවෙන් තම භාණ්ඩ මිල නියම කරනු ලැබේ.
- (අ) ඉහත ආකාරයේ මිල කිරීමේ ක්‍රමයක මූලික අරමුණ කුමක් ද? (කෙඹුණු 01 ශී)
- (ආ) එවැනි මිල ක්‍රමයක් මගින් වෙළෙන්දාගේ දළ ලාභයට ඇතිවන බලපෑම කෙටියෙන් පැහැදිලි කරන්න. (කෙඹුණු 03 ශී)
- (iii) (අ) වෙළෙඳ ප්‍රවර්ධනය මගින් ව්‍යාපාරයකට ලබාගත හැකි ප්‍රතිලාභ හතරක් සඳහන් කරන්න. (කෙඹුණු 02 ශී)
- (ආ) "පාරිභෝගික භාණ්ඩයේ ස්වභාවය අනුව බෙදාහැරීමේ මාර්ග වෙනස් වේ." මෙම ප්‍රකාශය උදාහරණ දෙකක් ඇසුරෙන් විස්තර කරන්න. (කෙඹුණු 02 ශී)
- (iv) (අ) මූල්‍ය කළමනාකරණයෙහි අරමුණු හතරක් දක්වන්න. (කෙඹුණු 02 ශී)
- (ආ) එලදායි මූල්‍ය කළමනාකරණය මගින් කොටස්කරුවන්ට ලබාගත හැකි වාසි දෙකක් විස්තර කරන්න. (කෙඹුණු 02 ශී)
- (v) වෙළෙඳපොළ බණ්ඩනය මගින් ව්‍යාපාරිකයෙකුට ලබාගත හැකි ප්‍රයෝජන හතරක් පැහැදිලි කරන්න. (කෙඹුණු 04 ශී)
(මුළු කෙඹුණු 20 ශී)

AL/2020/32/S-II(NEW)

7. (i) සපයා ඇති තොරතුරු ඇසුරෙන් පහත සඳහන් එක් එක් අනුපාත ගණනය කරන්න.

	රු.
ශුද්ධ ලාභය (බදු පෙර)	60 000
වරණීය ලාභාංශ	15 000
වරණීය කොටස්	200 000
සාමාන්‍ය කොටස්	300 000
විකුණුම්	100 000
ගෙවිය යුතු ආදායම් බදු	10 000
ණය පොලිය	5 000

(අ) ශුද්ධ ලාභ අනුපාතය

(ආ) හිමිකම් මත ප්‍රතිලාභ අනුපාතය

(ඇ) ණය හිමිකාරීත්ව අනුපාතය

(ඈ) පොලී ආවරණ අනුපාතය

(ලකුණු 04 යි)

(ii) (අ) 'සංවිත ප්‍රාග්ධනීකරණය' යනු කුමක් ද?

(ලකුණු 02 යි)

(ආ) රජයේ සුරැකුම්පත් හි ආයෝජනය කිරීමෙන් ආයෝජකයෙකු හට ඇතිවන වාසි හතරක් දක්වන්න.

(ලකුණු 02 යි)

(iii) (අ) ආයෝජකයන් හට කොටස් මිල දර්ශක වැදගත්වීමට හේතු හතරක් සඳහන් කරන්න.

(ලකුණු 02 යි)

(ආ) තාවකාලික පදනම මත සේවකයන් බඳවා ගැනීමෙන් ව්‍යාපාරයකට අත්වන වාසි දෙකක් විස්තර කරන්න.

(ලකුණු 02 යි)

(iv) (අ) කාර්යසාධනය ඇගයීමෙන් පසු සේවක සංවලනය සිදුකළ හැකි ආකාර හතරක් දක්වන්න.

(ලකුණු 02 යි)

(ආ) 'සේවක ප්‍රවාසිතාව' හා 'සේවක පිරිවැටුම' අතර වෙනස දක්වන්න.

(ලකුණු 02 යි)

(v) ආයතනයක මානව සම්පත් ඉල්ලුම කෙරෙහි බලපානු ලබන සාධක හතරක් පැහැදිලි කරන්න.

(ලකුණු 04 යි)

(මුළු ලකුණු 20 යි)

8. (i) (අ) අන්තර්ජාල බැංකු සේවාව මගින් ව්‍යාපාරිකයෙකු හට ඇතිවන වාසි දෙකක් සහ අවාසි දෙකක් දක්වන්න.

(ලකුණු 02 යි)

(ආ) 'පරිගණක ආරක්ෂක තර්ජන' යන්න හඳුන්වා, එවැනි තර්ජන දෙකක් නම් කරන්න.

(ලකුණු 02 යි)

(ii) (අ) එලදාසි තොරතුරු පද්ධතියක් මගින් ඉටුකර ගැනීමට අපේක්ෂිත කාර්යයන් හතරක් සඳහන් කරන්න.

(ලකුණු 02 යි)

(ආ) සේවකයින් විසින් දැනුම් මට්ටමේ තොරතුරු පද්ධතිය භාවිත කරන්නේ කුමන අරමුණක් සඳහා දැයි විස්තර කරන්න.

(ලකුණු 02 යි)

(iii) (අ) මූල්‍ය සැලැස්මක් ව්‍යාපාරයකට වැදගත් වන ආකාරය කරුණු දෙකක් ඇසුරෙන් විස්තර කරන්න.

(ලකුණු 02 යි)

(ආ) ඇස්තමේන්තුගත මුදල් ප්‍රවාහය ව්‍යවසායකයකු සඳහා වැදගත් වන්නේ කෙසේ දැයි හේතු හතරක් ඇසුරෙන් කෙටියෙන් විස්තර කරන්න.

(ලකුණු 02 යි)

(iv) (අ) ව්‍යාපාරයක කාරක ප්‍රාග්ධනය වර්ධනය කරගත හැකි ආකාර දෙකක් ලියන්න.

(ලකුණු 01 යි)

(ආ) කොළඹ කොටස් හුවමාරුවේ ලැයිස්තුගත සමාගමක් එම තත්ත්වයෙන් ඉවත් කිරීමට බලපාන හේතු දෙකක් දක්වා, ඒවා පැහැදිලි කරන්න.

(ලකුණු 03 යි)

(v) පුද්ගලයෙක් තමන් සතු මුදලින් කොටසක් කොටස් වෙළෙඳපොළෙහි හෝ වාණිජ බැංකු ස්ථාවර තැන්පතු සඳහා ආයෝජනය කිරීමට අපේක්ෂා කරයි. එම විකල්ප ආයෝජන මාර්ග දෙකෙහි ඇති වාසි දෙකක් හා අවාසි දෙකක් පැහැදිලි කරන්න.

(ලකුණු 04 යි)

(මුළු ලකුණු 20 යි)
